



الزمن : ساعة ونصف

المادة :- الدراسات الاجتماعية

تنبيه : الأسئلة في (٤) ورقات

الدرجة الكلية : (٤٠) درجة

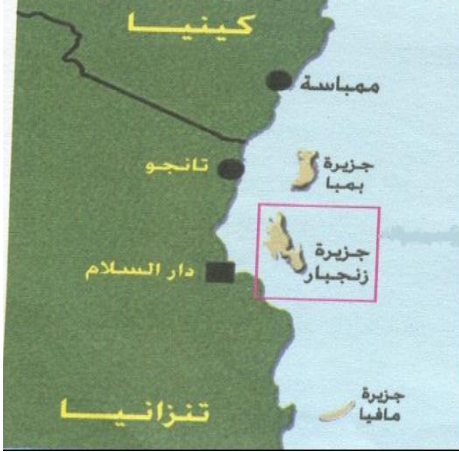
اسم الطالب /

أجب عن جميع الأسئلة الآتية

السؤال الأول: ضع دائرة حول رمز الإجابة الصحيحة من بين البدائل المعطاة:-

(١) المرحلة التي تنتمي إليها الهند من مراحل الانتقال السكاني :

- أ. الأولى
ب. الثانية
ج. الثالثة
د. الرابعة



(٢) تقع عاصمة تنزانيا بالنسبة لجزيرة زنجبار في الجهة :

- أ. الشمالية
ب. الجنوبية
ج. الشرقية
د. الغربية

(٣) منظمة تابعة لمنظمة المؤتمر الإسلامي تهدف إلى مساعدة الدول الفقيرة :

- أ. البنك الإسلامي
ب. مجمع الفقه الإسلامي
ج. العمل الدولية
د. الفاو

(٤) الدولة التي تمثل أقل نسبة نوع حسب ما يوضحه الجدول المقابل :

- أ. العراق
ب. إيران
ج. باكستان
د. الأردن

الدولة	نسبة النوع
سلطنة عمان	١٢٨
الإمارات	١٤٨
الأردن	١١٠
السودان	١٠٣
إيران	١٠٣
العراق	١٠٢
باكستان	١٠٥

(٥) جميع الصحف الآتية ظهرت في شرقي أفريقيا ما عدا :

- أ. الإصلاح
ب. الفلق
ج. النهضة
د. عمان

(٦) الوزارة التي تمثل السلطنة في مجلس إدارة معهد اليونسكو للإحصاء :

- أ. الإعلام
ب. التراث والثقافة
ج. الاقتصاد الوطني
د. التنمية الاجتماعية

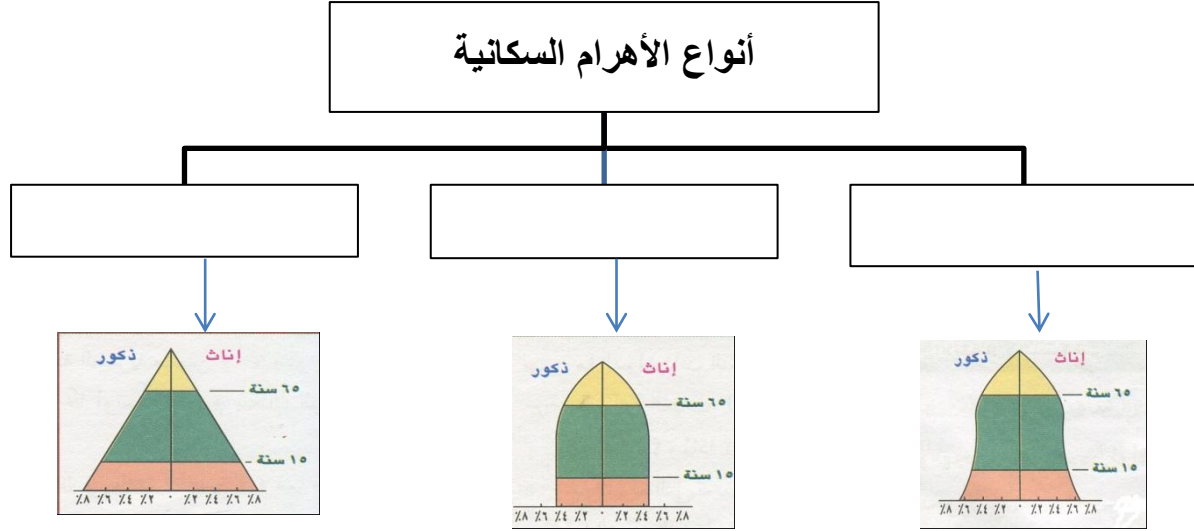
(٧) مصدرا أساسيا للحصول على البيانات السكانية ويتميز بتسجيل الأحداث التي تطرأ على الإنسان منذ ولادته وحتى وفاته :-

- أ. التسجيل الحيوي
ب. التعداد
ج. المسح بالعينة
د. أمد الحياه

٨) العام الميلادي الذي أبحرت فيه السفينة سلطنة إلى ميناء نيويورك :
 أ. ١٨١٠ ب. ١٨٢٠ ج. ١٨٣٠ د. ١٨٤٠

السؤال الثاني :

أ- صنف أنواع الأهرام السكانية في الخريطة المفاهيمية حسب الأشكال الموجودة أمامك .



ب- اكتب المصطلح الدال على العبارة التالية بين القوسين :
 ١/ الدول التي ترتبط فيما بينها بالموقع والقرب المكاني والامتداد الجغرافي حيث تتقاسم الموقع الفلكي والحدود السياسية (.....)

٢/ اذكر مثالين على المساعدات الاقتصادية العمانية لحكومة زنجبار منذ عام ١٩٩١م.

.....

ج- عدد اثنين من شعوب العالم الإسلامي التي شملتها المساعدات الإنسانية العمانية .

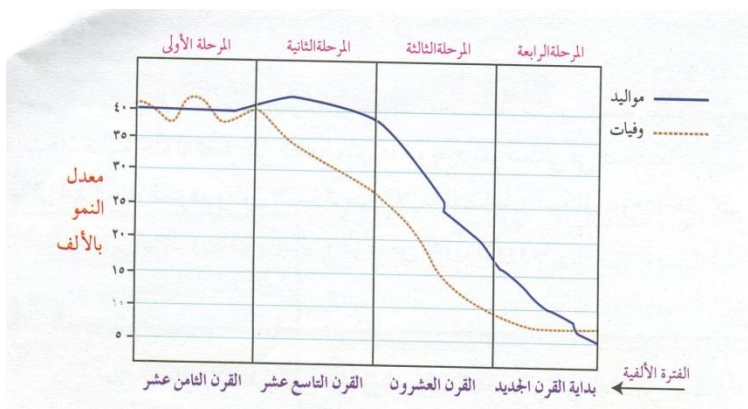
.....

السؤال الثالث

أ- الشكل الموضح أمامك يمثل مراحل الانتقال السكاني، ادرسه جيدا ثم اجب عن التالي :
 ١/ كم يبلغ معدل المواليد بالألف في القرن الثامن عشر .

.....

٢/ اعط وصفا للمرحلة الثالثة من حيث

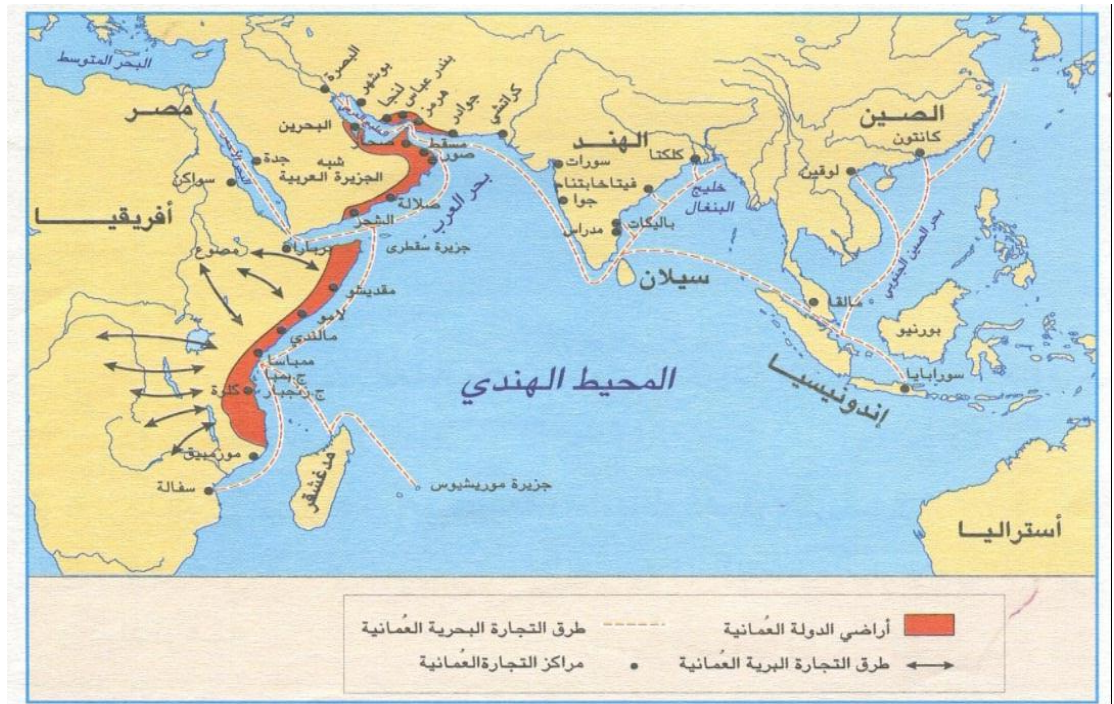


.....

ب- أمامك مجموعة من أعمال منظمتي الصحة العالمية والأمم المتحدة للأغذية والزراعة ، صنفها في الجدول التالي .
 (مراقبة تفشي الأمراض السارية – تنمية الغابات والزراعة - نشر الوعي لحماية مياه الشرب من التلوث – نشر معلومات حول التغذية الصحية) .

منظمة الصحة العالمية	منظمة الأمم المتحدة للأغذية والزراعة
.....
.....
.....
.....

ج- مستعينا بخريطة الطرق والمراكز التجارية في عهد السيد سعيد بن سلطان ، أجب عن مايلي :



١/ استخراج اسم المسطح المائي الذي ستقطعه السفينة اذا أبحرت من الساحل الشرقي الأفريقي إلى الهند .

.....
 ٢/ ضع دائرة حول اثنين من أهم مراكز إنتاج الأخشاب في شرقي أفريقيا .

٣/ عدد اثنين من السلع التي جلبتها السفن العمانية من شرقي افريقيا .

.....-

يتبع ... ٤

السؤال الرابع :

أ-١ / بم تفسر اختلاف نسبة النوع بين المجتمعات . (يكتفى باثنين فقط) .

.....
.....
.....

٢ / كيف تحسب الكثافة الوظيفية (الفيزيولوجية) .

.....
.....

ب- اذكر مثالا واحدا فقط لكل من :

١. المصادر الثانوية للحصول على البيانات السكانية .

.....

٢. المتغيرات التي تؤثر في بنية السكان ودراسة خصائصهم .

.....


٣. المسوحات بالعينة التي تقوم بها المؤسسات الحكومية والأهلية لمعرفة بعض الخصائص السكانية.

.....

ج- دلل على اهتمام جلالة السلطان قابوس بن سعيد – حفظه الله – بالبيئة على المستوى الدولي .

.....
.....
.....

انتهت الأسئلة مع تمنياتنا للجميع بالتوفيق والنجاح ،،



المديرية العامة للتربية والتعليم لمحافظة شمال الباطنة
[نموذج إجابة امتحان الصف التاسع الاساسي لمادة الدراسات الاجتماعية]
العام الدراسي ٢٠١٤ / ٢٠١٥ م - الفصل الدراسي الأول / الدور الأول

الدرجة الكلية ٤٠ درجة

$١٦ = ٢ \times ٨$

إجابة السؤال الأول: ١٦ درجة

٨	٧	٦	٥	٤	٣	٢	١	رقم المفردة
د	أ	ج	د	أ	أ	ج	ب	رمز الإجابة
١٨٤٠م	التسجيل الحيوي	الاقتصاد الوطني	عمان	العراق	البنك الإسلامي	الغربية	الثانية	الإجابة
الثانية	الأولى	الثالثة	الثانية	الأولى	الثالثة	الثانية	الأولى	الوحدة
٤٤	١٣	٨٣	٥٦	١٦	٧٥	٤٩	٢٥	الصفحة
٢	٢	٢	٢	٢	٢	٢	٢	الدرجة

إجابة السؤال الثاني: ٨ درجات

الوحدة	الصفحة	الدرجة	الإجابة	الجزئية
الأولى	٢٣	٣ لكل نوع درجة +١+١ ١	<p>أنواع الأهرام السكانية</p> <p>الهيم ذو القاعدة العريضة</p> <p>الهيم ذو القاعدة الضيقة</p> <p>الهيم ذو القاعدة المتوسطة</p>	أ
الثانية	٤١	درجة واحدة فقط	الجوار الجغرافي	١/ب
الثانية	٦٣	١+١	- بناء مطار - بناء مستشفى - بناء مدرسة للتمريض - فتح قنصلية عمانية في زنجبار لمباشرة العلاقات بين الطرفين . يكتفى بإثنين لكل درجة	٢/ب

تابع إجابة السؤال الثاني:

الوحدة	الصفحة	الدرجة	الإجابة	الجزئية
الثالثة	٧٦	١+١	الشعب الفلسطيني – الشعب البوسني – مسلمي كوسوفو- أفغانستان (الشعب الأفغاني) – شرق أفريقيا – ايران – تركيا – دول جنوب شرق آسيا . يكتفى باثنين لكل درجة	ج

إجابة السؤال الثالث : ٨ درجات

الوحدة	الصفحة	الدرجة	الإجابة	الجزئية						
الأولى	٢٥	درجة فقط	١/ يبلغ معدل المواليد في القرن الثامن عشر ٤٠ بالألف درجة .	أ						
الأولى	٢٥	درجة فقط	٢/ تتميز بانخفاض سريع في معدلات المواليد يرافقها انخفاض معدلات الوفيات .	أ						
الثالثة	٨٤	درجتان لكل مفردة نصف درجة	<table border="1"> <tr> <td>منظمة الأمم المتحدة للأغذية والزراعة</td> <td>منظمة الصحة العالمية</td> </tr> <tr> <td>تنمية الغابات والزراعة</td> <td>مراقبة تفشي الأمراض السارية</td> </tr> <tr> <td>نشر معلومات حول التغذية الصحية</td> <td>نشر الوعي الصحي لحماية مياه الشرب من التلوث</td> </tr> </table>	منظمة الأمم المتحدة للأغذية والزراعة	منظمة الصحة العالمية	تنمية الغابات والزراعة	مراقبة تفشي الأمراض السارية	نشر معلومات حول التغذية الصحية	نشر الوعي الصحي لحماية مياه الشرب من التلوث	ب
منظمة الأمم المتحدة للأغذية والزراعة	منظمة الصحة العالمية									
تنمية الغابات والزراعة	مراقبة تفشي الأمراض السارية									
نشر معلومات حول التغذية الصحية	نشر الوعي الصحي لحماية مياه الشرب من التلوث									
الثانية	٤٤ ٥٤	١ ١	أ/ - المحيط الهندي ٢/ مقديشو – زنجبار . (لكل مفردة نصف درجة)	ج						
الثانية	-٥٣ ٥٤	١+١	٣/ الذهب – العاج (أنياب الفيل)- الجلود – المواد العطرية (العنبر) – معدن الحديد – الأخشاب الثمينة (الأبنوس ، الصندل ، الساج) . يكتفى بذكر اثنين .							

إجابة السؤال الرابع : ٨ درجات

الوحدة	الصفحة	الدرجة	الإجابة	الجزئية
الأولى	١٦	١+١	١ / اختلاف نوعية المهاجرين فالغالبية تكون من الذكور مما يؤدي إلى تباين في النسبة في البلد المستقبل والبلد المرسل . - عدم الدقة في تسجيل الإناث وإغفال التبليغ عن بعض ولادات الإناث أو التبليغ الخاطئ لنوع المولود . - اختلاف معدل الوفيات بين الذكور والإناث فالحروب تعمل على زيادة الوفيات عند الذكور .. يكتفى بذكر سببين فقط لكل درجة	أ
الأولى	٣٢	١	٢/قسمة عدد السكان على مساحة المنطقة التي يعيشون عليها ويستثمرونها . (في حالة صياغة الإجابة بصورة قانون يعطى الطالب الدرجة الكاملة)	
الأولى	١١	١	١ / سجلات المدارس - سجلات المؤسسات الحكومية والأهلية (يكتفى بواحد)	ب
الأولى	١٥	١	٢ / الموالي - الوفيات - الهجرة (الداخلية، الخارجية) . . (يكتفى بواحد)	
الأولى	١٣	١	٣/مسح الخصوبة - مسح العمالة والباحثين عن عمل - التركيب النوعي (يكتفى بواحد)	
الثالثة	٨٩	٢	- تخصيص جلالة السلطان جائزة دولية لصون البيئة و تعد أول جائزة عربية يتم منحها على المستوى العالمي في مجال حماية البيئة عام ١٩٨٩ م .	ج

*** انتهى نموذج الإجابة ***