



امتحان مادة : الدراسات الاجتماعية (هذا وطني)

للف : الحادي عشر

للعام الدراسي ١٤٣٨/١٤٣٩ هـ - ٢٠١٧/٢٠١٨ م

الدور الأول - الفصل الدراسي الأول

- زمن الامتحان : (ساعتان) ● عدد صفحات أسئلة الامتحان: (٨) صفحات.
- الإجابة في الدفتر نفسه .

		اسم الطالب
الصف		المدرسة

التوقيع بالاسم		الدرجة		السؤال
المصحح الثاني	المصحح الأول	بالحروف	بالأرقام	
				١
				٢
				٣
				٤
مراجعة الجمع	جمعه			المجموع
				المجموع الكلي

(١)

المادة: هذا وطني-الصف: الحادي عشر-الدور الأول-الفصل الدراسي الأول-العام الدراسي ٢٠١٧/٢٠١٨م

أجب عن جميع الأسئلة الآتية

السؤال الأول: ضع دائرة حول رمز الإجابة الصحيحة لكل مفردة من المفردات الآتية:

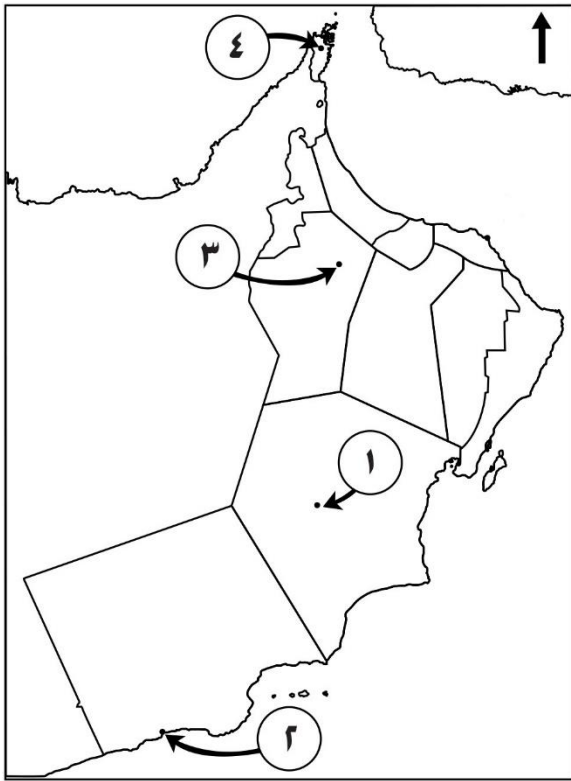
١-المدينة الساحلية التي وصفها ياقوت الحموي بأنها أشهر مدن عُمان ، وإليها ترفاً سفن الهند :

(أ) قلهاث. (ب) دبا. (ج) مسقط. (د) صحار.

٢- يبلغ عدد الجزر في سلطنة عُمان:

(أ) ٢٩١ (ب) ٢٩٢ (ج) ٢٩٣ (د) ٢٩٤

استعن بخريطة سلطنة عُمان للإجابة على المفردات (٣،٤،٥):



٣-المكان الأنسب لقضاء صيف معتدل في سلطنة عُمان يكون في الولاية المشار إليها بالرقم:

(أ) ٤ (ب) ٣

(ج) ٢ (د) ١

٤- الموقع الذي تدل المكتشفات فيه على وجود اعتقاد بالعالم الآخر من حياة الإنسان:

(أ) ١ (ب) ٢

(ج) ٣ (د) ٤

٥- نوع المناخ الموجود بالمحافظة المشار إليها بالرقم (٤):

(أ) البحر المتوسط (ب) الموسمي (ج) الصحراوي (د) شبه الصحراوي

تابع السؤال الأول:

٦- الدولة التي احتلت أجزاء من سواحل شمال عُمان متخذة صحار مركزا لها بهدف السيطرة على الطرق التجارية في العالم القديم:

(أ) الفارسية. (ب) اليونانية. (ج) الرومانية. (د) العمورية.

٧- الأساس الأول الذي قامت عليه العلاقات بين حضارتي عُمان ودلمون:

(أ) اجتماعي. (ب) اقتصادي. (ج) ثقافي. (د) سياسي.

٨- تطور برنامج التأهيل المجتمعي ليصبح تحت مسمى مراكز الوفاء لتأهيل الأطفال المعوقين عام:

(أ) ٢٠٠٩م (ب) ٢٠١٠م (ج) ٢٠١١م (د) ٢٠١٢م

٩- يطلق على "وعاء الثقافة العُمانية بما تحويه من أشعار وتاريخ ومنجزات حضارية":

(أ) العادات و التقاليد. (ب) الدين الإسلامي.

(ج) الوحدة الوطنية. (د) اللغة العربية.

١٠- ترتبط الرياح السائدة في سلطنة عُمان غالبا بـ:

(أ) الأمطار. (ب) التبخر. (ج) الضغط الجوي. (د) الرطوبة النسبية.

١١- أراد سالم أن يتعرف على حقوقه وواجباته كمواطن عُماني، فإن المرتكز الذي

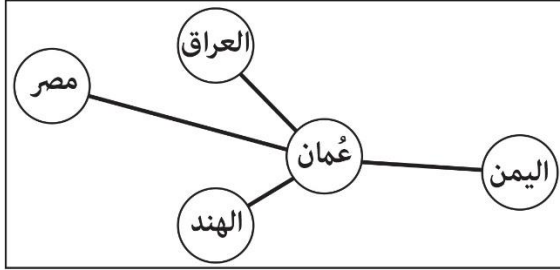
سيساعده في ذلك:

(أ) المحافظة على التراث. (ب) الأطر الدستورية والقانونية.

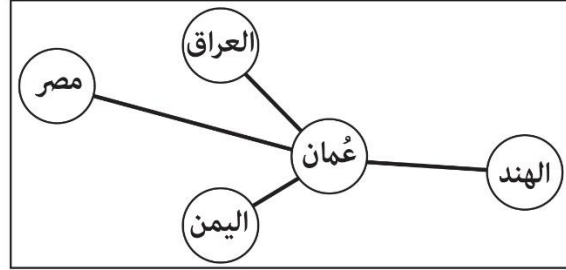
(ج) المحافظة على القيم. (د) المساواة بين الأفراد.

تابع السؤال الأول:

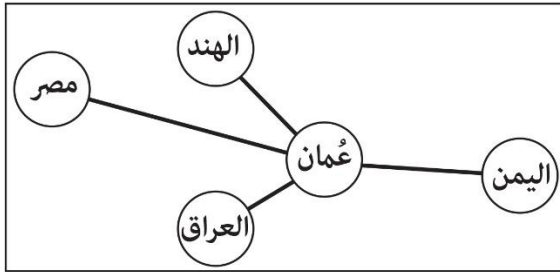
١٢- الشكل الذي يوضح الاتجاهات الجغرافية الصحيحة لحزام الحضارات القديمة المتصلة بعمان:



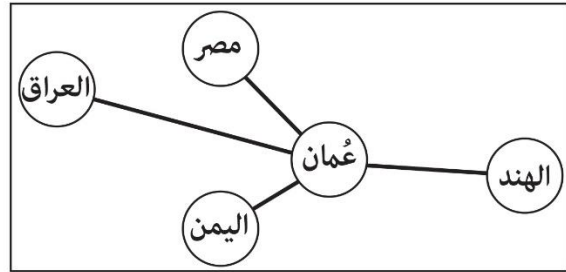
(ب)



(أ)



(د)



(ج)

السؤال الثاني:

أولاً: أجب عن الأسئلة الآتية:

أ) أكمل الجدول الآتي موضحاً وصف كل من المقدسي والحميري العُمران في عُمان .

المقدسي
الحميري

ب) عرف السهول الساحلية ؟

.....

ج) اذكر أنواع الأخوار في سلطنة عُمان؟

.....

تابع السؤال الثاني:

ثانيا: أجب عن الأسئلة الآتية :

(أ) ما الولاية التي يقام فيها سباق الخيل السلطاني سنويا .

.....

(ب) "جميع أجزاء سلطنة عُمان الشمالية والشرقية والجنوبية تنتهي إلى البحر، بينما أجزائها الغربية تشرف على أراضٍ صحراوية شديدة الجفاف، مما شكل ذلك ظهيرين متناقضين للسكان"، فسر ذلك.

.....

.....

ثالثا: أجب عن الأسئلة الآتية:

(أ) ادرس الفقرة ثم أجب عن السؤال الذي يليها:

"تفاعل الإنسان العُماني مع بيئته بشكل إيجابي من خلال استغلال الموقع والعمل على التكيف معها واستثمارها لصالح إيجاد أنماط معيشية منسجمة مع هذه الظروف" - وضح كيف استفاد الإنسان العُماني من خصائص الموقع في بناء عُمان الحاضر .

.....

.....

(ب) ادرس الفقرة التالية، ثم أجب عن الأسئلة التي تليها:

" كانت عُمان في العصر الجيولوجي الكمبري والأردوفي تقع بين دائرتي عرض ٣٠ و ٥٠ درجة جنوبا وفق مسار عمان في العصور الجيولوجية القديمة " ١-ضع علامة (✓) على النتيجة المترتبة على ذلك :

ارتفاع في درجات الحرارة.

انخفاض درجات الحرارة.

٢ - وضح سبب ذلك.

.....

.....

السؤال الثالث:

أولاً: أجب عن الأسئلة الآتية:

(أ) اذكر ميزة واحدة اكتسبتها سلطنة عُمان من تنوع الصخور .

(ب) أكمل الجدول الآتي:

وجود نظم جديدة ببناء المقابر	نقوش في ظفار وسيوان	ظهور الأواني الفخارية والرحى	المكتشفات الأثرية في عُمان العصر الذي تنتمي إليه
.....

ثانياً:

(أ) أجب عن الأسئلة الآتية:

١- بم تفسر: كانت موانئ الصين أسرع المراكز للتحويل إلى الإسلام وثقافته منذ القرن الأول الهجري .

٢- " كانت التجارة بين عُمان و جنوب العراق تتم عبر نظم تجارية التزم بها الجانبان"،
وضح ذلك .

(ب) صنف الأسماء الآتية (الهوته ، أم السميم ، مسفاة العبريين) حسب الوصف المناسب لها في الجدول التالي:

الاسم	الوصف
.....	مناطق تصريف داخلي للأودية الصحراوية أو منخفضات لاستقبال مياه البحر.
.....	أراض زراعية تكونت على مسطحات إرسابية ناتجة عن التعرية المائية أو التعرية الريحية.
.....	فتحة طبيعية في الصخر تتكون بفعل الإذابة أو التعرية المائية أو التعرية البحرية

تابع السؤال الثالث:

ثالثاً: أجب عن الأسئلة الآتية:

أ) استخرج من الوثيقة التالية ما يشير إلى العلاقة بين الملك سرجون وماجان.



" وكان سرجون، ملك كيش، منصوراً في أربع و ثلاثين حملة
 جرد خلالها كل المدن من حصونها، ووصل إلى ساحل البحر
 وجعل في ميناء أكاد سفناً ترسو من ملوخوا، وماجان، ودلمون "
 وثيقة سرجون الأكادي
 (٢٣٣٤-٢٢٧٩ ق.م)

ب) ما دلالة تعدد مسميات عُمان عبر العصور التاريخية.

السؤال الرابع:

أولاً: ادرس الفقرة الآتية ثم أجب عن الأسئلة التي تليها:

"عَرَفَ العُمانيون الأوقاف منذ عهد النبوة، حيث شهدت نموّاً وتنوعاً واتساعاً، فشملت كل
 ما يعتمد عليه الناس في معيشتهم وحاجاتهم الأساسية."
 أ) عدد بعض أوجه الأوقاف في المجتمع العُماني.

١-

٢-

ب) كيف كانت تتم عملية الوقف في المجتمع العُماني؟

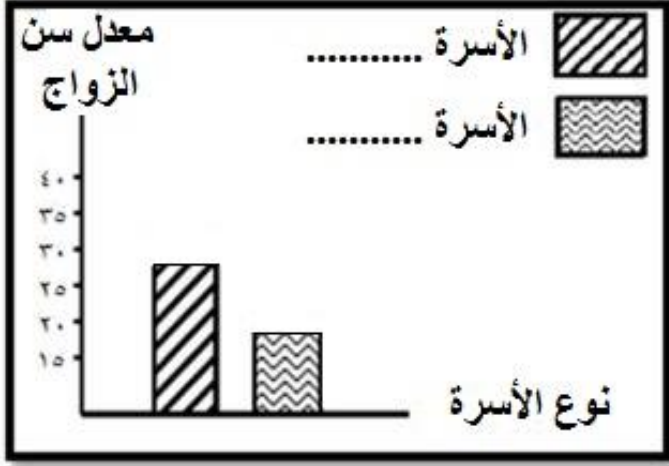
.....

.....

(٧)

المادة: هذا وطني-الصف: الحادي عشر-الدور الأول-الفصل الدراسي الأول-العام الدراسي ٢٠١٧/٢٠١٨م

تابع السؤال الرابع :
ثانيا: أجب عن الأسئلة الآتية:



أ) ادرس الرسم البياني المقابل ثم أجب
عن الأسئلة التالية:

١- أكمل مفتاح الشكل المقابل بما يناسبه.

٢- ما هو تفسيرك للسمة الاجتماعية التي
يبرزها الشكل المقابل؟

ب) أكمل الجدول الآتي:

أمثلة على السلع / الخامات المستوردة من عُمان.	اسم الحضارة
.....	الحضارة البابلية
.....	الحضارة السومرية

تابع السؤال الرابع:

ثالثا : أ – ادرس الفقرة الآتية ثم أجب عن الأسئلة التي تليها:

" تقوم مرتكزات المجتمع العماني على أسس متينة، استطاع من خلالها تشكيل هويته العمانية الإسلامية العربية التي ميزته عن غيره من المجتمعات منذ القدم "

١ – ما المرتكز الواضح في الصورة ؟

٢- لماذا هو مرتكز مهم من وجهة نظرك ؟

انتهت الأسئلة مع الدعاء للجميع بالتوفيق والنجاح.



نموذج إجابة امتحان الصف الحادي عشر
للعام الدراسي ١٤٣٨/١٤٣٩ هـ - ٢٠١٧/٢٠١٨ م
الدور الأول - الفصل الدراسي الأول

الدرجة الكلية: (٦٠) درجة.

المادة: هذا وطني
تنبيهه: نموذج الإجابة في (٥) صفحات.

أولاً: إجابة السؤال الموضوعي:

الصفحة	الدرجة	الإجابة	البديل الصحيح	المفردة
١٨	٢	قلهات	أ	١
٣٣	٢	٢٩٣	ج	٢
٣٤	٢	٢	ج	٣
٤٩،٤٨	٢	٣	ج	٤
٣٤	٢	شبه الصحراوي	د	٥
٥٨	٢	الفارسية	أ	٦
٥١	٢	اقتصادي	ب	٧
٨٢	٢	م٢٠١٢	د	٨
٦٨	٢	اللغة العربية	د	٩
٣٧	٢	الضغط الجوي	ج	١٠
٦٩	٢	الأطر الدستورية والقانونية	ب	١١
٥١	٢		أ	١٢
٢٤ درجة		المجموع		

(٢)

تابع نموذج إجابة امتحان الصف الحادي عشر
للعام الدراسي ١٤٣٨/١٤٣٩ هـ - ٢٠١٧/٢٠١٨ م
الدور الأول - الفصل الدراسي الأول
المادة : هذا وطني

ثانيا: إجابة الأسئلة المقالية:

الدرجة الكلية (١٢) درجة		إجابة السؤال الثاني					
الصفحة	الدرجة	الإجابة الصحيحة	المفردة				
١٩	درجتان لكل جزئية درجة	<table border="1"> <tr> <td>أن بيوت عمان تبنى من الطين / أن الجامع يقع بوسط السوق.</td> <td>المقدسي</td> </tr> <tr> <td>أشار إلى وجود الخانات و الحمامات و هي أماكن راحة و استجمام.</td> <td>الحميري</td> </tr> </table> <p>يكتفي بصفة بوحدة</p>	أن بيوت عمان تبنى من الطين / أن الجامع يقع بوسط السوق.	المقدسي	أشار إلى وجود الخانات و الحمامات و هي أماكن راحة و استجمام.	الحميري	ملاحظة : أ
أن بيوت عمان تبنى من الطين / أن الجامع يقع بوسط السوق.	المقدسي						
أشار إلى وجود الخانات و الحمامات و هي أماكن راحة و استجمام.	الحميري						
٢٩	١	السهول الساحلية: إرسابات فيضية كونتها الأودية المنحدرة باتجاه بحر عمان أو بحر العرب.	ب				
٣٢	١ (لكل نوع نصف درجة)	الأخوار الدائمة - الأخوار المؤقتة (الموسمية).	ج				
٧٢	١	و لاية السيب.	أ				
٢١	٢	أن الموقع القريب من المسطحات المائية شكل عامل جذب للسكان ليقطنوا السهول الساحلية و منها يركبون البحر، أما الموقع البعيد عن المسطحات المائية فشكل عامل طرد للسكان لتطرفه مناخه و تضاريسه الوعرة . (تراعى اجابة الطالب بما يفيد المعنى)	ب				
٢٢	٢	- من خلال إقامة المشاريع التنموية الطموحة مثل توسيع الموانئ القائمة كميناء صلالة و ميناء السلطان قابوس و إقامة موانئ جديدة كميناء صحار. - من خلال استغلال الواحات من أجل الزراعة و إنعاش أنشطة اقتصادية أخرى . (يكتفي بتوضيح واحد)	أ				

(٣)

تابع نموذج إجابة امتحان الصف الحادي عشر
للعام الدراسي ١٤٣٨/١٤٣٩ هـ - ٢٠١٧/٢٠١٨ م
الدور الأول - الفصل الدراسي الأول
المادة : هذا وطني

تابع ثانيا: إجابة الأسئلة المقالية:

الدرجة الكلية (١٢) درجة		تابع إجابة السؤال الثاني				
الصفحة	الدرجة	الإجابة الصحيحة		المفردة	الجزئية	
٢٥ و ٢٠	١ ٢	١- انخفاض في درجات الحرارة . ٢- بسبب الموقع على دوائر العرض بين (٣٠-٥٠ درجة جنوبا)/ الوقوع ضمن المنطقة المعتدلة الجنوبية/ لقربها من المناطق الباردة الجنوبية. (يكتفى بسبب واحد)		ب	تابع ثالثا	
الدرجة الكلية (١٢) درجة		إجابة السؤال الثالث				
الصفحة	الدرجة	الإجابة الصحيحة		المفردة	الجزئية	
٢٦	١	- تنوع في الموارد الأرضية الطبيعية مثل المعادن و موارد الطاقة و الموارد المائية الجوفية/ إمكانيات سياحية جيولوجية يستفاد منها في السياحة الجيولوجية/ التعقد في التراكيب الجيولوجية و الأحداث المصاحبة لها وهذا يعد عامل ثراء للبيئة العمانية . (يكتفى بميزة واحدة)		أ	أولا	
٤٧-٤٦	٣ درجات لكل جزئية درجة	وجود نظم جديدة ببناء المقابر	نقوش في ظفار و سيوان	ظهور الأواني الفخارية و الرحي		المكتشفات الأثرية في عمان
		الحجري الوسيط	الحجري القديم	الحجري الحديث	العصر الذي ينتمي إليه	ب
٥٦	١	١- بسبب استقرار أعداد كبيرة من الجاليات العمانية و غيرها من الجاليات العربية في موانئ الصين، مثل ميناء خانفو / النشاط التجاري بين عمان و موانئ الصين . (يكتفى بتفسير واحد)			ثانيا	
٥٣-٥٢	١	٢- كانت عمليات التفريغ تتم عبر وسيط محلي يتولى ضمان التسليم و دفع القيمة، ثم عملية التوزيع بين بقية مدن العراق. -كان رجال الأعمال و الوكلاء المحليون من العراق يقومون بمرافقة تجار عمان إلى موانئهم للإشراف على عمليات الشحن و ترتيب الصفقات. (يكتفى بإعطاء مثال واحد)		أ		

(٤)

تابع نموذج إجابة امتحان الصف الحادي عشر
للعام الدراسي ١٤٣٨/١٤٣٩ هـ - ٢٠١٧/٢٠١٨ م
الدور الأول - الفصل الدراسي الأول
المادة : هذا وطني

تابع ثانيا: إجابة الأسئلة المقالية:

الدرجة الكلية (١٢) درجة		تابع إجابة السؤال الثالث			
الصفحة	الدرجة	الإجابة الصحيحة		المفردة	الجزئية
٣٣ - ٣٠	٣ درجات لكل جزئية درجة	الاسم	الوصف	ب	تابع ثانيا
		أم السميم	مناطق تصريف داخلي للأودية أو منخفضات لاستقبال مياه البحر.		
		مسفاة العبرين	أراض زراعية تكونت على مسطحات إرسابية ناتجة عن التعرية المائية أو التعرية الريحية.		
		الهوتة	فتحة طبيعية في الصخر تتكون بفعل الإذابة أو التعرية المائية أو التعرية البحرية.		
٤٢	١	- سرجون الثاني أخضع ماجان تحت سيطرته/ جعل سفن مجان ترسو في ميناء أكاد عاصمة الحضارة الأكادية. - ماجان (عمان) كانت تشتهر بالملاحة و النشاط التجاري مع حضارة أكاد . (يكتفي بواحدة)		أ	ثالثا
٥٣ ، ٤٢	١	تعددت أسماء عمان بسبب ثراء المناطق العمانية/ تعدد نشاطات سكانها بالقدم/ اتساع مجال التعامل و التفاعل مع العديد من الحضارات التاريخية عبر العصور (يكتفي بواحدة)		ب	
الدرجة الكلية (١٢) درجة		إجابة السؤال الرابع			
الصفحة	الدرجة	الإجابة الصحيحة		المفردة	الجزئية
٧٥	٢	الأوقاف المخصصة لـ: المساجد/جماعة المسجد/ الحارة أو الحي/ كتابة الصكوك/ شراء العصي للعميان/ تجهيزات الجنائز و المقابر/ الفقراء و الأيتام/ التعليم.		أ	أولا
٧٥	٢	تخصيص شيء من ممتلكات أصحاب الخير الميسورين لإنفاق عوائدها المالية في أوجه الخير المخصصة لها.		ب	

تابع نموذج إجابة امتحان الصف الحادي عشر
للعام الدراسي ١٤٣٨/١٤٣٩ هـ - ٢٠١٧/٢٠١٨ م
الدور الأول - الفصل الدراسي الأول
المادة : هذا وطني

ثانيا: إجابة الأسئلة المقالية:

الدرجة الكلية (١٢) درجة		تابع إجابة السؤال الرابع		الجزئية							
الصفحة	الدرجة	الإجابة الصحيحة		المفردة							
٧٣	٢	<p>١-  الأسرة : حديثا / بعد ١٩٧٠ / بعد النهضة</p> <p> الأسرة : قديما / قبل ١٩٧٠ / قبل النهضة</p>		أ	ثانيا						
	٢	<p>٢- تميزت الأسرة العُمانية قديما بالزواج المبكر لأن أمر تكوين الأسرة كان يتسم بالبساطة والزواج كان يسيره، أما في الأسرة الحديثة فقد تأخر سن الزواج لزيادة متطلبات تكوين الأسرة من تعليم ووظيفة ومسكن ودخول المرأة في سوق العمل.</p>									
٥٤	٢ لكل مثال درجة	واحد لكل	<table border="1"> <tr> <td>اسم الحضارة</td> <td>مظاهر الاتصال مع حضارة عُمان</td> </tr> <tr> <td>الحضارة البابلية</td> <td>استورد البابليون من عُمان السلع مثل الأحجار الكريمة واللبان والبخور.</td> </tr> <tr> <td>الحضارة السومرية</td> <td>اعتمد السومريون على استيراد الخامات من عُمان مثل الأحجار والنحاس واللبان.</td> </tr> </table>	اسم الحضارة	مظاهر الاتصال مع حضارة عُمان	الحضارة البابلية	استورد البابليون من عُمان السلع مثل الأحجار الكريمة واللبان والبخور.	الحضارة السومرية	اعتمد السومريون على استيراد الخامات من عُمان مثل الأحجار والنحاس واللبان.	ب	يكتفي بمثال حضارة.
اسم الحضارة	مظاهر الاتصال مع حضارة عُمان										
الحضارة البابلية	استورد البابليون من عُمان السلع مثل الأحجار الكريمة واللبان والبخور.										
الحضارة السومرية	اعتمد السومريون على استيراد الخامات من عُمان مثل الأحجار والنحاس واللبان.										
٦٩	١	١	<p>١ - العمل .</p> <p>٢ - العمل واجب وطني و شرف / العمل أسلوب حياة تقتضيها متطلبات التنمية الشاملة/ العمل يحقق عزة الوطن وقوته و رقيه.</p>	أ	ثالثا						

نهاية نموذج الإجابة