



سلطنة عمان
وزارة التربية والتعليم

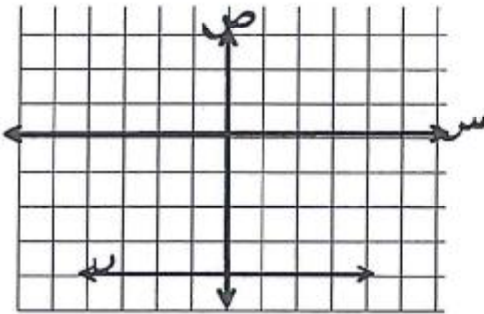
امتحان نهاية الفصل الدراسي الأول - للعام الدراسي ١٤٢٩/١٤٣٠ هـ - ٢٠٠٨/٢٠٠٩ م

الصف : العاشر	المادة الرياضيات	الزمن : ساعتان ونصف	الدرجة : ٦٠ درجة
تنبيهات: ▪ الأسئلة في (٣) صفحات ▪ على الطالب توضيح خطوات الحل عند الإجابة عن الأسئلة المقالية.			

السؤال الأول : أنقل أرقام المفردات الآتية (١-١٢) في ورقة إجابتك و أمام رقم كل مفردة اكتب الحرف الدال على الإجابة الصحيحة من بين البدائل المعطاة:

(١) ما ميل المستقيم المار بالنقطتين (٤ ، ١) ، (٢ ، ٥) ؟

(٢) ما هو ميل المستقيم r في الشكل المقابل ؟
(٢) (ب) ١ (ج) $\frac{1}{2}$ (د) ٢- (٤) (ب) صفر



(ج) $\frac{1}{4}$ (د) غير موجود

(٣) ما نسبة حجم المخروط الدائري القائم إلى حجم الكرة ؟

(٢) ع : ٤ نق (ب) نق : ٤ ع (ج) نق : ع (د) نق : ٢ ع

(٤) إذا كان المئيني ٢٥ لمجموعة قيم يساوي ٥ والمئيني ٧٥ يساوي ٧ فما المدى الربيعي لهذه البيانات؟

(٢) ١٢ (ب) ٥ (ج) ٧ (د) ٢

(٥) في التوزيع الطبيعي المعتدل، إذا كان انحرافه المعياري يساوي ٣ ، فما قيمة مدى التوزيع؟

(٢) ٢ (ب) ٦ (ج) ٩ (د) ١٨

(٦) إذا كان $\overline{K} = (س - س)$ ، $٣٦ = ٢$ ، وعدد القيم (ن) = ٩ فما الانحراف المعياري للقيم ؟

(٢) ١ (ب) ٢ (ج) ٤ (د) ١٦

٧) إذا كان $y = (\sqrt{p} + 3)(\sqrt{p} - 3)$ فما قيمة p ؟

- ١ (ب) ٢ (ج) ٤ (د) ١١ (ب)

٨) ما هي مجموعة حل المعادلة $\sqrt{s-1} = 4$ ؟

{١٧} (ب) {١٥} (ج) {٥} (د) {٣} (ب)

٩) إذا كان $\sqrt[3]{2} = \sqrt[3]{8}$ فما قيمة m ؟

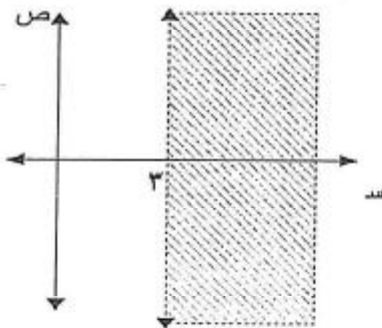
٢ (ب) ٣ (ج) ٦ (د) ٨ (ب)

١٠) إذا كانت $\underline{b} = \begin{bmatrix} 2 & 1 \\ 3 & 0 \end{bmatrix} + \begin{bmatrix} 5 & 3 \\ 1 & 4 \end{bmatrix}$ ، فإن $\underline{b} =$:

- {٤ ٥} (ب) {٧ ٤} (ج) {٤ ٤} (د) {٥ ٣} (ب)
- {٤ ٧} (ب) {٢ ٤} (ج) {٤ ٤} (د) {١ - ٤} (ب)

١١) إذا كان محدد المصفوفة $\underline{p} = \begin{bmatrix} 1 & 3 \\ n & 5 \end{bmatrix}$ هو ١٠ فما قيمة n ؟

- ١٥ (ب) ١٠ (ج) ٥ (د) ٣ (ب)



١٢) ما هي المتباينة التي موضح تمثيلها البياني في الشكل المقابل :


- ٣ ≤ s (ب)
 ٣ ≥ s (ب)
 ٣ ≥ ص (ج)
 ٣ ≤ ص (د)

السؤال الثاني (١٢ درجة)

١) أوجد نقاط التقاطع بين المنحنى $ص = ٢س - ٤س + ٥$ والمستقيم $ص = ٥ + ٥$ ؟

٢) أوجد مجموعة حل المعادلة $\sqrt[3]{8} = \sqrt[3]{٢ - ٢س}$

٣) يمثل الشكل المقابل الصندوق و المؤشر لدرجات ٣٠ طالب من طلاب الصف العاشر فأجب عما يلي :



- أ) المنيني ٢٥
 ب) الربع الأعلى
 ج) الوسيط
 د) عدد الطلاب الذين تقع درجاتهم بين المنيني ٢٥ و الربع الأعلى

السؤال الثالث (١٢ درجة)

١) في اختبار لتحديد المستوى على ٢٠ طالب في أحد المدارس كانت النتائج كالآتي :

فئات الدرجات	-١٠	-٢٠	-٣٠	-٤٠
التكرار	٥	٦	٤	٥

أحسب : المدى ، التباين ، الانحراف المعياري

٢) خزان على شكل اسطوانة نصف قطرها ٢م وارتفاعه ٦م الجزء العلوي منه على شكل نصف كره . احسب مساحة السطح الخارجي للخزان .

السؤال الرابع (١٢ درجة)

١) إذا كان $\underline{س} = \begin{pmatrix} ٩ & ٢- & ١٢ \\ ٧ & ١ & ٥ \end{pmatrix}$ ، $\underline{ص} = \begin{pmatrix} ١- & ٣ & ٨ \\ ٦ & ٤ & ٣- \end{pmatrix}$ أوجد كلامن :

أ) $\underline{س} + ٢ \underline{ص}$

ب) $\frac{١}{٢} (\underline{ص} - \underline{س})$

٢) إذا كانت $\underline{أ} = \begin{pmatrix} ٤- & ١ \\ ٣ & ٢ \end{pmatrix}$ ، $\underline{ب} = \begin{pmatrix} ٢ \\ ٥- \end{pmatrix}$ أوجد ناتج $\underline{أ} \times \underline{ب}$ ؟

٣) حل المعادلتين الآتيتين باستخدام الصف البسيط

$$٣س + ٢ص = ٢٦$$

$$٤س + ص = ٢٨$$

،،، انتهت الأسئلة مع تمنياتنا لكم بالتوفيق والنجاح ،

سلطنة عمان
وزارة التربية والتعليم

نموذج إجابة امتحان الصف العاشر - الفصل الدراسي الأول

للعام الدراسي ١٤٢٩ / ١٤٣٠هـ - ٢٠٠٨ / ٢٠٠٩م

إجابة السؤال الأول:

(٢٤ درجة لكل مفردة درجتان لا تجزأ)

رقم المفردة	رمز الإجابة
١	د
٢	ب
٣	أ
٤	د
٥	د
٦	ج
٧	ب
٨	ب
٩	أ
١٠	ب
١١	ج
١٢	أ

السؤال الثاني (١٢ درجة) المفردة (١) درجات ، المفردة (٢) ٣ درجات ، المفردة (٣) ٤ درجات

الدرجة	الإجابة	الفقرة
درجة ١ درجة ١ درجة ١ درجة ١ درجة ١	$4س + 5 = 2س - 4س + 5$ $س^2 - 8س = 0$ $س(س - 8) = 0$ $س = 0 ، س = 8$ <p>مجموعة الحل = $\{(37, 8), (5, 0)\}$</p>	١
درجة ٢/١ درجة ٢/١ درجة ٢/١ درجة ٢/١ درجة ١	$2 = \sqrt{3 - 2س}$ <p>بتربيع الطرفين</p> $1 = 3 - 2س$ $س = 2$ $س = 2 \pm$ <p>مجموعة الحل = $\{2, -2\}$</p>	٢
درجة ١ درجة ١ درجة ١ درجة ١	<p>(أ) المتني ٢٥ = ٦٠</p> <p>(ب) الربيع الأعلى = ٧٥</p> <p>(ج) الوسيط = ٦٥</p> <p>(د) عدد الطلاب الذين تقع درجاتهم بين المتني ٢٥ و الربيع الأعلى = ١٥</p>	٢

السؤال الثالث (١٢ درجات) المفردة (١) ٦ درجات ، المفردة (٢) ٦ درجات

الدرجة	الإجابة	الفقرة																																										
٣ درجات	<table border="1"> <thead> <tr> <th>ت × ح</th> <th>ح</th> <th>ح = م - س</th> <th>م × م</th> <th>م</th> <th>ت</th> <th>ف</th> </tr> </thead> <tbody> <tr> <td>١٠٥١,٢٥</td> <td>٢١٠,٢٠</td> <td>١٤,٥-</td> <td>٧٥</td> <td>١٥</td> <td>٥</td> <td>-١٠</td> </tr> <tr> <td>١٢١,٥</td> <td>٢٠,٢٥</td> <td>٤,٥-</td> <td>١٥٠</td> <td>٢٥</td> <td>٦</td> <td>-٢٠</td> </tr> <tr> <td>١٢١</td> <td>٣٠,٢٥</td> <td>٥,٥</td> <td>١٤٠</td> <td>٣٥</td> <td>٤</td> <td>-٣٠</td> </tr> <tr> <td>١٢٠١,٢٥</td> <td>٢٤٠,٢٥</td> <td>١٥,٥</td> <td>٢٢٥</td> <td>٤٥</td> <td>٥</td> <td>-٤٠</td> </tr> <tr> <td>٢٤٩٥</td> <td></td> <td></td> <td>٥٩٠</td> <td></td> <td></td> <td></td> </tr> </tbody> </table>	ت × ح	ح	ح = م - س	م × م	م	ت	ف	١٠٥١,٢٥	٢١٠,٢٠	١٤,٥-	٧٥	١٥	٥	-١٠	١٢١,٥	٢٠,٢٥	٤,٥-	١٥٠	٢٥	٦	-٢٠	١٢١	٣٠,٢٥	٥,٥	١٤٠	٣٥	٤	-٣٠	١٢٠١,٢٥	٢٤٠,٢٥	١٥,٥	٢٢٥	٤٥	٥	-٤٠	٢٤٩٥			٥٩٠				١
ت × ح	ح	ح = م - س	م × م	م	ت	ف																																						
١٠٥١,٢٥	٢١٠,٢٠	١٤,٥-	٧٥	١٥	٥	-١٠																																						
١٢١,٥	٢٠,٢٥	٤,٥-	١٥٠	٢٥	٦	-٢٠																																						
١٢١	٣٠,٢٥	٥,٥	١٤٠	٣٥	٤	-٣٠																																						
١٢٠١,٢٥	٢٤٠,٢٥	١٥,٥	٢٢٥	٤٥	٥	-٤٠																																						
٢٤٩٥			٥٩٠																																									
١ درجة	$س = \frac{٥٩٠}{٢٠} = ٢٩,٥$																																											
١ درجة	$المدى = ١٠ - ٥٠ = ٤٠$																																											
١ درجة	$الانحراف المعياري = \frac{٢٤٩٥}{٢٠} = ١٢٤,٧٥$																																											
١ درجة	$التباين = \sqrt{١٢٤,٧٥} = ١١,١٩٦$																																											
٢ درجة	$\frac{١}{٢} (\pi^٤ \text{ نق} + \pi^٢ \text{ نق} + \pi \text{ نق}) = \text{مساحة السطح الخارجي للخزان}$	٢																																										
١ درجة	$\frac{١}{٢} (\pi^٤ \times ٤ + \pi^٢ \times ٦ + \pi \times ٤)$																																											
٢ درجة	$\pi^٤ + \pi^٢ + \pi$																																											
١ درجة	$\pi^٣٦$																																											

السؤال الرابع (١٢ درجة) المفردة (١) ٤ درجات ، المفردة (٢) ٤ درجات ، المفردة (٣) ٤ درجات

الدرجة	الإجابة	الفقرة
٢ درجة	$\begin{pmatrix} ٧ & ٤ & ٢٨ \\ ١٩ & ٩ & ١- \end{pmatrix} = \begin{pmatrix} ٢- & ٦ & ١٦ \\ ١٢ & ٨ & ٦- \end{pmatrix} + \begin{pmatrix} ٩ & ٢- & ١٢ \\ ٧ & ١ & ٥ \end{pmatrix}$	(أ) ١
١ + ١	$\begin{pmatrix} ٥ & \frac{٥}{٢} & ٢- \\ \frac{١-}{٢} & \frac{٣}{٢} & ٤- \end{pmatrix} = \begin{pmatrix} ١٠ & ٥ & ٤- \\ ١- & ٣ & ٨- \end{pmatrix} \cdot \frac{١}{٢}$	(ب) ١
الدرجة ١ + ٢	$\begin{pmatrix} ١٧ \\ ١٦- \end{pmatrix} = \begin{pmatrix} ٥- \times ٣- + ٢ \times ١ \\ ٥- \times ٤ + ٢ \times ٢ \end{pmatrix}$	٢
الدرجة ١ + ٢	$\begin{pmatrix} ٢٦ & ٢ & ٣ \\ ٢٠- & ٥- & ٠ \end{pmatrix} \xleftarrow{\text{ص}٣ = ٢\text{ص}٤ - \text{ص}١} \begin{pmatrix} ٢٦ & ٢ & ٣ \\ ٢٨ & ١ & ٤ \end{pmatrix}$	٣
الدرجة	$\begin{pmatrix} ٢٦ & ٢ & ٣ \\ ٤ & ١ & ٠ \end{pmatrix} \xleftarrow{\text{ص}١ = \text{ص}٢ - ٢\text{ص}٤}$	
١ + ١	$\begin{pmatrix} ٦ & ٠ & ١ \\ ٤ & ١ & ٠ \end{pmatrix} \xleftarrow{\text{ص}١ = \frac{\text{ص}٣}{٣}} \begin{pmatrix} ١٨ & ٠ & ٣ \\ ٤ & ١ & ٠ \end{pmatrix}$ <p style="text-align: right;">٦ = ص ٤ = ص</p>	

تراعى الحلول الأخرى الصحيحة في جميع الأسئلة المقالية