

المديرية العامة للتربية والتعليم بمحافظة جنوب الباطنة
امتحان الصف السابع للتعليم الأساسي
للعام الدراسي ١٤٣٥/١٤٣٦ هـ — ٢٠١٤ / ٢٠١٥ م
الدور الأول - الفصل الدراسي الأول

- الزمن ساعة ونصف .
- الإجابة في الورقة نفسها.

- المادة: الدراسات الاجتماعية
- الأسئلة في (٥) صفحات.

أجب عن جميع الأسئلة الآتية
السؤال الأول: ضع دائرة حول رمز الإجابة الصحيحة من بين البدائل المعطاة :

١- الجدول الذي يمثل المجتمع الذي تظهر فيه أعلى نسبة إعاقة :

الفئة العمرية	النسبة %
صغار السن	٢٠
متوسطو السن	٧٠
كبار السن	١٠

(ب)

الفئة العمرية	النسبة %
صغار السن	٤٠
متوسطو السن	٣٠
كبار السن	٣٠

(أ)

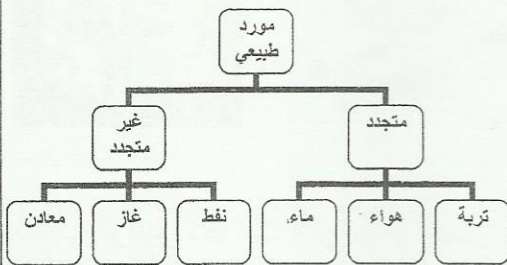
الفئة العمرية	النسبة %
صغار السن	٦٠
متوسطو السن	٢٠
كبار السن	٢٠

(د)

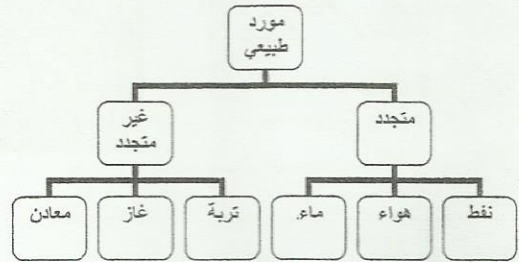
الفئة العمرية	النسبة %
صغار السن	٣٠
متوسطو السن	٤٠
كبار السن	٣٠

(ج)

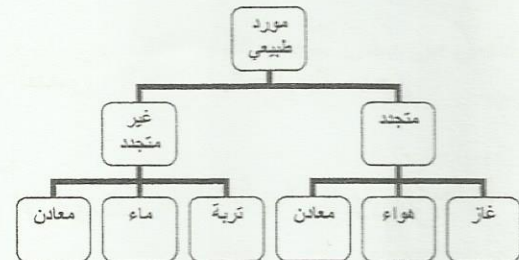
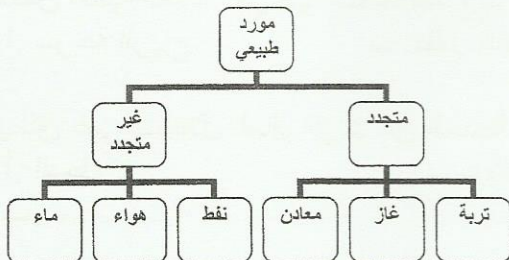
٢- الخريطة الذهنية الصحيحة لتوزيع الموارد الطبيعية:



(ب)



(د)



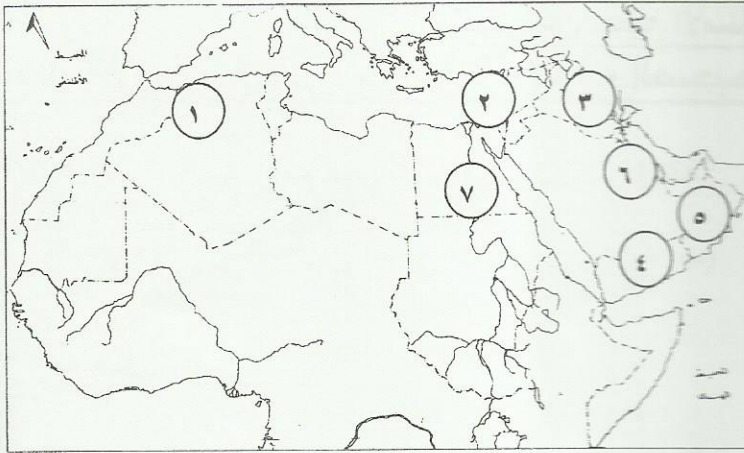
(٢)

تابع : امتحان الصف السابع الأساسي
للعام الدراسي ١٤٣٥/١٤٣٦ هـ — ٢٠١٤ / ٢٠١٥ م
الدور الأول - الفصل الدراسي الأول
المادة : الدراسات الاجتماعية

تابع : السؤال الأول: ضع دائرة حول رمز الإجابة الصحيحة من بين البدائل المعطاة :

٣- الكثافة السكانية لمجتمع عدد سكانه ١٠٠٠٠٠ نسمة ومساحته ١٠٠ كم^٢ هي:
أ. ١٠٠ نسمة/كم^٢ ب. ٢٠٠ نسمة/كم^٢ ج. ٣٠٠ نسمة/كم^٢ د. ٤٠٠ نسمة/كم^٢

٤- الأرقام التي توضح مراكز الحضارات القديمة في شبه الجزيرة العربية على الخريطة أمامك :



أ. ١، ٢، ٣
ب. ٤، ٦، ٧
ج. ١، ٣، ٥
د. ٤، ٥، ٦

٥- الشكل الذي يعد من مظاهر العصور الحجرية في عمان :



٦- السبب الرئيس لحوادث المرور في عمان عام ٢٠٠٩ م :
أ. التوقف المفاجئ ب. السرعة
ج. تعاطي المسكرات د. الإرهاق

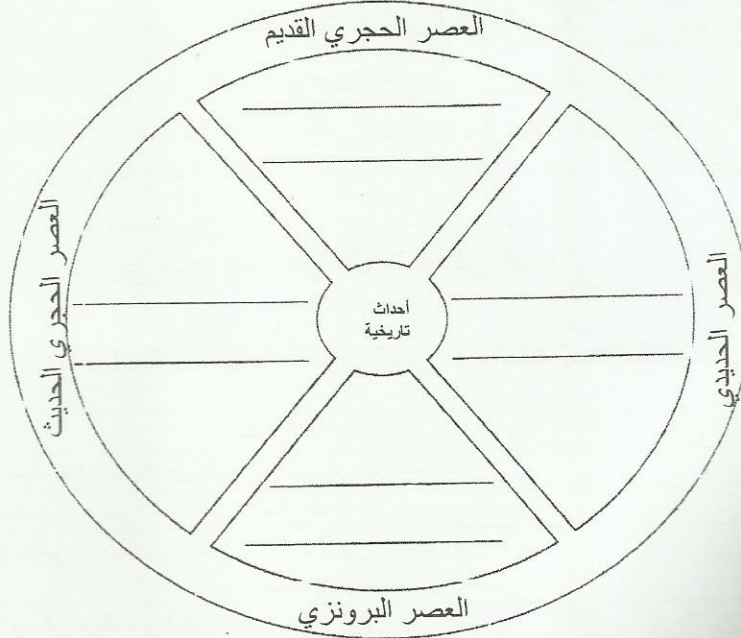
٧- تكمن أهمية الغابات في أنها تساعد جميع ما يأتي عدا :
أ. سرعة الرياح ب. تقليل التبخر
ج. تحسين الطقس د. جذب السياحي

٨- يطلق على استغلال المال الزائد عن الحاجة لإقامة المشاريع الخاصة :

أ. الدخل ب. الاستثمار ج. الاستهلاك د. الادخار
ب.

السؤال الثاني:

أولاً : أملك مجموعة من الأحداث التاريخية (ظهور الزراعة - اكتشاف النار - استخدام النقود - استخدام الكتابة - استخدام الأثاث - استئناس الحيوان) توضح مراحل تطور الحضارات القديمة. أعد توزيعها في دائرة الأحداث الآتية:



ثانياً : أملك مجموعة من المعطيات في الجدول الآتي . ضع العلامة (x) تحت العبارة التي تنطبق على الدولة :

العبارة	الدولة
عاصمتها قرطاج	كنا
ظهرت في الفترة (١١٥ ق.م - ٥٢٥ م)	أ
قامت في وادي بيجان	صر
أنشأت سد مأرب	عين
يلقيس أشهر ملوكها	
ميناها عدن مركزا لتجارة البخور	

ثالثاً : علل :

التخلص من سائل شجرة اللبان الناتج من التوقيع أثناء عملية استخراج اللبان.

يفضل السكان العيش في المناطق التي تشرف على المسطحات المائية.

(٤)

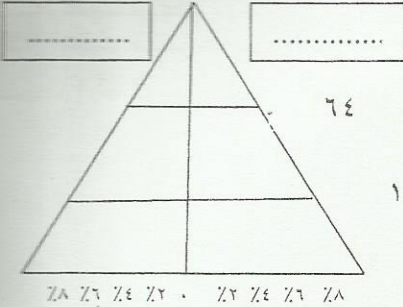
تابع : امتحان الصف السابع

للعام الدراسي ١٤٣٥ / ١٤٣٦ هـ — ٢٠١٤ / ٢٠١٥ م

الدور الأول - الفصل الدراسي الأول

المادة : الدراسات الاجتماعية

السؤال الثالث:



أولاً : أمامك هرما سكانيا أدرسه ثم أجب عن الأسئلة الآتية:

١- المجتمع الذي يمثله الهرم فتي

مسن

أختر بعلامة (√) في المربع

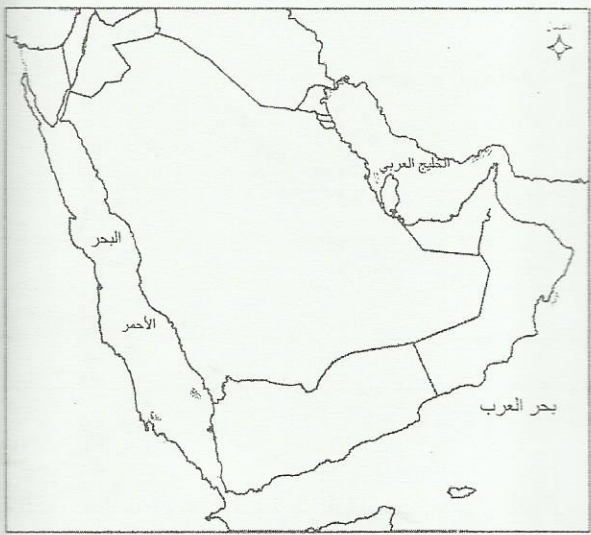
لماذا؟

٢- أكتب (ذكور - إناث) في المربع الذي يشير إلى كل منهما في الهرم .

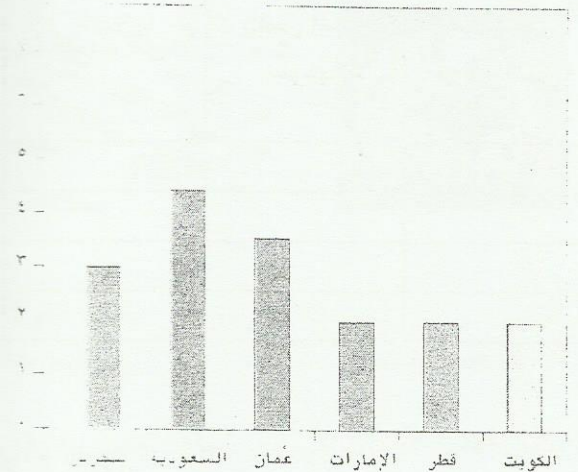
ثانياً : وزع نوع الهجرات الآتية حسب معطيات الجدول التالي : (داخلية إجبارية - خارجية مؤقتة - داخلية مؤقتة - داخلية دائمة) :

نوع الهجرة	العبارة
	انتقل سالم مع أسرته من الرستاق ليستقر في مسقط
	ذهب خميس لزيارة أهله في الإمارات
	خرج سامي من القدس بعد أن طرده اليهود ليسكن في غزة (القدس وغزة مدينتان فلسطينيتان)
	محمد يسكن بركاء ويذهب للعمل في نزوى

ثالثاً : أدرس الرسم البياني الذي يوضح معدل الوفيات في دول مجلس التعاون لدول الخليج العربية عام ٢٠٠٠م وخريطة هذه الدول أمامك ، ثم أجب عما يلي :



البيانات



١- اكتب الرقم (١) على الخريطة في الدولة التي تمثل المرتبة الأولى من بين دول المجلس في معدل الوفيات .

٢- صل بخط بين كل من الكويت وقطر في الشكل وموقعيهما على الخريطة.

٣- لو افترضنا أن عدد سكان البحرين ٧٠٠٠٠٠٠ نسمة فكم يكون عدد الوفيات فيها في عام ٢٠٠٠م ؟

تابع : امتحان الصف السابع الأساسي
للعام الدراسي ١٤٣٥/١٤٣٦ هـ — ٢٠١٤ / ٢٠١٥ م
الدور الأول - الفصل الدراسي الأول
المادة : الدراسات الاجتماعية

سؤال الرابع :

ولاً : أقرأ الفقرة الآتية ثم أجب عن الأسئلة التي تليها :

سأل طالب في الصف السابع وقيل أن يذهب إلى المدرسة يتناول وجبة الإفطار، وفي طابور الصباح يقوم بتأدية تمارين الرياضية مع زملائه الطلبة، ليبدأ يومه الدراسي ، وفي الفسحة يذهب إلى إحدى البقالات لشراء شرابه المفضل هو زجاجة من المشروبات الغازية . وبعد انتهاء اليوم الدراسي يمر على البقالة من جديد ويشترى وجبة خفيفة قليلة الدهن . ليذهب بعد ذلك إلى البيت ، ليجد أمه وقد أعدت وجبة الغداء ذات الأطعمة المتنوعة ، وفي المساء يتناول الوجبات لسريعة في المقهى مع أصحابه .

استخرج من الفقرة اثنتين من السلوكيات الغذائية:

١- السليمة .

٢- الغير سليمة

ثانياً: أجب عن الأسئلة الآتية :

١- الممتلكات العامة هي كل ما تملكه الدولة وتشرف عليه إدارياً ومالياً وقانونياً .
في ضوء هذا المفهوم ضع خطأ تحت العبارات التي تنطبق عليه فيما يأتي :

- حديقة النسيم

- مصنع عبدالله لتجنية التمور

- مركز صحي العوابي

- قلعة الرستاق

٢- هناك العديد من شروط الأمان التي يجب على السائق مراعاتها ومنها سلامة كل مما يأتي:

أ- المصابيح

ب- ماسح الزجاج

ج- الإطارات

- أكتب رمز كل شرط حسب ما يشير إليه في السيارة أمامك .



ثالثاً: عرف المفاهيم الآتية:

١- الصحة .

٢- التوعية المرورية .

انتهت الأسئلة مع تمنياتنا لكم بالتوفيق والنجاح

(٢)

تابع: نموذج إجابة امتحان الصف السابع الأساسي
للعام الدراسي ١٤٣٥/١٤٣٦ هـ - ٢٠١٤ / ٢٠١٥ م
الدور الأول - الفصل الدراسي الأول
الدراسات الاجتماعية

ثانياً: إجابة الأسئلة المقالية:-
السؤال الثاني : (٨) درجات :-

الصفحة	الدرجة	الإجابة الصحيحة	المفردة	الجزئية
١٦-١٤	٣ لكل نصف درجة		١	أولاً

الصفحة	الدرجة	الإجابة الصحيحة	الجزئية																																				
٣٧-٣٥	٣ لكل نصف درجة	<table border="1"> <thead> <tr> <th>العصارة الدولة</th> <th>عاصمتها</th> <th>ظهرت في الفترة</th> <th>قامت في وادي</th> <th>أنشأت سد</th> <th>بلقيس</th> <th>بفضلها أصبح</th> </tr> </thead> <tbody> <tr> <td>قنبان</td> <td>قرناو</td> <td>١٥ ق.م - ٥٢٥ م</td> <td>بيحان</td> <td>مارب</td> <td>أشهر ملوكها</td> <td>ميناء عدن مركزاً لتجارة البخور</td> </tr> <tr> <td>سبأ</td> <td></td> <td></td> <td></td> <td></td> <td></td> <td></td> </tr> <tr> <td>حمير</td> <td></td> <td></td> <td></td> <td></td> <td></td> <td></td> </tr> <tr> <td>معين</td> <td></td> <td></td> <td></td> <td></td> <td></td> <td></td> </tr> </tbody> </table>	العصارة الدولة	عاصمتها	ظهرت في الفترة	قامت في وادي	أنشأت سد	بلقيس	بفضلها أصبح	قنبان	قرناو	١٥ ق.م - ٥٢٥ م	بيحان	مارب	أشهر ملوكها	ميناء عدن مركزاً لتجارة البخور	سبأ							حمير							معين								ثانياً
العصارة الدولة	عاصمتها	ظهرت في الفترة	قامت في وادي	أنشأت سد	بلقيس	بفضلها أصبح																																	
قنبان	قرناو	١٥ ق.م - ٥٢٥ م	بيحان	مارب	أشهر ملوكها	ميناء عدن مركزاً لتجارة البخور																																	
سبأ																																							
حمير																																							
معين																																							

(٣)

تابع: نموذج إجابة امتحان الصف السابع الأساسي
للعام الدراسي ١٤٣٥/١٤٣٦ هـ - ٢٠١٤ / ٢٠١٥ م
الدور الأول - الفصل الدراسي الأول
الدراسات الاجتماعية

تابع: السؤال الثاني :

الصفحة	الدرجة	الإجابة الصحيحة	المفردة	الجزئية
٢٨	درجة	لأن نوعيته غير جيدة / كميته ليست تجارية . يكتفى بوحدة	١	ثالثاً

الصفحة	الدرجة	الإجابة الصحيحة	المفردة	الجزئية
٥٩	درجة	اعتدال المناخ / توافر الثروات البحرية . يكتفى بوحدة	٢	ثالثاً

السؤال الثالث (٨ درجات)

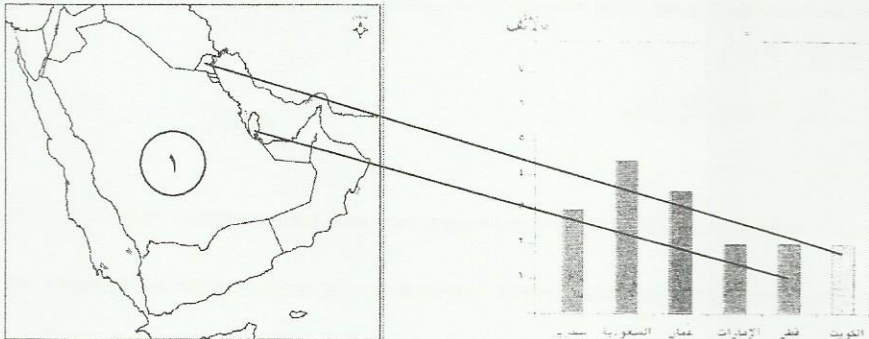
الصفحة	الدرجة	الإجابة الصحيحة	المفردة	الجزئية
٤٦	٢ لكل درجة	بسبب زيادة نسبة صغار السن / لأن قاعدته عريضة . يكتفى بوحدة	١	أولاً

الصفحة	الدرجة	الإجابة الصحيحة	المفردة	الجزئية
٤٧	درجة لكل نصف		٢	أولاً

(٤)
تابع: نموذج إجابة امتحان الصف السابع الأساسي
للعام الدراسي ١٤٣٥/١٤٣٦ هـ - ٢٠١٤ / ٢٠١٥ م
الدور الأول - الفصل الدراسي الأول
الدراسات الاجتماعية

تابع: السؤال الثالث :

الجزئية	الإجابة الصحيحة	الدرجة	الصفحة		
ثانياً	العبرة	٢ لكل نصف درجة	٥٤		
	انتقل سالم مع أسرته من الرستاق ليستقر في مسقط				
	ذهب خميس لزيارة أهله في الإمارات				
	خرج سامي من القدس بعد أن طرده اليهود ليسكن في غزة (القدس وغزة مدينتان فلسطينيان)				
محمد يسكن بركاء ويذهب للعمل في نزوى	نوع الهجرة	داخلية دائمة	خارجية مؤقتة	داخلية اجبارية	داخلية مؤقتة

الجزئية	المفردة	الإجابة الصحيحة	الدرجة	الصفحة
ثالثاً	١	 <p>ملاحظة: ١- إذا وضع الطالب الرقم في أي مكان ضمن حدود السعودية يعد ذلك صحيحاً . ٢- في المفردة (٢) درجة واحدة لكل نصف درجة.</p>	٣ درجات لكل درجة	٥٢
	٢			
	٣			

السؤال الرابع: (٨ درجات)

الجزئية	المفردة	الإجابة الصحيحة	الدرجة	الصفحة
أولاً	١	تناول وجبة الإفطار / التمارين الرياضية / الغذاء قليل الدهن / الأطعمة المتنوعة. ملاحظة: يشترط أن تكون الإجابات من الفقرة . يكتفى باثنتين لكل نصف درجة	درجة لكل نصف	٧٧


(٣)

تابع: نموذج إجابة امتحان الصف السابع الأساسي
للعام الدراسي ١٤٣٦/١٤٣٥ هـ - ٢٠١٤ / ٢٠١٥ م
الدور الأول - الفصل الدراسي الأول
الدراسات الاجتماعية

تابع : السؤال الرابع :

الصفحة	الدرجة	الإجابة الصحيحة	المفردة	الجزئية
٧٧	درجة لكل نصف	تناول المشروبات الغازية تناول الوجبات السريعة ملاحظة : يشترط أن تكون الإجابات من الفقرة .	٢	أولاً

الصفحة	الدرجة	الإجابة الصحيحة	المفردة	الجزئية
٨٢	درجة ونصف لكل نصف	- حديقة النسيم - مركز صحي العوابي - قلعة الرستاق	١	ثانياً

الصفحة	الدرجة	الإجابة الصحيحة	المفردة	الجزئية
٩٣	درجة ونصف لكل نصف		٢	ثانياً

الصفحة	الدرجة	الإجابة الصحيحة	المفردة	الجزئية
٧٣	درجة ونصف	علامة الاتزان من أي مرض وقيامه بوظائفه على اكمل وجه وقدرته على ممارسة الأنشطة الاجتماعية والثقافية والرياضية في المجتمع . ملاحظة : ما يفيد المعنى يعد صحيحاً	١	ثالثاً
٨٩	درجة ونصف	الوعي بقواعد المرور وتطبيقها. ملاحظة : ما يفيد المعنى يعد صحيحاً	٢	