

سَلْطَنَةُ عُومَانِ
وَزَارَةُ التَّرْبِيَةِ وَالتَّعْلِيمِ

المديرية العامة للتربية والتعليم لمحافظة مسندم

امتحان الصف الثامن

للعام الدراسي ١٤٣٥/١٤٣٦ هـ - ٢٠١٤/٢٠١٥ م

الفصل الدراسي الأول - الدور الأول

عدد صفحات أسئلة الامتحان : (٥)

• المادة : العلوم العامة

الإجابة في الورقة نفسها

• زمن الإجابة : ساعة ونصف

اسم الطالب	
المدرسة	الشعبية

التوقيع بالاسم		الدرجة بالحروف (بالأحمر)	الدرجة بالأرقام (بالأحمر)		السؤال
المصحح (بالأحمر)	المدقق (بالأخضر)		عشرات	آحاد	
					١
					٢
					٣
					٤
					٥
مراجعة الجمع والتشطيب (بالأزرق)	جمعه (بالأحمر)				المجموع
				٤٠	المجموع الكلي



الزمن : ساعة ونصف

المادة :- العلوم

تنبيه : الأسئلة في (٥) ورقات

الدرجة الكلية : (٤٠) درجة

الصف:

اسم الطالب /

أجب عن جميع الأسئلة الآتية

أولاً: السؤال الموضوعي : ضع دائرة حول الرمز الدال على الإجابة الصحيحة من بين البدائل المعطاة:

١ - للكائنات الحية خصائص تميزها عن الأشياء غير الحية، ويعبر عن زفير ثاني أكسيد الكربون بخاصية :

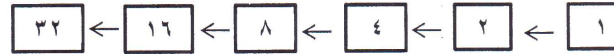
(أ) التخلص من الفضلات.

(ب) الاحتياج للطاقة.

(ج) فترة حياة محددة.

(د) التكاثر والنمو.

٢ - توضح المتسلسلة التالية عدد الخلايا الناتجة عن الانقسامات الغير مباشرة في البكتيريا



عدد البكتيريا الناتجة عن الانقسام الرابع هو :

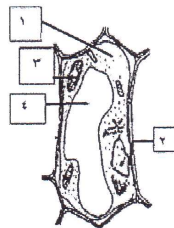
(أ) ٤

(ب) ٨

(ج) ١٦

(د) ٣٢

٣ - يمثل الشكل المقابل مكونات الخلية النباتية. الجزء الذي يحتوي على الكلوروفيل (اليخضور) ويمكن النبات من صنع الغذاء باستخدام أشعة الشمس يرمز له بالرقم:



(أ) ١

(ب) ٢

(ج) ٣

(د) ٤

٤ - من أنا : نتوءات دقيقة أشبه الأصابع أتواجد في سطح البطانة الداخلية للأمعاء الدقيقة ؟

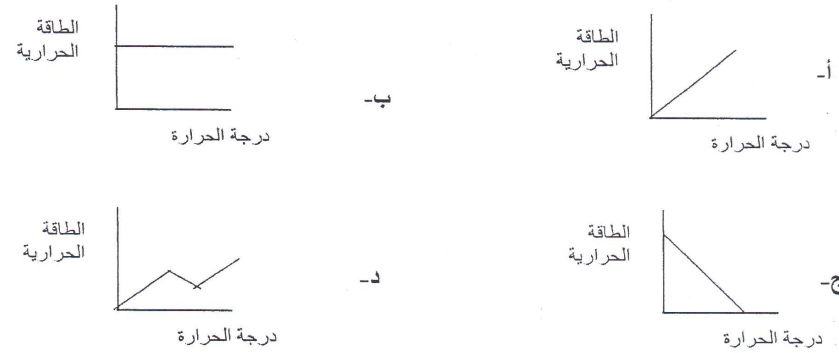
(أ) الخملات.

(ب) الحويصلات الهوائية.


(ج) الخلايا الطلانية.

(د) الشعيبات.

٥ - في مختبر العلوم قام هيثم بتسخين (١٥٠ مل) من الماء في كأس من ٢٥°س إلى ٨٥°س. أحد الأشكال التالية توضح العلاقة بين درجة الحرارة والطاقة الحرارية في التجربة التي أجراها علي:



٦- قام خالد بقياس درجة حرارة كمية من الزيت في تجربة ما مستخدماً الترمومتر السيليزي كما هو موضح بالشكل، ثم قام بتحويلها للدرجة المطلقة فوجدها تساوي:



- (أ) ٢٠٨-
(ب) ١٤٩
(ج) ٣٣٨
(د) ٥٥٦

٧- أجرى أحمد تجربة توصيل عدة معادن للحرارة ورمز لها بالرموز (س، ص، ع، ل، م) من خلال قياس زمن انصهار الشمع وكانت النتائج كالتالي:

المعدن	س	ص	ع	ل	م
الزمن الذي يبدأ الشمع عنده بالانصهار (بالثانية)	٩٠	١٢٠	١٣٠	١٤٠	١٦٠

حسب النتائج من الجدول فإن المعدن الأقل توصيلاً للحرارة هو:

- (أ) س (ب) ع (ج) ل (د) م

٨ - أحد العناصر التالية يدخل في تكوين هرمون الغدة الدرقية وأهم مصادره الأسماك:

- (أ) الحديد.
(ب) اليود.
(ج) الكالسيوم.
(د) الماغنسيوم.

السؤال الثاني :

(أ) ١- وضح أهمية الألياف في وجبات الغذاء التي نتناولها على الجهاز الهضمي.

٢- عند إجراء احدي التجارب على استخدام المجاهر صادف أعضاء مجموعتك صعوبة في اختيار المجهر المناسب لفحص الحالات التالية. ساعدهم لاختيار الأنسب:

المجهر المناسب	طبيعة الحالة
.....	التركيب المفصل للنواة
.....	صورة ثلاثية الأبعاد لمكونات الخلية


(ب) ١- يساهم شكل الخلية بشكل كبير في أدائها لوظيفتها. فسر هذه العلاقة بإكمال الجدول التالي:

نوع الخلية	شكلها	علاقة الشكل بالخلية
خلايا الدم الحمراء
خلايا النبات الناقلة للماء
الخلايا العصبية

٢- وضح اتجاه حركة جزيئات كلا من (الأكسجين، ثاني أكسيد الكربون، الماء) إلى داخل الخلية أو

خارجها باستخدام الأسهم (→ ، ← ، ↔) في الجدول التالي:

الجزيئات	داخل الخلية	اتجاه حركة الجزيئات	خارج الخلية
الأكسجين	تركيز O_2 أقل	تركيز O_2 أكبر
ثاني أكسيد الكربون	تركيز CO_2 أكبر	تركيز CO_2 أقل
الماء	تركيز المحلول أقل	تركيز المحلول أكبر



(ج)

(ب)

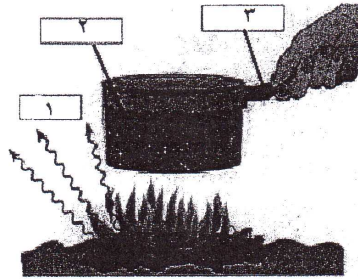
(أ)

(ج) الأشكال التالية تمثل توزيع الجزيئات في الحالات الثلاث للمادة، ادرسه ثم اجب عن الاسئلة التالية:

- ١- الشكل الذي يمثل جزيئات الغاز (.....)
- ٢- الشكل الذي تكون فيه القوى الكهرومغناطيسية كبيرة جداً (.....)
- ٣- يمكن تحويل جزيئات الشكل (ج) إلى الشكل (ب) بعملية


السؤال الثالث :

(أ) تمعن في الشكل الذي أمامك لتجربة تسخين كمية من الماء في إناء مصنوع من المعدن بالكامل والتي تمثل طرق انتقال الطاقة الحرارية، ثم أكمل الجدول التالي:




الرقم	١	٢	٣
طرق انتقال الطاقة الحرارية
حركة الجزيئات

(ب) ١- توضح الصور التالية طريقتين من الطرق الميكانيكية لإنتاج الحرارة، اكتب أسفل كل صورة الطريقة التي تناسبها:



.....(ب)



.....(أ)

٢ - أجرى علي تجربة في المختبر حيث قام بتسخين كرة معدنية بواسطة لهب بنزن،
ولاحظ بأن الكرة لا تمر عبر حلقة معدنية عندما تكون ساخنة.
ما تأثير التسخين على حجم الكرة؟
.....
ما تأثير التسخين على كتلة الكرة؟
.....

ج) لدى سالم مزرعة يزرع فيها محصول البطاطا الحلوة (الفندال) ولكن بعد فترة من الزراعة
لاحظ أن المحصول قد عانى من ضعف في نمو الأوراق والسيقان فذهب لشراء سماد صناعي.
في ضوء العبارة السابقة أجب عما يلي:

١- عدد اثنين من فوائد السماد.

-
-

٢- ما العنصر الأساسي في الأسمدة والضروري لزيادة نمو الأوراق والسيقان لمحصول البطاطا
الحلوة؟

.....

٣- مستخدماً معدل NPK اكتب النسبة المئوية للعناصر المكونة للسماد في الصورة التالية :



العنصر	النسبة المئوية
الفوسفور
البوتاسيوم
النيتروجين

٤- "بالرغم من فائدة الأسمدة الزراعية للنبات إلا أنها تعتبر من الملوثات". فسر العبارة.

.....
.....
.....

انتهت الأسئلة ، مع تمنياتنا بالنجاح والتوفيق،،،

عدد أوراق الإجابة (٣)



المديرية العامة للتربية والتعليم لمحافظة شمال الباطنة
[نموذج إجابة امتحان الصف الثامن الأساسي لمادة العلوم]
العام الدراسي ٢٠١٤ / ٢٠١٥ م - الفصل الدراسي الأول / الدور الأول

الدرجة الكلية ٤٠ درجة

$$١٦ = ٢ \times ٨$$

إجابة السؤال الأول: ١٦ درجة

رقم المفردة	رمز الإجابة	الإجابة	الدرجة	الصفحة	المخرج التعليمي
١	أ	التخلص من الفضلات	٢	٢٠-١٩	ب: ١, ٨, ١
٢	ج	١٦	٢	٥٦	ز: ١, ٨, ١
٣	ج	٣	٢	٢٤	و: ١, ٨, ١
٤	أ	الخملات	٢	٦٦	ج: ١, ٨, ٢
٥	أ		٢	٨٩-٨٨	أ: ١, ٨, ٤
٦	ج	٣٣٨	٢	٩٢-٩٠	أ: ١, ٨, ٤
٧	د	م	٢	٩٤-٩٣	ب: ١, ٨, ٤
٨	ب	اليود	٢	١٣٩	أ: ١, ٨, ٣

إجابة السؤال الثاني: ١٢ درجة

المخرج التعليمي	الصفحة	الدرجة	الإجابة	الحزبية	المفردة																
١، ٨، ٢: و	٧٠	١	تساعد على هضم الطعام وتعمل على تنظيف جدران الجهاز الهضمي	١																	
١١، ٨، ٦ م	٣٣-٣٢	١ ١	<table border="1"> <thead> <tr> <th>المجهر المناسب</th> <th>طبيعة الحالة</th> </tr> </thead> <tbody> <tr> <td>المجهر الإلكتروني النافذ</td> <td></td> </tr> <tr> <td>المجهر الإلكتروني الماسح</td> <td></td> </tr> </tbody> </table>	المجهر المناسب	طبيعة الحالة	المجهر الإلكتروني النافذ		المجهر الإلكتروني الماسح		٢	أ										
المجهر المناسب	طبيعة الحالة																				
المجهر الإلكتروني النافذ																					
المجهر الإلكتروني الماسح																					
١، ٨، ١: ك	٥٧	$\frac{1}{4} + \frac{1}{4}$ $\frac{1}{4} + \frac{1}{4}$ $\frac{1}{4} + \frac{1}{4}$	<table border="1"> <thead> <tr> <th>علاقة الشكل بالخلية</th> <th>شكلها</th> <th>نوع الخلية</th> </tr> </thead> <tbody> <tr> <td>مساحة سطح أكبر لحمل كمية كبيرة من الأكسجين</td> <td>رفيعة وقرصية</td> <td></td> </tr> <tr> <td>لمرور الماء عبرها بسهولة</td> <td>أنبوبي</td> <td></td> </tr> <tr> <td>لنقل الاشارات العصبية من جزء لآخر</td> <td>طويلة ذات أفرع</td> <td></td> </tr> </tbody> </table>	علاقة الشكل بالخلية	شكلها	نوع الخلية	مساحة سطح أكبر لحمل كمية كبيرة من الأكسجين	رفيعة وقرصية		لمرور الماء عبرها بسهولة	أنبوبي		لنقل الاشارات العصبية من جزء لآخر	طويلة ذات أفرع		١					
علاقة الشكل بالخلية	شكلها	نوع الخلية																			
مساحة سطح أكبر لحمل كمية كبيرة من الأكسجين	رفيعة وقرصية																				
لمرور الماء عبرها بسهولة	أنبوبي																				
لنقل الاشارات العصبية من جزء لآخر	طويلة ذات أفرع																				
١، ٨، ١: ح	٣٧-٣٦	١ ١ ١	<table border="1"> <thead> <tr> <th>خارج الخلية</th> <th>اتجاه حركة الجزيئات</th> <th>داخل الخلية</th> <th>الجزيئات</th> </tr> </thead> <tbody> <tr> <td></td> <td>→</td> <td></td> <td></td> </tr> <tr> <td></td> <td>←</td> <td></td> <td></td> </tr> <tr> <td></td> <td>←</td> <td></td> <td></td> </tr> </tbody> </table>	خارج الخلية	اتجاه حركة الجزيئات	داخل الخلية	الجزيئات		→				←				←			٢	ب.
خارج الخلية	اتجاه حركة الجزيئات	داخل الخلية	الجزيئات																		
	→																				
	←																				
	←																				
١، ٨، ٤: أ	٨٧	١		ج	١																
٨، ١، ٤: أ	٨٧	١		أ	٢																
٨، ١، ٤: أ	١١٠	١		التكثيف	٣																

إجابة السؤال الثالث: ١٢ درجة

المخرج التعليمي	الصفحة	الدرجة	الإجابة				الحزبية	المفردة
			الرقم	١	٢	٣		
١٤٨٤: أ ب ج	٨٧٤٩٧ ١٠١-	١/١+١/١+١/١ ١/١+١/١+١/١	التوصيل الحراري	الحمل الحراري	الحمل الحراري		١	أ
			اهتزازية موضعية	اهتزازية وانتقالية	انتقالية في جميع الاتجاهات			
٢٤٨٤: أ	-١١٢ ١١٣	١/١ ١/١			أ- الاحتكاك ب- الطرق		١	
١٤٨٤: ب	١٠٦	١ ١			يزيد من حجم الكرة لا تؤثر أو لا تغير أو تبقى ثابتة		٢	ب
١٤٨٣: ب ٢٤٨٣: أ	-١٤١ ١٤٢	١ ١			- تجديد التربة وتزويدها بالعناصر الغذائية الرئيسية بهدف تحسين إنتاج المحاصيل الزراعية. - إنتاج نوعية جيدة من المحاصيل وفي فترة زمنية قصيرة.		١	
٣٤٨٢: أ	١٤٢	١/١			النيتروجين أو N		٢	
٢٤٨٣: أ	١٤٢	١/١ ١/١ ١/١			العنصر		٣	ج
					النسبة المئوية			
					٨			
					١٤			
					٢٠			
٣٤٨٢: أ	١٤٥	٢			- قد تتسرب الأسمدة الصناعية إلى المياه الجوفية أو تجرف إلى الأودية عند هطول الأمطار فتصل إلى الإنسان. - يمكن أن تسبب النترا والفوسفات نمو نباتات غير مرغوب فيها على سطح البرك والأنهار والمحيطات الأمر الذي يعيق مرور أشعة الشمس وبالتالي موت النباتات والكائنات المائية.		٤	

*** انتهى نموذج الإجابة ***