

حاضر

غائب



سُلْطَنَةُ عُمَانِ
وَزَارَةُ التَّرْبِيَةِ وَالتَّعْلِيمِ

امتحان دبلوم التعليم العام

للعام الدراسي ١٤٣٥/١٤٣٦ هـ - ٢٠١٤ / ٢٠١٥ م

الدور الأول - الفصل الدراسي الأول

ختم المركز

- زمن الإجابة: ثلاث ساعات.
- الإجابة في الورقة نفسها.

- تنبيه: المادة: التاريخ (العالم من حولي).
- الأسئلة في (١٠) صفحات.

تعليمات وضوابط التقدم للامتحان:

- الحضور إلى اللجنة قبل عشر دقائق من بدء الامتحان للأهمية.
 - إبراز البطاقة الشخصية لمراقب اللجنة.
 - يمنع كتابة رقم الجلوس أو الاسم أو أي بيانات أخرى تدل على شخصية الممتحن في دفتر الامتحان، وإلا ألغى امتحانه.
 - يحظر على الممتحنين أن يصطحبوا معهم بمركز الامتحان كتباً دراسية أو كراسات أو مذكرات أو هواتف محمولة أو أجهزة النداء الآلي أو أي شيء له علاقة بالامتحان كما لا يجوز إدخال آلات حادة أو أسلحة من أي نوع كانت أو حقائب يدوية أو آلات حاسبة ذات صفة تخزينية.
 - يجب أن يتقيد المتقدمون بالزي الرسمي (البدن الأبيض والمصر أو الكمة للطلاب والدارسين والزي المدرسي للطالبات واللباس العماني للدارسات) ويمنع النقاب داخل المركز ولجان الامتحان.
 - لا يسمح للمتقدم المتأخر عن موعد بداية الامتحان بالدخول إلا إذا كان التأخير بعذر قاهر يقبله رئيس المركز وفي حدود عشر دقائق فقط.
- س - عاصمة سلطنة عمان هي:
- القاهرة الدوحة
- مسقط أبوظبي
- ملاحظة: يتم تظليل الشكل (●) باستخدام القلم الرصاص وعند الخطأ، امسح بعناية لإجراء التغيير.
- صحيح غير صحيح
-

مُسَوَّدَةٌ، لا يتم تصحيحها

لا تكتب في هذا الجزء

لا تكتب في هذا الجزء

أجب عن جميع الأسئلة الآتية

السؤال الأول:

ظلل الشكل (○) المقترن بالإجابة الصحيحة لكل مفردة من المفردات الآتية:

١) تعد من مراكز الحضارات القديمة في الجزء الجنوبي الشرقي من شبه الجزيرة العربية:

○ ميلوفا. ○ أكاد.

○ مجان. ○ آشور.

٢) أطلق "تدريب العقل وتكوين الروح" على مفهوم الثقافة في القرن ١٦م في قارة:

○ أوروبا. ○ أفريقيا.

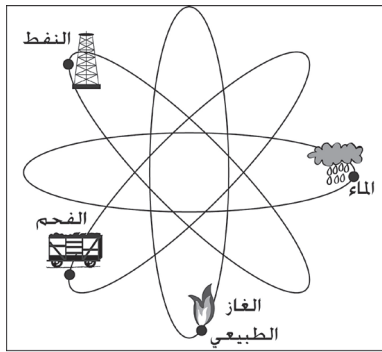
○ آسيا. ○ أستراليا.

٣) أنشأ معمل "منلوبارك" للآلات الكهربائية في النصف الثاني من القرن ١٩م العالم:

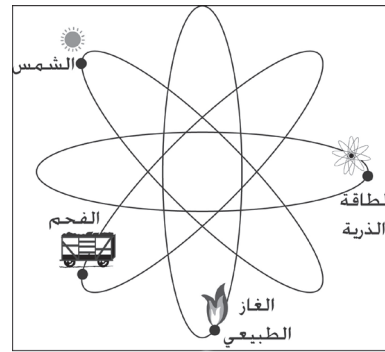
○ أديسون. ○ نيوتن.

○ موريس. ○ دربي.

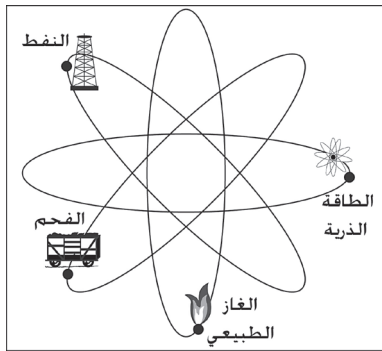
٤) الشكل الصحيح لمصادر الطاقة غير المتجددة:



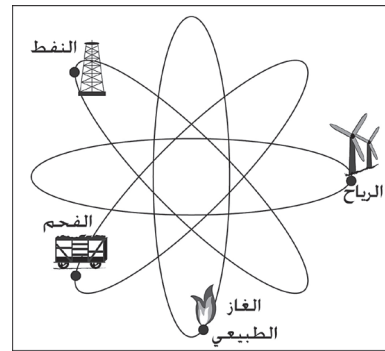
○



○



○



○

لا تكتب في هذا الجزء

تابع السؤال الأول:

(٥) أكتشف البترول في سلطنة عمان في العام الميلادي:

١٩٦٤

١٩٦٢

١٩٦٨

١٩٦٦

(٦) فازت سلطنة عمان بمقعد لعضوية اللجنة الدولية الحكومية في اتفاقية حماية وتعزيز تنوع أشكال التعبير الثقافي في الاجتماع الذي عقد عام ٢٠٠٧م بمدينة:

روما.

باريس.

جنيف.

فيينا.

(٧) إحدى دول شرق آسيا التي تصدر الثوم العضوي إلى ألمانيا عبر التجارة الإلكترونية:

الهند.

الصين.

الفلبين.

إيران.

(٨) الشكل الصحيح لمسار الرحلة الفينيقية حول القارة الأفريقية في القرن ٦ ق.م.:



لا تكتب في هذا الجزء

تابع السؤال الأول:

(٩) حقن الغاز في المكنن إحدى طرق استخدام تقنية الاستخلاص المعزز للنفط في سلطنة عمان من أجل:

- تخفيف لزوجته. تسهيل تدفقه.
- تغيير خصائصه. تكثيف لزوجته.

(١٠) النسبة المئوية التي تمثلها اليابسة من مساحة الكرة الأرضية:

- ٢٥ ٢٧
- ٢٩ ٣١

(١١) أفتتح مركز جلاله السلطان قابوس للزراعة المتطورة بدون تربة في عام ٢٠٠٣م بجامعة:

- ملبورن. هارفارد.
- الخليج العربي. السلطان قابوس.

(١٢) السفينة العمانية التي قامت برحلة بحرية إلى ميناء كانتون عام ١٩٨١م:

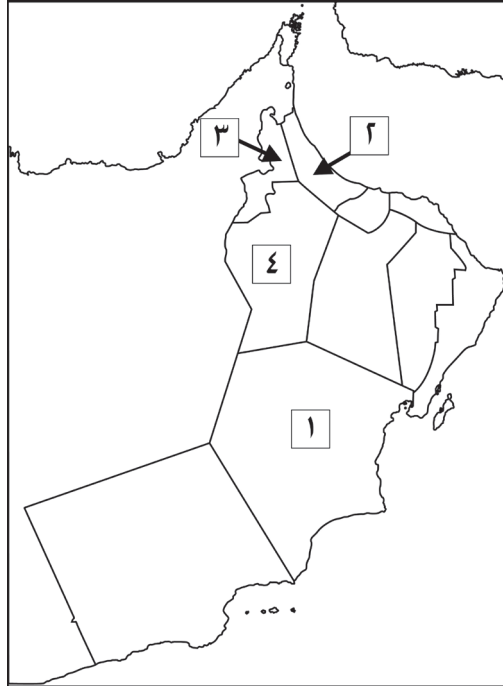
- فلك السلامة. سلطنة.
- شباب عمان. صحار.

(١٣) مراحل تطور استخدام الطاقة في العالم من الأحدث إلى الأقدم:

- النفط ← الفحم ← الكهرباء.
- الفحم ← النفط ← الكهرباء.
- الكهرباء ← النفط ← الفحم.
- النفط ← الكهرباء ← الفحم.

تابع السؤال الأول:

١٤) الرقم الذي يشير إلى المحافظة العمانية التي تتأثر بعض أجزاءها بالرياح الموسمية في فصل الصيف:

٢ ١ ٤ ٣

لا تكتب في هذا الجزء

السؤال الثاني:

(١٥) اذكر اثنين من:

أ. مقومات الحضارة البشرية.

ب. طرق حجز الكربون والتخلص منه.

(١٦) علل:

أ. زيادة الاحتباس الحراري.

ب. يتطلع العلماء مستقبلاً لإنتاج دم صناعي بواسطة الهندسة الوراثية.

(١٧) رتب الإنجازات في مسيرة الإعلام العماني بكتابة الأرقام (١ ، ٢ ، ٣ ، ٤) من الأقدم إلى الأحدث:

(____) - بداية الإرسال الإذاعي من صلالة.

(____) - صدور نشرة أخبار عمان.

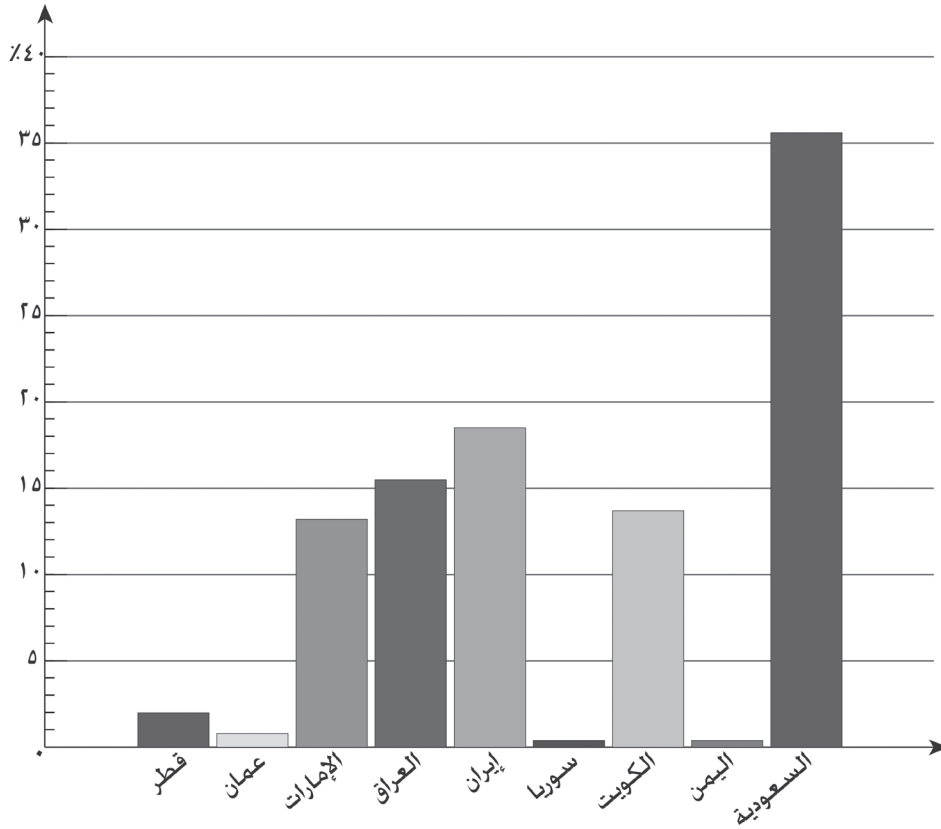
(____) - نقل وكالة الأنباء العمانية إلى وزارة الإعلام.

(____) - صدور صحيفة الوطن.

لا تكتب في هذا الجزء

تابع السؤال الثاني:

١٨) ادرس الشكل الذي أمامك والذي يمثل النسبة المئوية لمساهمات دول الشرق الأوسط في الاحتياطات المؤكدة من النفط:



أ. ما اسم المنظمة النفطية التي تنتمي إليها الدولة التي تبلغ نسبتها ١٨,٥% من الاحتياطات المؤكدة من النفط؟

ب. ما الدولتان العربيتان اللتان تزيد نسبة مساهمتهما عن ١٥%؟

لا تكتب في هذا الجزء

السؤال الثالث:

(١٩) دلل:

أ. أقيمت أول منشأة صناعية تعمل بقوة المد والجزر في فرنسا.

ب. يعد العصر الحجري الحديث بداية التنوع الثقافي في تاريخ الإنسانية.

(٢٠) أمامك جدول لعدد من الاختراعات التي ظهرت إبان الثورة الصناعية اكتب أسماء مخترعيها:

الاختراع	آلة البرق	الهاتف	المكوك الطائر	آلة البخار
المخترع				

(٢١) " إحدى طرق الحصول على الوقود الحيوي تعتمد على التحلل المائي للنباتات المحولة إلى عجينة بواسطة فطريات مجهرية، ويتم من خلالها الحصول على سكريات عضوية يتم تخميرها للحصول على هذا الوقود" في ضوء ذلك أجب عما يأتي:

أ. ما اسم هذه الطريقة؟

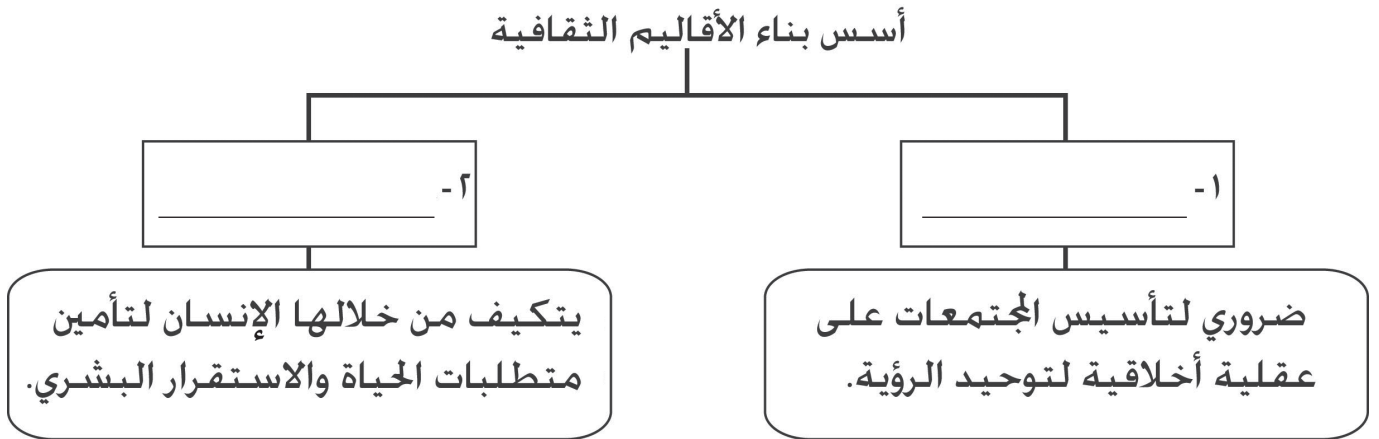
ب. ما الوقود الحيوي الذي أشار إليه النص؟

(٢٢) وضح العلاقة التفاعلية بين الثقافة والهوية الوطنية.

لا تكتب في هذا الجزء

تابع السؤال الثالث:

(٢٣) أكمل المخطط الآتي



السؤال الرابع:

(٢٤) اكتب بين القوسين المصطلح الصحيح لكل عبارة مما يلي:

- أ. (_____) الطاقة الكهربائية التي يستهلكها الجهاز في الساعة الواحدة.
- ب. (_____) أقدم كتابة عرفها التاريخ في نهاية الألف الرابع ق.م على شكل رموز تكتب على ألواح طينية.
- ج. (_____) مجموعة الأفكار والقيم وأنواع السلوك التي يمارسها الناس في الوطن الواحد تعبيراً عن موقف أو تحديداً لعلاقة خاصة مع الآخر.

(٢٥) استخدمت الطاقة الذرية في الميدان العسكري في أواخر النصف الأول من القرن العشرين بإلقاء القنبلة الذرية على هيروشيما وناجازاكي). في ضوء ذلك أجب عما يأتي:

أ. سم الدولة التي أُلقيت عليها هذه القنبلة الذرية.

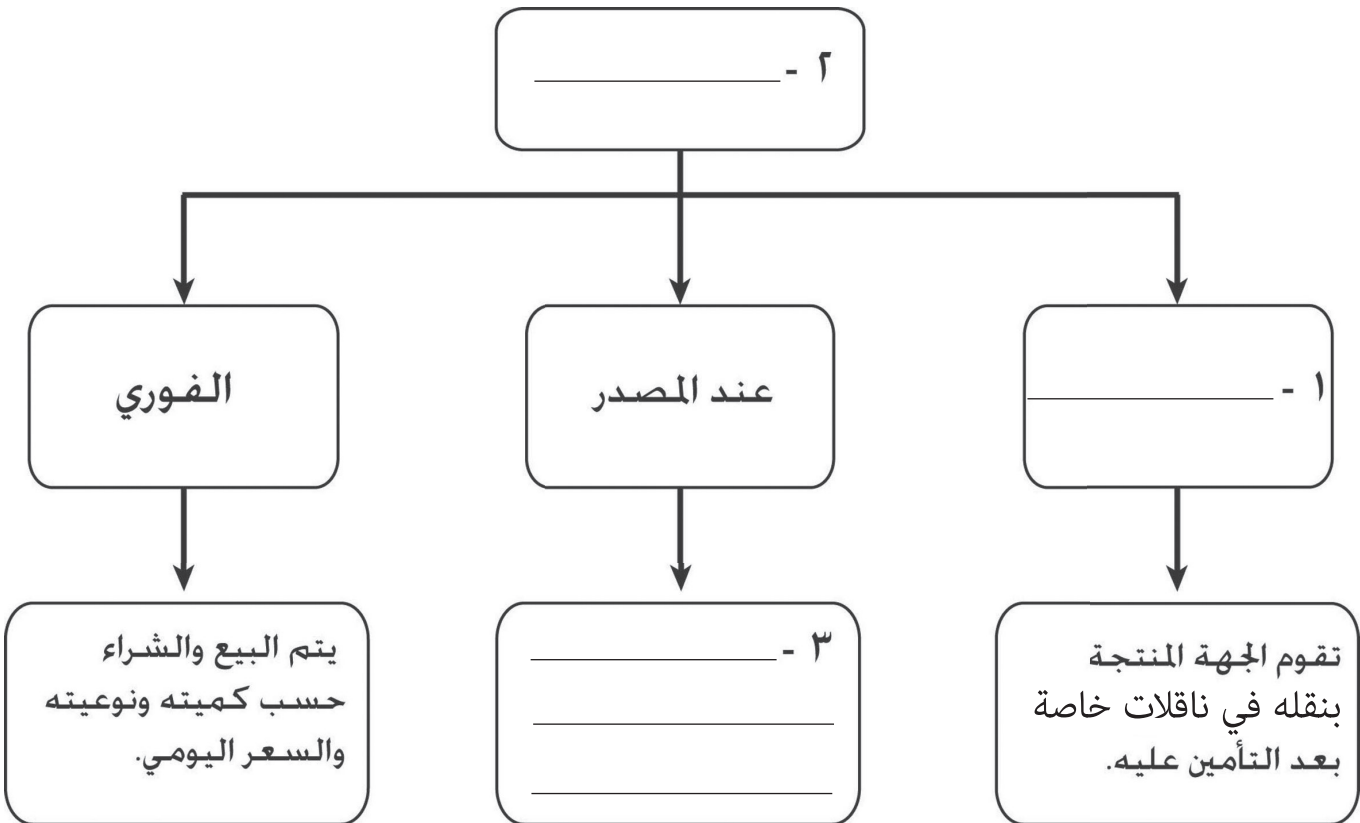
ب. في أي حرب عالمية تم إلقاء هذه القنبلة؟

لا تكتب في هذا الجزء

تابع السؤال الرابع:

٢٦) عدد أسباب التحولات التي تشهدها الأقاليم الثقافية.

٢٧) أكمل المخطط التالي:



لا تكتب في هذا الجزء

تابع السؤال الرابع:

٢٨) ادرس الخريطة التي أمامك ثم أجب عن الأسئلة التالية:



أ. ظلل الدولة التي يناهز عدد سكانها ٢٠٪ من سكان العالم .

ب. ما نوع النفط الخام في الدولة المشار إليها بالرقم (١)؟.

ج. ما الرقم الذي يشير إلى الدولة التي :-

(١) تنتمي إليها سفينة "البيكوك" والتي زارت مسقط عام ١٨٣٣م؟.

(٢) يمارس فيها سكان تشاينشيروس التجارة الإلكترونية في بيع الخضروات؟.

انتهت الأسئلة، مع تمنياتنا لكم بالتوفيق والنجاح.

لا تكتب في هذا الجزء

مُسَوِّدَةٌ

لا تكتب في هذا الجزء

لا تكتب في هذا الجزء

مُسَوِّدَةٌ

لا تكتب في هذا الجزء

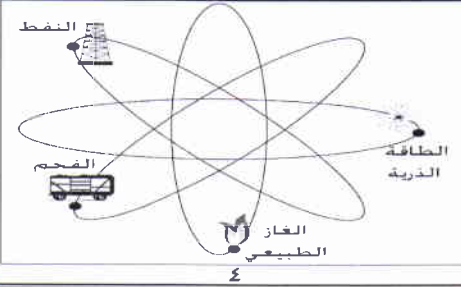
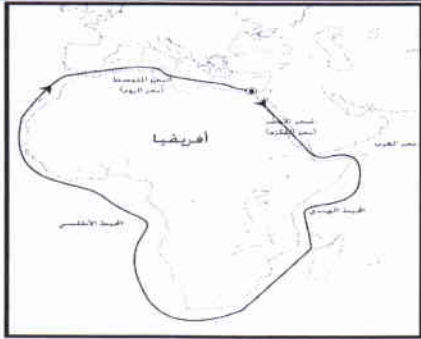
لا تكتب في هذا الجزء

نموذج إجابة امتحان دبلوم التعليم العام
للعام الدراسي ١٤٣٥/١٤٣٦ هـ - ٢٠١٤/٢٠١٥ م
الدور الأول - الفصل الدراسي الأول

الدرجة الكلية: (٧٠) درجة.

المادة: التاريخ (العالم من حولي).
تنبيه: نموذج الإجابة في (٨) صفحات.

إجابة السؤال الأول: مجموع درجاته (٢٨ درجة).

الصفحة	الدرجة	الإجابة	المفردة
١٥	٢	مجان	١
١٠٠	٢	أوروبا	٢
٣١	٢	أديسون	٣
٥٢	٢		٤
٦٦	٢	١٩٦٤م	٥
١١١	٢	باريس	٦
٤٢	٢	الصين	٧
٢١	٢		٨

(٢)
تابع نموذج إجابة امتحان دبلوم التعليم العام
للعام الدراسي ١٤٣٥/١٤٣٦ هـ - ٢٠١٤/٢٠١٥ م
الدور الأول - الفصل الدراسي الأول
المادة: التاريخ (العالم من حولي)



تابع اجابة السؤال الأول: -

المفردة	الإجابة	الدرجة	الصفحة
٩	تسهيل تدفقه	٢	٧١
١٠	٢٩%	٢	٩١
١١	الخليج العربي	٢	١٢٢
١٢	صحار	٢	١٢٥
١٣	النفط - الكهرباء - الفحم	٢	٥٤
١٤	١	٢	٩٥

(٣)
تابع نموذج إجابة امتحان دبلوم التعليم العام
للعام الدراسي ١٤٣٥/١٤٣٦ هـ - ٢٠١٤/٢٠١٥ م
الدور الأول - الفصل الدراسي الأول
المادة: التاريخ (العالم من حولي)
إجابة السؤال الثاني: مجموع درجاته (١٤) درجة.



الجزئية	المفردة	الإجابة الصحيحة	الدرجة	الصفحة
١٥	أ	- الزمن. - قدرة الإنسان وفكره (الإنسان). - البيئة (المكان).	٢	١٦
يكتفى بذكر اثنين لكل مفردة درجة واحدة.				
معيار التصحيح				
مفتاح التصحيح			(٢-١-٠)	

الجزئية	المفردة	الإجابة الصحيحة	الدرجة	الصفحة
١٥	ب	١- دفنه في المحيطات. ٢- تخزينه في مكامن النفط أو الغاز الناضبة (الفارغة). ٣- تخزينه في التشكيلات الجيولوجية (التجويفات الصخرية ، باطن الأرض) ٤- إعادة حقنه في مكامن النفط المنتجة / الضخ في خزانات غاز و نفط نظيفة. ٥- الضخ في تجويفات ملئية بالفحم واستخراج الميثان. ٦- ابتكار أجهزة لحجز الكربون.	٢	٦١
يكتفى بذكر اثنين لكل مفردة درجة واحدة.				
معيار التصحيح				
مفتاح التصحيح			(٢-١-٠)	

الجزئية	المفردة	الإجابة الصحيحة	الدرجة	الصفحة
١٦	أ	تزايد انبعاثات الغازات المسببة للاحتباس الحراري مثل غاز ثاني أكسيد الكربون والميثان وغيرها في الغلاف الجوي.	٢	٨١
يكتفى بواحدة ويراعى ما يفيد المعنى				
معيار التصحيح				
مفتاح التصحيح			(٢-٠)	

الجزئية	المفردة	الإجابة الصحيحة	الدرجة	الصفحة
١٦	ب	- سد العجز الذي قد يحصل في توفر الدم الطبيعي للمريض أو يجده ملوثاً. - أهميته وحاجة الإنسان المستمرة إليه باعتباره الناقل الرئيسي للأكسجين والغذاء والحامل للفضلات.	٢	٤٥
يكتفى بواحدة ويراعى ما يفيد المعنى				
معيار التصحيح				
مفتاح التصحيح			(٢-٠)	

(٤)
تابع نموذج إجابة امتحان دبلوم التعليم العام
للعام الدراسي ١٤٣٥/١٤٣٦ هـ - ٢٠١٤/٢٠١٥ م
الدور الأول - الفصل الدراسي الأول
المادة: التاريخ (العالم من حولي)

تابع إجابة السؤال الثاني:



الصفحة	الدرجة	الإجابة الصحيحة	الجزئية
١٣٠	١	(٢)	١٧
١٣١	١	(١)	
١٣١	١	(٤)	
١٣١	١	(٣)	
- صدور نشرة أخبار عمان. - بداية الإرسال الإذاعي من صلالة. - صدور صحيفة الوطن. - نقل وكالة الأنباء العمانية إلى وزارة الإعلام.			
إذا أعاد الطالب كتابة العبارات بترتيب صحيح يعطى الدرجة كاملة.			معياري التصحيح
(٤-٣-٢-١-٠)			مفتاح التصحيح

الصفحة	الدرجة	الإجابة الصحيحة	المفردة	الجزئية
٧٨-٦٦	١	الأوبك (OPEC) (منظمة الدول المصدرة للنفط)	أ	١٨
٧٨	١ لكل نصف درجة.	السعودية / العراق.	ب	
(٢-١,٥-١-٠-٠)			مفتاح التصحيح	

إجابة السؤال الثالث: مجموع درجاته (١٤) درجة.

الصفحة	الدرجة	الإجابة الصحيحة	المفردة	الجزئية
٩٢-٩١	٢	إنشاء معمل الرانس / بالقرب من سان مالو عند مصب نهر الرانس منذ عام ١٩٦٦ م.	أ	١٩
إذا لم يكتب الطالب الرانس يعطى درجة واحدة فقط.			معياري التصحيح	
(٢-١-٠)			مفتاح التصحيح	

(٥)
تابع نموذج إجابة امتحان دبلوم التعليم العام
للعام الدراسي ١٤٣٥/١٤٣٦ هـ - ٢٠١٤/٢٠١٥ م
الدور الأول - الفصل الدراسي الأول
المادة: التاريخ (العالم من حولي)



تابع : إجابة السؤال الثالث :

الجزئية	المفردة	الإجابة الصحيحة	الدرجة	الصفحة	
١٩	ب	- وجود آثار واضحة المعالم يختلف بعضها عن بعضها الآخر من حيث أشكال الأدوات وأنواع المسكن وطابع الفن والممارسات الدينية. - وجود آثار تتقارب وتتشابه ولكنها تختلف في خصائصها الذاتية.	٢	١٠٢	
		يكتفى بإجابة واحدة يراعى ما يفيد المعنى.			
		(٢-٠)			
		مفتاح التصحيح			

الجزئية	الإجابة الصحيحة	الدرجة	الصفحة										
٢٠	<table border="1"> <tr> <td>الاختراع</td> <td>آلة البرق</td> <td>الهاتف</td> <td>المكوك الطائر</td> <td>آلة البخار</td> </tr> <tr> <td>المخترع</td> <td>مورس (موريس) (Morse)</td> <td>غراهام بل (جراهام بل)</td> <td>جون كاي (John Kay)</td> <td>توماس نيوكمن (Thomas Newcomen)</td> </tr> </table>	الاختراع	آلة البرق	الهاتف	المكوك الطائر	آلة البخار	المخترع	مورس (موريس) (Morse)	غراهام بل (جراهام بل)	جون كاي (John Kay)	توماس نيوكمن (Thomas Newcomen)	٤ لكل درجة.	٢٩-٢٨
الاختراع	آلة البرق	الهاتف	المكوك الطائر	آلة البخار									
المخترع	مورس (موريس) (Morse)	غراهام بل (جراهام بل)	جون كاي (John Kay)	توماس نيوكمن (Thomas Newcomen)									
		(٤-٣-٢-١-٠)											
		مفتاح التصحيح											

الجزئية	المفردة	الإجابة الصحيحة	الدرجة	الصفحة
٢١	أ	العضوية الباردة.	١	٨٦
	ب	الإيثانول.	١	٨٦
		يشترط كتابة المسمى كاملا في المفردة (أ).		
		(٢-١-٠)		
		مفتاح التصحيح		

(٦)
تابع نموذج إجابة امتحان دبلوم التعليم العام
للعام الدراسي ١٤٣٥/١٤٣٦ هـ — ٢٠١٤/٢٠١٥ م
الدور الأول — الفصل الدراسي الأول
المادة: التاريخ (العالم من حولي)



تابع إجابة السؤال الثالث:

الجزئية	الإجابة الصحيحة	الدرجة	الصفحة
٢٢	<ul style="list-style-type: none"> - الهوية لا تتعارض في مكوناتها الثقافية مع خصائص الهوية الوطنية أو القومية فالهوية المنبثقة من الثقافة الإنسانية العريقة تكون قادرة على الانفتاح والتواصل مع التاريخ ومعطيات الحاضر الموسوم بالجهد والمثابرة، والقدرة على المشاركة في صنع الحضارة الإنسانية - الثقافة شأن وطني ومجتمعي عظيم فهي صانعة هوية يصنعها الإنسان وتصنعه. - الهوية الوطنية مدينة للثقافة التي أوجدتها. - الثقافة بانية للأوطان وحافطة لتراثها وتاريخها وهويتها. 	٢	١١٣
معيار التصحيح	يكتفى بذكر إجابة واحدة وبما يفيد المعنى. إذا كتب الطالب نوع العلاقة بدون توضيح تعد الإجابة خاطئة.		
مفتاح التصحيح	(٢-٠)		

الجزئية	المفردة	الإجابة الصحيحة	الدرجة	الصفحة
٢٣	١ ٢	<p>أسس بناء الأقاليم الثقافية</p> <pre> graph TD A[أسس بناء الأقاليم الثقافية] --> B[١- الإلتزام إلى الذات.] A --> C[٢- البيئة.] B --- D[] C --- D style D fill:none,stroke:none </pre>	١ ١	١١٠ ١١٠
معيار التصحيح		ضرورة التزام الطالب بموقع الإجابات الصحيحة كما في الشكل. وإذا كتب الطالب في (٢) إجابة المكان تعتبر صحيحة.		
مفتاح التصحيح		(٢-١-٠)		

إجابة السؤال الرابع : مجموع درجاته (١٤) درجة.

الجزئية	المفردة	الإجابة الصحيحة	الدرجة	الصفحة
٢٤	أ ب ج	الواط (الوات). المسمارية/ السومرية. الثقافة الوطنية.	١ ١ ١	٥٥ ٢٠ ١٠٣
معيار التصحيح		يشترط كتابة المصطلح صحيحاً.		
مفتاح التصحيح		(٣-٢-١-٠)		

(٧)
تابع نموذج إجابة امتحان دبلوم التعليم العام
للعام الدراسي ١٤٣٥/١٤٣٦ هـ - ٢٠١٤/٢٠١٥ م
الدور الأول - الفصل الدراسي الأول
المادة: التاريخ (العالم من حولي)



تابع إجابة السؤال الرابع:

الصفحة	الدرجة	الإجابة الصحيحة	المفردة	الجزئية
٣٢	١		أ اليابان.	٢٥
٣٢	١		ب الثانية.	
(٢-١-٠)				مفتاح التصحيح

الصفحة	الدرجة	الإجابة الصحيحة	الجزئية
-١١٦ ١١٧	٢	الاستقرار البشري / التنمية الثقافية / العولمة والتطور التقني والمعلوماتي / التطور الصناعي والسلعي.	٢٦
يكتفى باثنين لكل درجة.			معيار التصحيح
(٢-١-٠)			مفتاح التصحيح

الصفحة	الدرجة	الإجابة الصحيحة	الجزئية
٦٩	١ ١ ١	<p>٢- بيع النفط - طرق/ أساليب - أشكال النفط - شراء النفط</p> <p>١- عند مناطق التصنيع</p> <p>٢- يتم البيع من موانئ التصدير ويدفع المشتري تكلفة النقل والتأمين.</p>	٢٧
في المفردة (٢) يكتفى بواحدة فقط . في المفردة (٣) إذا كتب الطالب البيع من موانئ التصدير فقط يعطى نصف درجة .			معيار التصحيح
(١-٠)١ ، (١-٠)٢ ، (١-٠)٣ ، (٠-٥)١			مفتاح التصحيح

(٨)
تابع نموذج إجابة امتحان دبلوم التعليم العام
للعام الدراسي ١٤٣٥/١٤٣٦ هـ - ٢٠١٤/٢٠١٥ م
الدور الأول - الفصل الدراسي الأول
المادة: التاريخ (العالم من حولي)



تابع إجابة السؤال الرابع:

الصفحة	الدرجة	الإجابة الصحيحة	المفردة	الجزئية
				٢٨
٥١	١	انظر الخريطة	أ	
٧٠	١	متوسط	ب	
١٢٥	١	٥	ج-١	
٤٢	١	٢	ج-٢	
	٤ (١-٠)	٣ (١-٠)	٢ (١-٠)	١ (١-٠)
				مفتاح التصحيح

نهاية نموذج الإجابة