

سلطنة عُمان

وزارة التربية والتعليم

الدراسة العامة للتربية والتعليم بمحافظة الأحواز

امتحان الصف التاسع

للعام الدراسي ١٤٣٦/١٤٣٧هـ - ٢٠١٥/٢٠١٦م

الفصل الدراسي الأول - الدور الأول

- المادة : الدراسات الاجتماعية
- عدد الصفحات : ٥ صفحات
- زمن الإجابة : ساعة ونصف
- * الإجابة في الورقة نفسها

		اسم الطالب
الشعبة		المدرسة

(التوقيع بالاسم)		الدرجة بالحروف بالأحمر	الدرجة بالأرقام بالأحمر	السؤال
المصحح (بالأخضر)	المصحح (بالأحمر)			
				1
				2
				3
				4
				5
				6
	مراجعة الجمع والتشطيب (بالأزرق)	جمعه (بالأحمر)		المجموع الكلي

يعتمد ،،،

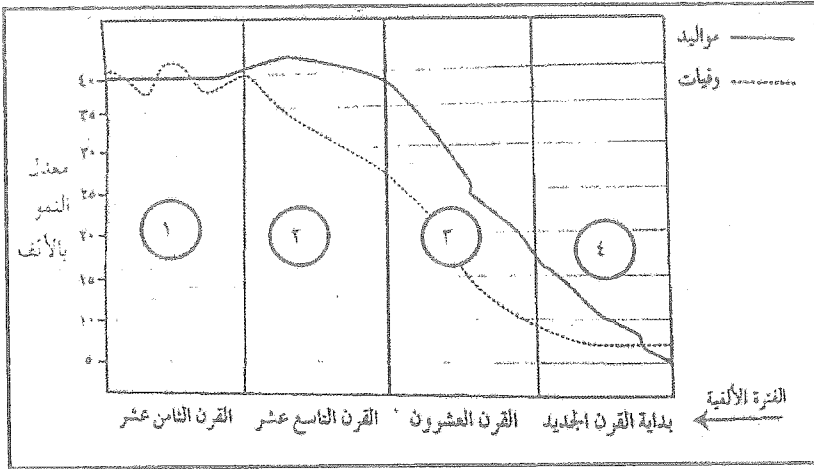
المعظم الأول

تعليمات وضوابط التقدم للامتحان

- ١- الحضور إلى قاعة الامتحان قبل ربع ساعة من بدء الامتحان .
- ٢- يمنع إدخال الكتب الدراسية أو الكراسات أو المذكرات داخل قاعة الامتحان ، كما يمنع إدخال الهواتف المحمولة أو أي شيء له علاقة بالامتحان .
- ٣- التقيد بالزي الرسمي (الدشداشة البيضاء والكمة للطلاب والمصر للدارسين ، والزي المدرسي للطالبات واللباس العماني للدارسات ، ويمنع النقاب داخل قاعة الامتحان .
- ٤- لا يسمح للمتقدم المتأخر عن موعد بداية الامتحان بالدخول إلا إذا كان التأخير بعذر قاهر يقبله مدير المدرسة وفي حدود ربع ساعة .
- ٥- ضرورة التأكد من عدد أوراق الأسئلة قبل البدء بالإجابة .
- ٦- استخدام قلم الحبر (الأزرق ، الأسود) للإجابة عن الأسئلة مع عدم استخدام

(المزبل) .

السؤال الاول: ضع دائرة حول رمز الاجابة الصحيحة لكل مفردة من المفردات الآتية:
١- الرقم الذي يشير إلى المرحلة النموذجية للانتقال السكاني لسلطنة عمان في الشكل البياني الذي امامك:



(ب) ٢

(أ) ١

(د) ٤

(ج) ٣

٢- انقسمت الإمبراطورية العمانية بعد وفاة السيد سعيد بن سلطان بين أبنائه:
(أ) ثويني علي عمان وماجد علي زنجبار (ب) ثويني علي زنجبار وماجد علي عمان
(ج) ثويني علي عمان وتركي علي زنجبار (د) ثويني علي زنجبار وتركي علي عمان

٣- العام الميلادي الذي انضمت فيه سلطنة عمان لمشروع شبكة المدارس المنتسبة لليونسكو (ASP net):

(د) ٢٠٠٨

(ج) ١٩٩٨

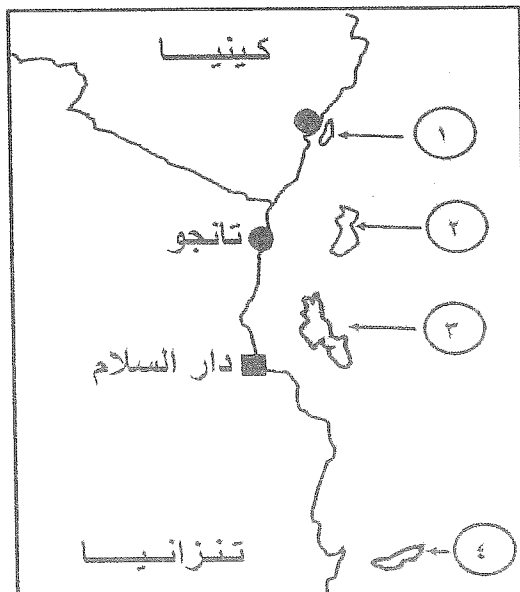
(ب) ١٩٨٨

(أ) ١٩٧٨

٤- يعد "الزواج، الطلاق، الترمل، نقل مكان الإقامة" مثالا على:
(أ) التسجيل الحيوي. (ب) المسح بالعينة. (ج) البنية العمرية. (د) البنية الاقتصادية.

٥- قدمت سلطنة عمان مساعدات إنسانية للمتضررين تسونامي ٢٠٠٤م في دول:
(أ) جنوب غرب اسيا (ب) جنوب شرق اسيا (ج) شمال شرق اسيا (د) شمال غرب اسيا

٦- الرقم الذي يشير في الخريطة على الجزيرة التي اتخذها سعيد بن سلطان عاصمة له في افريقيا:



(ب) ٢


(أ) ١

(د) ٤


(ج) ٣

تابع السؤال الأول

٧- المسطرة الزمنية التي تشير إلى التسلسل الصحيح للأحداث التاريخية:



سيطرة البوكيرك على زنجبار رحلة أحمد بن النعمان الى نيويورك وفاة السيد سعيد بن سلطان



وفاة السيد سعيد بن سلطان رحلة أحمد بن النعمان الى نيويورك سيطرة البوكيرك على زنجبار



سيطرة البوكيرك على زنجبار وفاة السيد سعيد بن سلطان رحلة أحمد بن النعمان الى نيويورك



رحلة أحمد بن النعمان الى نيويورك سيطرة البوكيرك على زنجبار وفاة السيد سعيد بن سلطان

٨- التفسير الصحيح لنسبة النوع العامة في بعض محافظات السلطنة عام ٢٠١٠ م من خلال بيانات الجدول الآتي:

المحافظة	عدد الذكور	عدد الاناث	نسبة النوع العامة
مسقط	٤٧٥،١٤٦	٣٠٠،٧٣٢	١٧٥،٩
الداخلية	١٨١،٩٥٥	١٤٤،٦٩٦	١٢٥،٧
الوسطى	٣١،٩٩٤	١٠،١١٧	٣١٦،٢
ظفار	١٥٠،٣٧١	٩٩،٣٥٨	١٥١،٢

- (أ) ارتفاع نسبة النوع في محافظة الوسطى .
 (ب) تساوي نسبة النوع في جميع المحافظات .
 (ج) انخفاض نسبة النوع في محافظة الوسطى .
 (د) انخفاض نسبة النوع في جميع المحافظات .

السؤال الثاني: أجب على الاسئلة الآتية:

١- اكتب اسم المصطلح مقابل التعريف المناسب له:

التعريف	المصطلح
أ	الفرق بين الهجرة الخارجية والهجرة الداخلية للدولة.....
ب	جمع البيانات والمعلومات بكل تفاصيلها المتعلقة بجميع مفردات مجتمع معين في وقت محدد.....

تابع السؤال الثاني

٢- أجب عن الاسئلة الآتية:

أ- "تتأثر بنية السكان بمتغيرات عدة" اذكر اثنين من العوامل المؤثرة في البنى السكانية.

ب- "اهتمت سلطنة عمان منذ بزوغ فجر النهضة المباركة بصون البيئة الدولية" اعط دليلا واحدا على ذلك.

٣- اكتب في الجدول الذي امامك اسم الشخصية المرتبطة بكل انجاز:

الإنجازات التاريخية	الشخصية
لعب دورا عالميا في تجارة العاج، واسس امارة عربية اسلامية في أعالي الكونغو.
تأسست في عهده المطبعة السلطانية في زنجبار.
تم منحه جائزة السلام الدولية عام ١٩٩٨م.

السؤال الثالث:

١- الجدول الذي امامك يمثل عدد السكان في بعض محافظات السلطنة لعام ٢٠١٠، أدرسه جيدا ثم أجب عن الاسئلة الآتية:

عدد السكان	المساحة كم ²	المحافظة
٧٧٥٨٧٨	٣٥٠٠	مسقط
٣١٤٢٥	١٨٠٠	مسندم
٣٢٦٦٥١	٣١٩٠٠	الداخلية
٤٢١١١	٧٩٧٠٠	الوسطى
٢٤٩٧٢٩	٩٩٣٠٠	ظفار

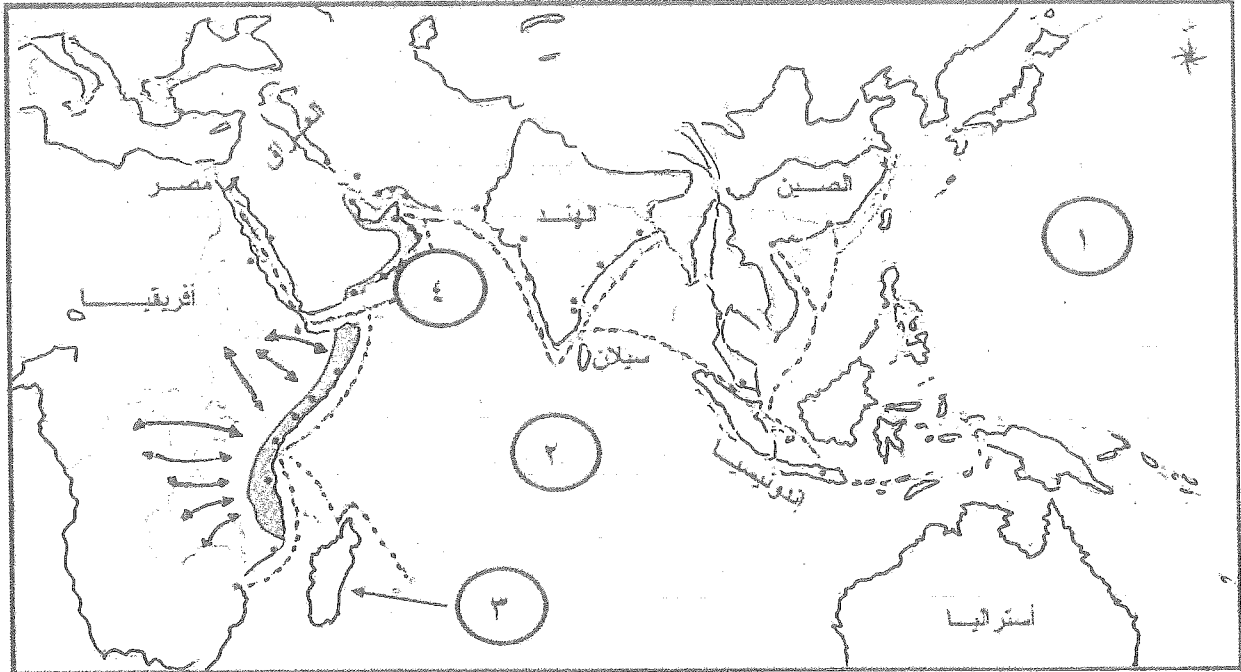
أ- ما المحافظة التي تأتي في المرتبة الأولى من حيث اعداد السكان؟

ب- احسب الكثافة السكانية لمحافظة الداخلية.

ج- ما المحافظة التي يوجد بها أقل كثافة سكانية؟

تابع السؤال الثالث:

٢- أمامك خريطة توضح الطرق والمراكز التجارية العمانية في عهد السيد سعيد بن سلطان، ادرسها جيدا ثم اجب عن الأسئلة التي تليها:



أ- ما الرقم الذي يشير إلى:

- ١- المحيط الهندي.....
٢- بحر العرب.....

ب - ما اسم الجزيرة المشار إليها بالرقم (٣) والتي كانت لها علاقات واسعة مع السيد سعيد بن سلطان؟

.....

ج - ما الدلالات التي تشير إليها الرموز الموضحة في الجدول الآتي:

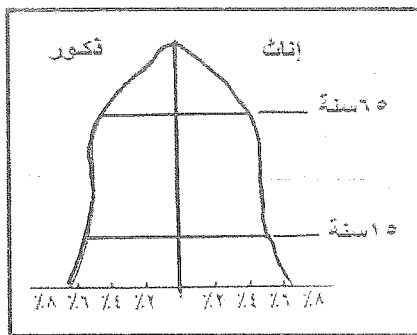
دلالة الرمز	شكل الرمز في الخريطة
.....	↔
.....

السؤال الرابع:

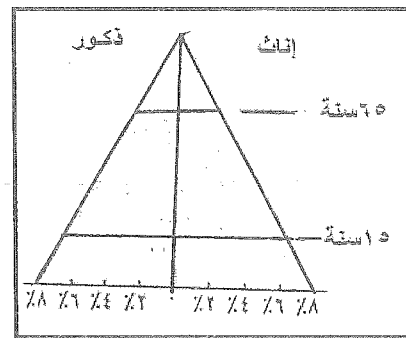
١- صنف المعطيات الآتية حسب اختصاصات المنظمة العالمية التي تنتمي إليها:
(العناية الأطفال والامهات - تنشيط التربية وحفظ المعرفة - تنمية الزراعة والغابات وصيد الاسماك - الاهتمام بالتجارة العالمية)

المنظمة	اختصاصتها
اليونسكو
الفاو
الجات
اليونيسيف

٢- من خلال الاشكال التي امامك و الموضحة لنوعين من الاهرامات السكانية اجب عن الأسئلة التي تليهما:



(٢)



(١)

أ- أي الهرمين يعد نموذجا لسلطنة عمان؟

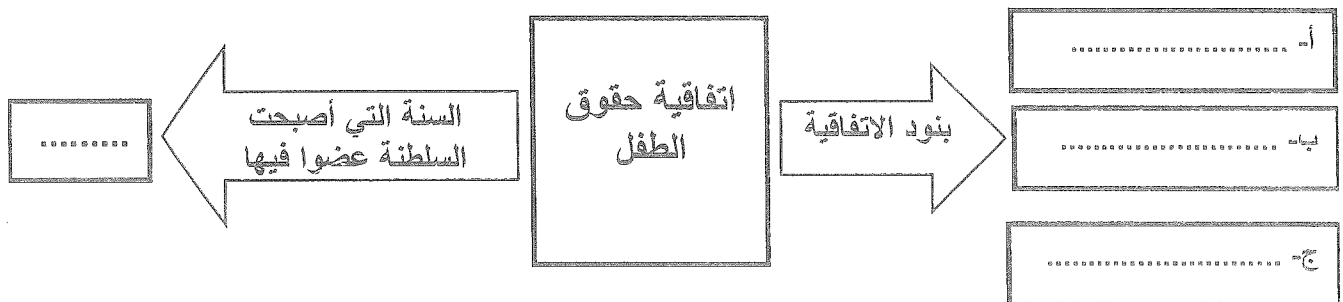
(٢)

(١)

ضع علامة √ امام الإجابة الصحيحة.

ب- فسر اجابتك.

٣- أكمل المخطط الذي أمامك:



"انتهت أسئلة الامتحان مع تمنياتنا لكم بالتوفيق والنجاح"

نموذج اجابة امتحان الصف التاسع لمادة الدراسات الاجتماعية
 الفصل الدراسي الاول الدور الاول العام الدراسي ٢٠١٥-٢٠١٦م

نموذج اجابة

السؤال الثالث:

الدرجة	الصفحة	الإجابة الصحيحة	الجزئية						
١	٣٦	أ- محافظة مسقط	١						
٢ كتابة القانون درجة وكتابة العملية الحسابية درجة	٣٢	ب- الكثافة السكانية = عدد السكان ÷ المساحة الكثافة السكانية لمحافظة الداخلية = ٣٢٦,٦٥١ ÷ ٣١٩٠٠٠ = ٠,٢٠٢ نسمة/كم ² (يكتفى بكتابة العملية الحسابية دون إيجاد الناتج)							
١	٣٦	ج- محافظة مسندم							
١	٤٤	١- رقم ٢	أ						
		٢- رقم ٤							
١	-٤٤ ٤٥	أ- جزيرة مدغشقر							
٢ لكل جزئية نصف درجة	٤٤	ج- <table border="1" style="width: 100%;"> <thead> <tr> <th>دلالة الرمز</th> <th>شكل الرمز في الخريطة</th> </tr> </thead> <tbody> <tr> <td>طرق التجارة البرية العمانية</td> <td>← →</td> </tr> <tr> <td>طرق التجارة البحرية العمانية</td> <td>.....</td> </tr> </tbody> </table>	دلالة الرمز	شكل الرمز في الخريطة	طرق التجارة البرية العمانية	← →	طرق التجارة البحرية العمانية	٢
دلالة الرمز	شكل الرمز في الخريطة								
طرق التجارة البرية العمانية	← →								
طرق التجارة البحرية العمانية								
٨ درجات			المجموع						

نموذج اجابة امتحان الصف التاسع لمادة الدراسات الاجتماعية
الفصل الدراسي الاول الدور الاول العام الدراسي ٢٠١٥-٢٠١٦م

نموذج اجابة

السؤال الثاني:

الدرجة	الصفحة	الإجابة الصحيحة	الجزئية
١	٢٨	أ- صافي الهجرة	١
١	١١	ب- التعداد	
٢ لكل جزئية درجة	١٥	أ- المواليذ، الوفيات، الهجرة بانواعها الداخلية والخارجية (يكتفي بذكر اثنين فقط)	٢
١	٨٩	ب- اول دولة عربية تخصص جائزة دولية لصون البيئة/تم اختيار السلطنة من بين الدول العشر الأكثر اهتماما وعناية بالبيئة على المستوى الدولي (يكتفي بذكر دليلا واحدا فقط)	
١	٥٣	الشخصية حميد بن محمد المرجبي	٣
١	٥٦	الإجازات التاريخية لعب دورا عالميا في تجارة العاج، واسس امارة عربية إسلامية في أعالي الكونغو.	
١	٥٦	السلطان برغش بن سعيد	
١	٨٨	تم منحه جائزة السلام الدولية عام ١٩٩٨م.	
		السلطان قابوس بن سعيد	
٨ درجات			المجموع

نموذج اجابة امتحان الصف التاسع لمادة الدراسات الاجتماعية
الفصل الدراسي الاول الدور الاول العام الدراسي ٢٠١٥-٢٠١٦م

نموذج اجابة

السؤال الاول :

رقم السؤال	رمز الإجابة الصحيحة	الإجابة الصحيحة	الدرجة	رقم الصفحة
١	ب	٢	٢	٢٥
٢	أ	ثويني على عمان وماجد على زنجبار	٢	٦٢
٣	ج	١٩٩٨م	٢	٨٣
٤	أ	التسجيل الحيوي	٢	١٣
٥	ب	جنوب شرق اسيا	٢	٧٦
٦	ج	٣	٢	٤٩
٧	أ		٢	٤٠ ٤٤ ٤٥
٨	أ	ارتفاع نسبة النوع في محافظة الوسطى.	٢	١٧
المجموع				١٦ درجة

نموذج اجابة امتحان الصف التاسع لمادة الدراسات الاجتماعية

الفصل الدراسي الاول الدور الاول العام الدراسي ٢٠١٥-٢٠١٦م

السؤال الرابع:

الدرجة	الصفحة	الإجابة الصحيحة		الجزئية
نصف درجة	٨٢	اختصاصتها	المنظمة	١
		تنشيط التربية وحفظ المعرفة	اليونسكو	
نصف درجة	٨٤	تنمية الزراعة والغابات وصيد الاسماك	الفاو	
نصف درجة	٩١	الاهتمام بالتجارة العالمية	الجات	
نصف درجة	٨٥	العناية بالأطفال والامهات	اليونسيف	
١	٢٣		١ - أ	٢
١	٢٣	ب- لان المجتمع العماني مجتمع فتي تزيد فيه نسبة صغار السن وتقل به نسبة كبار السن		
٤ درجات لكل جزئية درجة واحدة				٣
٨ درجات				المجموع

نهاية نموذج الإجابة.