

امتحان نهاية الفصل الدراسي الأول - الدور الأول - العام الدراسي ٢٠١٣ / ٢٠١٤ م

السؤال الأول: ضع دائرة حول رمز الإجابة الصحيحة فيما يلي : (١٦ درجة)

١ - الفئة المعالة في المجتمع من بين الفئات العمرية التالية :

(أ) ١٠-٦٤ (ب) ٤٠-٦٠

(ج) ٦٠-٦٤ (د) ٦٥ +

٢- المرحلة السكانية الإنتقالية التي تمتاز بارتفاع في معدلات المواليد والوفيات هي

المرحلة :

(أ) الأولى (ب) الثانية

(ج) الثالثة (د) الرابعة

٣- إذا كان عدد سكان مجتمع ما ١٠٠٠٠٠٠٠ نسمة منهم ٥٢٠٠٠٠٠ ذكور، وبلغ عدد الإناث ٤٨٠٠٠٠٠ نسمة وبناء عليه تكون نسبة النوع :

(أ) ١٠٠-١٠٦ (ب) ١٠٠-١٠٨

(ج) ١٠٠-١١٠ (د) ١٠٠-١١٢

٤- الدولة التي من المتوقع ان تكون الأعلى في عدد السكان على مستوى العالم عام ٢٠٥٠م:

(أ) الصين (ب) الهند

(ج) الولايات المتحدة (د) اندونيسيا

٥- القائد البرتغالي الذي أخضع الساحل الشرقي الإفريقي للسيطرة البرتغالية منذ عام ١٥٠١م :

(أ) فاسكو دي جاما (ب) جيمي كارتر

(ج) البوكيرك (د) ماجلان

يتبع،،،

تابع السؤال الاول :

٦- الجزيرة الإفريقية في الخريطة التي أمامك والمشار

إليها بالرقم (١) هي :

(ب) زنجبار

(أ) بمبا

(د) مدغشقر

(ج) مافيا



٧- قائد السفينة العمانية سلطنة التي توجهت الى نيويورك عام ١٨٤٠م :

(ب) الشيخ حسن الفارسي

(أ) السيد حمد بن سليمان

(د) محيي الدين القحطاني

(ج) أحمد بن النعمان الكعبي

٨- يطلق على المجلس الدولي الحكومي لتنمية الإتصال اسم :

(ب) موسست

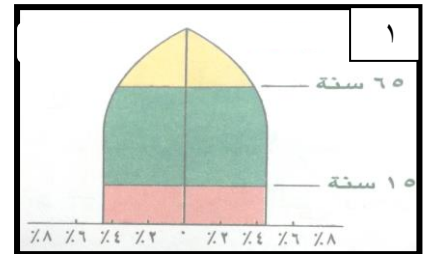
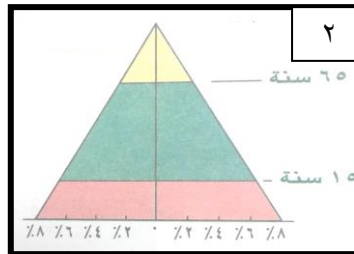
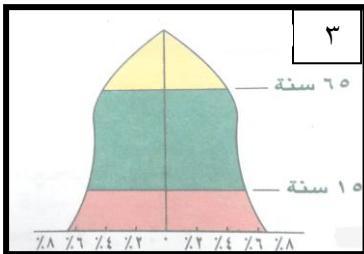
(أ) بدتا

(د) لجنة المقر

(ج) الماب

السؤال الثاني : أجب عن الأسئلة التالية : (٨ درجات)

ادرس الأهرامات السكانية التالية جيدا ، ثم أجب عن الأسئلة التالية :



(أ) اكتب تحت كل هرم نوعه.

يتبع،،،

تابع السؤال الثاني :

(ب) بماذا يمتاز الهرم السكاني المشار اليه بالرقم (٢) ؟

.....

(ج) ما رقم الهرم السكاني الذي يحظى بنسبة كبيرة من السكان في الفئة العمرية من (٠-٩) ؟

.....

(د) في أي جهة يتم وضع مسمى الذكور والاناث في الازهرام السكانية مطبقة ذلك على الاشكال السابقة .

السؤال الثالث : أجب عن الاسئلة التالية : (٨ درجات)

(أ) اذكر اثنين من كل من :

١- الهجرات العربية وأهل فارس إلى شرقي افريقيا .

.....

.....

٢- الصحف التي ظهرت في شرقي افريقيا زمن دولة البوسعيد .

.....

.....

(ب) أستبدل بالعبارات التالية الاسم أو المصطلح الدال على كل منها :

١- اصبح سلطاناً على عمان عام ١٨٥٦م .

.....

٢- اصبح سلطاناً على زنجبار بعد وفاة والده السيد سعيد بن سلطان.

.....

يتبع،،،

تابع السؤال الثالث :

(ج) علل ما يلي :

١- حمل العمانيون الأخشاب من شرقي أفريقيا إلى بلادهم .

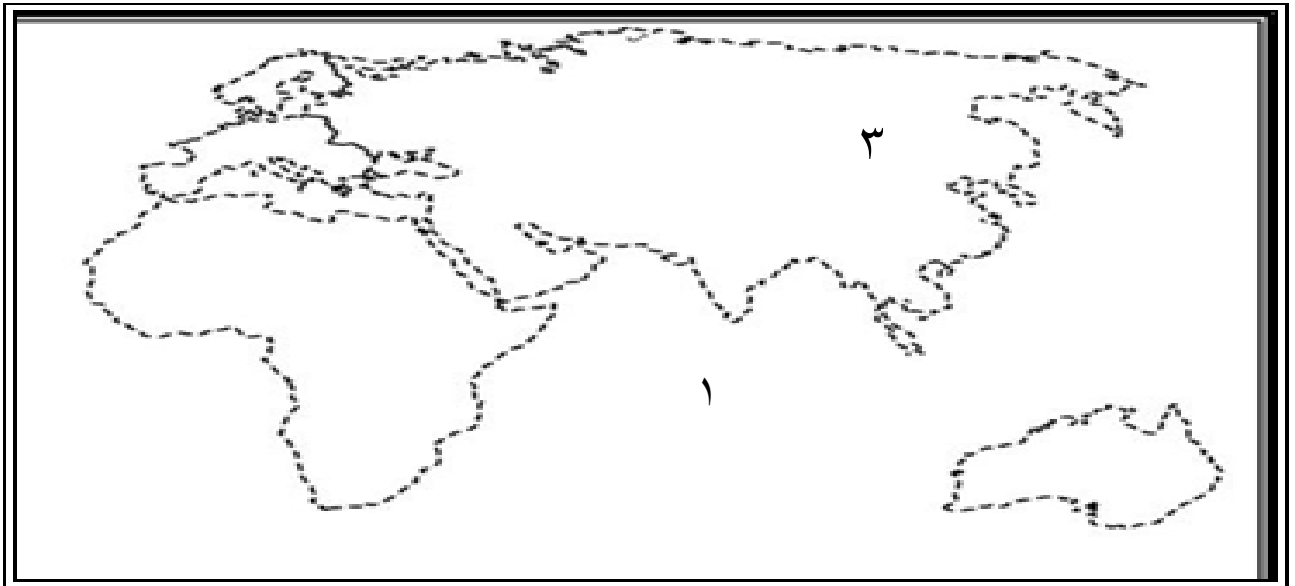
.....
.....

٢- تعد جلود النمر من السلع الأساسية في تجارة العمانيين مع شرقي أفريقيا .

.....
.....

السؤال الرابع : ادرس الخريطة الموضحة أمامك جيداً ،

ثم أجب عن الأسئلة التي تليها : (٨ درجات)



(أ) المسطح المائي المشار إليه بالرقم (١)

(ب) أكتب قارة أفريقيا في مكانها الصحيح على الخريطة

(ج) القارة المشار إليها بالرقم (٣)

(د) ضع الرقم (٢) على موقع سلطنة عمان

تابع السؤال الرابع :

٢ : عرف المفاهيم والمصطلحات التالية :

أ : اليونسكو:

.....

ب : اليونسف :

.....

٣ - ما فوائد طريقة المسوحات بالعينة في الحصول على البيانات السكانية ؟

.....

.....

انتهت الأسئلة مع تمنياتنا للجميع بالتوفيق والنجاح

سلطنة عمان
وزارة التربية والتعليم
المديرية العامة للتربية والتعليم لمحافظة الظاهرة
دائرة التقويم التربوي

امتحان نهاية الفصل الدراسي الأول - الدور الأول - العام الدراسي ٢٠١٣ / ٢٠١٤ م

الصف : التاسع	المادة : الدراسات الاجتماعية	الزمن : ساعة ونصف	الدرجة : ٤٠
---------------	------------------------------	-------------------	-------------

{ نموذج الإجابة }

إجابة السؤال الأول : (١٦ درجة) لكل مفردة درجتان

رقم المفردة	١	٢	٣	٤	٥	٦	٧	٨
رمز الاجابة	د	أ	ب	ب	ج	ب	ج	أ
الاجابة	٦٥+	الاولى	١٠٨	الهند	البوكيرك	زنجبار	أحمد بن النعمان	بدنا
الدرجة	٢	٢	٢	٢	٢	٢	٢	٢
الصفحة	١٥	٢٥	١٦	٣١	٤٠	٤٩	٤٤	٨٣

السؤال الثاني : (٨ درجات)

(أ) الهرم ذو القاعدة الضيقة - الهرم ذو القاعدة العريضة - الهرم ذو القاعدة المتوسطة (لكل مفردة درجة)

(ب) زيادة نسبة صغار السن

(ج) ٢

(د) الاناث على الجانب الايمن والذكور على الجانب الايسر

توضع الاجابة على الهرم السكاني

السؤال الثالث : (٨ درجات)

(أ) ١ -

- هجرة اولاد الجلندي من عمان

- هجرة بعض اهل الاحساء ثم الشيرازيين

- هجرة سليمان بن سليمان بن مظفر النبهاني

(يكتفى باثنتين)

- ٢

- الفلق

- النهضة

- الاصلاح

(يكتفى باثنتين)

(ب) ١ - ثويني

٢ -- ماجد

(ج) ١ - لكي يستخدموها في صناعة السفن

٢- لانها ذات جودة عالية

السؤال الرابع (٨ درجات)

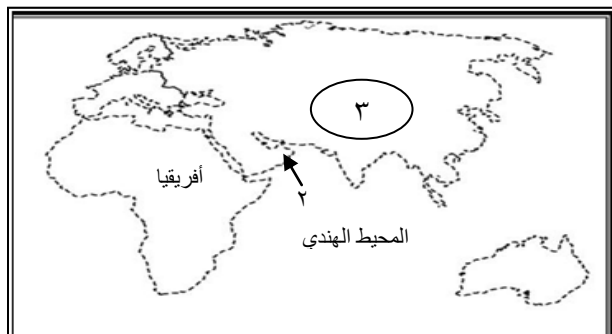
/أ

١ - المحيط الهندي

٢ - على الخريطة

٣ - اسيا

٤ - على الخريطة



٨١

٨١

٨١

٨١

تابع اجابة السؤال الرابع :

ب /

أ : اليونسكو:

منظمة الامم المتحدة للتربية والعلوم والثقافة

ب : اليونيسف :

صندوق الامم المتحدة لرعاية الطفولة

٣ -

/ السرعة

/ قلة النفقات

انتهى النموذج

اعداد/ اشراف الدراسات الاجتماعية

٩٩٤٥٧١٧٢

