



امتحان الصف السابع
للعام الدراسي ١٤٣٧/١٤٣٨ هـ - ٢٠١٦/٢٠١٧ م
الدور الأول - الفصل الدراسي الأول

- المادة: الدراسات الاجتماعية.
- زمن الإجابة: ساعة ونصف.
- عدد صفحات أسئلة الامتحان: (٨) صفحات.
- الإجابة في الورقة نفسها.

		اسم الطالب
الصف		المدرسة

التوقيع بالاسم		الدرجة		السؤال
المصحح الثاني	المصحح الأول	بالحروف	بالأرقام	
				١
				٢
				٣
				٤
مراجعة الجمع	جمعه			المجموع
				المجموع الكلي

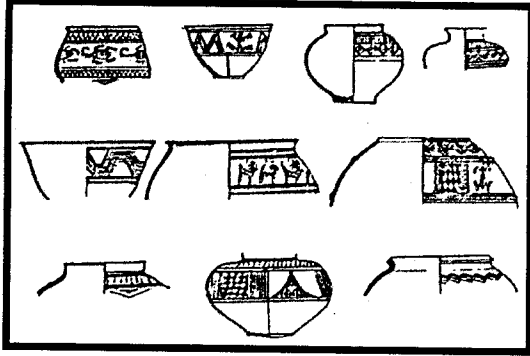
(١)

امتحان الصف السابع
للعام الدراسي ١٤٣٧/١٤٣٨ هـ - ٢٠١٦/٢٠١٧ م
الدور الأول - الفصل الدراسي الأول
المادة: الدراسات الاجتماعية

أجب عن جميع الأسئلة الآتية

السؤال الأول: ضع دائرة حول رمز الإجابة الصحيحة لكل مفردة من المفردات الآتية:

(١) تنتمي نماذج الفخار التي تظهر في الشكل المقابل إلى حضارة:



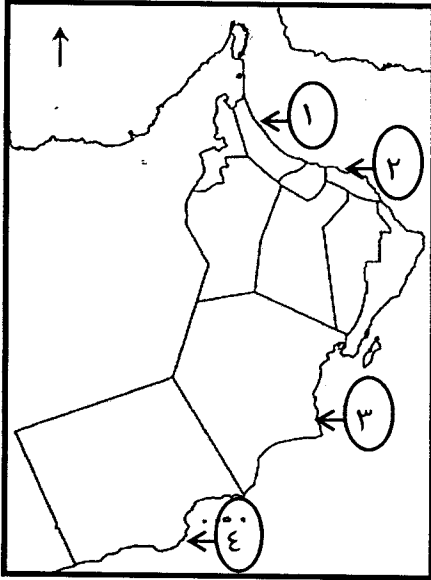
أ. سومر.

ب. دلمون.

ج. مجان.

د. كولي.

(٢) الرقم الذي يُشير إلى المدينة التي اتخذتها الدولة الساسانية مركزاً لنشاطها التجاري البحري في الخريطة



المقابلة:

أ. ١

ب. ٢

ج. ٣

د. ٤

(٣) عندما تقوم بحساب نسبة الإعالة في أسرتك فإن هذا يُصنف ضمن البنية:

أ. النوعية. ب. العمرية. ج. الاجتماعية. د. الثقافية.

(٢)

امتحان الصف السابع

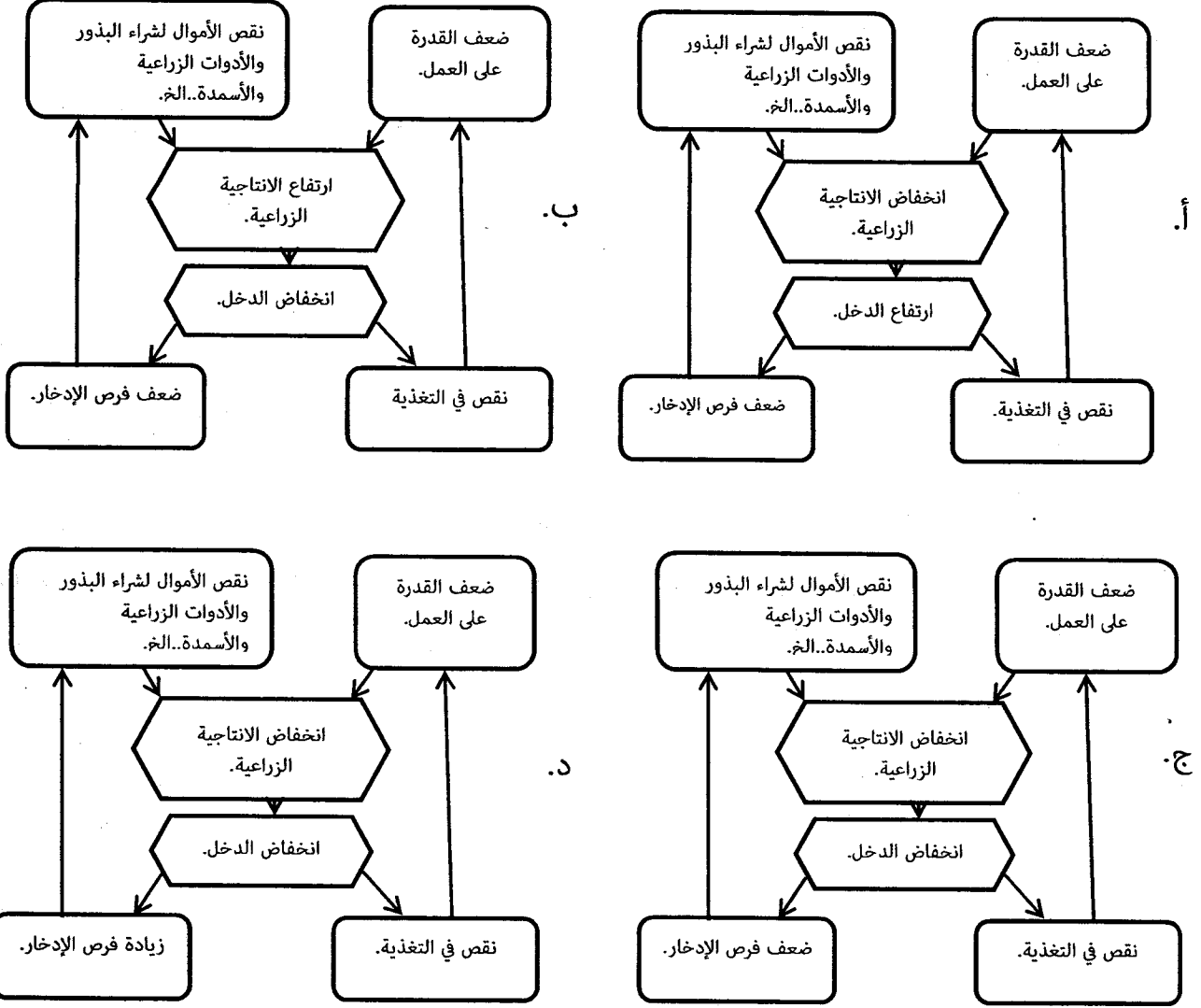
للعام الدراسي ١٤٣٧/١٤٣٨ هـ - ٢٠١٦/٢٠١٧ م

الدور الأول - الفصل الدراسي الأول


المادة: الدراسات الاجتماعية

تابع السؤال الأول:

٤) المخطط الصحيح الذي يعبر عن مفهوم "حلقة الفقر" كأحد مظاهر مشكلة الغذاء:



٥) الصورة المقابلة تُعبر عن دور شرطة عُمان السلطانية في:



أ. إسعافات حوادث الطرق.

ب. تحرير المخلفات المرورية.

ج. التوعية بسلامة المركبة.

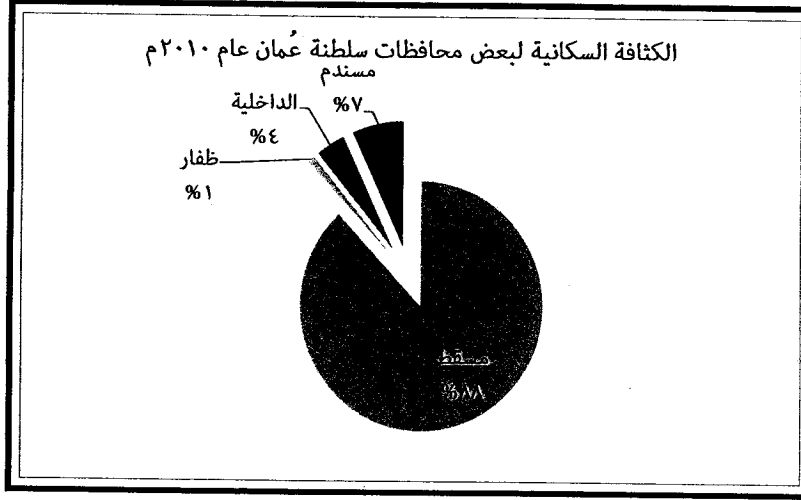
د. تنظيم عبور المشاة.

(٣)

امتحان الصف السابع
للعام الدراسي ١٤٣٧/١٤٣٨ هـ - ٢٠١٦/٢٠١٧ م
الدور الأول - الفصل الدراسي الأول
المادة: الدراسات الاجتماعية

تابع السؤال الأول:

٦) ما المرتبة التي احتلتها محافظة الداخلية من خلال الشكل المقابل؟



أ. الأولى.

ب. الثانية.

ج. الثالثة.

د. الرابعة.

٧) السلوك الذي يؤدي إلى الصحة الجيدة:

أ. تناول الأطعمة المليئة بالدهون.

ب. الإكثار من تناول المشروبات الغازية.

ج. الإكثار من الوجبات السريعة.

د. تناول الأطعمة بشكل متوازن.

٨) المجال الأعلى انفاقاً وفقاً للجدول المقابل:

أوجه إنفاق إحدى الأسر العمانية بالريال العماني.				الفترة
التعليم.	الماء.	الكهرباء.	الطعام.	الزمنية.
٤٠	٢٠	٥٠	١٠٠	سبتمبر.
٣٠	١٥	٤٠	٩٠	أكتوبر.
٢٠	١٠	٣٠	٨٠	نوفمبر.
١٠	٥	٢٠	٩٠	ديسمبر.

د. التعليم.

ج. الماء.

ب. الكهرباء.

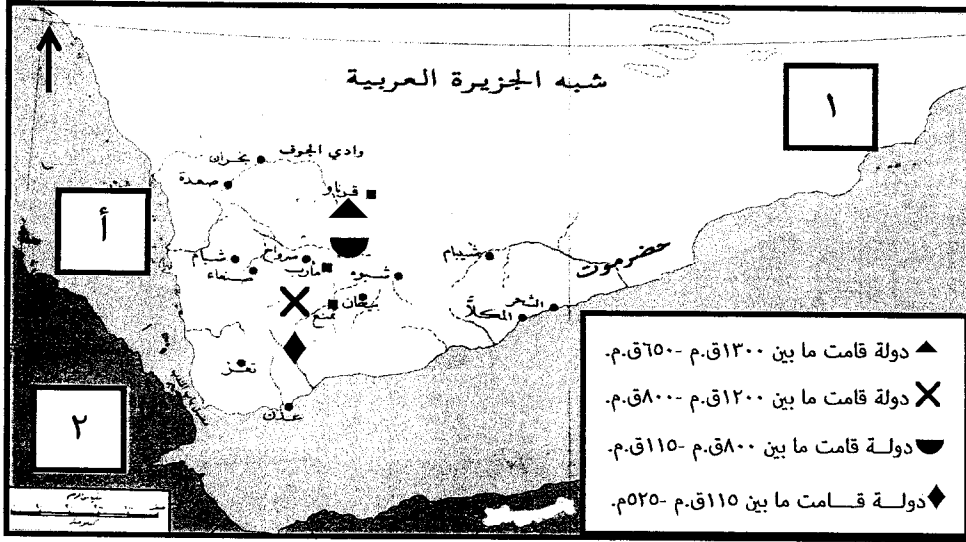
أ. الطعام.

(٤)

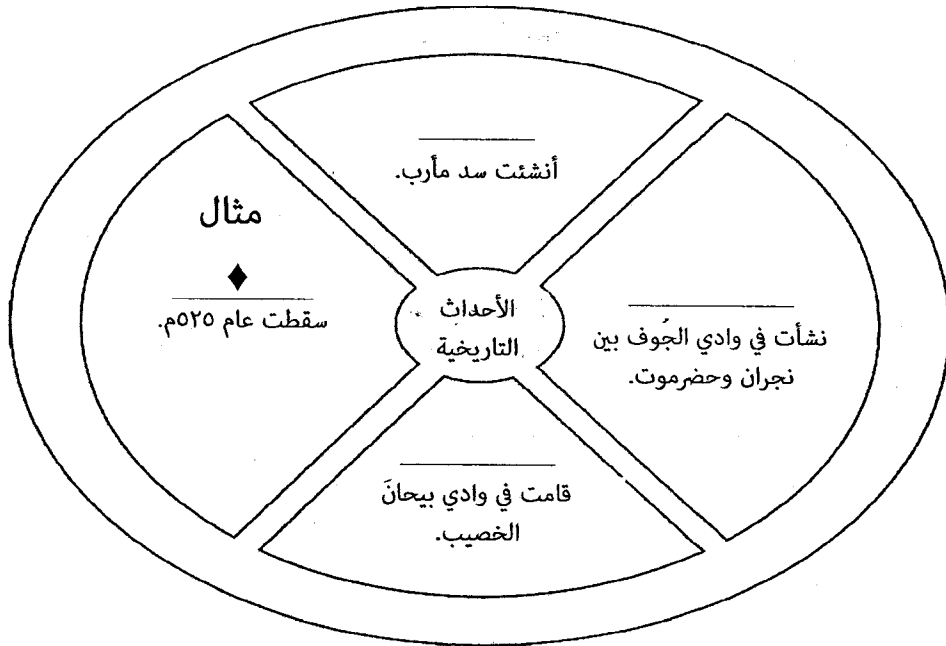
امتحان الصف السابع
للعام الدراسي ١٤٣٧/١٤٣٨ هـ - ٢٠١٦/٢٠١٧ م
الدور الأول - الفصل الدراسي الأول
المادة: الدراسات الاجتماعية

السؤال الثاني:

أ) أمامك خريطة (حضارات اليمن القديمة) ادرسها، ثم أجب عن الأسئلة الآتية:



١- استخراج من الخريطة الرمز الدال على الدولة التي وقعت بها الأحداث التاريخية وفقاً للشكل الآتي.



٢- ما الرقم الدال على موقع الحبشة؟

٣- اكتب الجهة الأصلية التي يقع فيها المسطح المائي المشار إليه بالرمز (أ) بالنسبة لليمن.

(٥)

امتحان الصف السابع
للعام الدراسي ١٤٣٧/١٤٣٨ هـ - ٢٠١٦/٢٠١٧ م
الدور الأول - الفصل الدراسي الأول
المادة: الدراسات الاجتماعية

تابع السؤال الثاني:

(ب)

١- رتب الأحداث التاريخية الآتية بكتابة الأرقام (١، ٢، ٣) من الأقدم إلى الأحدث.
(—) ظهور المدن التجارية.

(—) اختراع الكتابة.



(—) اكتشاف النار.

٢- انسب معاني أسماء مجان التاريخية حسب الشعوب التي اطلقتها عليها وفقاً للجدول الآتي.

(بلاد الفضة - أرض اللبان - سفن الناس - أرض النحاس)

الشعب.	معاني أسماء مجان التاريخية.
السومريون.	_____
الأكاديون.	_____
الأشوريون.	_____

ج) صنّف الصور الآتية إلى ممتلكات (عامّة و خاصة).



_____ ٤ _____ ٣ _____ ٢ _____ ١

(٦)

امتحان الصف السابع
للعام الدراسي ١٤٣٧/١٤٣٨ هـ - ٢٠١٦/٢٠١٧ م
الدور الأول - الفصل الدراسي الأول
المادة: الدراسات الاجتماعية

السؤال الثالث:

أ) اكتب بين القوسين المفهوم الصحيح لكل عبارة مما يأتي.

(_____) ١- الأفراد في سن العمل من الذكور والإناث سواء أكانوا عاملين أم باحثين

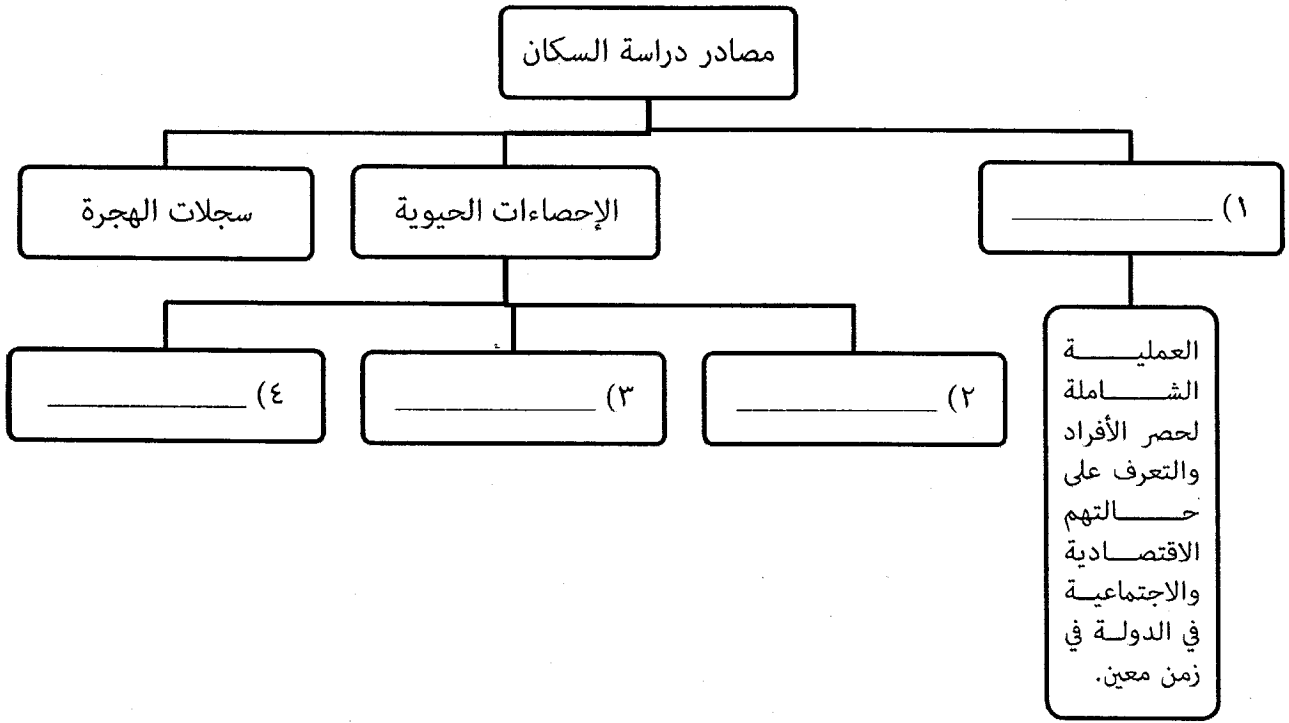
عن عمل.

(_____) ٢- الفرق بين أعداد المواليد وأعداد الوفيات للسكان في مجتمع ما في فترة

محددة.

(_____) ٣- نظام السير على الطرقات سواء للمركبات أم للمشاة.

ب) أكمل تصميم مخطط مصادر دراسة السكان.



ج) ١- علل: يفضل الإنسان العيش في المناطق السهلية على المناطق الجبلية.

(٧)

امتحان الصف السابع
للعام الدراسي ١٤٣٧/١٤٣٨ هـ - ٢٠١٦/٢٠١٧ م
الدور الأول - الفصل الدراسي الأول
المادة: الدراسات الاجتماعية

تابع السؤال الثالث:

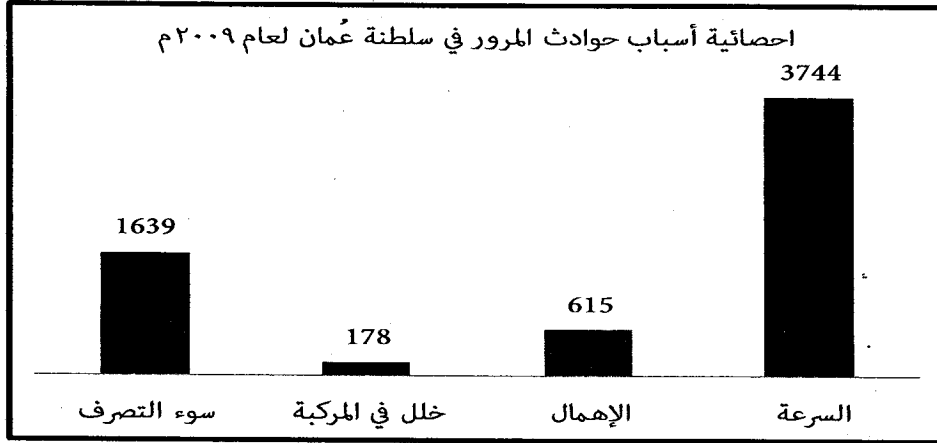
(ج)

٢- قارن بين أقسام الموارد الطبيعية من حيث الآتي.

أقسام الموارد.	متجددة.	غير متجددة.
وجه المقارنة.		
المفهوم.		
مثال.		

السؤال الرابع:

(أ) يُمثل الشكل المقابل احصائية (أسباب حوادث المرور في سلطنة عُمان لعام ٢٠٠٩م)، ادرسه وأجب عن الأسئلة الآتية.



١- رتب أسباب الحوادث المرورية تصاعدياً.

٢- اقترح أسلوبين لتوعية قائي المركبات للحد من السبب الذي أدى إلى أكبر عدد من حوادث المرور.

يتبع/

(٨)

امتحان الصف السابع

للعام الدراسي ١٤٣٧/١٤٣٨ هـ - ٢٠١٦/٢٠١٧ م

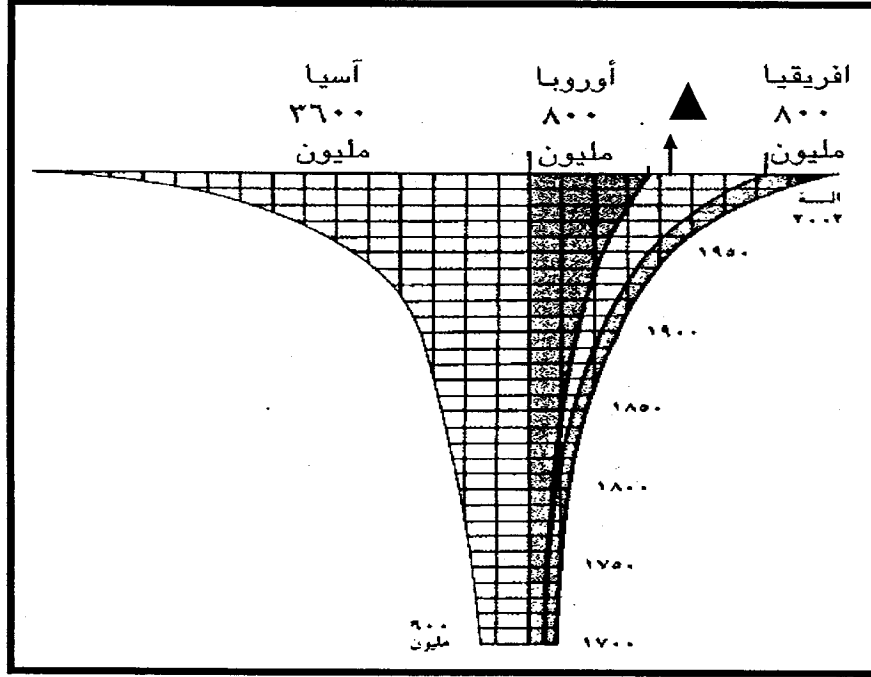
الدور الأول - الفصل الدراسي الأول

المادة: الدراسات الاجتماعية

تابع السؤال الرابع:

ب) سمّ الحضارة التي استخدمت اللبان قديماً في تحنيط جثث الموتى.

ج) أمامك شكل (أعداد سكان العالم في الفترة ١٧٠٠ م - ٢٠٠٢ م)، ادرسه وأجب عن الأسئلة الآتية.



١- كم بلغت الزيادة في أعداد سكان قارة آسيا بين عامي ١٧٠٠ و ٢٠٠٢ م؟

٢- ما القارتان اللتين يمثلهما الجزء المشار إليه بالرمز ▲؟

٣- صف طبيعة نمو سكان العالم بين القرنين الثامن عشر والحادي والعشرين الميلاديين.

٤- استخلص المشكلة السكانية التي يعبر عنها الشكل.

انتهت الأسئلة مع الدعاء للجميع بالتوفيق والنجاح.



نموذج إجابة امتحان الصف السابع
للعام الدراسي ١٤٣٧/١٤٣٨ هـ - ٢٠١٦/٢٠١٧ م
الدور الأول - الفصل الدراسي الأول

المادة: الدراسات الاجتماعية. الدرجة الكلية: (٤٠) درجة.
تنبيه: نموذج الإجابة في (٤) صفحات.

أولاً: إجابة السؤال الموضوعي:

الصفحة	الدرجة	الإجابة	البديل الصحيح	المفردة
٣٣	٢	كولي.	د	١
٢٦	٢	١	أ	٢
٤٥	٢	العمرية.	ب	٣
٦٧	٢		ج	٤
٨٨	٢	تنظيم عبور المشاة.	د	٥
٦٣	٢	الثالثة.	ج	٦
٧٧	٢	تناول الأطعمة بشكل متوازن.	د	٧
٧٥	٢	الطعام.	أ	٨
١٦		المجموع		

(٢)

تابع نموذج إجابة امتحان الصف السابع
للعام الدراسي ١٤٣٧/١٤٣٨ هـ - ٢٠١٦/٢٠١٧ م
الدور الأول - الفصل الدراسي الأول
المادة: الدراسات الاجتماعية

ثانيا: إجابة الأسئلة المقالية:

الدرجة الكلية: (٨) درجة		إجابة السؤال الثاني										
الصفحة	الدرجة	الإجابة الصحيحة	المفردة	الجزئية								
٣٧ - ٣٥	1/2 1/2 1/2 لكل نصف	<p>• يشترط كتابة الرموز فقط.</p>	١	أ								
٣٨	1/2	٢	٢									
٣٥ الخريطة	١	الغرب.	٣									
١٦-١٤	1/2 1/2 1/2 لكل نصف	<p>(٣) ظهور المدن التجارية . (٢) اختراع الكتابة . (١) اكتشاف النار .</p> <p>• إذا أعاد الطالب كتابة الأحداث التاريخية من الأقدم إلى الأحدث تعتبر إجابته صحيحة.</p>	١	ب								
٢٥ - ٢٤	1/2 1/2 1/2 لكل نصف	<table border="1"> <tr> <td>الشعب.</td> <td>معاني أسماء مجان التاريخية.</td> </tr> <tr> <td>السومريون.</td> <td>أرض النحاس .</td> </tr> <tr> <td>الأكاديون.</td> <td>بلاد الفضة .</td> </tr> <tr> <td>الأشوريون.</td> <td>سفن الناس .</td> </tr> </table>	الشعب.	معاني أسماء مجان التاريخية.	السومريون.	أرض النحاس .	الأكاديون.	بلاد الفضة .	الأشوريون.	سفن الناس .	٢	
الشعب.	معاني أسماء مجان التاريخية.											
السومريون.	أرض النحاس .											
الأكاديون.	بلاد الفضة .											
الأشوريون.	سفن الناس .											
٨٤ - ٨٢	1/2	ممتلكات عامة.	١	ج								
	1/2	ممتلكات خاصة.	٢									
	1/2	ممتلكات عامة.	٣									
	1/2	ممتلكات عامة.	٤									

(٣)

تابع نموذج إجابة امتحان الصف السابع
للعام الدراسي ١٤٣٧/١٤٣٨ هـ - ٢٠١٦/٢٠١٧ م
الدور الأول - الفصل الدراسي الأول
المادة: الدراسات الاجتماعية

تابع ثانياً: إجابة الأسئلة المقالية:

الدرجة الكلية: (٨) درجة		إجابة السؤال الثالث		
الصفحة	الدرجة	الإجابة الصحيحة	المفردة	
٤٨	١	١- القوى العاملة.	١	أ
٥٣	١	٢- الزيادة الطبيعية.		
٨٨	١	٣- المرور.		
٤٠	1/2	التعداد.	١	ب
٤١	1/2	سجلات المواليد.	٢	
٤١	1/2	سجلات الوفيات.	٣	
٤١	1/2	حالات الزواج/ حالات الطلاق. (يكتفى بوحدة) • (٢ و٣ و٤) لا يشترط أن يكتبها الطالب مرتبةً في المخطط.	٤	
٥٩	١	نظراً لسهولة الوصول إليها/ ملاءمتها لبناء المسكن وقيام الزراعة/ توفر المياه (الأنهار). (يكتفى بوحدة) • يُراعى ما يفيد المعنى ضمن سياق الإجابات السابقة.	١	ج
٦٦	1/2+1/2	موارد غير متجددة.	أقسام الموارد. وجه المقارنة.	
		موارد لا تتجدد بسبب طبيعة تكوينها. (يراعى ما يفيد المعنى)	المفهوم.	
٦٦	1/2+1/2	النفط/الغاز الطبيعي/المعادن (ثروات باطن الأرض). (يكتفى بواحد)	الماء (الثروة المائية البحرية)/الهواء/الرياح/التربة/الثروة الفلكية (الإشعاع الشمسي - طاقة المد والجزر) (يكتفى بواحد)	مثال.


(٤)

تابع نموذج إجابة امتحان الصف السابع
للعام الدراسي ١٤٣٧/١٤٣٨ هـ - ٢٠١٦/٢٠١٧ م
الدور الأول - الفصل الدراسي الأول
المادة: الدراسات الاجتماعية

تابع ثانياً: إجابة الأسئلة المقالية:

الدرجة الكلية: (٨) درجة		إجابة السؤال الرابع	
الصفحة	الدرجة	الإجابة الصحيحة	المفردة
٩١	1/2 1/2 1/2 1/2	١- خلل في المركبة. ٢- الإهمال. ٣- سوء التصرف. ٤- السرعة. (يراعى الترتيب التصاعدي)	١
٨٩	1/2+1/2	- الالتزام بالسرعة المرورية المحددة. - توعية قائي المركبات بأخطار السرعة الزائدة. (يكتفى باثنين) • يُراعى ما يفيد المعنى ضمن سياق السبب المطلوب (السرعة).	٢
٢٨	١	الفراعنة (المصرية القديمة/وادي النيل).	ب
٤٢	١	٣٠٠٠,٠٠٠,٠٠٠ نسمة (ثلاثة الاف مليون نسمة)/٣مليار. • تراعى الإجابات السابقة التي تقترن بلفظ (حوالي/تقريباً/ ما يزيد/ما يقارب/..)	١
٤٢	١	أمريكا الشمالية وأمريكا الجنوبية (الأمريكتين). • إذا كتب الطالب إحدى القارات يمنح (نصف) الدرجة.	٢
٤٢	١	الزيادة <u>المطرودة</u> في أعداد السكان / ارتفاع في أعداد السكان / الزيادة <u>الكبيرة</u> في أعداد السكان بجميع قارات العالم. (يكتفى بواحدة)	٣
٤٢	١	الانفجار السكاني.	٤

نهاية نموذج الإجابة



نموذج إجابة امتحان الصف السابع (ملحق)
للعام الدراسي ١٤٣٧/١٤٣٨ هـ - ٢٠١٦/٢٠١٧ م
الدور الأول - الفصل الدراسي الأول

تابع ثانياً: إجابة الأسئلة المقالية: (السؤال الرابع) (ج) رقم ١.

٤٢	١	<ul style="list-style-type: none">• ذكر الرقم المرتبط بقارة آسيا (٣٦٠٠) مليون.• إجراء عملية حسابية بين الرقم المذكور للقارة المحددة (آسيا) والرقم العام أسفل الشكل. ٣٠٠٠,٠٠٠,٠٠٠ نسمة (ثلاثة الاف مليون نسمة)/٣مليار.• تراعى الإجابات السابقة التي تقترن بلفظ (حوالي/تقريباً/ ما يزيد/ما يقارب/..)	١	ج
----	---	--	---	---

نهاية نموذج الإجابة

