



سلطنة عُمان
وزارة التربية والتعليم
الديانة العامة للتربية والتعليم بمحافظة الداخلية

امتحان الصف السادس
للعام الدراسي ١٤٣٦/١٤٣٧هـ - ٢٠١٥/٢٠١٦م
الفصل الدراسي الأول - الدور الثاني

- المادة : الدراسات الاجتماعية
- عدد الصفحات : ٥ صفحات
- زمن الإجابة : ساعة ونصف
- * الإجابة في الورقة نفسها

اسم الطالب	
الشعبة	المدرسة


(التوقيع بالاسم)		الدرجة بالحروف بالأحمر	الدرجة بالأرقام بالأحمر	السؤال
المصحح (بالأخضر)	المصحح (بالأحمر)			
				1
				2
				3
				4
				5
				6
	مراجعة الجمع والتشطيب (بالأزرق)	جمعه (بالأحمر)		المجموع الكلّي

السؤال الأول : ضع دائرة حول رمز الاجابة الصحيحة من بين البدائل المعطاة لكل عبارة فيما يلي :

١- اسم السلسلة الجبلية التي توجد في قارة امريكا الشمالية :

- أ- جبال الالب. ب- جبال الانديز. ج- جبال روكي. د- جبال الهملايا.

٢- رمز الشكل الذي يدل على الامطار الرعدية :




د-



ج-



ب-



أ-

٣- الامير الاندلسي الذي تلقب بالناصر لدين الله وبنى مدينة الزهراء غربى قرطبة :

- أ- هشام الثالث. ب- عبد الرحمن الثالث. ج- عبد الرحمن الداخل. د- مروان الثاني.

٤- الطبقة التي تحترق فيها الشهب والنيازك :

- أ- التروبوسفير. ب- الميزوسفير. ج- الاستراتوسفير. د- الثيرموسفير.

٥- مبنى سكني يبلغ ارتفاعه ٣٠٠ متر فاذا كانت درجة الحرارة في أسفل المبنى ٢٥ س فكم ستكون درجة الحرارة في اعلى المبنى؟:

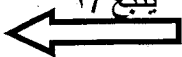
- أ- ٢١ س. ب- ٢٢ س. ج- ٢٣ س. د- ٢٤ س.

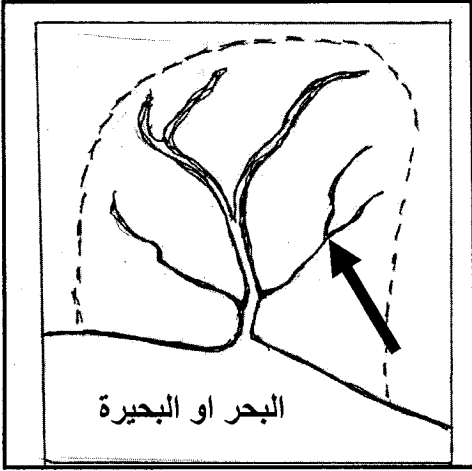
٦- الغلاف الذي يتعرض لمشكلة انجراف التربة:

- أ- الصخري. ب- الحيوي. ج- المائي. د- الجوي.

٧- الترتيب الصحيح للدويلات الاسلامية الاتية من الاقدم الى الاحدث:

أ	الرستمىة	الاموىة	الفاطمىة
ب	الفاطمىة	الاموىة	الرستمىة
ج	الاموىة	الرستمىة	الفاطمىة
د	الاموىة	الفاطمىة	الرستمىة





٨- اسم الجزء من النهر الذي يشير اليه السهم في الشكل المقابل :

أ-المنبع.

ب-المصب.

ج-المجرى الرئيسي.

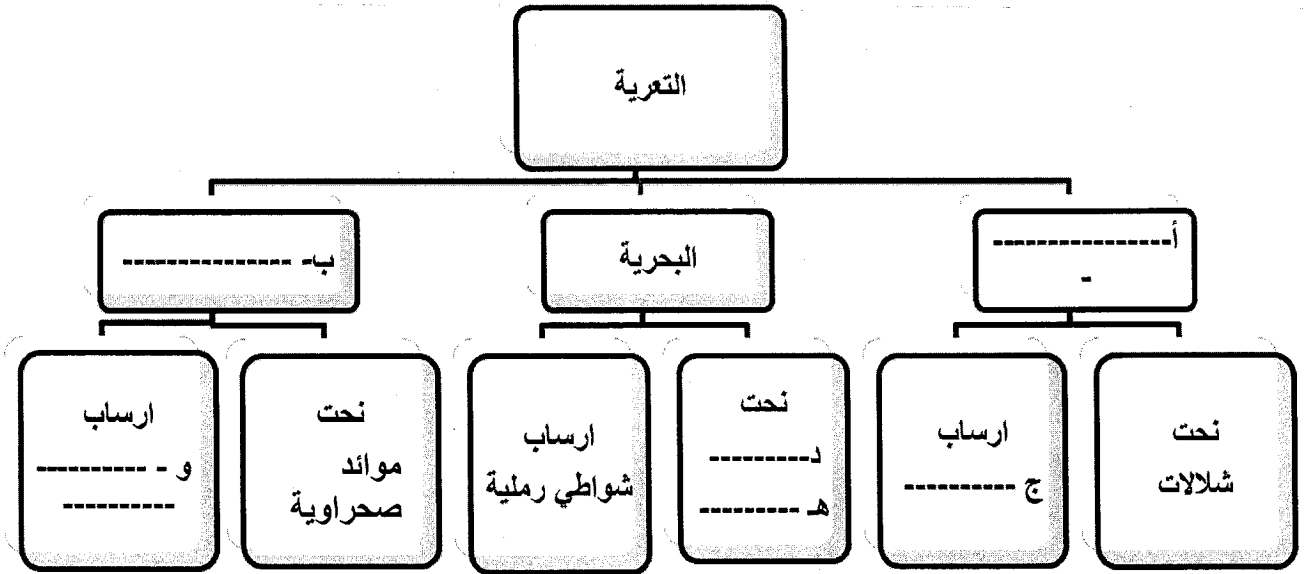
د-الرافد.

السؤال الثاني :

٨

١- أكتب الكلمة المناسبة من بين القوسين في المخطط التالي :

(النهرية - الاقواس - الجروف - الريحية - السهول الفيضية - الكثبان الرملية)



٢- عرف ما يلي :

أ-الاششيدون

.....

ب-المناخ -

.....

يتبع ٣/ ←

تابع السؤال الثاني :

٣- قارن بين أنواع الرياح اليومية حسب الجدول التالي:

		الشكل وجه المقارنة
		نوع الرياح
		وقت حدوثها

السؤال الثالث :

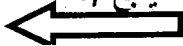
١- علل ما يأتي:

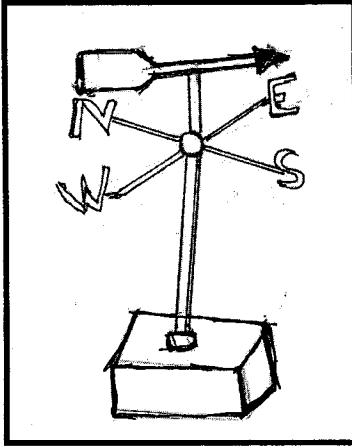
أ- محاولة شارلمان غزو الاندلس.

ب- بناء الفاطميين للجامع الأزهر.

ج- ارتفاع نسبة ثاني أكسيد الكربون في الغلاف الجوي .

يتبع / ٤





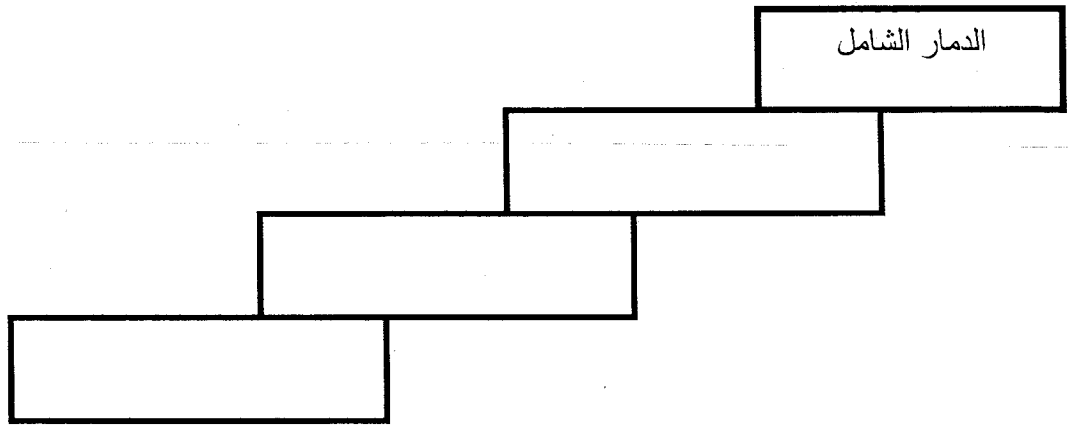
٢- تمعن في الشكل المقابل واجب من خلاله عن الأسئلة التالية:

أ- ما اسم الجهاز الموضح بالصورة؟

ب- ما العمل الذي يقوم به هذا الجهاز؟

٣- رتب الآثار التدميرية للزلازل تبعا لقوتها في السلم الآتي:

(تشقق جدران المباني - تأرجح الأشياء المعلقة - تنهار المباني واغصان الأشجار)



السؤال الرابع :

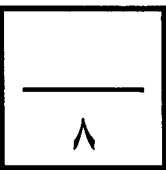
١- اكتب بين القوسين اسم الشخصية التي قامت بكل عمل مما يلي :

أ- ارسل اسطولا بحريا لتحرير جزيرة سوقطرة من ايدي الاحباش) .(

ب- أسس إمارة أباضية في المغرب الأوسط وساد فيها التسامح الديني) .(

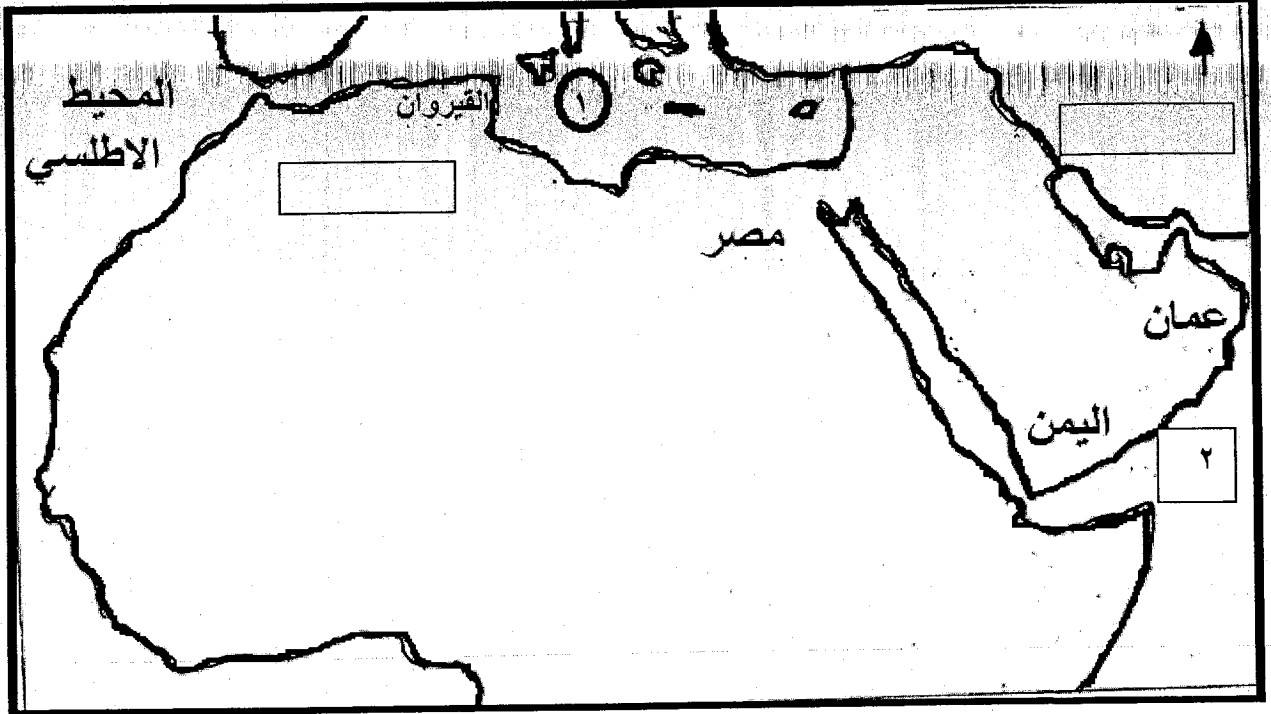
ج- استولى على مصر وبنى فيها الجامع الازهر) .(

د- بنى مسجد المضمار بسمازل) .(



تابع السؤال الرابع :

٢- أنظر إلى خريطة الوطن العربي ثم أجب عن الاسئلة التي تليها :



أ- ما الرقم الذي يشير الى البحر الذي تتكون فيه المنخفضات الجوية الشتوية؟

ب- وقع على الخريطة كلا من:

١- اسم الدولة التي وصل اليها المذهب الاباضي وتقع شمال عمان.

٢- عاصمة الدولة الرستمية.

ج- ظلل على الخريطة موقع البحر الاحمر باستخدام الخطوط المائلة.

٣- وضح بأسلوبك ما يلي :

أ- فوائد البراكين.

.....
.....

ب- مصادر تلوث المياه السطحية.

.....
.....

انتهت الاسئلة مع رجائنا للجميع بالتوفيق والنجاح



سلطنة عمان
وزارة التربية والتعليم
المديرية العامة للتربية والتعليم لمحافظة الداخلية

نموذج الاجابة لامتحان الدور الثاني للفصل الدراسي الاول


الصف السادس للعام الدراسي ٢٠١٥م / ٢٠١٦م

• المادة : الدراسات الاجتماعية

الدرجة الكلية : (٤٠)

• تنبيه : نموذج الاجابة في (٤) صفحات

أولا الاسئلة الموضوعية

م	رمز الاجابة الصحيحة	الاجابة	الدرجة	الصفحة	مستوى التعلم
١	ج-	جبال روكي	٢	٢٥	فهم وتطبيق
	أ-		٢	١٢٥	معرفة
٣	ب-	عبد الرحمن الثالث	٢	٥٧	معرفة
٤	ب-	الميزوسفير	٢	٩٩	معرفة
٥	ج-	٢٣س	٢	٩٧	فهم وتطبيق
٦	أ-	الصخري	٢	١٢	معرفة
٧	ج	الاموية - الرستمية - الفاطمية	٢	٨٣-٧١-٥٠	قدرات عليا
٨	د-	الرافد	٢	٣١	فهم وتطبيق

اجابة السؤال الثاني

م	الجزئية	الاجابة	الدرجة	الصفحة	مستوى التعلم									
١		<p style="text-align: center;">التعريف</p> <pre> graph TD A[التعريف] --> B[ب-الريحية] A --> C[البحرية] A --> D[أ-النهريية] B --> B1[ارساب هـ-الكثبان الرملية] B --> B2[نحت جروف صحراوية] C --> C1[ارساب شواطي رملية] C --> C2[نحت د-الجروف هـ-الافواس] D --> D1[ارساب ج-السيول الفيضية] D --> D2[نحت شلالات] </pre>	٣	٣٠ - ٣٨ ٤٠ -٤٥ ٤٧	معرفة									
٢	أ	دولة حكمت مصر باسم الخلافة العباسية تنسب الى محمد بن طنج الاخشيد ومن حكامها كافور الاخشيدي.	١	٨٦	معرفة									
٢	ب	تفاعل عناصر الطقس المعبرة عن حالة الجو لفترة زمنية طويلة قد تكون شهرا أو فصلا أو سنة أو عدة سنوات.	١	١٠١	معرفة									
٣	أ	<table border="1"> <tr> <td>وجه المقارنة</td> <td></td> <td></td> </tr> <tr> <td>نوع الرياح</td> <td>نسيم البر</td> <td>نسيم البحر</td> </tr> <tr> <td>وقت حدوثها</td> <td>ليلا</td> <td>نهارا</td> </tr> </table> <p>درجتان لنوع الرياح ودرجه لوقت حدوثها</p>	وجه المقارنة			نوع الرياح	نسيم البر	نسيم البحر	وقت حدوثها	ليلا	نهارا	٣	١١٠	مهارات عليا
وجه المقارنة														
نوع الرياح	نسيم البر	نسيم البحر												
وقت حدوثها	ليلا	نهارا												

اجابة السؤال الثالث :

م	الجزئية	الاجابة	الدرجة	الصفحة	مستوى التعلم
١	أ	لكي يطرد المسلمين من الاندلس ويضمها الى دولته.	١	٥٧	معرفة
	ب	ليكون مركزا للدعوة الشيعية.	١	٨٦	معرفة
	ج	بسبب تزايد عمليات احتراق الفحم والنفط والتلوث في المدن الصناعية الكبرى المزدهمة بالسكان. (يكتفى بذكر نقطه واحدة)	١	٩٦	فهم وتطبيق
٢	أ	دوارة الرياح.	١	١٠٦	فهم وتطبيق
	ب	تحديد اتجاه الرياح.	١	١٠٦	فهم وتطبيق

تابع اجابة السؤال الثالث

م	الجزئية	الاجابة	الدرجة	الصفحة	مستوى التعلم
٣		الدمار الشامل تنهار المباني واغصان الاشجار تشقق جدران المباني تأرجح الاشياء المعلقة	٣	١٧	مهارات عليا
		لكل مفردة درجة	٨		

اجابة السؤال الرابع :

م	الجزئية	الاجابة	الدرجة	الصفحة	مستوى التعلم
١	أ	الأمام الصلت بن مالك.	درجتان	٦٨	معرفة
	ب	عبد الرحمن بن رستم.	لكل	٧٥	معرفة
	ج	جوهر الصقلي.	مفردة	٨٦	معرفة
	د	مازن بن غضوبة.	نصف درجة	٦٣	معرفة
٢	أ	١.	١	١١٥	فهم وتطبيق
	ب	١- كتابة بلاد فارس في موقعها كما في الخريطة التالية.	١	٦٥	فهم وتطبيق
		٢- كتابة تاهرت في موقعها كما في الخريطة التالية.	١	٧٥	فهم وتطبيق
	د	تظليل البحر الاحمر كما في الخريطة	١	٨٦	فهم وتطبيق



تابع اجابة السؤال الرابع :

م	الجزئية	الاجابة	الدرجة	الصفحة	مستوى التعلم
٣	أ	<ul style="list-style-type: none"> - ينتج عن تحلل وتفتت المواد البركانية تربة غنية بالمعادن وخصبة تصلح للزراعة . - تحتوي الصخور البركانية على معادن ثمينة كالذهب والنحاس والنيكل ، كما ان صخورها الصلبة تصلح للبناء ورصف الطرق . - تظهر بالقرب من البراكين الينابيع الساخنة التي مصدر لتوليد الطاقة الكهربائية المتجددة . - تعد مناطق جذب سياحي لما تتمتع به من مناظر خلابة ويناابيع ساخنة . <p>يكتفى بذكر نقطتين (لكل واحدة نصف درجة)</p>	١	٢٣	معرفة
	ب	<ul style="list-style-type: none"> - تلوث بمياه الصرف الصحي. - التلوث بالنفايات المنزلية الصلبة . - التلوث الناجم عن الزراعة . - التلوث الناجم عن الصناعة . - التلوث الناجم عن الاشعاع. <p>يكتفى بذكر نقطتين (لكل واحدة نصف درجة)</p>	١	١٣٤	معرفة

انتهى نموذج الاجابة