

حاضر

غائب



سُلْطَنَةُ عُمَانِ
وَزَارَةُ التَّرْبِيَةِ وَالتَّعْلِيمِ

رقم الورقة	
رقم المغلف	

امتحان دبلوم التعليم العام

للعام الدراسي ١٤٣٤/١٤٣٥ هـ - ٢٠١٣ / ٢٠١٤ م

الدور الثاني - الفصل الدراسي الأول

- زمن الإجابة: ثلاث ساعات.
- الإجابة في الورقة نفسها.

- تبييه: المادة: التاريخ (العالم من حولي).
- الأسئلة في (١٠) صفحات.

تعليمات وضوابط التقدم للامتحان:

- الحضور إلى اللجنة قبل عشر دقائق من بدء الامتحان للأهمية.
- إبراز البطاقة الشخصية لمراقب اللجنة.
- يمنع كتابة رقم الجلوس أو الاسم أو أي بيانات أخرى تدل على شخصية الممتحن في دفتر الامتحان، وإلا ألغى امتحانه.
- يحظر على الممتحنين أن يصطحبوا معهم بمركز الامتحان كتباً دراسية أو كراسات أو مذكرات أو هواتف محمولة أو أجهزة النداء الآلي أو أي شيء له علاقة بالامتحان كما لا يجوز إدخال آلات حادة أو أسلحة من أي نوع كانت أو حقائب يدوية أو آلات حاسبة ذات صفة تخزينية.
- يجب أن يتقيد المتقدمون بالزي الرسمي (الدشداشة البيضاء والمصر أو الكمة للطلاب والدارسين والزي المدرسي للطالبات واللباس العماني للدارسات) ويمنع النقاب داخل المركز ولجان الامتحان.
- لا يسمح للمتقدم المتأخر عن موعد بداية الامتحان بالدخول إلا إذا كان التأخير بعذر قاهر يقبله رئيس المركز وفي حدود عشر دقائق فقط.
- يتم الالتزام بالإجراءات الواردة في دليل الطالب لأداء امتحان شهادة دبلوم التعليم العام.
- يقوم المتقدم بالإجابة عن أسئلة الامتحان المقالية بقلم الحبر (الأزرق أو الأسود).
- يقوم المتقدم بالإجابة عن أسئلة الاختيار من متعدد بتظليل الشكل (○) وفق النموذج الآتي:
س - عاصمة سلطنة عمان هي:
○ القاهرة ○ الدوحة
● مسقط ○ أبوظبي
- ملاحظة: يتم تظليل الشكل (●) باستخدام القلم الرصاص وعند الخطأ، امسح بعناية لإجراء التغيير.
- صحيح ● غير صحيح ○
صحيح ○ خطأ ×
صحيح ○ خطأ ×



أجب عن جميع الأسئلة الآتية

السؤال الأول:

ظّل الشكل (○) المقترن بالإجابة الصحيحة لكل مفردة من المفردات الآتية:

(١) يَصْعَبُ وصف الثقافة الإنسانية في عصرنا الحاضر بأنها:

- | | |
|---------------------------------|--------------------------------|
| <input type="checkbox"/> ظاهرة | <input type="checkbox"/> خفية |
| <input type="checkbox"/> متغيرة | <input type="checkbox"/> جامدة |

(٢) احتل المركز الأول في إنتاج الطاقة في العالم عام ٢٠٠٤م:

- | | |
|--|---------------------------------------|
| <input type="checkbox"/> الفحم | <input type="checkbox"/> النفط |
| <input type="checkbox"/> الغاز الطبيعي | <input type="checkbox"/> الوقود الذري |

(٣) تُعرف العلاقة بين حدثين يقع أحدهما نتيجة لوقوع الحدث الآخر داخل الإقليم الثقافي:

- | | |
|-----------------------------------|------------------------------------|
| <input type="checkbox"/> السببية | <input type="checkbox"/> المكانية |
| <input type="checkbox"/> الزمانية | <input type="checkbox"/> الإنسانية |

(٤) انطلقت الرحلة الفينيقية حول القارة الأفريقية في القرن السادس ق.م من:

- | | |
|--|---|
| <input type="checkbox"/> البحر المتوسط | <input type="checkbox"/> المحيط الهندي |
| <input type="checkbox"/> البحر الأحمر | <input type="checkbox"/> المحيط الأطلسي |

(٥) وقوع السلطنة في المنطقة المدارية الحارة يوفر لها مستقبلاً مهماً في الطاقة:

- | | |
|-----------------------------------|----------------------------------|
| <input type="checkbox"/> الهوائية | <input type="checkbox"/> النووية |
| <input type="checkbox"/> المائية | <input type="checkbox"/> الشمسية |

لا تكتب في هذا الجزء

تابع السؤال الأول:

(٦) انضم نادي التصوير الضوئي العُماني إلى اتحاد فياب في العام الميلادي:

- ١٩٩٣ ١٩٩١
١٩٩٧ ١٩٩٥

(٧) بدأت حركة الاختراعات الآلية المرتبطة بالثورة الصناعية في مجال صناعة:

- القطن القمح
الذرة المطاط

(٨) تهب الرياح الموسمية في فصل الصيف على محافظة:

- مسقط الظاهرة
ظفار مسندم

(٩) منظمة تأسست سنة ١٩٦٧م لتعزيز حماية الملكية الفكرية:

- OECD IEA
OPEC WIPO

(١٠) يتوقع علماء المستقبليات أن تكون الريادة في الألفية الثالثة لأصحاب:

- الزراعة الصناعة
التجارة المعرفة

(١١) جميع ما يلي من موارد الطاقة غير الناضبة معدا:

- الرياح الماء
الفحم الطاقة الشمسية

لا تكتب في هذا الجزء

تابع السؤال الأول:

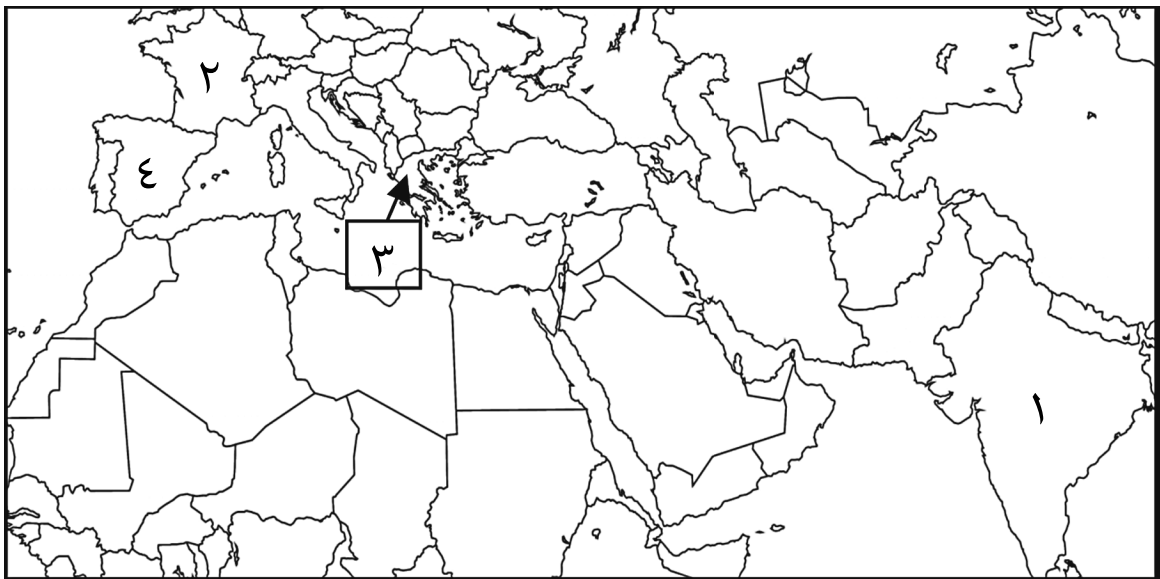
١٢) حدد العلماء عام ٢٠١٨م نقطة انحدار تدريجي لإنتاج النفط في:

- عُمان اليمن
 قطر الكويت

١٣) احتلت المرتبة الثانية على مستوى العالم بعد ألمانيا في إنتاج الديزل الحيوي (البيوديزل) عام ٢٠٠٥م:

- فرنسا بريطانيا
 أسبانيا البرتغال

١٤) الرقم الذي يشير إلى الدولة التي بدأ فيها ظهور مفهوم المواطنة في القرن الخامس قبل الميلاد:



- ١ ٢
 ٣ ٤

لا تكتب في هذا الجزء

السؤال الثاني:

(١٥) علل ما يأتي:

أ. حرق الصينيين النفط في القرن الرابع ق.م.

ب. تتسم الحياة الثقافية العمانية بالمرونة.

(١٦) أ. صنف العوامل الآتية المؤثرة على أسعار النفط وفقاً لنوع العامل الذي تنتمي إليه:
(الحروب - ارتفاع وانخفاض المخزونات الاستراتيجية لبعض الدول المتقدمة - إغراق الأسواق بالبتروول - التوترات بين الدول)

العوامل المؤثرة على أسعار النفط	عامل التصنيف
	اقتصادي
	سياسي

ب. دلل: شملت إمبراطورية الإسكندر المقدوني حضارات مختلفة.

لا تكتب في هذا الجزء

تابع السؤال الثاني:

١٧ أ. "الهيدروجين مرشح لأن يقود الثورة العالمية المقبلة في مجال الطاقة". على ضوء هذه العبارة، أجب عن الأسئلة الآتية:

١) لماذا أخذ الهيدروجين هذه الأهمية في مجال الطاقة؟

٢) صف الاختراع المسمى خلايا الوقود الهيدروجيني.

ب. وضح طريقة البيع الفوري كإحدى أشكال بيع النفط.

لا تكتب في هذا الجزء

السؤال الثالث:

(١٨) "الثقافة سلوك يُكتسب عبر التعلم".

أ. فسر العبارة السابقة.

ب. كيف انعكس الأصل اللغوي للثقافة "ثقّف" على وصفها بأنها مكتسبة؟

(١٩) اكتب بين القوسين المصطلح الصحيح لكل عبارة مما يلي:

أ. (_____) خليط من المواد الهيدروجينية تكون منذ أزمنة جيولوجية استغرقت ملايين السنين حيث يأخذ شكل سائل لزج يحتوي على مواد صلبة وغازية.

ب. (_____) نظام اقتصادي ارتبط بالثورة الصناعية ويقوم على أساس تنمية الملكية الفردية والمحافظة عليها.

ج. (_____) منطقة محددة تتضمن بعض الخصائص المتجانسة التي تميزها عن غيرها من المناطق الأخرى وتضم عدداً من المجتمعات التي تمتلك سمات مشتركة في التوجه الثقافي السائد.

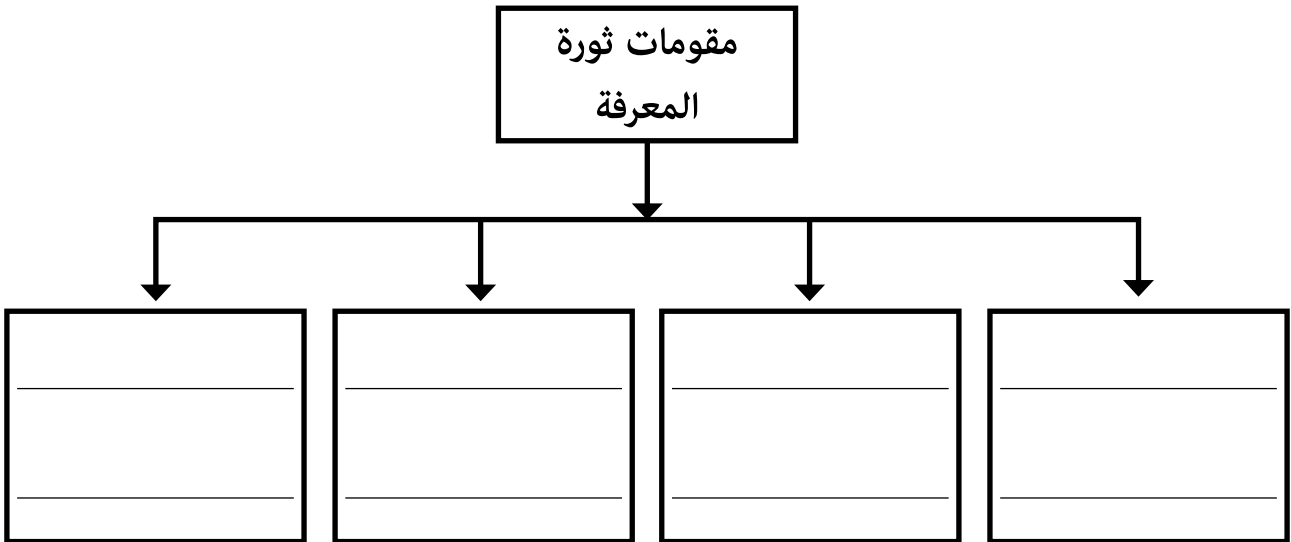
لا تكتب في هذا الجزء

تابع السؤال الثالث:

(٢٠ أ. ١) فسر: تقوم الكثير من الدول المنتجة للطاقة بالتزود الدائم بمصادر الطاقة بمعدل يفوق استهلاكها.

(٢) بيّن الارتباط بين توافر خدمات الطاقة في الدول الفقيرة وتحقيقها لأهداف الألفية الإنمائية.

ب. أكمل المخطط الآتي:

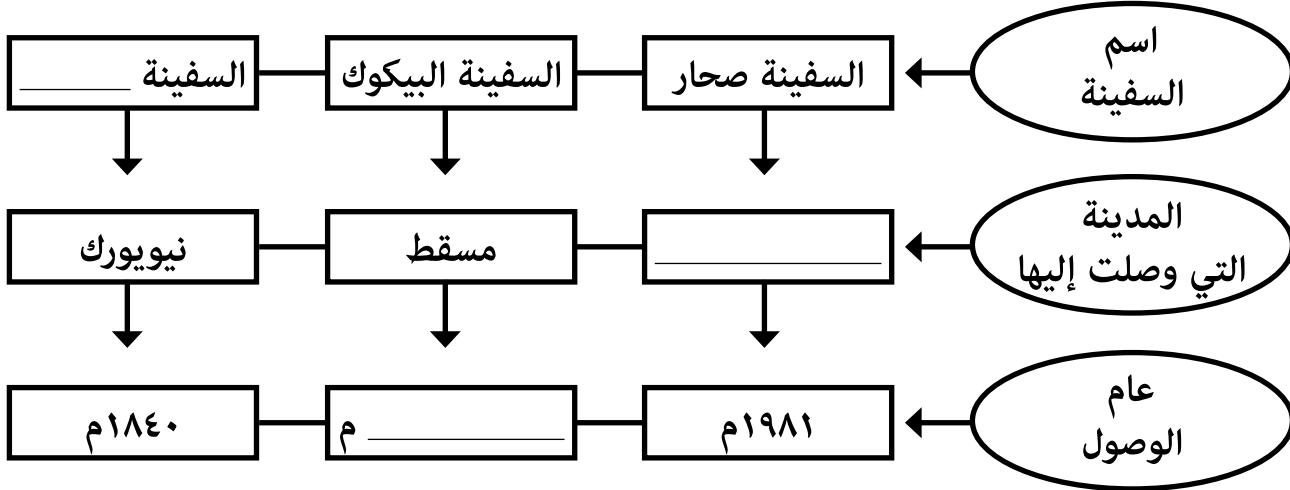


لا تكتب في هذا الجزء

السؤال الرابع:

٢١) أ. أكمل الخريطة الذهنية الآتية التي تمثل التواصل والتبادل الحضاري العُماني البحري مع العالم بكتابة الإجابة الصحيحة في الفراغ.

التواصل والتبادل الحضاري العُماني البحري مع العالم



ب. " للتنوع الثقافي بُعدا الزمان والمكان" على ضوء هذين البعدين صنّف العبارة الآتية بوضع البعد الصحيح (الزمان، المكان) بين القوسين:

توصف ثقافة مجتمع ما بأنها حصيلة ما تناقلته الأجيال المتعاقبة من عناصر مادية ومعنوية تميز هذا المجتمع عن باقي المجتمعات. (_____)

ج. كيف استفاد مركز عمان للموسيقى التقليدية من التقنيات الحديثة في المحافظة على الفنون الشعبية والموسيقى التقليدية العمانية؟

لا تكتب في هذا الجزء

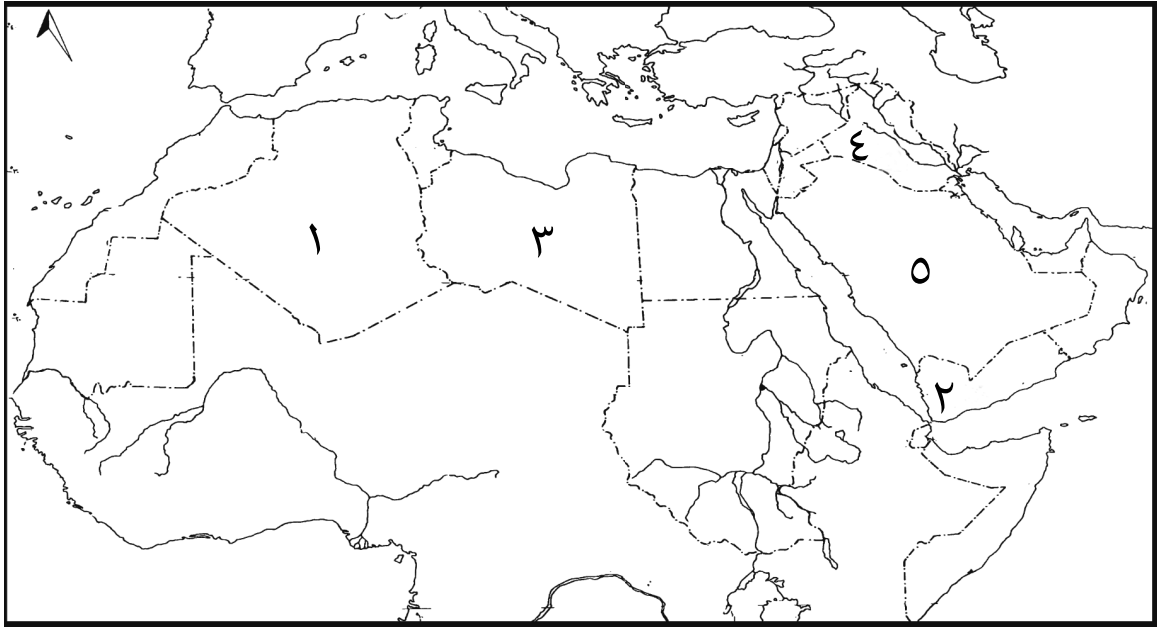
تابع السؤال الرابع:

(٢٢) "قال خبراء في البيئة أن غابات الأمطار المدارية تُزال وتُحرق لزراعة محاصيل الطاقة، واستشهدوا بحالات إزالة أشجار الغابات في البرازيل وإندونيسيا وماليزيا.." في ضوء العبارة السابقة:

أ. اعط أمثلة - مما درست- على المحاصيل الزراعية التي تستخرج منها الطاقة الحيوية.

ب. هل تؤيد استخدام المحاصيل الزراعية في استخراج الطاقة؟ ولماذا؟

(٢٣) أمامك خريطة الوطن العربي الصماء ادرسها جيداً ثم أجب عن الأسئلة الآتية:



لا تكتب في هذا الجزء

تابع السؤال الرابع:

- أ. أكتب في الخريطة الرمز (أ) على أول دولة عربية أنتجت النفط عام ١٩١٠م.
- ب. ما الرقم الذي يشير إلى الدولة التي ظهرت فيها الكتابة المسمارية مع نهاية الألف الرابعة ق.م؟
-
- ج. ظلل الدولة التي اختيرت إحدى مدنها عاصمة للثقافة العربية عام ٢٠٠٦م.
- د. ما المرتبة التي تحتلها الدولة المشار إليها بالرقم (٥) في الاحتياطات المؤكدة من النفط على مستوى دول الشرق الأوسط؟
-

انتهت الأسئلة مع تمنياتنا بالتوفيق والنجاح

مُسَوِّدَةٌ

لا تكتب في هذا الجزء

لا تكتب في هذا الجزء