

بِسْمِ اللَّهِ الرَّحْمَنِ الرَّحِيمِ
" رَبِّ اجْعَلْ لِي حَذْرِي وَيَسِّرْ لِي أَمْرِي "



المديرية العامة للتربية والتعليم لمحافظة الظاهرة
دائرة التقويم التربوي

امتحان نهاية الفصل الدراسي الأول - الدور الأول - العام الدراسي ٢٠١٤/٢٠١٥م

الصف : التاسع	المادة : الدراسات الاجتماعية	الزمن : ساعة ونصف	الدرجة : ٤٠ درجة
---------------	------------------------------	-------------------	------------------

تنبيه:

- الأسئلة في (٦) صفحات .
- الاجابة في نفس الورقة .

رقم السؤال	الدرجة بالأرقام	الدرجة بالحروف	اسم المصحح	توقيعه
١				
٢				
٣				
٤				
المجموع الكلي				

اسم الطالب /

الصف / الشعبة ()

المدرسة /

امتحان نهاية الفصل الدراسي الأول - الدور الأول - العام الدراسي ٢٠١٤/٢٠١٥ م

السؤال الأول: ضع دائرة حول رمز الإجابة الصحيحة فيما يلي : (١٦ درجة)

١- يدرس محمد في الصف التاسع ويبلغ عمره ١٤ سنة، فإن البنية العمرية له تصنف في فئة :

(ب) الشباب

(أ) صغار السن

(د) الفئة الغير معالة

(ج) كبار السن

٢- حسب تعداد السكان بالسلطنة عام ٢٠١٠م بلغ عدد الذكور في محافظة الظاهرة (٨٧,٤٤٤) نسمة وبلغ عدد الإناث (٦٤,٢٢٠) نسمة بناءً على المعطيات السابقة تكون نسبة النوع في المحافظة:

(ب) ١٣٠,١

(أ) ١٢٠,٥

(د) ١٣٨,٤

(ج) ١٣٦,١

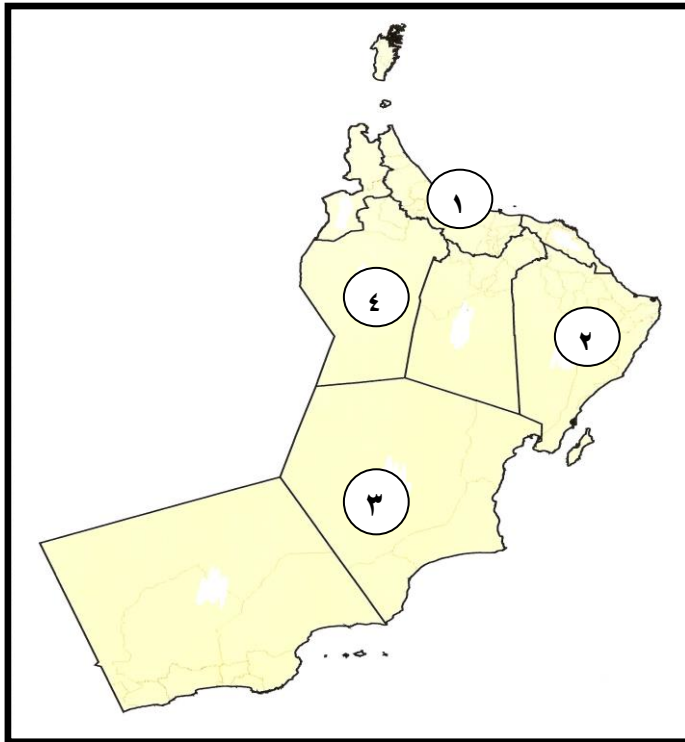
٣- الرقم الذي يشير الى المحافظة الأكثر كثافة في السكان في سلطنة عمان من بين الأرقام المدرجة في الخريطة:

(ب) ٢

(أ) ١

(د) ٤

(ج) ٣



يتبع...

(١)

تابع: السؤال الأول:

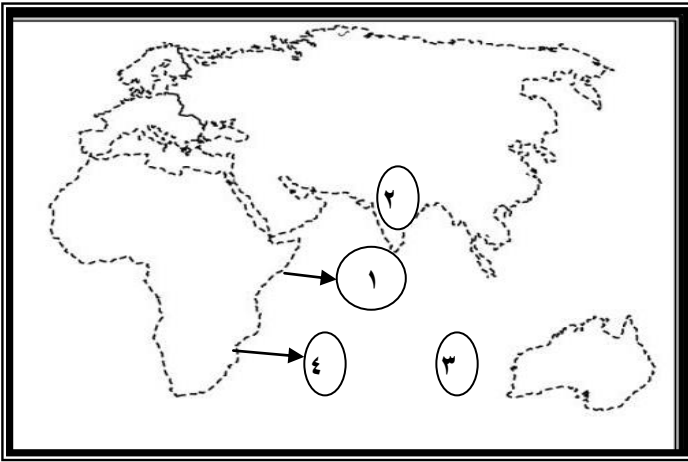
٤- "الأول في الحرب والأول في السلم، والأول في قلوب أهل بلده، فهو نموذج للحاكم الذي تفخر به أي دولة في العالم" الشخص الذي يقصده ريتشارد بيرتون في هذا النص :

- (أ) أحمد بن سعيد
(ب) سلطان بن أحمد
(ج) حمد بن سعيد
(د) سعيد بن سلطان

٥- الرقم الذي يشير إلى موقع مقديشيو والتي كانت

أحد مراكز إنتاج الأخشاب في شرقي إفريقيا:

- (أ) ١
(ب) ٢
(ج) ٣
(د) ٤



٦- احمد تاجر عماني يقوم بنقل البضائع على سفينته من عمان الى شرق افريقيا ،التقى مع تاجر من زنجبار قبالة سواحلها وقاما بعملية تبادل للبضائع، الطريقة الصحيحة لعملية التبادل بينهما :

- (أ) منتجات حديدية مع زجاجية
(ب) التمر مع التوابل
(ج) التمر مع اللبان
(د) الورد المجفف مع الليمون

٧- انضمت السلطنة الى منظمة المؤتمر الإسلامي عام:

- (أ) ١٩٧٠ م
(ب) ١٩٧٢ م
(ج) ١٩٧٤ م
(د) ١٩٧٦ م

تابع السؤال الأول:

٨- المنظمة الدولية التي تختص بالأغذية والزراعة في العالم هي:

(أ) الفاو

(ب) الأليسكو

(ج) اليونسكو

(د) الأنروا

السؤال الثاني:

(٨ درجات)

١- أجب عن الأسئلة التالية:

(أ) ارسم هرم سكاني موضحا عليه البنية النوعية والعمرية؟

ب- طلب معلم الدراسات الاجتماعية من أحد طلابه المجيدين أن يجري بحثا عن حالات الوفاة في المجتمع الذي يعيش فيه، كيف يمكنك مساعدة هذا الطالب للحصول على بيانات عن الحالة السابقة؟

٢- عرف المفاهيم التالية:

(أ) أمد الحياة:

(ب) الزيادة الطبيعية:

يتبع...

(٣)

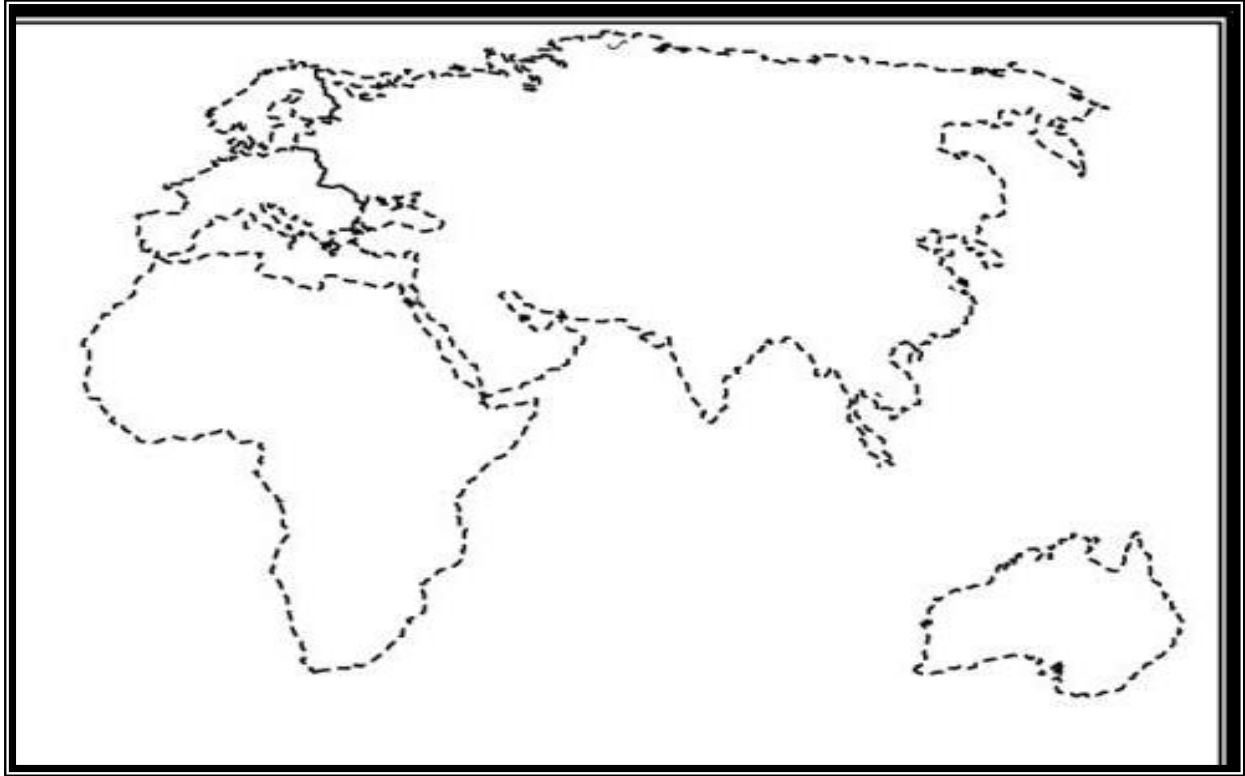
تابع السؤال الثاني:

٣- تبلغ نسبة النوع في محافظة الوسطى ٣١٦,٢ حسب تعداد ٢٠١٠م،

ما دلالة ذلك؟-----

السؤال الثالث: أجب عن الأسئلة التالية : (٨ درجات)

١- ادرس الخريطة التالية ، ثم أجب عن الأسئلة التي تليها:



أ- وقع على الخريطة موقع الخليج العربي.

ب- ظلل على الخريطة الامتداد العماني في شرقي افريقيا.

ج- أكتب المحيط الهندي في مكانه الصحيح على الخريطة.

٢- رتب الأحداث التاريخية التالية من الأقدم الى الأحدث بوضع الرقم في المربع:

□ - وصول القائد البرتغالي البوكيرك الى سواحل شرقي افريقيا.

□ - رحلة السفينة سلطانه الى نيويورك.

□ - تولى السيد سعيد بن سلطان الحكم في عمان.

يتبع...

تابع السؤال الثالث:

٣- بلغ عدد سكان محافظة مسقط ٧٧٥,٨٧٨ نسمة، يعيشون على مساحة المحافظة البالغة ٣٥٠٠ كم ٢، احسب الكثافة السكانية لهذه المحافظة؟

السؤال الرابع: أجب عن الأسئلة التالية : (٨ درجات)

١- اقرأ النص التالي للرئيس الأمريكي الأسبق جيمي كارتر، ثم أجب عن الأسئلة التي تليه.

"على مر السنين أعجبت شخصيا بجهود جلالة السلطان الشجاعة في منطقتة من العالم، لقد نشر جلالتة السلام بطرق عديدة، إن حصول جلالتة على جائزة السلام الدولية ما هو إلا اعتراف دولي بدور جلالتة الفاعل في خدمة السلام الدولي"

أ- في أي عام حصل جلالة السلطان قابوس على جائزة السلام الدولية؟

.....

ب- لخص في نقاط مظاهر فرحة المواطنين بعد سماع خطاب جلالة السلطان قابوس حفظه الله ورعاه الأخير من ألمانيا واطمئنانهم على صحته وسلامته؟

.....

.....

.....

ج- أعط دليلا على تعاون السلطنة مع اليونسكو في مجال صون البيئة؟

.....

.....

تابع السؤال الرابع:

٢- أكمل الجدول التالي:

م	اسم المنظمة	الاختصاص
١	تطعيم الأطفال ضد الشلل
٢	منظمة العمل الدولية
٣	حقوق الطفل

٢- قدم دليلا واحدا على كل من:

(أ) ارتفاع نسبة النوع في دولة قطر.

.....

.....

(ب) قدرة الشيخ أحمد بن النعمان الكعبي على تولي المهام الدولية.

.....

.....

(٦)

انتهت الأسئلة مع التمنيات للجميع بالنجاح



بِسْمِ اللَّهِ الرَّحْمَنِ الرَّحِيمِ

" رَبِّ اجْعَلْ لِي قَلْبًا عَاقِلًا وَيَسِّرْ لِي أَمْرِي "

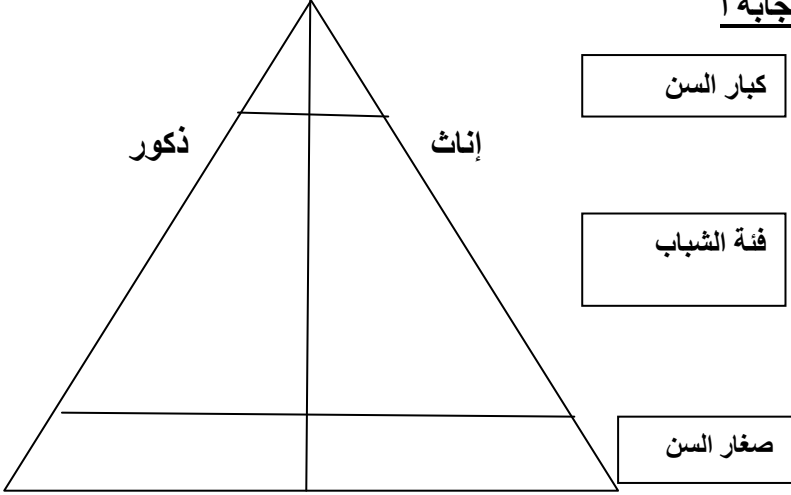
مِنَاطِنَةُ عُثْمَانَ
وَأَذَانَ الرَّبِّيَّةِ وَالتَّحْلِيمِ
المديرية العامة للتربية والتعليم بمحافظة الظاهرة
دائرة التقويم التربوي

نموذج إجابة امتحان نهاية الفصل الدراسي الأول - الدور الأول العام الدراسي ٢٠١٤/٢٠١٥م

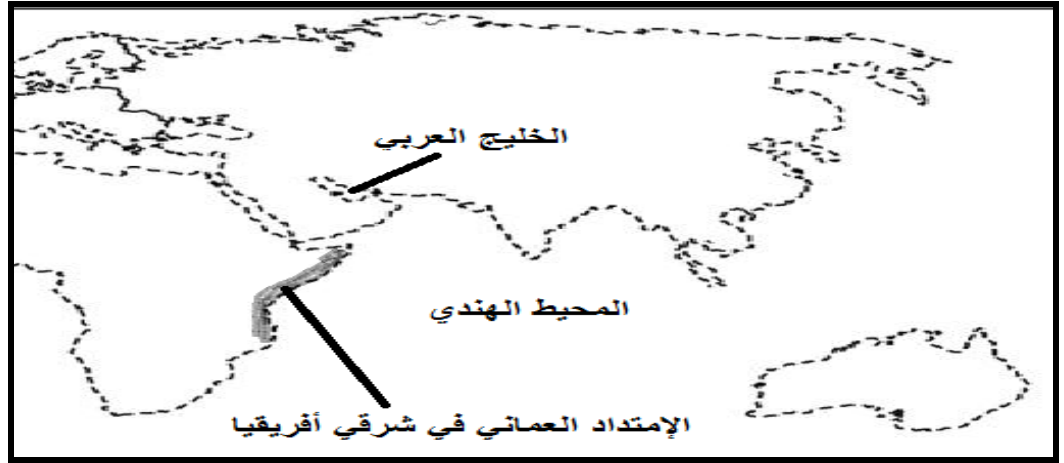
الصف : التاسع	المادة : الدراسات الاجتماعية	الزمن : ساعة ونصف	الدرجة : ٤٠ درجة
---------------	------------------------------	-------------------	------------------

إجابة السؤال الأول : (١٦ درجة لكل مفردة درجتان)

رقم المفردة	١	٢	٣	٤	٥	٦	٧	٨
رمز الإجابة	أ	ج	أ	د	أ	ب	ب	أ
الإجابة	صغار السن	١٣٦,١	١	سعيد بن سلطان	١	التمر مع التوابل	١٩٧٢م	الفاو
الدرجة	٢	٢	٢	٢	٢	٢	٢	٢
الصفحة	١٥	١٧	٣٥	٤٧	٥٤	٥٤	٧٥	٨٤

م	الإجابة	الدرجة	الصفحة
١	<p>إجابة أ</p> 	٣	٢٣
	<p>إجابة ب : من خلال التسجيل الحيوي (سجل الأحوال المدنية) لأنه يتناول كل الأحداث الحيوية التي تطرأ على الإنسان منذ ولادته وحتى وفاته وأحواله الشخصية.</p>	٢	١٣
-٢	<p>أ- أمد الحياة: عدد السنوات المتوقع أن يعيشها الإنسان.</p> <p>ب- الزيادة الطبيعية هي الفرق بين اعداد المواليد والوفيات في المجتمع.</p>	١	٢١
-٣	<p>بسبب هجرة الذكور للعمل في شركات النفط والغاز في هذه المحافظة .</p>	١	١٧

إجابة السؤال الثالث : (٨ درجات)



٤

- أ- درجة لتوقيع موقع الخليج العربي.
 ب- درجتان لتظليل الامتداد العماني .
 ج- درجة على المكان الصحيح للمحيط الهندي.

م	الإجابة	الدرجة	الصفحة
٢-	<p>تابع السؤال الثالث</p> <p>الترتيب الصحيح للأحداث التاريخية :</p> <div style="display: flex; justify-content: space-around; align-items: center;"> <div style="border: 1px solid black; padding: 5px; width: 40px; text-align: center;">٢</div> <div style="border: 1px solid black; padding: 5px; width: 40px; text-align: center;">٣</div> <div style="border: 1px solid black; padding: 5px; width: 40px; text-align: center;">١</div> </div>	٣ درجات (يعطى الطالب درجة لكل مفردة)	٤٤-٤٠
٣-	<p>الكثافة السكانية = $\frac{775,878}{3500}$</p> <p>= ٢٢١,٦ نسمة لكل كم ٢</p>	١	٣٦

إجابة السؤال الرابع: (٨ درجات)

م	الإجابة	الدرجة	الصفحة												
١-	أ- عام ١٩٩٨ م . ب- يقدر المعلم اجابة الطالب .	١	٨٨												
	ج- تخصيص جلالته جائزة دولية لصون البيئة وأنشئت هذه الجائزة عام ١٩٨٩ م بمبادرة كريمة من جلالته .	١	٨٩												
٢-	<table border="1"> <thead> <tr> <th>م</th> <th>اسم المنظمة</th> <th>اختصاصها</th> </tr> </thead> <tbody> <tr> <td>١</td> <td><u>منظمة الصحة العالمية</u></td> <td>-----</td> </tr> <tr> <td>٢</td> <td>-----</td> <td><u>تحديد ساعات العمل -حماية العمال من الإصابات الناتجة عن العمل....الخ</u></td> </tr> <tr> <td>٣</td> <td><u>صندوق الأمم المتحدة لرعاية الطفولة</u></td> <td>-----</td> </tr> </tbody> </table>	م	اسم المنظمة	اختصاصها	١	<u>منظمة الصحة العالمية</u>	-----	٢	-----	<u>تحديد ساعات العمل -حماية العمال من الإصابات الناتجة عن العمل....الخ</u>	٣	<u>صندوق الأمم المتحدة لرعاية الطفولة</u>	-----	٣ درجات لكل تكملة درجة	٨٥-٨٤
م	اسم المنظمة	اختصاصها													
١	<u>منظمة الصحة العالمية</u>	-----													
٢	-----	<u>تحديد ساعات العمل -حماية العمال من الإصابات الناتجة عن العمل....الخ</u>													
٣	<u>صندوق الأمم المتحدة لرعاية الطفولة</u>	-----													
٣-	أ- لاختلاف نوعية المهاجرين فالغالبية من الذكور. (او ما يشير الى المعنى) ب- لأنه كان يجيد اللغتين الانجليزية والفرنسية وملم بعلوم البحار لا سيما المحيط الهندي والأطلسي.	١	١٦												
		١	٤٤												

” نهاية نموذج الإجابة ”

إعداد وحدة إشراف الدراسات الاجتماعية
٩٩٤٥٧١٧٢