



امتحان الصف التاسع
للعام الدراسي ١٤٣٨/١٤٣٩ هـ - ٢٠١٧/٢٠١٨ م
الدور الأول - الفصل الدراسي الأول

● المادة: الدراسات الاجتماعية

● عدد صفحات أسئلة الامتحان: (٧) صفحات.

● زمن الإجابة: ساعة ونصف فقط

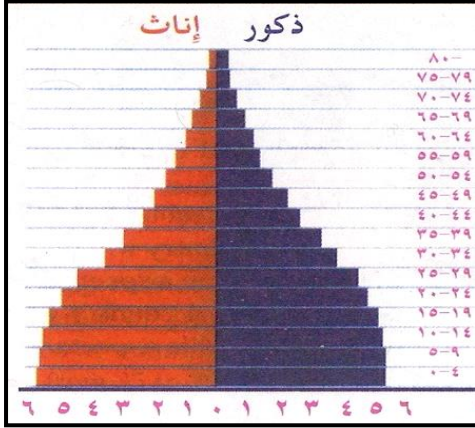
● الإجابة في الورقة نفسها.

اسم الطالب		
الصف	المدرسة	

التوقيع بالاسم		الدرجة		السؤال
المصحح الثاني	المصحح الأول	بالحروف	بالأرقام	
				١
				٢
				٣
				٤
مراجعة الجمع	جمعه			المجموع
				المجموع الكلي

أجب عن جميع الأسئلة الآتية

السؤال الأول: ضع دائرة حول رمز الإجابة الصحيحة لكل مفردة من المفردات الآتية:
(١) الخصائص السكانية التي يمثلها الهرم السكاني للمكسيك كما يوضحه الشكل المقابل:



أ. ارتفاع نسبة صغار السن وارتفاع نسبة كبار السن.

ب. ارتفاع نسبة صغار السن وانخفاض نسبة كبار السن.

ج. ارتفاع نسبة متوسطي السن وارتفاع نسبة كبار السن.

د. ارتفاع نسبة متوسطي السن وانخفاض نسبة صغار السن.

(٢) بلغ عدد الذكور في سلطنة عمان حسب تعداد ٢٠١٠ م (٩٩٠,٥٩٠) وعدد الإناث (٩٦٦,٧٤٦) عليه فإن نسبة النوع تساوي:

أ. ١٠٢ ب. ١٠٤ ج. ١٠٦ د. ١٠٨

(٣) تختص منظمة الإيسيسكو التابعة لمنظمة المؤتمر الإسلامي بـ:

أ. التجارة والاستثمار
ب. الفقه الإسلامي
ج. إرساء الأمن والسلام
د. التربية والعلوم والثقافة

(٤) جميع الصور التالية تعبر عن الحقوق المشروعة للطفل ماعدا:



ب.



أ.



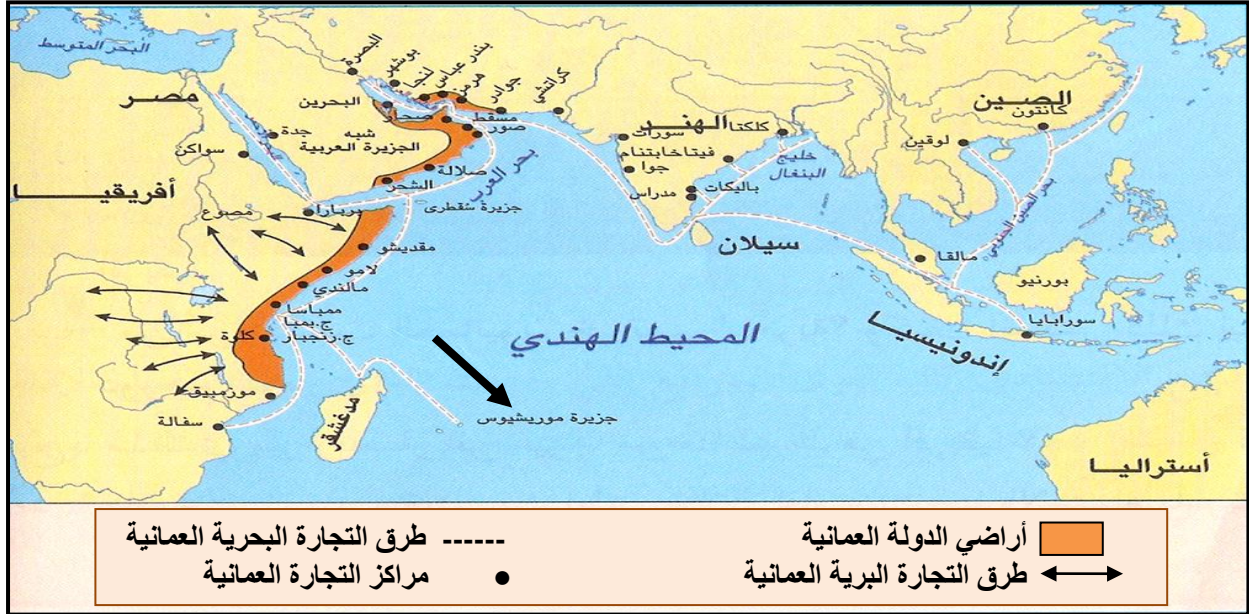
د.



ج.

تابع السؤال الأول:

من خلال خريطة (الطرق والمراكز التجارية في المحيط الهندي) التالية يتم حل السؤالين (٥ - ٦):



(٥) تمثل المنطقة المظللة على الخريطة:

- أ. طرق التجارة البرية
ب. أراضي الدولة العمانية
ج. مناطق السيطرة البرتغالية
د. طرق التجارة البحرية

(٦) المحصول الذي شجع السيد سعيد بن سلطان إدخاله إلى زنجبار من الجزيرة المشار إليها بالرمز (←) على الخريطة:

- أ. جوز الهند ب. الأرز ج. القرنفل د. قصب السكر

(٧) يعد من الطرق التجارية الأكثر أماناً للقوافل العربية في شرقي أفريقيا:

- أ. الأوسط ب. الجنوبي ج. الشمالي د. الغربي

(٨) المعادلة الحسابية التي تقيس نسبة الإعالة في مجتمع ما:

- أ. $\frac{\text{عدد العاملين المنتجين}}{\text{عدد السكان المعالين غير العاملين}} \times 100$
ب. $\frac{\text{عدد السكان المعالين غير العاملين}}{\text{عدد العاملين المنتجين}} \times 100$
ج. $\frac{\text{عدد السكان المعالين غير العاملين}}{\text{عدد العاملين المنتجين}} \times 1000$
د. $\frac{\text{عدد العاملين المنتجين}}{\text{عدد السكان المعالين غير العاملين}} \times 1000$

السؤال الثاني:

أجب عن الأسئلة التالية:

أ) أكتب بين القوسين المفهوم الصحيح لكل عبارة مما يأتي:

١. () العلاقة بين عدد السكان والمساحة الأرضية التي يعيشون عليها.

٢. () الحالة الاجتماعية للسكان من حيث الحالة الزوجية والتعليمية واللغوية.

٣. () عملية جمع البيانات عن عينة ممثلة للمجتمع.

ب) يمثل الشكل المقابل (أحد أسباب الوفيات في العالم) ادرسه جيدا ثم أجب عن الأسئلة الآتية:



١. استنتج سبب الوفيات الواضح أمامك.....

٢. اقترح إجراءات للتقليل من أثر هذا العامل في ارتفاع معدلات الوفيات في العالم.

أ_

ب_

٣. برأيك: هل تؤثر الوفيات في تركيب السكان النوعي والعمرى؟

لا

نعم

ضع إشارة (✓) أمام الإجابة الصحيحة

فسر إجابتك.....

.....

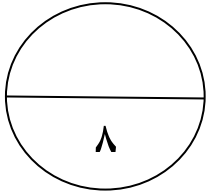
تابع السؤال الثاني:

(ج) ادرس الخريطة التالية جيدا ، ثم أجب على الأسئلة التالية:



١. ضع دائرة حول اسم المكان الذي وصل إليه الحكم العماني جنوبا على الساحل الشرقي لأفريقيا.

٢. ارسم على الخريطة باستخدام الرمز (←) خط سير السفن العمانية إلى الساحل الشرقي لأفريقيا في شهر نوفمبر.



السؤال الثالث:

أجب عن الأسئلة التالية:

أ) ١. أذكر نتيجة ترتبت على كل مما يلي:

أ. الجهد التعليمي الذي مارسه العمانيون في شرقي أفريقيا.

.....

ب. جهود حكومة السلطنة في مجال حماية البيئة دوليا.

.....

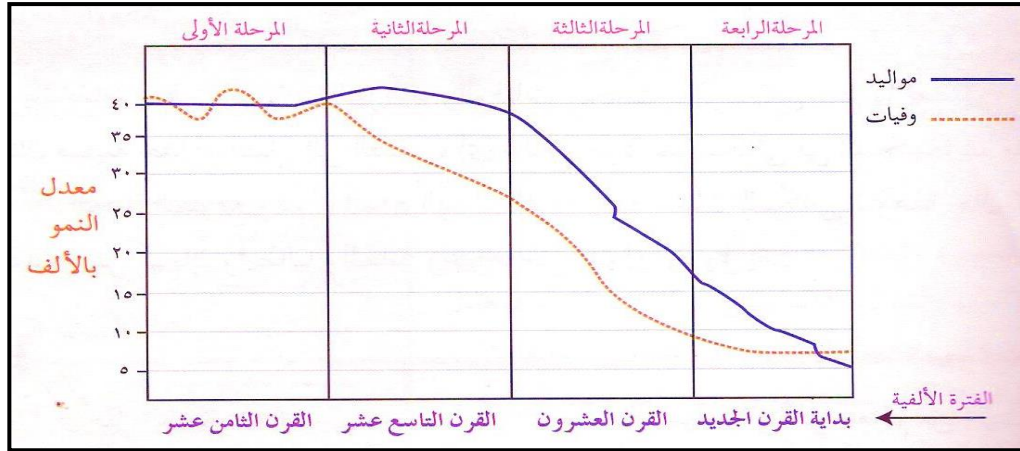
٢. أكتب اثنين من المزايا التي توفرها رابطة الدول المطلة على المحيط الهندي لسلطنة عمان.

أ_

ب_

تابع السؤال الثالث:

(ب) ادرس المخطط البياني (مراحل الانتقال السكاني) جيدا ثم أجب عن الأسئلة التي تليه:

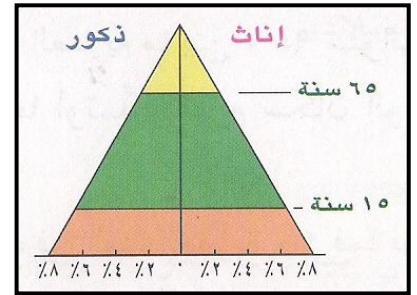
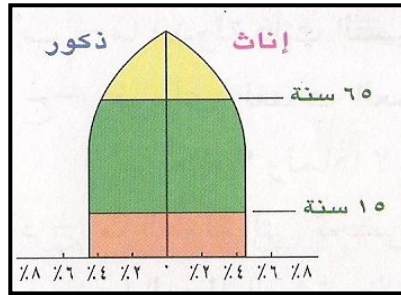


١. بلغ معدل المواليد في المرحلة الأولى بالألف. (أكمل بما يناسب)

٢. من الشكل ما خصائص النمو السكاني للمرحلة الثانية؟

.....

٣. أي الأهرام السكانية التالية، يوضح خصائص المرحلة الرابعة (انخفاض معدل المواليد وانخفاض معدل الوفيات)



ظل الرقم الدال على الإجابة الصحيحة

٢

١

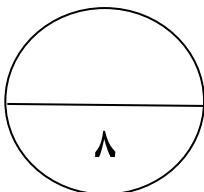
(ج) ١. دال على اهتمام حكومة السلطنة بتهيئة الظروف الاقتصادية لمواجهة تحديات العولمة.

أ-

ب-

٢. صنف في الجدول الذي أمامك منظمات هيئة الأمم المتحدة وفقا للهدف التابع لكل منها: (الفاو - اليونسكو)

الأهداف	اسم المنظمة
تعزيز التفاهم بين الأمم ونشر الثقافة العالمية.
دراسة ظروف الزراعة والتغذية في العالم.



السؤال الرابع:

أجب عن الأسئلة التالية:

أ) ١. عدد اثنين من فوائد البنية الاقتصادية لمجتمع ما.

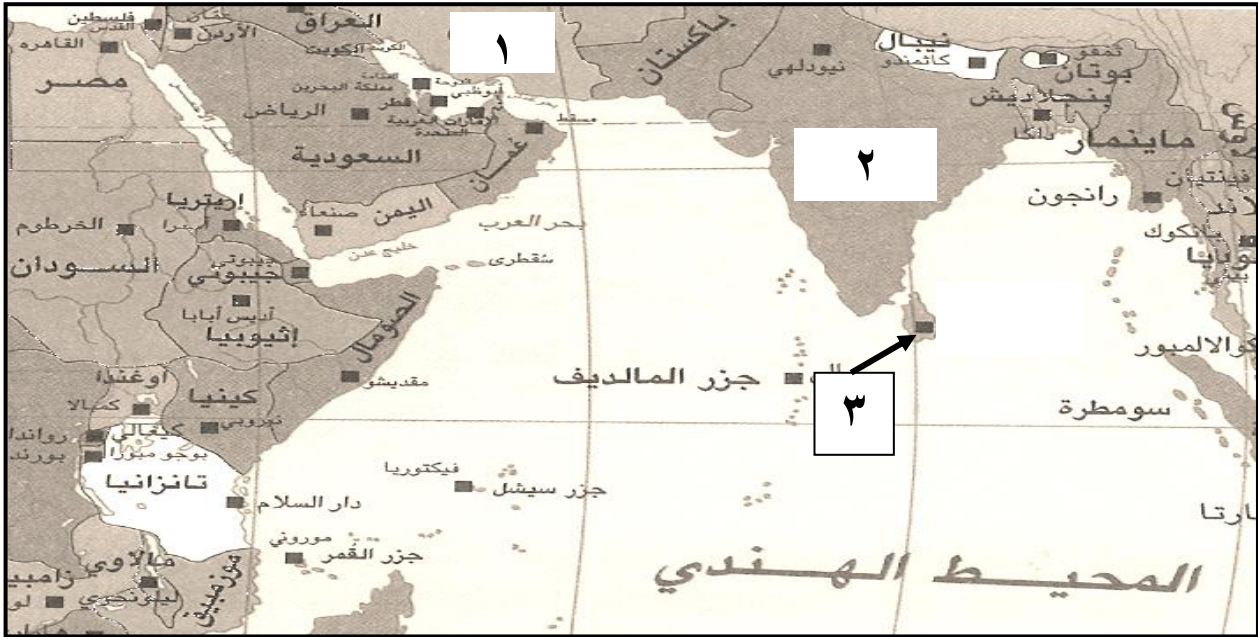
.....

.....

٢. صف معدل أمد الحياة (مرتفع / منخفض) فيما يلي:

.....	الدول المتقدمة
.....	الدول النامية


ب) أمامك خريطة (رابطة الدول المطلة على المحيط الهندي) ادرسها جيداً ثم أجب عن الأسئلة التي تليها:



١. سم كلا مما يلي:

أ. الدولة المنتسبة إلى رابطة الدول المطلة على المحيط الهندي والمشار إليها بالرقم (٢)

ب. الجزيرة المشار إليها بالرقم (٣) والتي تأثرت بأمواج تسونامي عام ٢٠٠٤م

٢. استخدم الرمز  في تظليل موقع الدولة التي نشأت من اتحاد تنجانيقا مع زنجبار في شرقي أفريقيا.

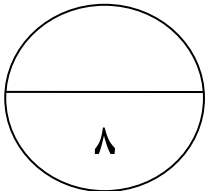
٣. علل/تقديم السلطنة المساعدات الإنسانية للدولة المشار إليها بالرقم (١) .

.....

تابع السؤال الرابع:

(ج) رتب الأحداث التاريخية بين القوسين في المسطرة الزمنية التالية:
 (انقسام الدولة العمانية بعد وفاة السيد سعيد بن سلطان - استقلال زنجبار عن الدولة العمانية
 - رحلة السفينة سلطنة إلى مدينة نيويورك - عقد اتفاقية زنجبار بين ألمانيا وبريطانيا)

.....	١٨٤٠م
.....	١٨٥٦م
.....	١٨٩٠م
.....	١٩٦٣م





نموذج إجابة امتحان الصف التاسع
للعام الدراسي ١٤٣٩/١٤٣٨ هـ - ٢٠١٧/٢٠١٨ م
الدور الأول - الفصل الدراسي الأول

المادة: الدراسات الاجتماعية .
الدرجة الكلية: (٤٠) درجة.
تنبيهه: نموذج الإجابة في (٧) صفحات.

أولاً: إجابة السؤال الموضوعي:

المفردة	البديل الصحيح	الإجابة	الدرجة	الصفحة
١	ب	ارتفاع نسبة صغار السن وانخفاض نسبة كبار السن.	٢	٢٤
٢	أ	١٠٢	٢	١٨
٣	د	التربية والعلوم والثقافة	٢	٧٥
٤	د		٢	٨٥
٥	ب	أراضي الدولة العمانية	٢	٤٤
٦	ج	القرنفل	٢	٥١
٧	أ	الأوسط	٢	٥٢
٨	ب	$100 \times \frac{\text{عدد السكان المعالين غير العاملين}}{\text{عدد العاملين المنتجين}}$	٢	١٥
		المجموع	١٦ درجة فقط	

يتبع/٢

(٢)

تابع نموذج إجابة امتحان الصف التاسع
للعام الدراسي ١٤٣٨/١٤٣٩ هـ - ٢٠١٧/٢٠١٨ م
الدور الأول - الفصل الدراسي الأول
المادة : دراسات اجتماعية

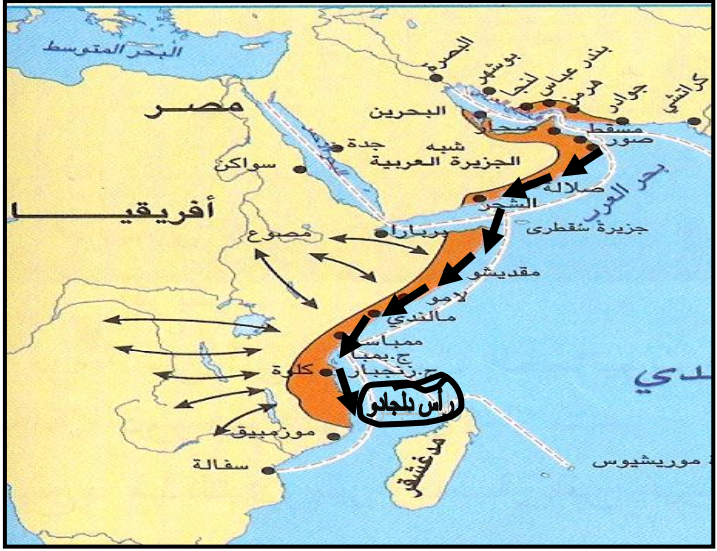
ثانيا: إجابة الأسئلة المقالية:

الدرجة الكلية: (٨) درجات فقط		إجابة السؤال الثاني		
الصفحة	الدرجة	الإجابة الصحيحة	المفردة	الجزئية
٣٢	١	الكثافة السكانية	١	أ
٢١	١	البنية الاجتماعية	٢	
١٣	١	المسوحات بالعينة	٣	
٢٩	١	الحوادث المرورية أو حوادث السير على الطرقات ■ ملاحظة (يُراعى ما يفيد المعنى ضمن سياق السبب المطلوب)	١	ب
	١	وضع أجهزة ضبط السرعة وإشارات المرور. المخالفات والقوانين المرورية. التوعية المرورية مثل (عدم استخدام الهاتف النقال). الكشف الدوري للتأكد من سلامة المركبة. رفع السن القانونية لقائدي السيارات. (يكتفي باثنين فقط لكل نصف درجة) ■ ملاحظة (يراعى أسلوب الطالب في التعبير عن رأيه)	٢	
	1/2	1/2	٣	
		هي من العوامل التي تعمل على خفض عدد السكان تتأثر بالمتغيرات الاقتصادية والاجتماعية التي تسود المجتمعات فقد تزيد نسبة الذكور في المجتمعات النامية والدول الفقيرة وتقل في الدول المتقدمة الغنية تزيد بين فئات الأعمار الكبيرة والصغيرة وتحدث للذكور أكثر من الإناث. ■ ملاحظة (يُراعى ما يفيد المعنى حسب فهم الطالب للموضوع)		

(٣)

تابع نموذج إجابة امتحان الصف التاسع
للعام الدراسي ١٤٣٨ / ١٤٣٩ هـ - ٢٠١٧ / ٢٠١٨ م
الدور الأول - الفصل الدراسي الأول
المادة : دراسات اجتماعية

ثانيا: إجابة الأسئلة المقالية:

الدرجة الكلية: (٨) درجات فقط		تابع إجابة السؤال الثاني		
الصفحة	الدرجة	الإجابة الصحيحة	المفردة	الجزئية
٤٦	١	١- توضع الدائرة على الخريطة وهي (رأس دلجادو)		
٤١	١	٢- يكون رسم الرمز (←) على الخريطة (في شهر نوفمبر من كل سنة تندفع الرياح الموسمية نحو الجنوب الغربي فتخرج السفن من بحر عمان إلى المحيط الهندي ثم تسير بمحاذاة الساحل الأفريقي الشرقي.) 		ج

يتبع / ٤

(٤)

تابع نموذج إجابة امتحان الصف التاسع
للعام الدراسي ١٤٣٨/١٤٣٩ هـ - ٢٠١٧/٢٠١٨ م
الدور الأول - الفصل الدراسي الأول
المادة : دراسات اجتماعية

ثانيا: إجابة الأسئلة المقالية:

الدرجة الكلية: (٨) درجات فقط		إجابة السؤال الثالث	
الصفحة	الدرجة	الإجابة الصحيحة	المفردة
٥٧	١	<p>(أ) -أزالت الأمية بين المجموعات الأفريقية. -مهدت الطريق لارتباط هذه المجموعات بالعالم العربي الإسلامي. -أصبحت المجموعات الأفريقية المسلمة تعبر عن رغبتها في الانتماء والارتباط بالعنصر العربي في صور مختلفة تنعكس في تراثها. (يكتفى بإجابة واحدة فقط)</p>	١
٨٩	١	<p>(ب) تم اختيار السلطنة من بين الدول العشر الأكثر اهتماما وعناية بالبيئة على المستوى الدولي. - التقدير الدولي الواسع . " يكتفى بواحدة فقط "</p>	١
٨٠	١	<p>- زيادة حجم السوق الذي يصل عدد مستهلكيه إلى حوالي (١٧٠٠) مليون نسمة. - المساهمة في وجود أسواق واسعة للمنتجات العمانية. - الإفادة من خبرات بعض الدول في المجالات العلمية والتقنية. - جعل السلطنة مركزا للخدمات المالية وخدمات الصيانة. ■ ملاحظة/ (يكتفى بإجابة واحدة فقط) (يُراعى ما يفيد المعنى حسب فهم الطالب للموضوع)</p>	٢
٢٦ - ٢٣	١		١
	١	-ارتفاع في معدلات المواليد وانخفاض في معدلات الوفيات	٢
	١		٣

(٥)

تابع نموذج إجابة امتحان الصف التاسع
للعام الدراسي ١٤٣٨/١٤٣٩ هـ - ٢٠١٧/٢٠١٨ م
الدور الأول - الفصل الدراسي الأول
المادة : دراسات اجتماعية

ثانيا: إجابة الأسئلة المقالية:

الدرجة الكلية: (٨) درجات		تابع إجابة السؤال الثالث							
فقط									
الصفحة	الدرجة	الإجابة الصحيحة	المفردة						
٩١	١	<p>- تشريع القوانين واللوائح المنظمة للاستثمارات الأجنبية في البلاد. - إصدار قانون الملكية الفكرية. - تطوير وتحديث المؤسسات القانونية والقضائية. - الدخول في المشاريع الاقتصادية العملاقة. - تشجيع الشباب العماني بمختلف الوسائل لدخول سوق العمل والانخراط في مختلف المهن. - المحافظة على الحرف التقليدية وتطويرها. - إلغاء الرسوم الجمركية عن بعض البضائع الواردة من بعض الدول العربية. - توقيع الاتفاقيات الاقتصادية مع دول العالم.</p> <p>■ ملاحظة/ (يكتفي باثنين فقط لكل نصف درجة) (يراعى أسلوب الطالب في الإجابة)</p>	١						
٨٤ - ٨٢	١	<table border="1"><thead><tr><th>الأهداف</th><th>اسم المنظمة</th></tr></thead><tbody><tr><td>تعزيز التفاهم بين الأمم ونشر الثقافة العالمية.</td><td>اليونسكو</td></tr><tr><td>دراسة ظروف الزراعة والتغذية في العالم.</td><td>الفاو</td></tr></tbody></table> <p>■ ملاحظة/ (لكل إجابة نصف درجة فقط)</p>	الأهداف	اسم المنظمة	تعزيز التفاهم بين الأمم ونشر الثقافة العالمية.	اليونسكو	دراسة ظروف الزراعة والتغذية في العالم.	الفاو	٢
الأهداف	اسم المنظمة								
تعزيز التفاهم بين الأمم ونشر الثقافة العالمية.	اليونسكو								
دراسة ظروف الزراعة والتغذية في العالم.	الفاو								

(٦)

تابع نموذج إجابة امتحان الصف التاسع
للعام الدراسي ١٤٣٨/١٤٣٩ هـ - ٢٠١٧/٢٠١٨ م
الدور الأول - الفصل الدراسي الأول
المادة : دراسات اجتماعية

ثانيا: إجابة الأسئلة المقالية:

إجابة السؤال الرابع		الدرجة الكلية: (٨) درجات فقط				
الجزئية	المفردة	الإجابة الصحيحة	الدرجة			
أ	١	- معرفة نسب القوى العاملة وحجمها وأهميتها. - معرفة معدلات الباحثين عن عمل وتوزيعها حسب العمر والنوع والمهنة. - معرفة السكان النشيطين اقتصاديا. ■ ملاحظة/ (يكتفى باثنين فقط لكل نصف درجة)	٢٠			
	٢	<table border="1"> <tr> <td>الدول المتقدمة</td> <td>مرتفع</td> </tr> <tr> <td>الدول النامية</td> <td>منخفض</td> </tr> </table> ■ ملاحظة/ (لكل إجابة نصف درجة)	الدول المتقدمة	مرتفع	الدول النامية	منخفض
الدول المتقدمة	مرتفع					
الدول النامية	منخفض					
ب	١	أ. الهند.	٧٩			
		ب. - سيريلانكا (سيلان - سرنديب) تراعى المسميات الجغرافية والتاريخية المرادفة لسيريلانكا	٧٧			
	٢	يتم رسم الرمز  على الخريطة لتحديد// (موقع جمهورية تنزانيا الاتحادية). 	٦٣			
٣	بسبب// تعرضها للنكبات والكوارث الطبيعية.	٧٦				

(٧)

تابع نموذج إجابة امتحان الصف التاسع
للعام الدراسي ١٤٣٨/١٤٣٩ هـ - ٢٠١٧/٢٠١٨ م
الدور الأول - الفصل الدراسي الأول
المادة : دراسات اجتماعية

ثانيا: إجابة الأسئلة المقالية:

الدرجة الكلية: (٨) درجات فقط		تابع إجابة السؤال الرابع		
الصفحة	الدرجة	الإجابة الصحيحة	المفردة	الجزئية
٤٤	1/2	رحلة السفينة سلطنة إلى مدينة نيويورك	١٨٤٠م	ج
٦٢	1/2	انقسام الدولة العمانية بعد وفاة السيد سعيد بن سلطان	١٨٥٦م	
٦٣	1/2	عقد اتفاقية زنجبار بين ألمانيا وبريطانيا	١٨٩٠م	
٦٣	1/2	استقلال زنجبار عن الدولة العمانية	١٩٦٣م	

نهاية نموذج الإجابة