



## الإجابة في الورقة نفسها

المديرية العامة للتربية والتعليم لمحافظة شمال الباطنة

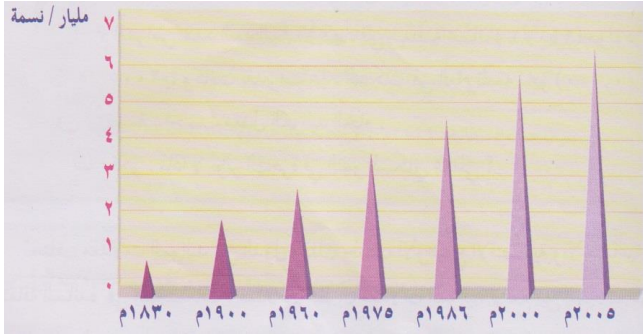
امتحان نهاية الفصل الدراسي الاول - الدور الاول - العام الدراسي ٢٠١٣/٢٠١٤م

## مادة : الدراسات الاجتماعية - الصف : التاسع

- اسم الطالب: .....
- تنبيه: الاختبار في ( ٤ ) ورقات

## أجب عن جميع الأسئلة الآتية

السؤال الأول : ضع دائرة حول رمز الاجابة الصحيحة من بين البدائل المعطاة :-



١- بلغ النمو السكاني في العالم كما يوضحه الشكل المقابل ، ما يقارب ٢مليار في العام الميلادي :

- أ. ١٩٠٠ ب. ١٩٧٥  
ج. ١٩٨٥ د. ٢٠٠٠

٢- تمكن الشيخ حميد بن محمد المرجبي من تأسيس إمارة عربية إسلامية في اعالي :

- أ. رواندا ب. اوغنده ج. زامبيا د. الكونغو

٣- توفي السيد سعيد بن سلطان في العام ١٨٥٦م بالقرب من جزيرة :

- أ. سومطرة ب. سوقطرة ج. سيشل د. موريشيوس

٤- هاجر اولاد الجلندي من عمان الى شرقي افريقيا في القرن الهجري :

- أ. الأول ب. الثاني ج. الثالث د. الرابع

٥- الوزارة التي تمثل السلطنة في المجلس الدولي للحكومي للبرنامج الدولي لتنمية الاتصال :

- أ. التنمية الاجتماعية ب. الاقتصاد الوطني ج. التراث والثقافة د. الاعلام

٦- تمنح جائزة السلطان قابوس لصون البيئة كل :

- أ. عام ب. عامين ج. ثلاثة اعوام د. أربعة اعوام

٧- جميع ما يلي أمثلة للبنية الاجتماعية ما عدا :

- أ. العمل ب. الزواج ج. التعليم د. اللغة

٨- اذا كان معدل المواليد الخام بالألف في سلطنة عمان ٤٣ ، ومعدل الوفيات الخام بالألف ٥ ، فإن الزيادة الطبيعية للسلطنة بالألف :

- أ. ٣٥ ب. ٣٦ ج. ٣٧ د. ٣٨

## السؤال الثاني:

١- أذكر مثالين على الوثائق المستخرجة من سجل الاحوال المدنية .

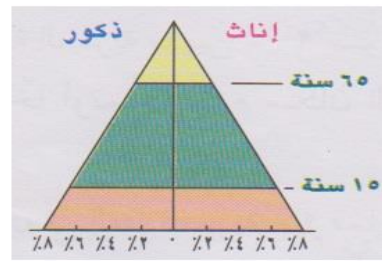
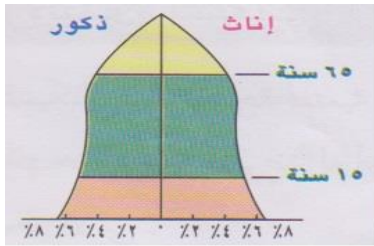
- ١- \_\_\_\_\_  
٢- \_\_\_\_\_

٢- أكتب المصطلح الدال على العبارات التالية بين القوسين :

- أ- الفرق بين الهجرة الخارجية والهجرة الداخلية للدولة (-----)  
ب- دراسة السكان من حيث التركيب العمري والنوعي والاقتصادي والاجتماعي (-----)

١- فسر : عقد السلطنة العديد من الاتفاقيات الاقتصادية والتجارية مع الدول الاسلامية .

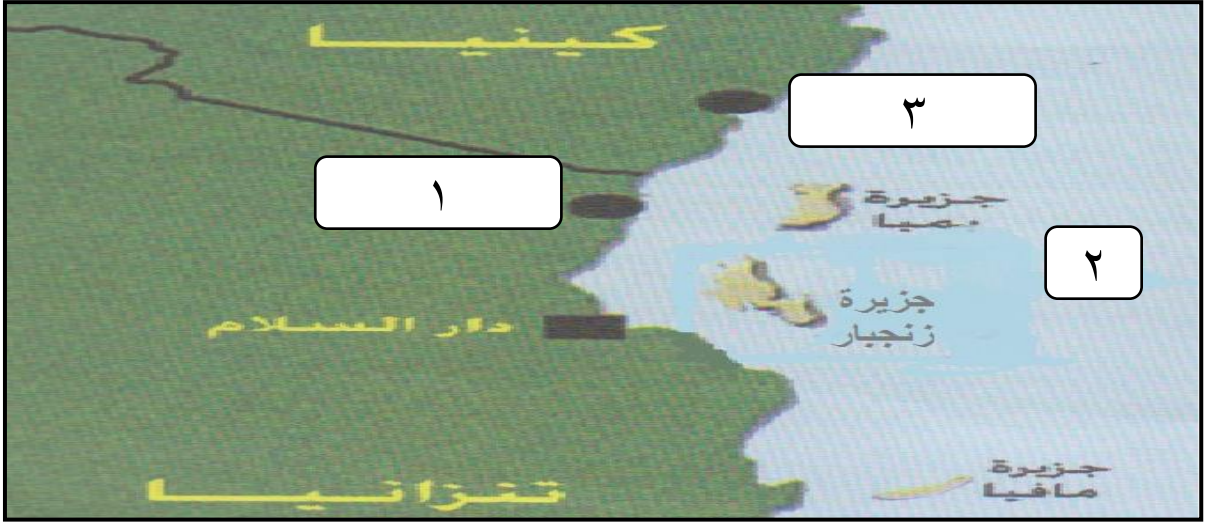
٢- ادرس الاشكال التالية ، والتي تمثل الاهرام السكانية ثم أكتب أسفل كل شكل نوع الهرم السكاني :-





ج) "لعب النقل الجوي دورا بارزا في تعزيز العلاقات العمانية مع زنجبار " أثبت صحة هذه العبارة.

(أ) ادرس الخريطة التي امامك جيدا ثم اجب عن الاسئلة التي تليها :



(١) الرقم الذي يشير الى موقع مدينة ممباسا (-----)

(٢) سم الجزيرة التي تقع الى الجنوب من جزيرة زنجبار .

(٣) أذكر أسم المسطح المائي المشار اليه بالرقم (٢).

(أ) **دلل على قدرة الشيخ أحمد بن النعمان الكعبي على قيادة وادارة السفن .**

(ج) **برايك / هل اختلاف نوعية المهاجرين يؤثر في نسبة النوع في المجتمعات :**

 لا

 نعم

( ضع إشارة ✓ )

**فسر اجابتك ؟**

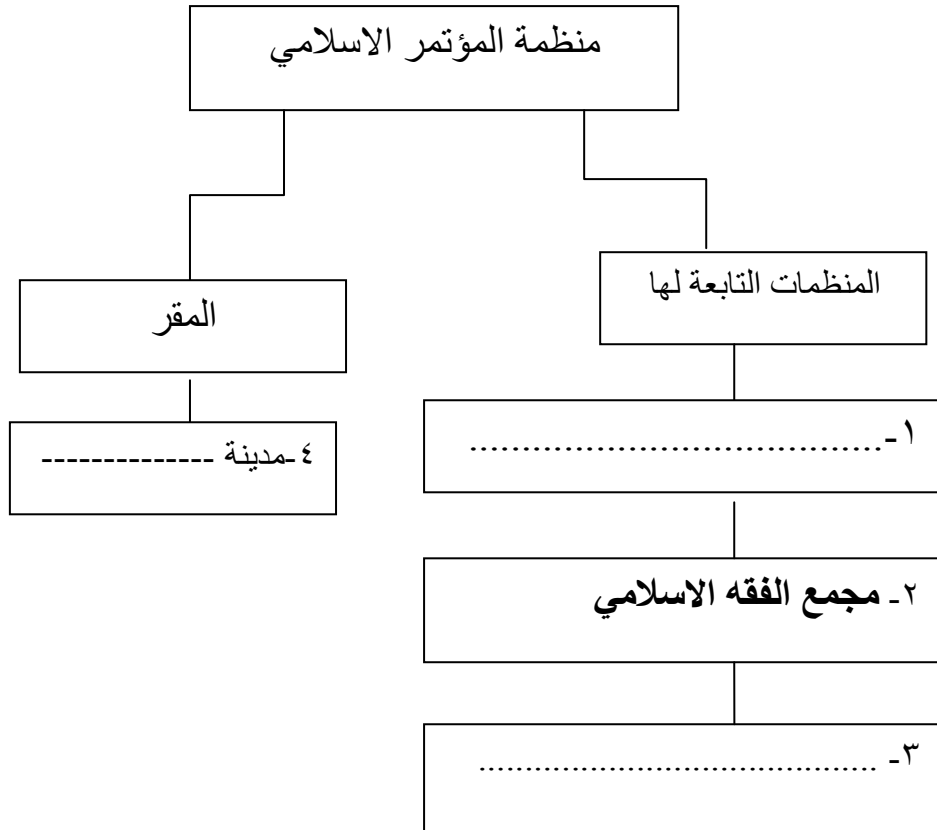
أ- عدد اثنين من فوائد التعداد السكاني .

أ) امامك مجموعة من الأسماء المختصرة للمنظمات الدولية ، صنفها في الجدول حسب المنظمة التي يمثلها :

( الجات / الفاو / اليونسكو )

منظمة الامم المتحدة للأغذية والزراعة	منظمة التجارة العالمية	منظمة الامم المتحدة للتربية والعلم والثقافة

ج) امامك خريطة المفاهيم ادرسها جيدا . ثم أكتب بجوار كل رقم الاجابة الصحيحة :



" انتهت الأسئلة مع تمنياتنا للجميع بالتوفيق والنجاح "

نموذج الإجابة امتحان الصف التاسع للعام الدراسي ٢٠١٣/٢٠١٤م


الدور الأول - الفصل الدراسي الأول

المادة الدراسات الاجتماعية - الدرجة الكلية ٤٠ درجة

إجابة السؤال الأول : (١٦ درجة) لكل مفردة درجتان عدد أوراق الإجابة ( ٣ )

رقم المفردة	١	٢	٣	٤	٥	٦	٧	٨
رمز الإجابة	أ	د	ج	أ	د	ب	أ	د
الإجابة	١٩٠٠	الكونغو	سيشل	الأول	الاعلام	عامين	العمل	٣٨
الصفحة	٢٧	٥٣	٤٥	٤٠	٨٣	٨٩	٢١	٣٠
الدرجة	٢	٢	٢	٢	٢	٢	٢	٢
الوحدة	الأولى	الثانية	الثانية	الثانية	الثالثة	الثالثة	الأولى	الأولى

إجابة السؤال الثاني (٨ درجات)

المفردة	الإجابة	الدرجة	الصفحة	الوحدة
أ	١- شهادة الميلاد / شهادة الوفاة / عقد الزواج / وثيقة الطلاق (يكتفى بذكر أثنان لكل درجة)	١+١	١٣	الأولى
	٢- أ- صافي الهجرة . ب - بنية السكان .	١ ١	٢٨ ١٥	الأولى
ب	١- زيادة الاستثمار بين الطرفين إذ أستقدم المختصين فيها للمشاركة في بناء النهضة الحديثة في مختلف المجالات. (يراعى اجابات الطلبة ) ٢- الاشكال :	١	٧٤	الثالثة
	 <div style="display: flex; justify-content: space-around; margin-top: 10px;"> <div style="border: 1px solid black; padding: 5px; text-align: center;">                 الهرم السكاني ذو القاعدة المتوسطة             </div> <div style="border: 1px solid black; padding: 5px; text-align: center;">                 الهرم السكاني ذو القاعدة العريضة             </div> </div>	١+١	٢٣	الأولى

لكل مفردة درجة

تابع اجابة السؤال الثاني

المفردة	الاجابة	الدرجة	الصفحة	الوحدة
ج	من خلال تسيير الطيران العماني خمس رحلات اسبوعية مباشرة من مسقط الى زنجبار . ( تراعى اجابات الطلبة بما يفيد المعنى) .	١	٦٤	الثانية

اجابة السؤال الثالث (٨ درجات)

المفردة	الإجابة	الدرجة	الصفحة	الوحدة
أ	*سؤال الخريطة : ١-الرقم (٣) ٢-مافيا ٣-المحيط الهندي	١ ١ ١	٤٩	الثانية
ب	قام بالرحلة المشهورة على ظهر السفينة (سلطانة) الى نيويورك ١٨٤٠م / قام برحلة الى فرنسا . (يكتفى بذكر مثال)	٢	٤٤	الثانية
ج	وضع الطالب اشارة صح ( ✓ ) امام نعم (درجة) . التفسير: لأن الغالبية تكون من الذكور مما يؤدي الى تباين في النسبة في البلد المستقبل والبلد المرسل ( تراعى اجابات الطلبة بما يفيد المعنى) . (درجتان)	١ ٢	١٦	الأولى

إجابة السؤال الرابع (٨ درجات)

المفردة	الإجابة	الدرجة	الصفحة	الوحدة						
أ	<p>١- يوفر مخزوناً كبيراً من البيانات والمعلومات عن السكان خلال فترة زمنية تساعد أصحاب القرار في مؤسسات الدولة على وضع الخطط التنموية المستقبلية اللازمة في ضوء المتغيرات السكانية حسب المناطق التي يتوزع فيها السكان .</p> <p>٢- معرفة العدد الفعلي للسكان حسب فئات الأعمار في التخطيط لبناء المدارس وإقامة المستشفيات وشبكة المواصلات .</p> <p>٣- يساعد الباحثين وطلبة العلم في معالجة البيانات ودراساتها ومن ثم وضع التوصيات اللازمة والضرورية .</p> <p>(تراعى اجابات الطلبة بما يفيد المعنى) (يكتفى بذكر اثنين ولكل درجة )</p>	١	١١	الأولى						
ب	<p>التصنيف:</p> <table border="1"> <tr> <td>منظمة الامم المتحدة للتربية والعلم والثقافة</td> <td>منظمة التجارة العالمية</td> <td>منظمة الامم المتحدة للأغذية والزراعة</td> </tr> <tr> <td>اليونسكو</td> <td>الجات</td> <td>الفاو</td> </tr> </table>	منظمة الامم المتحدة للتربية والعلم والثقافة	منظمة التجارة العالمية	منظمة الامم المتحدة للأغذية والزراعة	اليونسكو	الجات	الفاو	١ ١ ١	٨٢ ٩١ ٨٤	الثالثة
منظمة الامم المتحدة للتربية والعلم والثقافة	منظمة التجارة العالمية	منظمة الامم المتحدة للأغذية والزراعة								
اليونسكو	الجات	الفاو								
ج	<p><u>خريطة المفاهيم:</u></p> <pre> graph TD     A[منظمة المؤتمر الاسلامي] --&gt; B[المنظمات المتابعة]     B --&gt; C[١- البنك الاسلامي للتنمية]     B --&gt; D[المقر]     C --&gt; E[٣- المنظمة الاسلامية للتربية والعلوم والثقافة ( ايسيسكو )]     D --&gt; F[٤- مدينة جدة]         </pre> <p>لكل مفردة درجة</p>	١ ١ ١	٧٥	الثالثة						
	<p>مجموع درجات الامتحان ( ١٦ + ٢٤ ) = ( ٤٠ ) درجة</p>									

"انتهى نموذج الاجابة "