



امتحان الصف الحادي عشر
للعام الدراسي ١٤٣٤/١٤٣٥ هـ - ٢٠١٣/٢٠١٤ م
الدور الثاني - الفصل الدراسي الأول

- المادة: الدراسات الاجتماعية (هذا وطني في السيرة الحضارية لعمان) • عدد صفحات أسئلة الامتحان: (٦).
- زمن الإجابة: ساعتان
- الإجابة في الورقة نفسها.

		اسم الطالب
		المدرسة
الصف		

(التوقيع بالاسم)		الدرجة بالحروف (بالأحمر)	الدرجة بالأرقام (بالأحمر)		السؤال
المدقق (بالأخضر)	المصحح (بالأحمر)		عشرات	آحاد	
					١
					٢
					٣
					٤
مراجعة الجمع والتشطيب (بالأزرق)	جمعه (بالأحمر)				المجموع
				٦٠	المجموع الكلي



امتحان الصف الحادي عشر

للعام الدراسي ١٤٣٤/١٤٣٥ هـ — ٢٠١٣ / ٢٠١٤ م

الدور الثاني - الفصل الدراسي الأول

- المادة: الدراسات الاجتماعية (هذا وطني في السيرة الحضارية لعمان)
- تنبيه: الأسئلة في (٦) صفحات.
- زمن الإجابة: ساعتان.


أجب عن جميع الأسئلة الآتية:

السؤال الأول: ضع دائرة حول رمز الإجابة الصحيحة لكل مفردة من المفردات الآتية:


- (١) تحد الأقاليم المعتدلة الرطبة سلطنة عمان من جهة:
- أ - الشمال. ب - الجنوب. ج - الشرق. د - الغرب.
- (٢) الرحالة الذي زار مدينة الشحر في القرن ١٣م، وأشار إلى شهرتها التجارية:
- أ - ابن بطوطة. ب - ماركو بولو. ج - ابن حوقل. د - جانج جيان.




(٣) تمتد سلسلة جبال الحجر الغربي على شكل قوس باتجاه:




د-



ج-

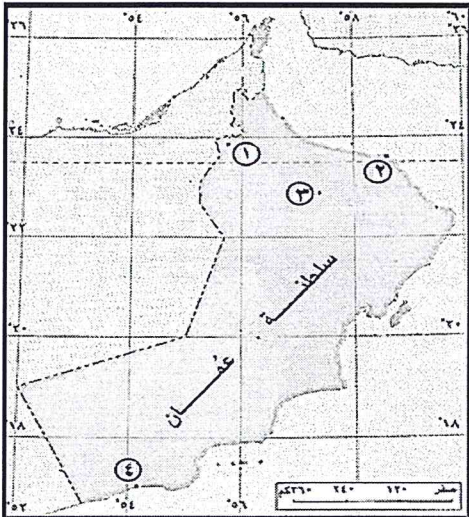


ب-



أ-

(٤) الرقم الذي يشير إلى عاصمة عمان الداخلية زمن مالك بن فهم:



- أ - ١
- ب - ٢
- ج - ٣
- د - ٤

(٥) المكان الأنسب لقضاء صيف معتدل في السلطنة:

- أ - قنتب. ب - صحار. ج - سيق. د - أدم.

(٢)

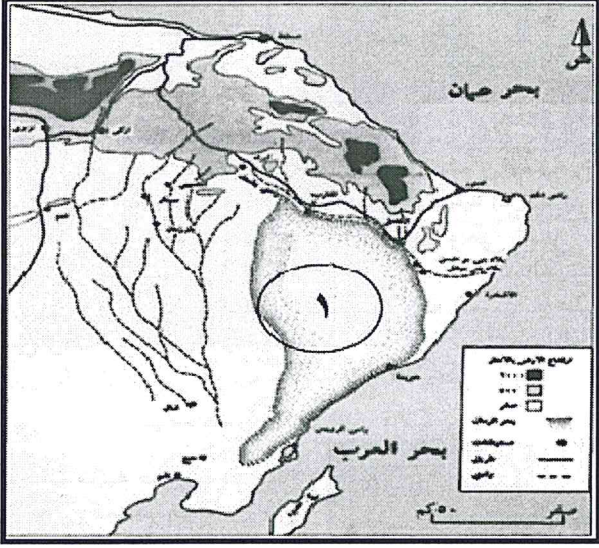
امتحان الصف الحادي عشر

للعام الدراسي ١٤٣٤/١٤٣٥ هـ — ٢٠١٣ / ٢٠١٤ م

الدور الثاني - الفصل الدراسي الأول

المادة : الدراسات الاجتماعية " هذا وطني "

تابع السؤال الأول:



٦ (الشكل التضاريسي المشار إليه بالرقم (١) في الخريطة المقابلة:

- أ - هضاب .
- ب - أخوار .
- ج - سلاسل جبلية .
- د - كثبان رملية .

٧ (المنطقة الجغرافية التي أطلق عليها السومريون اسم جبل النحاس في عمان:

- أ - الجنوبية .
- ب - الشرقية .
- ج - الغربية .
- د - الشمالية .

٨ (المعلم الأثري الأبرز الذي تشاهده عند زيارتك لمستوطنة بات:

- أ - معابد .
- ب - مدافن .
- ج - تماثيل صخرية .
- د - أسوار خارجية .

٩ (تتميز الأسرة العمانية قديماً بـ:

- أ - التكوين المعقد .
- ب - تأخر سن الزواج .
- ج - صغر الحجم .
- د - زيادة إنجاب الأطفال .

١٠ (السبب الأبرز لصراعات الفرس مع اليونان والرومان على سواحل عمان والخليج العربي:

- أ - تنوع مصادر الدخل .
- ب - تطبيق نظام الاحتكار التجاري .
- ج - التبادل التجاري مع الهند .
- د - الوصول إلى موانئ الصين .

١١ (المرتكز الذي يُحدد حقوق وواجبات المواطن العماني:

- أ - المحافظة على التراث الوطني .
- ب - الوحدة الوطنية .
- ج - الأطر الدستورية والقانونية .
- د - العادات والتقاليد .

١٢ (الخدمة التي تُعد من مجالات التنمية الاجتماعية العامة بالسلطنة:

- أ - الضمان الاجتماعي .
- ب - الكهرباء والمياه .
- ج - تأهيل الأسر المحتاجة .
- د - رعاية كبار السن .

(٣)

امتحان الصف الحادي عشر
للعام الدراسي ١٤٣٤/١٤٣٥ هـ — ٢٠١٣ / ٢٠١٤ م
الدور الثاني - الفصل الدراسي الأول
المادة : الدراسات الاجتماعية " هذا وطني "

السؤال الثاني:

أ (ما سبب تكون الأشكال التضاريسية الآتية؟:

سبب التكوين	الشكل التضاريسي
	سهل الباطنة
	واحات الرستاق
	خور السوادي
	كهف الهوته

ب) وصف الإصطخري عمان بأنها "مستقلة بأهلها كثيرة النخيل والفواكه كالموز والرمان والنبق وقصبتها صحار تقع على البحر وبها متاجر وتقصدها المراكب و عمان بلاد حارة جدا وبلغني ان بمكان بعيد عن البحر وقع ثلج دقيق" من خلال الوصف استنتج ما يأتي:

١- الأحوال السياسية لعمان في تلك الفترة.

.....
.....

٢- الأنشطة الاقتصادية التي يمارسها السكان.

.....
.....

٣- طبيعة المناخ في عمان.

.....
.....

٤- البحر الذي تطل عليه قسبة عمان.

.....

(٤)

امتحان الصف الحادي عشر

للعام الدراسي ١٤٣٤/١٤٣٥ هـ — ٢٠١٣ / ٢٠١٤ م

الدور الثاني - الفصل الدراسي الأول

المادة : الدراسات الاجتماعية " هذا وطني "

تابع السؤال الثاني:



ج) امامك خريطة لسلطنة عمان ادرسها جيداً،
ثم أجب عن الاسئلة الآتية:

١- وقع المناخات التي تتأثر بها السلطنة بكتابة
الحرف على الخريطة:

أ- شبه موسمي

ب- البحر المتوسط

٢- ما نوع الرياح المشار إليها بالرقم (١) على الخريطة؟
.....

٣- حدد على الخريطة موقع سبخة أم السميم
باستعمال الرمز (☀️).

١٢

السؤال الثالث :

أ) صنف العبارات الآتية حسب نوع العامل الذي أسهم في بناء الحضارة العمانية:

العامل	العبرة
	انتشار السهول الخصبة على السواحل.
	اتسام العمانيين بروح المغامرة وتحمل الصعاب.
	وجود تجار ورجال المال من مدنيات مختلفة في عمان.
	تشابه بعض الملابس العمانية مع أزياء شرقي أفريقيا.

ب) أجب عما يأتي:

١- تتبع محاولات الرومان للوصول إلى سواحل المحيط الهندي عبر اليمن وظفار.

.....
.....
.....
.....

(٥)

امتحان الصف الحادي عشر

للعام الدراسي ١٤٣٤/١٤٣٥ هـ — ٢٠١٣ / ٢٠١٤ م

الدور الثاني - الفصل الدراسي الأول

المادة : الدراسات الاجتماعية " هذا وطني "

تابع السؤال الثالث :

٢- رتب المواقع الأثرية الآتية من الأقدم إلى الأحدث حسب الفترة الزمنية التي تعود إليها:

الترتيب	الموقع
	موقع الواسط
	موقع الميسر
	مستوطنة صحار
	موقع سلوت

ج- فسّر العبارات الآتية:

١- يمثل موقع عمان الجغرافي بالنسبة لليابس والماء ظهيرين متناقضين للسكان.

.....
.....
.....
.....

٢- التنوع الثري في الأعراف والعادات والتقاليد العمانية.

.....
.....
.....
.....

السؤال الرابع :

أ) عدد اثنين لكل مما يأتي:

١ - البرامج الحكومية المعتمدة في تنظيم الاسرة.

.....
.....

٢ - أهداف العمل التطوعي بين أفراد المجتمع العماني.

.....
.....

(٦)

امتحان الصف الحادي عشر

للعام الدراسي ١٤٣٤/١٤٣٥ هـ — ٢٠١٣/٢٠١٤ م

الدور الثاني - الفصل الدراسي الأول

المادة : الدراسات الاجتماعية " هذا وطني "

تابع السؤال الرابع :

ب) ما دلالات المؤشرات الآتية:

١- إعلان منظمة الصحة العالمية في عام ٢٠١٣ م أن السلطنة خالية من مرض التراكوما.

.....
.....
.....

٢- قيام سلطنة عمان ٢٠٠٤م بتوقيع اتفاقيات مع بعض الشركات المالكة للأقمار الاصطناعية.

.....
.....
.....

ج) أمامك الخريطة الآتية ادرسها جيداً، ثم اجب عن الاسئلة التي تليها:



١ - ما المسطح المائي الذي يعبره الطريق البحري المشار اليه بالرقم (١)؟

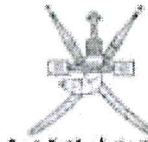
.....

٢- وقع حضارة سبأ في موقعها الصحيح على الخريطة.

٣- ظلل المسطح المائي الذي قامت على ساحله مملكة أكسوم.

٤- ارسم خط التجارة البرية بين عمان وجنوب العراق باستعمال الرمز





سلطنة عمان
وزارة التربية والتعليم

وزارة التربية والتعليم
سلطنة عمان
للعام الدراسي ١٤٣٤/١٤٣٥ هـ - ٢٠١٣/٢٠١٤ م

الفصل الدراسي الأول - الدور الثاني



المادة: الدراسات الاجتماعية (هذا وطني في السيرة الحضارية لعمان) الدرجة الكلية: (٦٠) درجة
تنبيهه: نموذج الإجابة في (٦) صفحات

أولاً: إجابة السؤال الموضوعي:

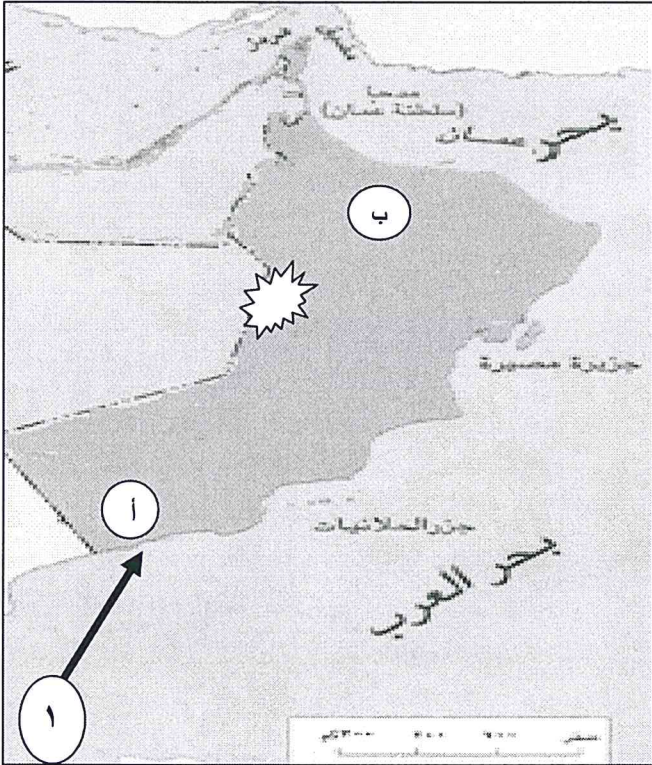
الدرجة: (٢٤) درجة		إجابة السؤال الأول		
الصفحة	الدرجة	الإجابة	البديل الصحيح	المفردة
١٥	٢	الشمال	أ	١
١٩	٢	ماركوبولو	ب	٢
٢٦	٢		ج	٣
٦١	٢	١	أ	٤
٣٥	٢	سيق	ج	٥
٣١	٢	كثبان رملية	د	٦
٤٢	٢	الشمالية	د	٧
٤٩	٢	مدافن	ب	٨
٧٣	٢	زيادة إنجاب الأطفال	د	٩
٥٧	٢	تطبيق نظام الاحتكار التجاري	ب	١٠
٩٦	٢	الأطر الدستورية والقانونية	ج	١١
٨٢	٢	الكهرباء والمياه	ب	١٢
٢٤ درجة		المجموع		

(٢)
تابع نموذج إجابة امتحان الصف الحادي عشر
العام الدراسي ١٤٣٤/١٤٣٥ هـ - ٢٠١٣/٢٠١٤ م
الدور الثاني - الفصل الدراسي الأول
المادة: الدراسات الاجتماعية
ثانياً: إجابة الأسئلة المقالية:

الدرجة الكلية : (١٢) درجة		إجابة السؤال الثاني											
الصفحة	الدرجة	الإجابة الصحيحة	المفردة										
٣٣-٢٩	٤	<table border="1"> <thead> <tr> <th>سبب التكوين</th> <th>الشكل التضاريسي</th> </tr> </thead> <tbody> <tr> <td>إرسابات فيضية كونتها الأودية المنحدرة باتجاه بحر عمان.</td> <td>سهل الباطنة</td> </tr> <tr> <td>التعرية المائية / إرسابات أودية بالقرب من الحافات الجبلية أو في مناطق التعرجات / أحواض مغلقة لكثير من الأودية والشعاب المتفرعة عن الأودية الرئيسية. "يكتفى بواحد"</td> <td>واحات الرستاق</td> </tr> <tr> <td>مصاببات أودية تكسر الحاجز الرملي وتلج إلى البحر.</td> <td>خور السوادي</td> </tr> <tr> <td>بفعل الإذابة في الصخور الجيرية / نحت المياه/ التعرية المائية. "يكتفى بواحد"</td> <td>كهف الهوته</td> </tr> </tbody> </table>	سبب التكوين	الشكل التضاريسي	إرسابات فيضية كونتها الأودية المنحدرة باتجاه بحر عمان.	سهل الباطنة	التعرية المائية / إرسابات أودية بالقرب من الحافات الجبلية أو في مناطق التعرجات / أحواض مغلقة لكثير من الأودية والشعاب المتفرعة عن الأودية الرئيسية. "يكتفى بواحد"	واحات الرستاق	مصاببات أودية تكسر الحاجز الرملي وتلج إلى البحر.	خور السوادي	بفعل الإذابة في الصخور الجيرية / نحت المياه/ التعرية المائية. "يكتفى بواحد"	كهف الهوته	أ
		سبب التكوين	الشكل التضاريسي										
		إرسابات فيضية كونتها الأودية المنحدرة باتجاه بحر عمان.	سهل الباطنة										
		التعرية المائية / إرسابات أودية بالقرب من الحافات الجبلية أو في مناطق التعرجات / أحواض مغلقة لكثير من الأودية والشعاب المتفرعة عن الأودية الرئيسية. "يكتفى بواحد"	واحات الرستاق										
		مصاببات أودية تكسر الحاجز الرملي وتلج إلى البحر.	خور السوادي										
بفعل الإذابة في الصخور الجيرية / نحت المياه/ التعرية المائية. "يكتفى بواحد"	كهف الهوته												
"لكل مفردة درجة"													
١٧	١	مستقلة / دوله لها سيادة.	١										
١٧	١	"يكتفى بواحد" الزراعة/التجارة / صيد الأسماك.	٢										
١٧	١	بلاد حارة جدا.	٣										
١٧	١	بحر عمان.	٤										

(٣)
تابع نموذج إجابة امتحان الصف الحادي عشر
للعام الدراسي ١٤٣٤/١٤٣٥ هـ - ٢٠١٣/٢٠١٤ م
الدور الثاني - الفصل الدراسي الأول
المادة: الدراسات الاجتماعية

ثانياً: إجابة الأسئلة المقالية:

تابع إجابة السؤال الثاني		الدرجة الكلية : (١٢) درجة	
الجزئية	المفردة	الإجابة الصحيحة	الدرجة
ج		 <p>١ - أ - الإجابة على الخريطة ب - الإجابة على الخريطة</p> <p>٢ - موسمية صيفية</p> <p>٣ - الإجابة على الخريطة</p>	١ ١ ١ ١
		٣٤ - ٣٢	

(٤)

تابع نموذج إجابة امتحان الصف الحادي عشر
للعام الدراسي ١٤٣٤/١٤٣٥ هـ - ٢٠١٣/٢٠١٤ م
الدور الثاني - الفصل الدراسي الأول
المادة: الدراسات الاجتماعية
تابع ثانياً: إجابة الأسئلة المقالية:-

إجابة السؤال الثالث		الدرجة الكلية: (١٢) درجة								
الجزئية	المفردة	الإجابة الصحيحة	الدرجة							
أ	١	انتشار السهول الخصبة على السواحل.	٤							
		اتسام العمانيين بروح المغامرة وتحمل الصعاب.								
وجود تجار ورجال المال من مدنيات مختلفة في عمان.										
تشابه بعض الملابس العمانية مع أزياء شرقي أفريقيا.										
"لكل عامل درجة"										
ب	٢	<ul style="list-style-type: none"> - إنشاء محطات لهم في ظفار. - إرسال حملة برية بقيادة يوليوس. - عقد اتفاقيات مع تجار ظفار. - تأمين الطرق البحرية عبر حضرموت واليمن والحجاز وأيلة إلى ساحل الشام. "يكتفى باثنين" 	٢							
		<table border="1"> <thead> <tr> <th>الترتيب</th> <th>الموقع</th> </tr> </thead> <tbody> <tr> <td>٢</td> <td>موقع الواسط</td> </tr> <tr> <td>١</td> <td>موقع الميسر</td> </tr> <tr> <td>٤</td> <td>مستوطنة صحار</td> </tr> <tr> <td>٣</td> <td>موقع سلوت</td> </tr> </tbody> </table>		الترتيب	الموقع	٢	موقع الواسط	١	موقع الميسر	٤
الترتيب	الموقع									
٢	موقع الواسط									
١	موقع الميسر									
٤	مستوطنة صحار									
٣	موقع سلوت									
"لكل مفردة نصف درجة"										
ج	١	القرب من المسطحات المائية شكل عامل جذب للسكان ليقطنوا السهول الساحلية ويركبوا البحر أما الموقع على اليباس فشكل عامل طرد لما يتميز به وسط عمان من تنطرف في المناخ والجفاف والتضاريس الوعرة والرمال المتحركة .	٢							
	٢	تتنوع العادات، فهناك عادات خاصة بالمحافظة على البيئة الطبيعية وعادات خاصة بالاحتفالات الدينية والاجتماعية وعادات خاصة بالكرم والازياء والحلي والألعاب والفنون الشعبية والحرف التقليدية وعادات الاسواق المحلية وسباقات الخيل والهجن ، كما أنها تتنوع بين أهل البادية واهل الريف وسكان الجبال وسكان السواحل /التنوع بسبب طبيعة السكان والمناسبات. " يكتفى بواحد "	٢							

(٥)

تابع نموذج إجابة امتحان الصف الحادي عشر
 للعام الدراسي ١٤٣٤/١٤٣٥ هـ - ٢٠١٣/٢٠١٤ م
 الفصل الدراسي الأول - الدور الثاني
 المادة: الدراسات الاجتماعية

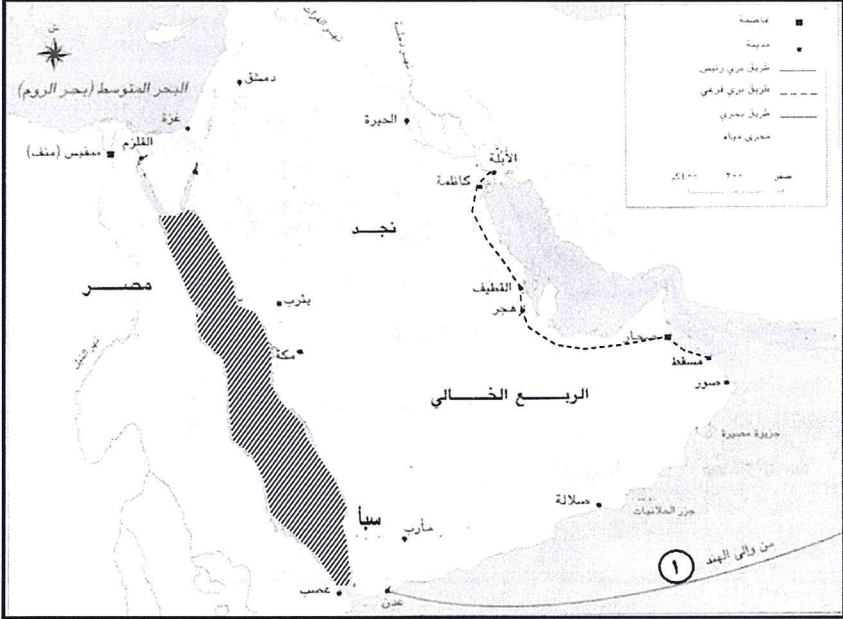
تابع ثانياً: إجابة الأسئلة المقالية:

الدرجة الكلية: (١٢) درجة		إجابة السؤال الرابع		
الصفحة	الدرجة	الإجابة الصحيحة	المفردة	الجزئية
٨٠	٢	رعاية الأمومة والطفولة / المباحة بين الولادات / الفحص قبل الزواج . "يكتفى باثنين"	١	
٧٦	٢	الالتزام بتعاليم الدين الإسلامي الذي يحث على البذل والعطاء / اكتساب الحسنات والأجر / تشجيع وزيادة التفاعل الاجتماعي بين أفراد المجتمع / خدمة المجتمع . "يكتفى باثنين"	٢	أ
٨٠	٢	توافر خدمات صحية متطورة ومجانية في مختلف مناطق السلطنة / توسع برامج نشر الثقافة الصحية / تنويع خدمات التنمية الاجتماعية . "يكتفى بواحد أو ما يفيد المعنى"	١	ب
٨١	٢	حرص السلطنة على تقديم خدمات الاتصالات للمواطنين / تنويع التنمية الاجتماعية الشاملة للمواطنين. "يكتفى بواحد أو ما يفيد المعنى"	٢	

(٦)

تابع نموذج إجابة امتحان الصف الحادي عشر
للعام الدراسي ١٤٣٤/١٤٣٥ هـ - ٢٠١٣/٢٠١٤ م
الدور الثاني - الفصل الدراسي الأول
المادة: الدراسات الاجتماعية

تابع ثانياً: إجابة الأسئلة المقالية:

الدرجة الكلية (١٢) درجة		تابع إجابة السؤال الرابع	
الصفحة	الدرجة	الإجابة الصحيحة	الجزئية المفردة
			ج
٥١	١	١- المحيط الهندي/ بحر العرب / خليج عدن " يكتفى بواحد"	
٥٩	١	٢- الإجابة على الخريطة	
٥٨	١	٣- الإجابة على الخريطة	
٥٢	١	٤- الإجابة على الخريطة	

مجموع الدرجات ٦٠ درجة

نهاية نموذج الإجابة.