

امتحان نهاية الفصل الدراسي الأول – الدور الأول – العام الدراسي (٢٠١٤/٢٠١٥ م)

المادة : الدراسات الاجتماعية

الدرجة الكلية : ٤٠ درجة

الزمن : ساعة ونصف

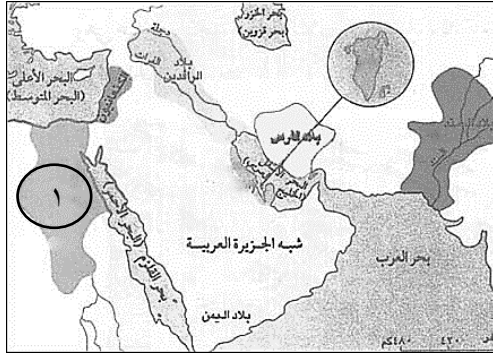
الصف : السابع الاساسي

* الاختبار في أربع ورقات والإجابة في نفس الورقة

أجب عن جميع الأسئلة الآتية:

[١٦ درجة]

السؤال الأول: اختر الحرف الدال على الإجابة الصحيحة من بين البدائل المعطاة:



- (١) يشير الرقم (١) في الخريطة إلى حضارة :
أ) مصر
ب) دلمون
ج) فارس
د) بلاد السند

(د) أكتوبر

- (٢) تحتفل الامم المتحدة بيوم الغذاء العالمي في يوم ١٦ من شهر :
أ) يوليو
ب) اغسطس
ج) سبتمبر
د) اكتوبر

(د) المسطحات المائية

- (٣) من العوامل البشرية التي تؤثر في توزيع السكان في العالم :
أ) التضاريس
ب) الهجرة
ج) المناخ
د) المسطحات المائية

(د) معين

- (٤) الدولة التي أصبح ميناء عدن في عهدها مركزاً لتجارة البخور :
أ) حمير
ب) سبأ
ج) قتبان
د) معين

(د) الاستهلاك

- (٥) يطلق على استغلال المال الزائد عن الحاجة لإقامة مشاريع تزيد من الدخل :
أ) الترشيح
ب) الاستثمار
ج) الادخار
د) الاستهلاك

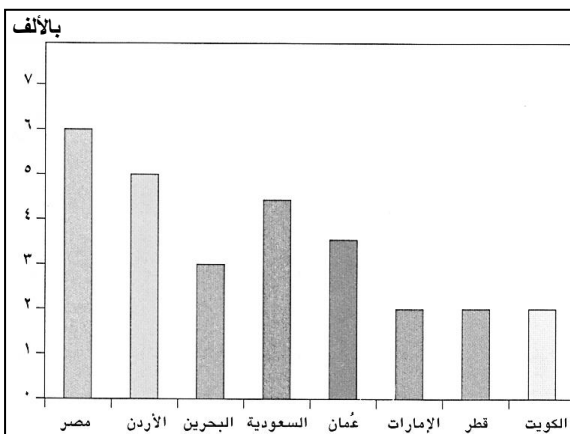
(د) المستشفيات

- (٦) من الأمثلة على الموارد الطبيعية والتي تعد من ممتلكات الدولة العامة :
أ) الثروات المعدنية
ب) المدارس
ج) المعالم الأثرية
د) المستشفيات

(د) تجنب التدخين

- (٧) جميع ما يلي من مقومات الصحة الجيدة ما عدا :
أ) الابتعاد عن الدهون
ب) تناول وجبة الإفطار
ج) عدم ممارسة الرياضة
د) تجنب التدخين

(٨) من خلال الشكل الذي أمامك بلغ معدل الوفيات في البحرين عام ٢٠٠٠م بالألف :



٢ (ب)

٥ (د)

٢ (أ)

٤ (ج)

١٦

[٨ درجات]


السؤال الثاني: أجب عن الأسئلة التالية:
أولاً:

أ- ما المقصود بالتعداد السكاني ؟

ب- دلل على اهتمام الانسان العماني في العصر الحجري بزراعة النخيل .

ثانياً :

أ- ارسم الهرم السكاني ذو القاعدة العريضة موضحا عليه البنية العمرية والبنية النوعية .



ب) أذكر اثنين من أسباب نقص الغذاء العالمي .

ثالثاً : صنف العبارات التالية إلى مصادر دخل قديمة ومصادر دخل حديثة في الجدول الآتي :

(العمل في شركات البترول - تربية الحيوانات - الزراعة - الوظائف الحكومية)

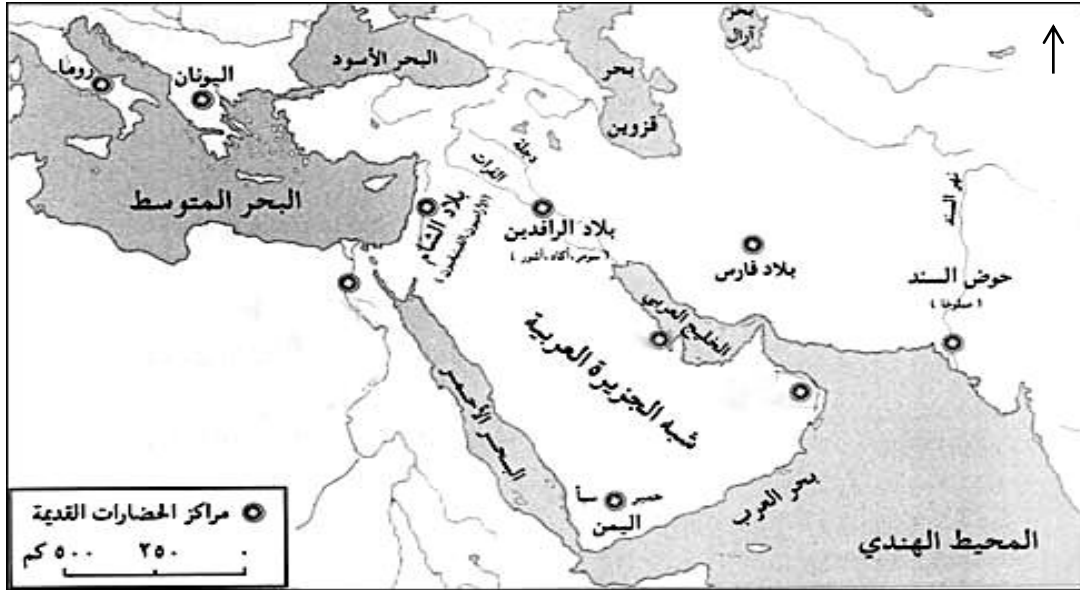
مصادر دخل حديثة	مصادر دخل قديمة

٨

تابع : امتحان نهاية الفصل الدراسي الاول - الدور الأول – للصف السابع الأساسي - العام الدراسي ٢٠١٤/٢٠١٥ م.
مادة : الدراسات الاجتماعية

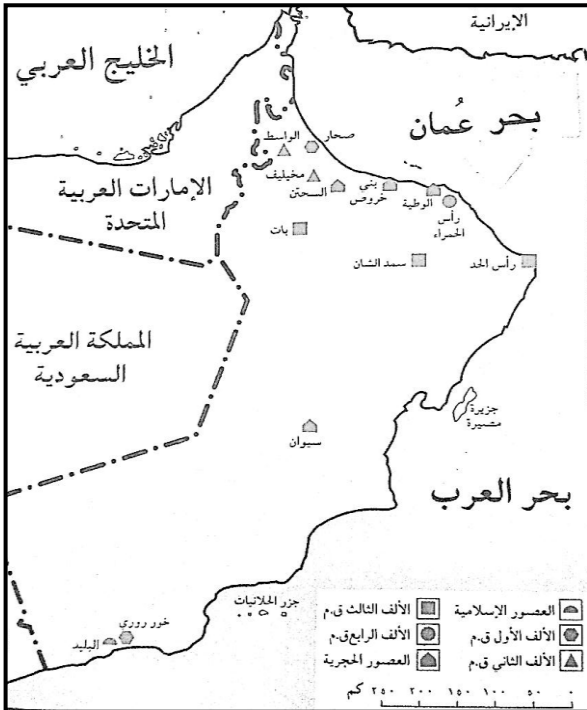
[٨ درجات]

السؤال الثالث : أجب عن الأسئلة التالية:
أولاً : انظر لخريطة مراكز الحضارات القديمة ثم أجب عن الأسئلة التي تليها :



- ١- ضع دائرة حول اسم الحضارة التي أطلقت على البحرين مسمى (أوّل).
- ٢- أكتب اسم حضارة مجان في موقعها الصحيح على الخريطة .
- ٣- تقع حضارة بلاد الشام بالنسبة للبحر المتوسط في جهة (أكمل) .

ثانياً : أمامك خريطة المواقع الأثرية في سلطنة عمان ادرسها جيداً ثم أجب عن الأسئلة التي تليها :



- ١- يقع موقع بات الأثري في محافظة (أكمل)
- ٢- من أشهر المواقع الأثرية في محافظة ظفار (سيوان / خور روري) (اختر الإجابة)

(ب) مستعيناً بالخريطة أكمل الجدول بأهم المواقع الأثرية وفق التسلسل الزمني :

العصور الإسلامية	الألف الأول ق.م	الألف الثاني ق.م	الألف الثالث ق.م	العصور الحجرية
البليد	رأس الحد

تابع : امتحان نهاية الفصل الدراسي الاول - الدور الأول - للصف السابع الأساسي - العام الدراسي ٢٠١٤/٢٠١٥ م.
مادة : الدراسات الاجتماعية

تابع : السؤال الثالث :

ثالثاً : بم تفسر : انتشار المواقع الأثرية العمانية شمالي سلطنة عمان وعلى سواحلها ؟

٨

السؤال الرابع :

أولاً : انظر الجدول الذي أمامك ثم أجب عن الأسئلة التي تليه :

المحافظة	إجمالي السكان	المساحة /كم ^٢
مسقط	٦٨٥٦٧٦	٣٥٠٠
مسندم	٣٥٠٤٥	١٨٠٠
الداخلية	٢٧٩٨٢٩	٣١٩٠٠
ظفار	٢٣٢٥٦٣	٩٩٣٠٠
الوسطى	٢١٠١٩	٧٩٧٠٠

أ- ما المحافظة التي تتميز بارتفاع عدد السكان ؟

ب- رتب محافظات السلطنة التي تظهر في الجدول ترتيباً تنازلياً حسب المساحة .

ج- وضح طريقة حساب الكثافة السكانية لمحافظة الوسطى.

ثانياً : انظر الى الشكل الذي أمامك ثم أجب عن الآتي :



١- ما الذي توضحه الصورة .

٢- ما المقصود بالمرور؟

٣- اذكر اثنين من أخلاقيات السائق .

٤- اقترح حلاً للحد من الحوادث المرورية .

انتهت الأسئلة مع تمنياتنا لكم بالتوفيق والنجاح

٨



المديرية العامة للتربية والتعليم لمحافظة البريمي
نموذج إجابة امتحان نهاية الفصل الدراسي الأول - الدور الأول
الصف السابع الأساسي
العام الدراسي (٢٠١٤/٢٠١٥م)

الدرجة الكلية: (٤٠) درجة

المادة: الدراسات الاجتماعية

تنبيه: نموذج الإجابة في (٤) صفحات

أولاً: إجابة السؤال الموضوعي:-

الدرجة الكلية: (١٦) درجة			إجابة السؤال الأول		
ملاحظات	الصفحة	الدرجة	الإجابة	البديل الصحيح	المفردة
	٢٩	٢	(١) (مصر)	أ	١
	٦٧	٢	اكتوبر	د	٢
	٦٠	٢	الهجرة	ب	٣
	٣٦	٢	قتبان	ج	٤
	٧٣	٢	الاستثمار	ب	٥
	٨٣	٢	الثروات المعدنية	أ	٦
	٧٧	٢	عدم ممارسة الرياضة	ج	٧
	٥٢	٢	٣	ج	٨
					٩
					١٠
					١١
١٦ درجة			المجموع		

تابع نموذج إجابة امتحان نهاية الفصل الدراسي الأول – الدور الأول

الصف السابع الأساسي

للعام الدراسي ٢٠١٤/٢٠١٥م

ثانياً: إجابة الأسئلة المقالية:-

الدرجة الكلية : (٨) درجة			إجابة السؤال الثاني								
ملاحظات	الصفحة	الدرجة	الإجابة الصحيحة	المفردة	الجزئية						
	٤٠	١	العملية الشاملة لحصر الأفراد والتعرف على حالتهم الاقتصادية والاجتماعية في الدولة وفي زمن معين .	أ	أولاً						
	٢١	١	وجود ثمار متحجرة في مواقع الحفر .	ب							
- الرسم درجة - البنية العمرية درجة - البنية النوعية درجة	٤٧	٣		أ	ثانياً						
لكل سبب نصف درجة	٦٨	١	ارتفاع مستوى المعيشة في بعض الدول – الزيادة السكانية الكبيرة والسريعة التي يشهدها العالم – التقنيات الزراعية التقليدية البدائية – السلوكيات الغذائية وقلة الوعي الغذائي – الظروف الاقتصادية والسياسية- الفاقد الغذائي نتيجة الحشرات والأمراض – التقلبات المناخية – التلوث البيئي .(يكتفى بسببين فقط)	ب							
نصف درجة لكل مصدر	٧٢	٢	<table border="1"> <tr> <td>مصادر حديثة</td> <td>مصادر قديمة</td> </tr> <tr> <td>العمل في شركات البتترول</td> <td>تربية الحيوانات</td> </tr> <tr> <td>الوظائف الحكومي</td> <td>الزراعة</td> </tr> </table>	مصادر حديثة	مصادر قديمة	العمل في شركات البتترول	تربية الحيوانات	الوظائف الحكومي	الزراعة		ثالثاً
مصادر حديثة	مصادر قديمة										
العمل في شركات البتترول	تربية الحيوانات										
الوظائف الحكومي	الزراعة										
٨ درجة			المجموع								

تابع نموذج إجابة امتحان نهاية الفصل الدراسي الأول – الدور الأول
الصف السابع الأساسي
للعام الدراسي ٢٠١٤/٢٠١٥م

تابع ثانياً: إجابة الأسئلة المقالية:-

الدرجة الكلية : (٨) درجة			إجابة السؤال الثالث		
ملاحظات	الصفحة	الدرجة	الإجابة الصحيحة	المفردة	الجزئية
درجة لكل جزئية	٣٢	٣	١- وضع دائرة حول بلاد فارس. ٢- يقوم الطالب بكتابة اسم مجان في الخريطة	أ	أولاً
	١٧				
	١٧				
	٢٣	١	١- محافظة الظاهرة	أ	ثانياً
	٢٧	١	٢- خور روري (سمهرم) – البليد (يكتفي بموقع واحد فقط)		
لكل موقع نصف درجة	٢٢	٢	الألف الأول ق.م : صحار – خور روري (يكتفي بموقع واحد فقط) الألف الثاني ق.م : واسط – مخيليف (يكتفي بموقع واحد فقط) الألف الرابع : رأس الحمراء . العصور الحجرية : الوطية – بني خروص – السحتن – سيوان . (يكتفي بموقع واحد فقط)	ب	
	٢١	١	- وجود التجمعات السكانية . - الاعتماد على الزراعة ومياه الأمطار . - اقامة الخزانات المائية .(يكتفي بسبب واحد فقط	-	ثالثاً
٨ درجة			المجموع		

تابع نموذج إجابة امتحان نهاية الفصل الدراسي الأول – الدور الأول
الصف السابع الأساسي
للعام الدراسي ٢٠١٤/٢٠١٥ م

تابع ثانياً: إجابة الأسئلة المقالية:-

الدرجة الكلية : (٨) درجة			إجابة السؤال الرابع		
ملاحظات	الصفحة	الدرجة	الإجابة الصحيحة	المفردة	الجزئية
	٦٣	١	مسقط	أ	أولاً
لا بد من أن يكون الترتيب جميعه صحيح للحصول على الدرجة	٦٣	١	ظفار – الوسطى- الداخلية – مسقط – مسندم .	ب	
القانون درجة والتطبيق درجة	٦٢	٢	الكثافة السكانية = جملة عدد السكان في منطقة ما (نسمة) / المساحة الكلية للمنطقة (كم ^٢) *- ملاحظة : في المفردة (ج) لا يكلف الطالب بالحصول على النتائج وإنما يكفي بكتابة القانون والتطبيق عليه فقط.	ج	
	٩٢	١	التجاوز الخاطئ	١	ثانياً
	٨٨	١	المروور هو : نظام السير على الطرقات سواء للمركبات أم للمشاه ، فالمركبات تسلك طرقاً خاصة بها ، أما المشاه فيسلكون ممرات خاصة بهم أيضا .	٢	
لكل جزئية نصف درجة	٨٩	١	أخلاقيات السائق : الالتزام بالقوانين والأنظمة والتعليمات – التوازن وهدوء الأعصاب – التعاون – الصدق والأمانة . (يكفي بذكر سببين فقط)	٣	
لكل جزئية نصف درجة	٩٢	١	إصدار النشرات الإرشادية - توعية أصحاب المراكب بضرورة الالتزام بشروط الأمان للمركبة - الالتزام بالقوانين والأنظمة المرورية واحترامها - فحص المركبة والتأكد من سلامتها - صيانة المركبة بشكل مستمر (أو ما يفيد المعنى أو ما يقترحه الطالب من حلول) (يكفي بذكر اثنين فقط)	٤	

