



امتحان الصف العاشر
للعام الدراسي ١٤٣٤/١٤٣٥ هـ - ٢٠١٣/٢٠١٤ م
الدور الأول - الفصل الدراسي الأول

- المادة: الدراسات الاجتماعية.
- الإجابة في الورقة نفسها.

- عدد الصفحات : (٧).
- زمن الإجابة: ساعتان.

		اسم الطالب
الصف		المدرسة

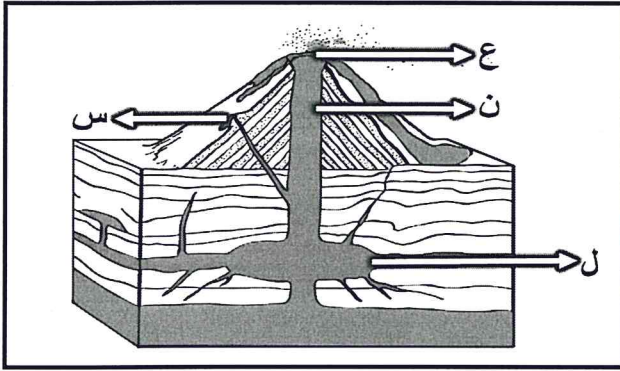
(التوقيع بالاسم)	الدرجة بالحروف (بالأحمر)	الدرجة بالأرقام (بالأحمر)		السؤال
		عشرات	آحاد	
المدقق (بالأخضر)	المصحح (بالأحمر)			١
				٢
				٣
				٤
مراجعة الجمع والتشطيب (بالأزرق)	جمعه (بالأحمر)			المجموع
			٦٠	المجموع الكلي

امتحان الصف العاشر
للعام الدراسي ١٤٣٤/١٤٣٥ هـ - ٢٠١٣/٢٠١٤ م
الدور الأول - الفصل الدراسي الأول
المادة: الدراسات الاجتماعية

أجب عن جميع الأسئلة الآتية:
السؤال الأول: ضع دائرة حول رمز الإجابة الصحيحة لكل مفردة من المفردات الآتية:

- ١- نتج عن تكسر كتلة لوراسيا حسب نظرية زحزحة القارات تكوّن كل من قارة:
أ- أفريقيا وأمريكا الشمالية
ب- آسيا وأمريكا الجنوبية
ج- أوروبا وآسيا وأمريكا الشمالية
د- أوروبا وآسيا وأمريكا الجنوبية

٢- الرمز الذي يشير إلى حجرة الصهير في البركان الموضح في الشكل المقابل:



- أ- ع
ب- ن
ج- س
د- ل

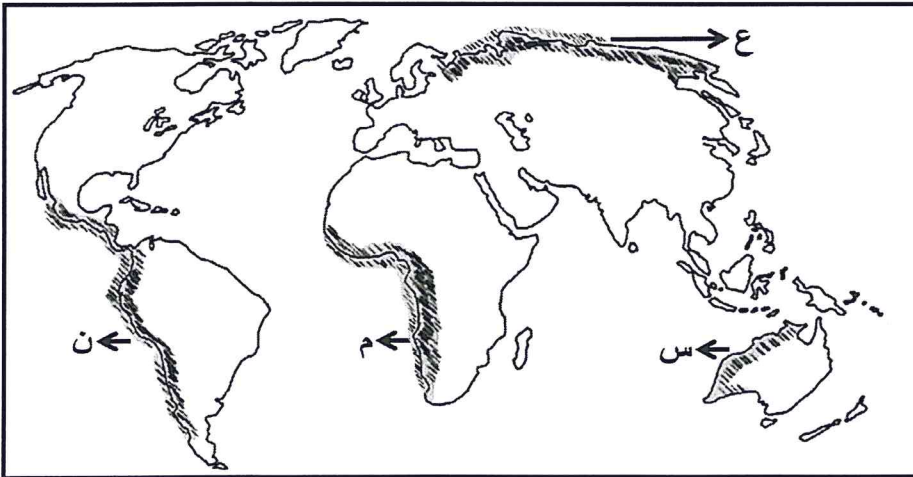
٣- الصخور التي تمثل خزانات مثالية للمياه الجوفية:

- أ- الدونائيت
ب- الدولوميت
ج- الجابرو
د- الجرانيت

٤- ألف الإمام أحمد بن حنبل كتاب:

- أ- المسند
ب- الموطأ
ج- المجموع الكبير
د- الجامع الصحيح

٥- المنطقة المظللة التي يكثر فيها حدوث الزلازل في الخريطة التي أمامك مشار إليها بالرمز:



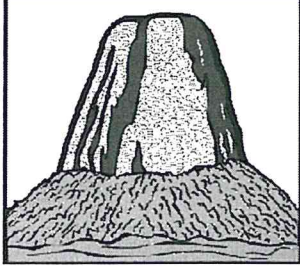
- أ- م
ب- ن
ج- ع
د- س

(٢)

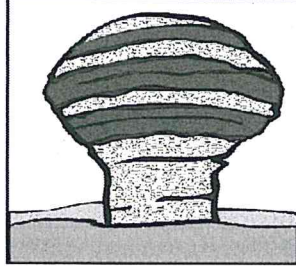
تابع: امتحان الصف العاشر
للعام الدراسي ١٤٣٤/١٤٣٥ هـ - ٢٠١٣/٢٠١٤ م
الدور الأول - الفصل الدراسي الأول
المادة: الدراسات الاجتماعية

تابع السؤال الأول:

٦- الشكل الذي يشير إلى ظاهرة الياردنغ الناتجة عن نحت الرياح:



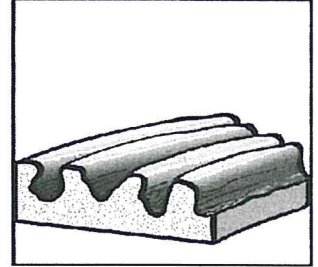
د



ج



ب

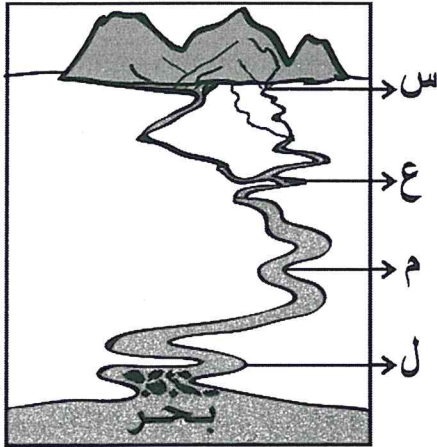


أ

٧- الترتيب الصحيح للرواسب الشاطئية في المناطق الساحلية من حيث حجمها:

- أ- بحر ← رمل - طين - جلاميد - حصى
ب- بحر ← حصى - جلاميد - رمل - طين
ج- بحر ← طين - رمل - حصى - جلاميد
د- بحر ← جلاميد - حصى - طين - رمل

٨- الرمز الذي يشير إلى المنطقة التي يكون فيها النهر في مرحلة الشباب:



- أ- ل
ب- م
ج- ع
د- س

٩ - المنطقة التي تتعرض صخورها للتقشر بشكل أسرع نتيجة التجوية الميكانيكية حسب الجدول الآتي:

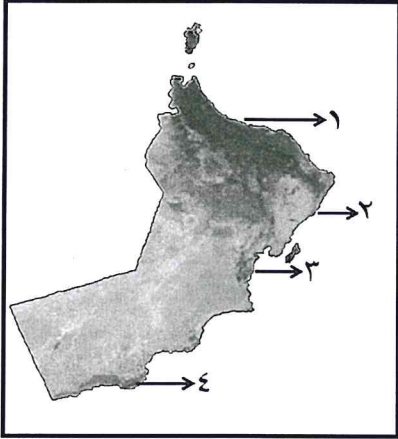
مناطق لها نفس التركيب الصخري				درجات الحرارة
٤	٣	٢	١	
٤٢	٣٩	٤٥	٣٠	العظمى
٣٠	٨	٣٥	٧	الصغرى

- أ - ١
ب - ٢
ج - ٣
د - ٤

(٣)

تابع: امتحان الصف العاشر
للعام الدراسي ١٤٣٤/١٤٣٥ هـ - ٢٠١٣/٢٠١٤ م
الدور الأول - الفصل الدراسي الأول
المادة: الدراسات الاجتماعية

تابع السؤال الأول:



١٠- الرقم الذي يشير إلى المنطقة التي تكثر فيها جروف ساحلية شديدة الانحدار في خريطة سلطنة عمان التي أمامك:

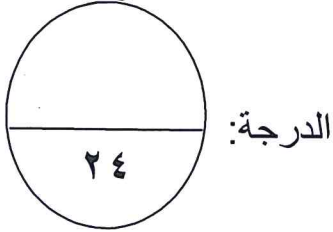
- أ- ١
ب- ٢
ج- ٣
د- ٤

١١- كان زعيم جماعة المحكّمة في معركة النهروان:

- أ- أبو موسى الأشعري
ب- عبدالله بن وهب الراسبي
ج- عمرو بن العاص
د- معاوية بن أبي سفيان

١٢- المدينة التي تأسست فيها مدرسة الرأي:

- أ- الكوفة
ب- المدينة المنورة
ج- دمشق
د- مكة المكرمة



السؤال الثاني:

(أ)

- ١- عرّف ما يأتي:
أ- الجيومورفولوجيا.

ب- الجنادل.

٢- دّل على ما يأتي:

- أ- وقوع جزيرة جرينلند في المنطقة المدارية قبل تزحزحها إلى المنطقة القطبية.

ب- تعرّض سلطنة عمان لنشاط بركاني في الماضي.

(٤)

تابع: امتحان الصف العاشر

للعام الدراسي ١٤٣٤/١٤٣٥ هـ - ٢٠١٣/٢٠١٤ م

الدور الأول - الفصل الدراسي الأول

المادة: الدراسات الاجتماعية

تابع السؤال الثاني:

(ب) علل ما يأتي:

١- لاقت نظرية الانفجار العظيم دعماً من العلماء عام ١٩٦٥ م.

٢- عدم تجانس شكل البلورات في صخور الناييس.

(ج)

١- ادرس الشكل المقابل، ثم أجب عن الأسئلة الآتية:

أ- ما العامل الذي أدى إلى حدوث الانكسار في الشكل الذي أمامك؟

ب- فسّر أثر الانكسارات على كلا مما يأتي:

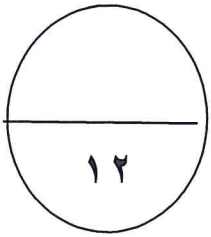
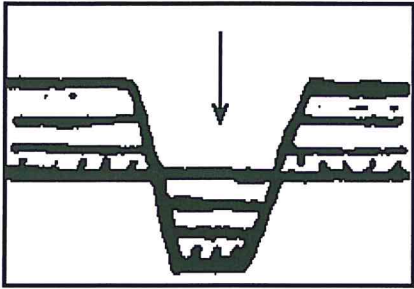
- دورة المياه الجوفية.

- عملية التعدين والتحجير.

٢- اكتب نتيجة واحدة ترتبت على ما يأتي:

أ- اصطدام الصفيحة الهندية بصفيحة أوراسيا.

ب- التهام مفتتات الحطام الصخري أسفل المنحدرات الجبلية.



الدرجة:

السؤال الثالث :

(أ)

١- صنّف الصخور الرسوبية الآتية حسب نشأتها وفق الجدول الآتي:

(الجبس - الحجر الرملي - الحجر الجيري)

عوامل النحت والتعرية	
العمليات الكيميائية والبيولوجية	

يتبع/٥

(٥)

تابع: امتحان الصف العاشر
للعام الدراسي ١٤٣٤/١٤٣٥ هـ - ٢٠١٣/٢٠١٤ م
الدور الأول - الفصل الدراسي الأول
المادة: الدراسات الاجتماعية

تابع السؤال الثالث:

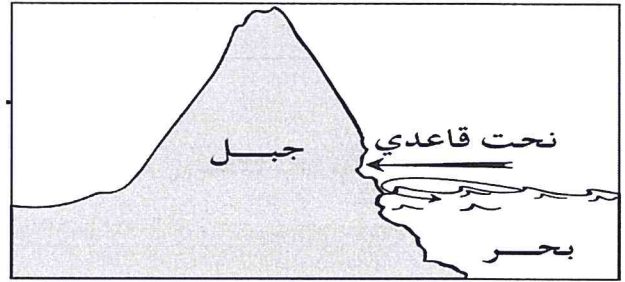
٢- ما أهمية الحواجز الرملية بالنسبة للوحدات الخصبية في سهل الباطنة؟

(أ)

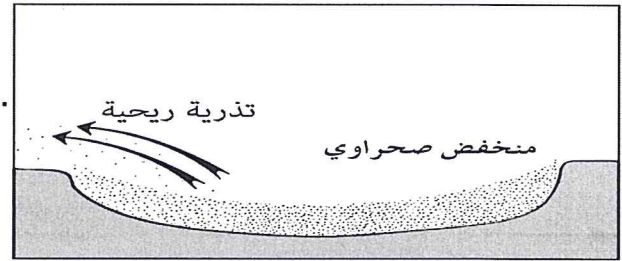
(ب)

١- لديك عدة رسومات توضيحية تبين دور العوامل الخارجية في تشكيل سطح الأرض. اكتب يسار كل واحدة منها الأشكال والظواهرات الجيومورفولوجية التي تنتج بمرور الزمن.

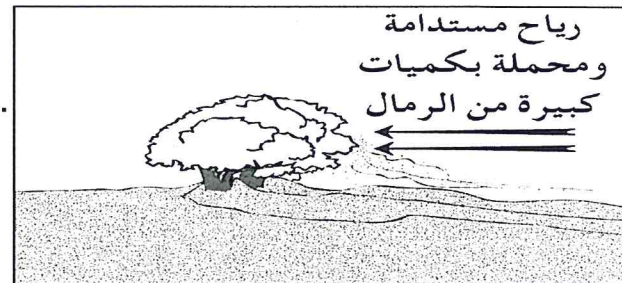
أ-



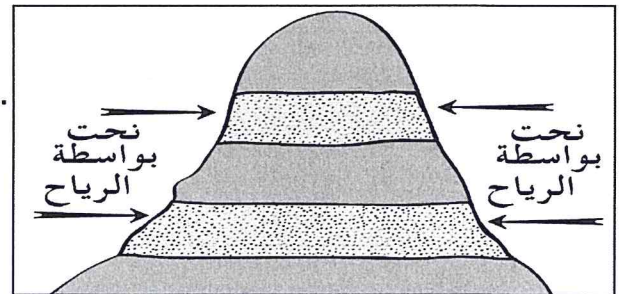
ب-



ج-



د-



(٦)

تابع: امتحان الصف العاشر

للعام الدراسي ١٤٣٤/١٤٣٥ هـ - ٢٠١٣/٢٠١٤ م

الدور الأول - الفصل الدراسي الأول

المادة: الدراسات الاجتماعية

تابع السؤال الثالث:

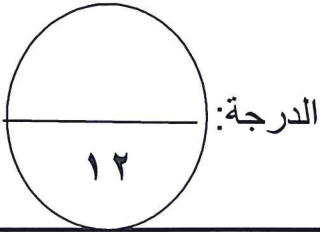
٢- قارن بين أحواض العرق وسهول الرق من حيث الرواسب المكونة لها.

نوع الرواسب	الأشكال الأرضية
	أحواض العرق
	سهول الرق

ج- (يلعب الماء دوراً مهماً في عمليات التجوية الكيميائية مما يؤدي إلى إضعاف الصخر وتفتته).
في ضوء هذه العبارة وضّح دور الماء في إضعاف الصخر في العمليات الآتية:
١- الأكسدة.

٢- التميؤ.

٣- الكربنة.



السؤال الرابع:

(أ)

١- تتميز الخوانق النهرية بشدة انحدار جوانبها وعمقها.

نعم

لا

ضع إشارة (✓)

فسّر إجابتك

٢- رتب الأحداث التاريخية الآتية من الأقدم إلى الأحدث مستخدماً الأرقام (١ - ٤) بحيث تضع
يمين الحدث الرقم المناسب بين القوسين:

() بداية بناء أسطول حربي تمكّن من ضم جزر في شرق البحر المتوسط إلى الدولة الإسلامية.

() معركة صفين.

() التغلب على مظاهر التفكك والردة التي ظهرت في بعض مناطق شبه الجزيرة العربية.

() معركة القادسية.

يتبع/٧

(٧)

تابع: امتحان الصف العاشر

للعام الدراسي ١٤٣٤/١٤٣٥ هـ - ٢٠١٣/٢٠١٤ م

الدور الأول - الفصل الدراسي الأول

المادة: الدراسات الاجتماعية

تابع السؤال الرابع:

(ب)

١- أدى اتساع الدولة الإسلامية في عهد الخلفاء الراشدين والأمويين إلى اتساع الاجتهاد وتطوره عند العلماء والفقهاء المسلمين.
وضّح ذلك.

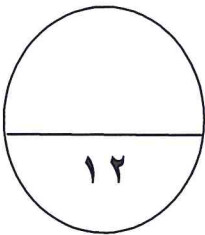
٢- بين أثر ضعف الدولة الإسلامية وانقسامها إلى دويلات على حركة التجديد والاجتهاد في المسائل الفقهية.

(ج)

١- أنسب أسماء الصحابة والتابعين الآتية إلى المدرستين الفكريتين المبيّنتين في الجدول الآتي:
(عبدالله بن عباس-عبدالله بن مسعود- السيدة عائشة - سعيد بن المسيّب)

مدرسة الحديث	مدرسة الرأي

٢- عدد اثنين من آداب الاختلاف الأخلاقية.

الدرجة:  ١٢

انتهت الأسئلة، مع تمنياتنا لكم بالتوفيق والنجاح.