



سَلْطَنَةُ عُمَانِ  
وَزَارَةُ التَّوَسُّلِ وَالتَّجْلِيلِ

امتحان دبلوم التعليم العام  
للعام الدراسي ١٤٣٨/١٤٣٩ هـ - ٢٠١٧ / ٢٠١٨ م  
الدور الأول - الفصل الدراسي الأول

- زمن الإجابة: ثلاث ساعات.
- الإجابة في الورقة نفسها.

- تنبيه: المادة: التاريخ (العالم من حولي).
- الأسئلة في ( ١٢ ) صفحة.

تعليمات مهمة:

- يجب على الممتحن التأكد من استلام دفتر امتحانه، مغلفاً بغلاف بلاستيكي شفاف وغير ممزق، وهو مسؤول عنه حتى يسلمه لمراقبي اللجنة بعد الانتهاء من الإجابة.
- يجب الالتزام بضوابط إدارة امتحانات دبلوم التعليم العام وما في مستواه وأية مخالفة لهذه الضوابط تعرضك للتدابير والإجراءات والعقوبات المنصوص عليها بالقرار الوزاري رقم ٥٨٨ / ٢٠١٥.
- يقوم المتقدم بالإجابة عن أسئلة الامتحان المقالية بقلم الحبر (الأزرق أو الأسود).
- يقوم المتقدم بالإجابة عن أسئلة الاختيار من متعدد بتظليل الشكل ( ) وفق النموذج الآتي:  
س - عاصمة سلطنة عمان هي:  
القاهرة ( ) مسقط ( )  
الدوحة ( ) أبوظبي ( )
- ملاحظة: يتم تظليل الشكل ( ) باستخدام القلم الرصاص وعند الخطأ، امسح بعناية لإجراء التغيير.
- يجب على الممتحن الامتنال لإجراءات التفتيش داخل المركز طوال أيام الامتحان.
- يجب إحضار أصل ما يثبت الهوية وإبرازها للعاملين بالامتحانات.
- يجب الالتزام بالزي (الدشداشة البيضاء والمصر أو الكمة للذكور) والزي المدرسي للطالبات، ويستثنى من ذلك الدارسون من غير العمانيين بشرط الالتزام بالذوق العام، ويمنع على جميع المتقدمات ارتداء النقاب داخل المركز وقاعات الامتحان.
- يحظر على الممتحنين اصطحاب الهواتف النقالة وأجهزة النداء الآلي وآلات التصوير والحواسيب الشخصية والساعات الرقمية الذكية والآلات الحاسبة ذات الذاكرة التخزينية والمجلات والصحف والكتب الدراسية والدفاتر والمذكرات والحقائب اليدوية والآلات الحادة أو الأسلحة أياً كان نوعها وأي شيء له علاقة بالامتحان.

صحيح ( ) غير صحيح ( )  
صحيح ( ) غير صحيح ( )  
صحيح ( ) غير صحيح ( )  
صحيح ( ) غير صحيح ( )

أجب عن جميع الأسئلة الآتية

أولاً: الأسئلة الموضوعية

السؤال الأول:

ظلل الشكل (○) المقترن بالإجابة الصحيحة لكل مفردة من المفردات الآتية:

Part 1 Q1-Q14: MC auto - each 0, 2


(١) القرن الميلادي الذي ظهرت فيه حركة التنوير الفكرية بأوروبا:

- الخامس عشر.      ○ السادس عشر.  
○ السابع عشر.      ○ الثامن عشر.


(٢) الدولة التي انطلقت منها الرحلة الفينيقية حول القارة الأفريقية في القرن السادس قبل الميلاد:

- مصر.      ○ عمان.  
○ اليمن.      ○ العرق.

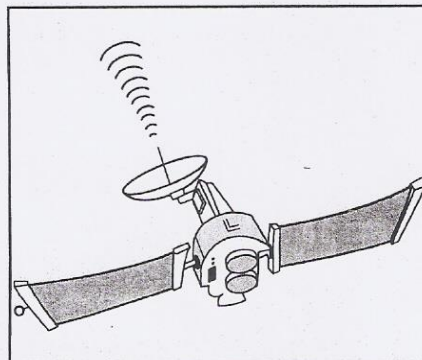
(٣) التقنية التي أسهمت في تتبع اكتشاف أسرار الفضاء:



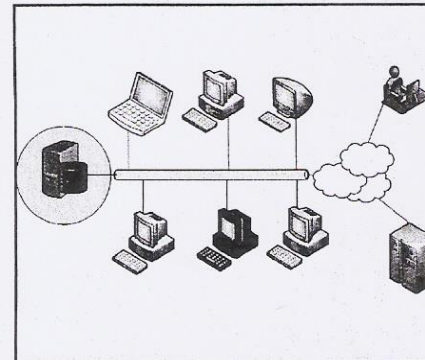
○



○



○



○

تابع السؤال الأول:

٤) العام الميلادي الذي استخدمت فيه الدول الخليجية النفط كسلاح سياسي:

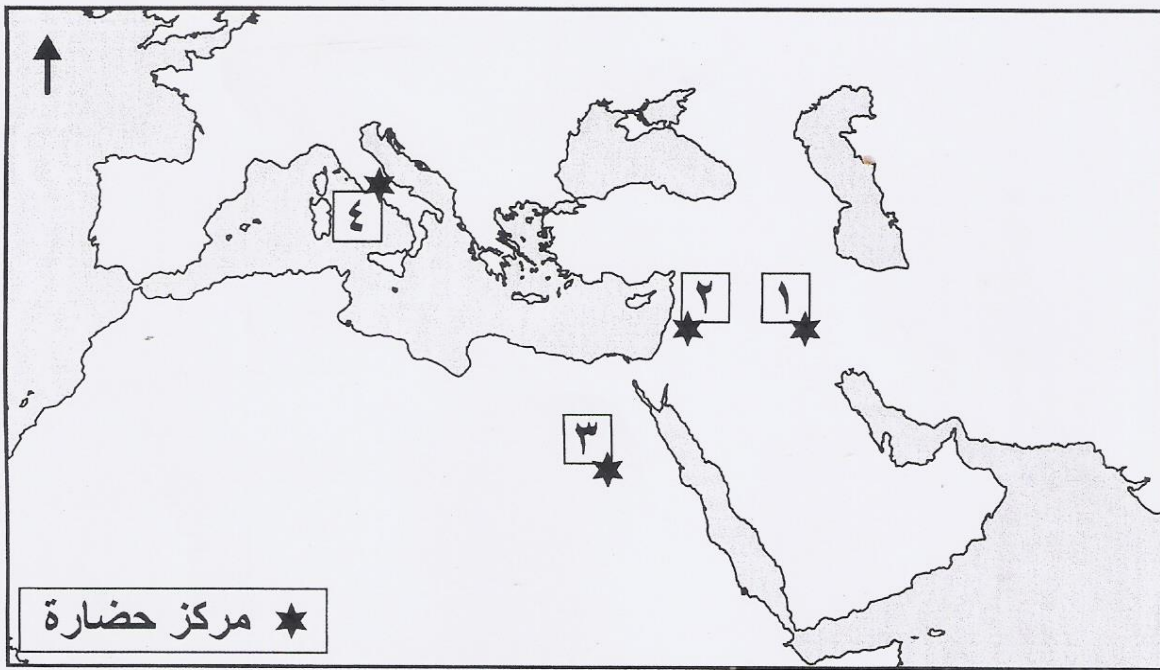
١٩٧١

١٩٧٠

١٩٧٣

١٩٧٢

٥) الجدول الصحيح الذي يُمثل الإنجازات الفكرية لمراكز الحضارات القديمة حسب الأرقام الظاهرة في الخريطة:



مركز الحضارة	الإنجاز الفكري (الكتابة)
١	الهيروغليفية
٢	أول أبجدية
٣	المسمارية
٤	إضافة الأحرف الصوتية للأبجدية

مركز الحضارة	الإنجاز الفكري (الكتابة)
١	المسمارية
٢	أول أبجدية
٣	الهيروغليفية
٤	إضافة الأحرف الصوتية للأبجدية

مركز الحضارة	الإنجاز الفكري (الكتابة)
١	أول أبجدية
٢	المسمارية
٣	الهيروغليفية
٤	إضافة الأحرف الصوتية للأبجدية

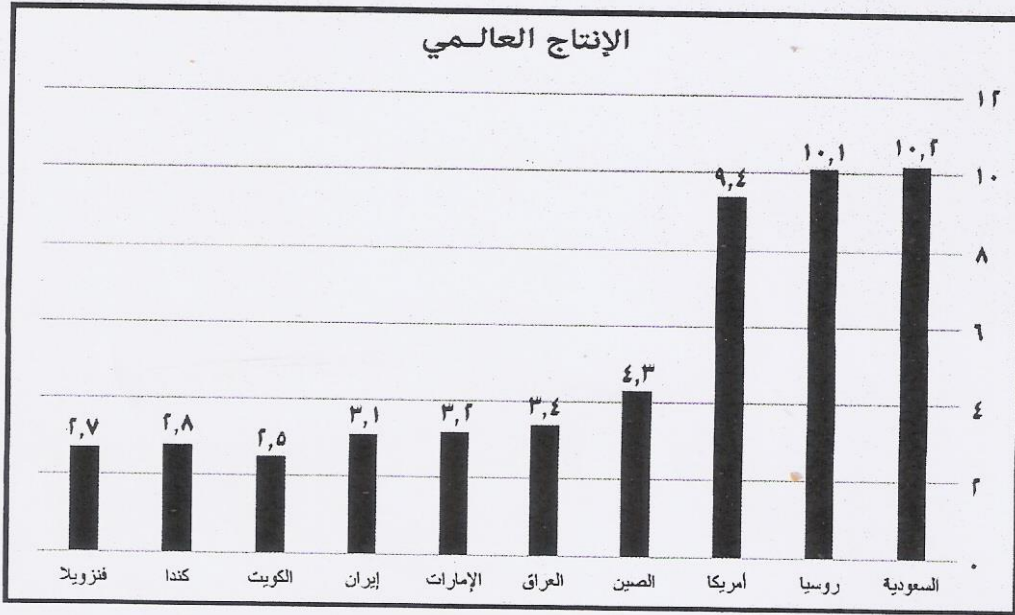
مركز الحضارة	الإنجاز الفكري (الكتابة)
١	المسمارية
٢	الهيروغليفية
٣	أول أبجدية
٤	إضافة الأحرف الصوتية للأبجدية

PTO

لا تكتب في هذا الجزء

تابع السؤال الأول:

(٦) القارة التي تحتل أعلى إنتاج نفط على مستوى العالم من خلال المخطط البياني الآتي:



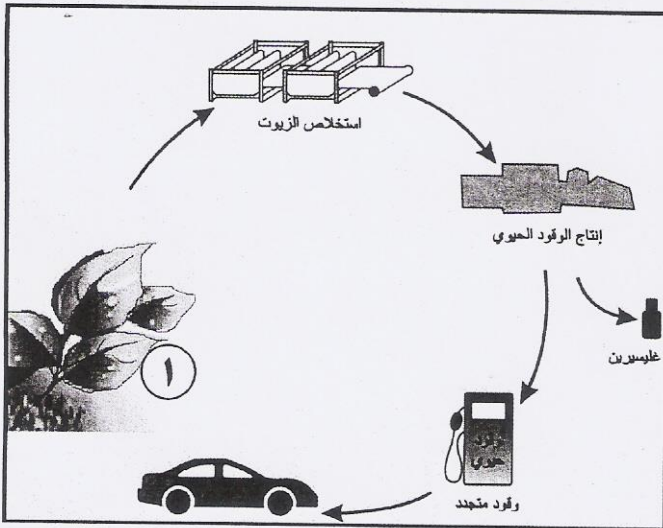
أمريكا الشمالية.

أمريكا الجنوبية.

أوروبا.

آسيا.

(٧) إحدى خصائص الوقود المستخلص من المكوّن المشار إليه بالرقم (١) في الشكل الآتي مقارنة بالبنزين:



أقل نسبة في الغازات المنبعثة.

أعلى نسبة في الغازات المنبعثة.

يستخلص من محصول زراعي واحد.

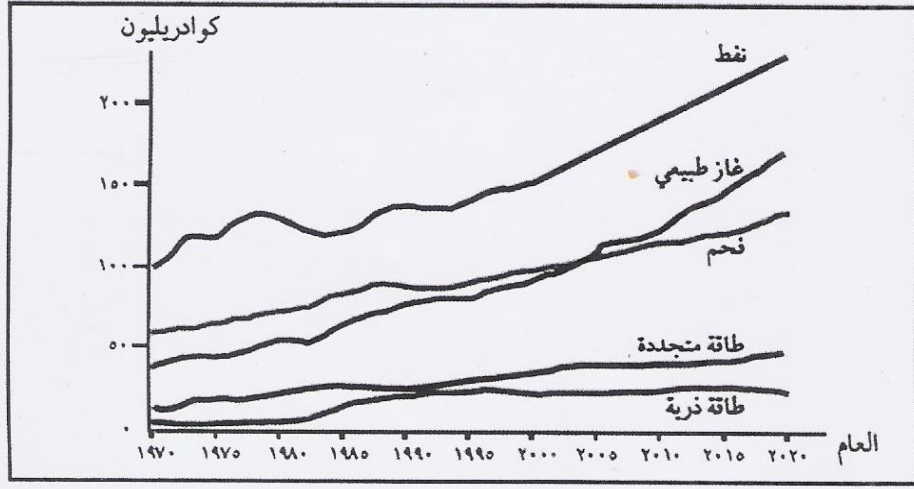
يزيد مساحة غابات الأمطار المدارية.

**تابع السؤال الأول:**

٨) أقدم الرحلات البحرية التي قامت بها السفن العمانية في مجال التواصل الحضاري:

- فلك السلامة إلى ميناء كانتون.  صحار إلى ميناء كانتون.  
 شباب عمان إلى ميناء نيويورك.  سلطنة إلى ميناء نيويورك.

٩) التفسير الصحيح لاستهلاك مصادر الطاقة على المستوى العالمي إلى عام ٢٠٢٠ م في المخطط الآتي:



- الوقود الأحفوري سيزل ثابتاً.  الوقود الأحفوري سيرتفع.  
 الطاقة المتجددة ستظل ثابتة.  الطاقة المتجددة ستتنخفض.

١٠) البعد الأحدث الذي أضافه الإنسان إلى محيطه الطبيعي:


- الاجتماعي.  الثقافي.  
 التكنولوجي.  الاقتصادي.


١١) الرمز المختصر الذي يشير إلى الوحدة التي يقاس بها إنتاج الطاقة عالمياً:

- (BTU).  (IEA).  
 (WTI).  (MDG).


## تابع السؤال الأول:

١٢) المنتج الذي يشير إلى نموذج الثقافة الأول والأوضح في تاريخ الإنسانية:










١٣) مصدر الطاقة الذي ينبغي على دول الخليج العربي أن تستغله مستفيدة من موقعها الفلكي:

 الذرة.

 الشمس.

 الفحم.

 الماء.

١٤) العاملان اللذان يسمحان بزيادة التعددية الثقافية:

- حرية الهجرة.  
- التوسع في توظيف التقنية  
- المصاحبة للعولمة.

- حرية الهجرة.  
- محدودية توظيف التقنية  
- المصاحبة للعولمة.

- استقطاب الهجرات.  
- قلة وسائل الاتصالات.

- منع الهجرات.  
- قلة وسائل الاتصالات.

ثانيا: الأسئلة المقالية:السؤال الثاني:

Part 2 Q15 one clip

١٥ أ. اكتب بين القوسين المصطلح الصحيح لكل عبارة مما يلي:

(١) ( \_\_\_\_\_ 0,1 ) زيادة درجة حرارة الكرة الأرضية

نتيجة تزايد انبعاث غاز ثاني أكسيد الكربون والميثان وغيرها في الغلاف الجوي.

(٢) ( \_\_\_\_\_ 0,1 ) يُطلق على البضائع والسلع والمواد

المختلفة التي تشكل أهمية بالغة للدولة كالأرز والقمح والنفط والغاز، حيث تقوم بحفظها في أماكن مخصصة وتستخدم في حالات الطوارئ.

ب. اذكر اثنين مما يأتي:

(١) مقومات ثورة المعرفة.

0, 1, 2

(٢) أشكال بيع النفط عالمياً.

0, 1, 2

لا تكتب في هذا الجزء

## تابع السؤال الثاني:

Part 2 Q16 one clip

(١٦) اقرأ النص الآتي ثم أجب عن الأسئلة التي تليه.

(مرَّ العالم بعدة ثورات، كان لها تأثيرٌ كبيرٌ وواضحٌ وإيجابيٌ على جميع مجالات الحياة: الاقتصادية، والسياسية، والاجتماعية، والعلمية، والتربوية. ففي القرنين الثامن عشر والتاسع عشر قامت الثورة الصناعية، ثم جاءت الثورة الإلكترونية في الثمانينات من القرن العشرين، والتي أدت إلى تطور صناعة الحاسبات الآلية والبرمجيات والأقمار الصناعية. وفي نهاية القرن العشرين ظهرت الثورة اللاسلكية، الأمر الذي جعل الهواتف النقالة والأجهزة اللاسلكية تنتشر بسرعة فائقة وبأعداد كبيرة في العالم. ومع بداية القرن الحادي والعشرين قامت ثورة المصانع الذكية التي تعتمد على العمليات الرقمية، وبدورها ستسهم في تسهيل التعاملات الحياتية).

أ. ما المقصود بمصطلح الثورة؟

0, 2

ب. مستعينا بالنص السابق، أكمل المسطرة الزمنية الآتية بكتابة أسماء الثورات من نهاية القرن الثامن عشر إلى بداية القرن الحادي والعشرين.

0, 1, 2, 3, 4



ج. استنتج الرؤية التي استشرفها علماء المستقبلات حول مستقبل الثورة الرقمية من خلال النص.

0, 2


لا تكتب في هذا الجزء



السؤال الثالث:


Part 3 Q17 A one clip

١٧) ادرس الأشكال الآتية والتي تشير إلى مجالات الإنجاز في الحضارات القديمة، ثم أجب عن الأسئلة التي تليها:




المزارع

٣



المعلم

٢



الوزير

١

0, 1, 2

أ. (١) استنتج مجالات الإنجاز البشري التي يشير إليها الشكلان:

رقم (١) \_\_\_\_\_

\_\_\_\_\_

رقم (٢) \_\_\_\_\_

\_\_\_\_\_

0, 1, 2

(٢) ما أهمية الإنجاز الذي يشير إليه الشكل رقم (٣)؟

(١) \_\_\_\_\_

\_\_\_\_\_

(٢) \_\_\_\_\_

\_\_\_\_\_

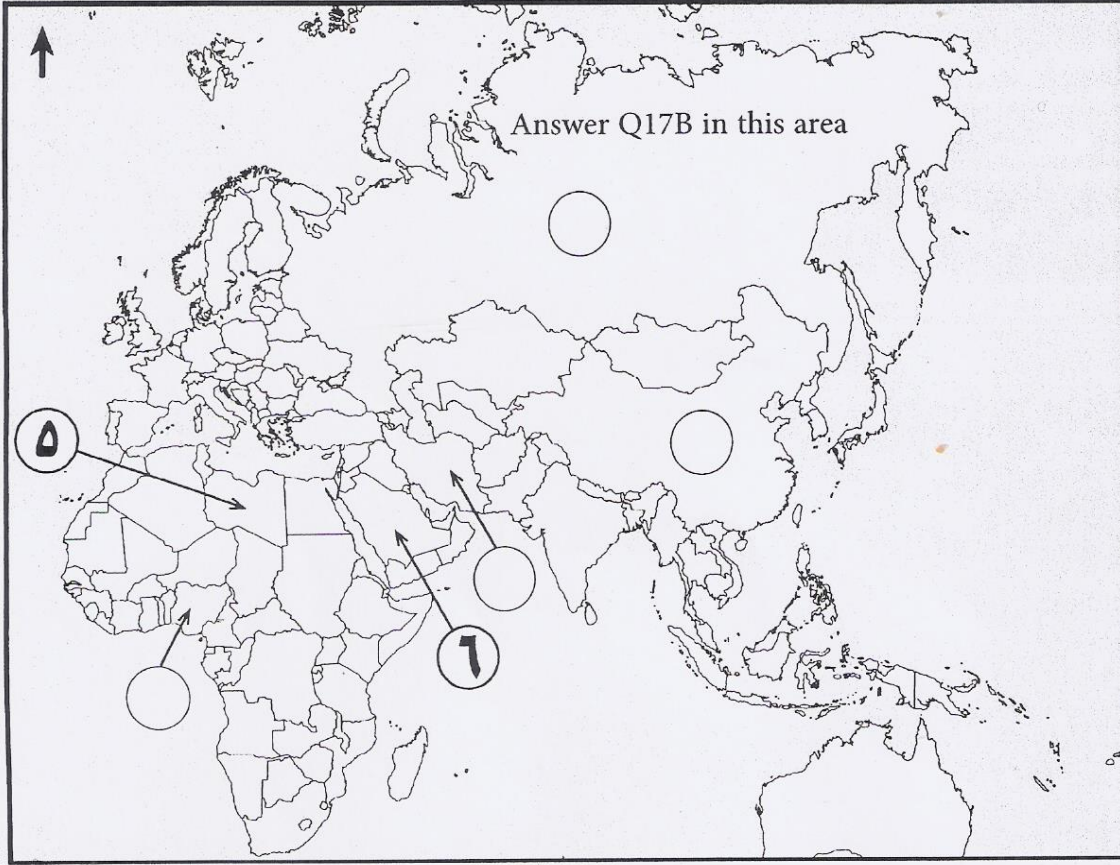
لا تكتب في هذا الجزء

## تابع السؤال الثالث:

Part 3 Q17 B &amp; C one clip

ب. ادرس الخريطة التي أمامك، ثم أجب عن الأسئلة التي تليها:

0, 1, 2, 3, 4



رتب الدول الآتية المنتجة للنفط بكتابة الأرقام (١، ٢، ٣، ٤) من الأعلى إنتاجا إلى الأقل في الدائرة التي تشير إلى موقعها الصحيح على الخريطة:

الدول المنتجة عام ٢٠٠٤م	إيران	روسيا	الصين	نيجيريا
مليون طن	٢٠٥	٤٧٠	١٨٣	١٣٣

ج. يشير الرقمان (٥)، (٦) إلى دولتين من الدول المؤسسة لمنظمة الأوبك. ما هما؟

\_\_\_\_\_ (٥)

\_\_\_\_\_ (٦)

لا تكتب في هذا الجزء

لا تكتب في هذا الجزء

## تابع السؤال الثالث:

Part 3 Q18 one clip

١٨) ادرس جدول النسب المئوية للطاقة المستهلكة من بعض أنواع الوقود في قطاع الصناعة عام ٢٠١١م، ثم أجب عن الأسئلة التي تليه:

نوع الطاقة	النفط التقليدي	وقود حيوي من السكر	نفط رملي	وقود حيوي من فول الصويا	وقود حيوي من الذرة
نسبة الاستهلاك %	١٦	٩	٥	٥	١

أ. ظلل الوصف الصحيح (مرتفعة / منخفضة) لنسبة استهلاك الطاقة في الجدول الآتي:  
0, 1, 2

الطاقة	وصف نسبة الاستهلاك
النفط التقليدي	<input type="radio"/> مرتفعة
	<input type="radio"/> منخفضة
الوقود المنتج عن طريق الزراعة	<input type="radio"/> مرتفعة
	<input type="radio"/> منخفضة

ب ما المصطلح العلمي للوقود الحيوي المنتج عن طريق:

(١) قصب السكر؟

0, 1

(٢) فول الصويا؟

0, 1

لا تكتب في هذا الجزء

السؤال الرابع:

Part 4 Q19 one clip

١٩) أ. كيف استغل الإنسان طاقة الرياح في بداية العصور التاريخية؟

0, 2

ب. يعود أصل تسمية (النفط) إلى الكلمة اللاتينية (Petroleum) المكوّنة من مقطعين:

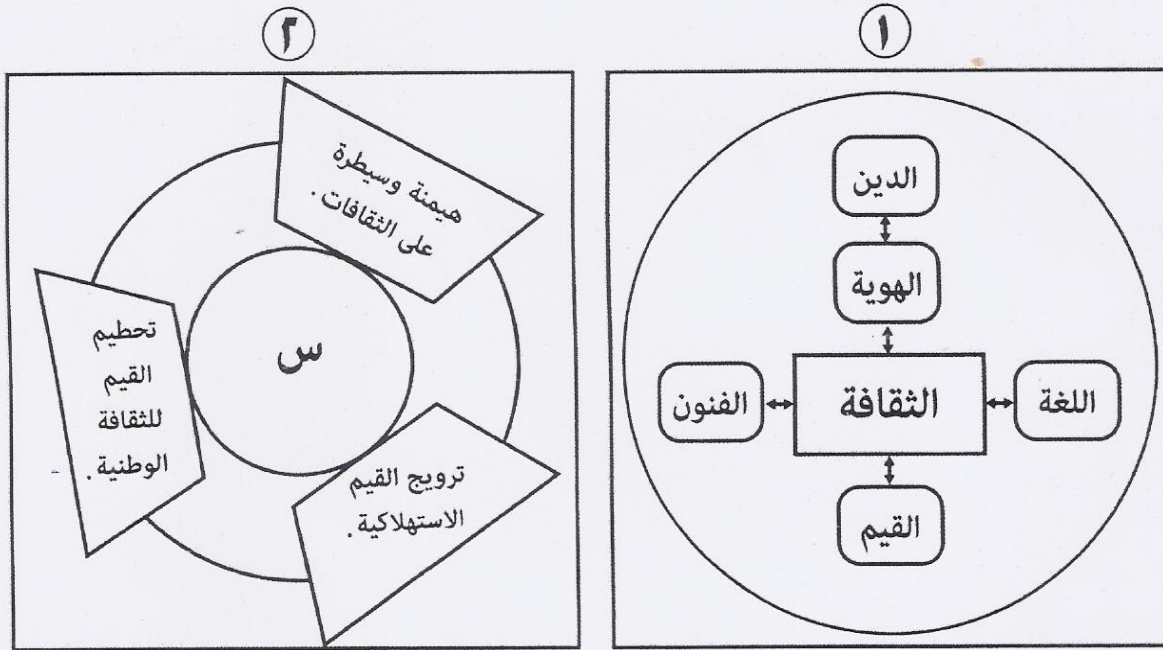
0, 1, 2

- (Petra) وتعني:

- (Olium) وتعني:

Part 4 Q20 one clip

٢٠) ادرس المخطط (١، ٢) في الشكل الآتي، ثم أجب عن الأسئلة التي تليه:



أ. استنتج مفهوم الثقافة من خلال المخطط (١).

0, 2

ب. ما المصطلح المناسب الذي يشير إليه الحرف (س) في المخطط (٢)؟

0, 2

ج. استنتج العلاقة بين الثقافة والهوية من خلال المخطط رقم (١).

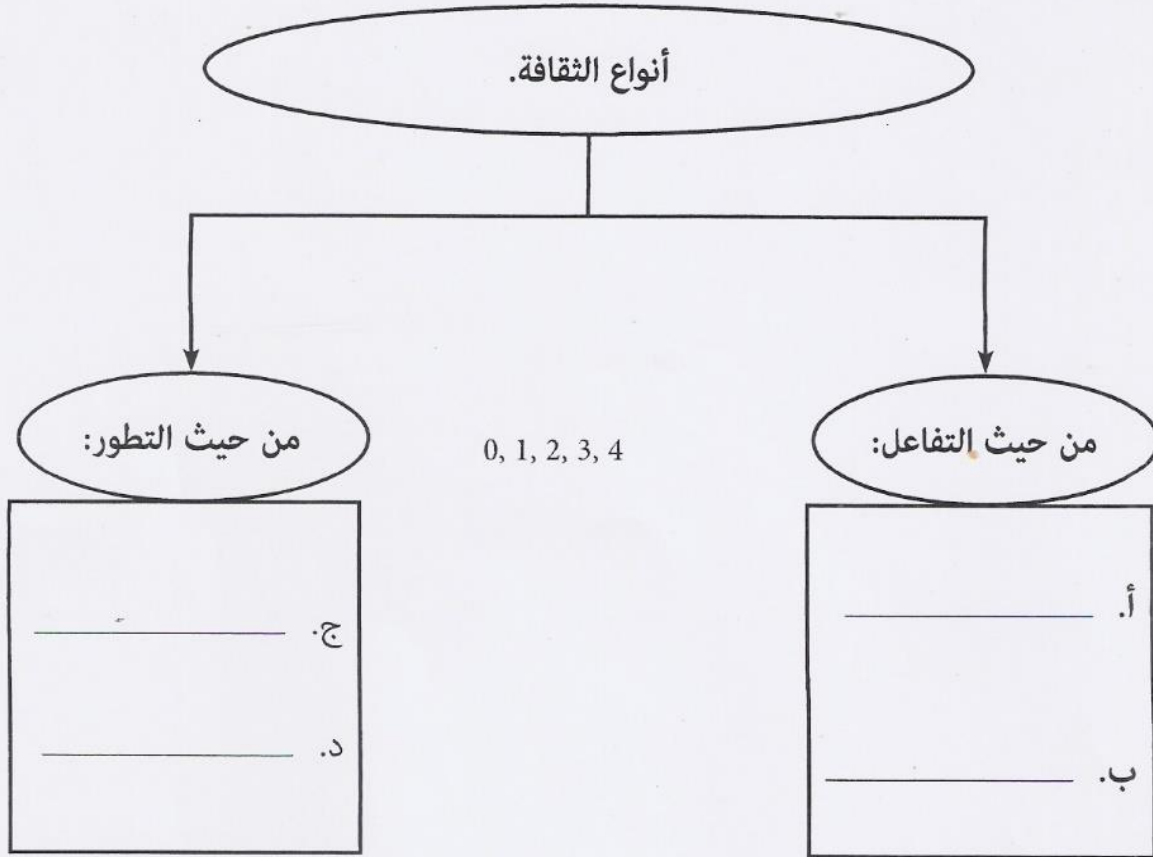
0, 2

لا تكتب في هذا الجزء

## تابع السؤال الرابع:

Part 4 Q21 one clip

(٢١) أكمل خريطة المفاهيم الآتية التي تُمثّل أنواع الثقافة:



انتهت الأسئلة مع تمنياتنا لكم بالتوفيق والنجاح

ends

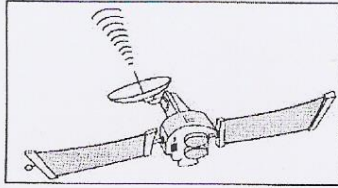
لا تكتب في هذا الجزء



نموذج إجابة امتحان شهادة دبلوم التعليم العام  
للعام الدراسي ١٤٣٨/١٤٣٩ هـ - ٢٠١٧/٢٠١٨ م  
الدور الأول - الفصل الدراسي الأول  
المادة: العالم من حولي

تنبيه: نموذج الإجابة في (٨) صفحات. الدرجة الكلية: (٧٠) درجة.

أولاً: إجابة السؤال الموضوعي:

المفردة	الإجابة	الدرجة	الصفحة										
١	الثامن عشر.	٢	٣٠										
٢	مصر.	٢	٢١										
٣		٢	٤٣										
٤	١٩٧٣م	٢	٨١										
٥	<table border="1"><thead><tr><th>مركز الحضارة</th><th>الإنجاز الفكري (الكتابة)</th></tr></thead><tbody><tr><td>١</td><td>المسمارية.</td></tr><tr><td>٢</td><td>أول أبجدية.</td></tr><tr><td>٣</td><td>الهيروغليفية.</td></tr><tr><td>٤</td><td>إضافة الأحرف الصوتية للأبجدية.</td></tr></tbody></table>	مركز الحضارة	الإنجاز الفكري (الكتابة)	١	المسمارية.	٢	أول أبجدية.	٣	الهيروغليفية.	٤	إضافة الأحرف الصوتية للأبجدية.	٢	٢٠
مركز الحضارة	الإنجاز الفكري (الكتابة)												
١	المسمارية.												
٢	أول أبجدية.												
٣	الهيروغليفية.												
٤	إضافة الأحرف الصوتية للأبجدية.												
٦	آسيا.	٢	٦٨										



(٢)

تابع: نموذج إجابة امتحان شهادة دبلوم التعليم العام  
للعام الدراسي ١٤٣٨/١٤٣٩ هـ - ٢٠١٧/٢٠١٨ م

الدور الأول - الفصل الدراسي الأول  
المادة: العالم من حولي

المفردة	الإجابة	الدرجة	الصفحة
٧	أقل نسبة في الغازات المنبعثة.	٢	٨٦+٨٥
٨	سلطانة إلى ميناء نيويورك.	٢	١٢٥
٩	الوقود الأحفوري سيرتفع.	٢	٥٦-٥١
١٠	التكنولوجي.	٢	١٠٨
١١	(BTU)	٢	٥٥
١٢		٢	١٠٦
١٣	الشمس.	٢	٩٤
١٤	- حرية الهجرة. - التوسع في توظيف التقنية المصاحبة للعولمة.	٢	- ١١٤ ١١٧



(٣)

تابع: نموذج إجابة امتحان شهادة دبلوم التعليم العام  
للعام الدراسي ١٤٣٨/١٤٣٩ هـ - ٢٠١٧/٢٠١٨ م

الدور الأول - الفصل الدراسي الأول  
المادة: العالم من حولي

ثانياً: إجابة السؤال الثاني:

المفردة	الجزئية	الإجابة	الدرجة	الصفحة
١٥	١-أ	الاحتباس الحراري.	١	٨١
المعيار		يشترط ذكر اسم المصطلح كاملاً.		
مفتاح التصحيح		١-٠		

المفردة	الجزئية	الإجابة	الدرجة	الصفحة
١٥	٢-أ	المخزون الاستراتيجي.	١-	٧٠
المعيار		تعتبر إجابة الطالب صحيحة إذا كتب الاحتياطي الاستراتيجي/الأمن الغذائي/ الاحتياطي الغذائي/المخزون الغذائي/المخزون الاحتياطي.		
		وتعتبر إجابة الطالب خاطئة إذا كتب الاحتياطي / المخزون.		
مفتاح التصحيح		١-٠		

المفردة	الجزئية	الإجابة	الدرجة	الصفحة
١٥	ب-١	ارتياح الفضاء - اكتشاف الذرة - تطور الاتصالات والمواصلات - استغلال النفط في الطاقة.	٢ لكل مفردة درجة	٣٢
المعيار		(يكتفى بذكر اثنين وبما يفيد المعنى)		
مفتاح التصحيح		٢-١-٠		





(٤)

تابع: نموذج إجابة امتحان شهادة دبلوم التعليم العام

للعام الدراسي ١٤٣٨/١٤٣٩ هـ - ٢٠١٧/٢٠١٨ م

الدور الأول - الفصل الدراسي الأول

المادة: العالم من حولي

تابع/ إجابة السؤال الثاني:

المفردة	الجزئية	الإجابة	الدرجة	الصفحة
١٥	ب - ٢	- البيع الفوري (البيع المباشر) / حيث يتم نقل البترول إلى الأسواق العالمية مثل ميناء روتردام، ويتم بيع النفط وشراؤه حسب الكميات والأسعار اليومية للبترول، وبحسب نوعيته. - البيع عند المصدر/ وهنا يتم البيع من موانئ التصدير، ويدفع المشتري تكلفة النقل والتأمين. - البيع عند مناطق التصنيع/ حيث تقوم الجهة المنتجة بنقل البترول في ناقلاتها الخاصة، بعد التأمين عليه.	٢ لكل مفردة درجة	٦٩
المعيار		(يكتفى بذكر اثنين، وتعتبر إجابة الطالب خاطئة إذا كتب فقط: البيع غير الفوري. وتعتبر إجابته صحيحة إذا كتب البيع غير الفوري ويشمل ( البيع من المصدر - البيع عند مناطق التصنيع). ولا يشترط كتابة شرح نوع البيع أما إذا كتب الطالب الشرح دون ذكر مسمى نوع البيع تعتبر إجابته صحيحة.		
المفتاح		٢-١-٠		

المفردة	الجزئية	الإجابة	الدرجة	الصفحة
١٦	أ	الثورة: عملية تحوّل في جانب من جوانب الحياة السياسية والاجتماعية والفكرية والصناعية.	٢	٢٦
المعيار		(كان لها تأثير كبير وواضح وإيجابي على جميع مجالات الحياة. بما يفيد المعنى ضمن السياق السابق)		
مفتاح التصحيح		٢-٠		

المفردة	الجزئية	الإجابة	الدرجة	الصفحة
١٦	ب	١- الثورة الصناعية. ٢- الإلكترونية. ٣- اللاسلكية. ٤- المصانع الذكية/ الرقمية/ الثورة الرقمية/ ثورة تكنولوجيا المعرفة/ تكنولوجيا المعلومات.	٤ لكل مفردة درجة	٢٦ - ٣٥
المعيار		يشترط الترتيب وفق ما تشير إليه الأسهم.		
مفتاح التصحيح		٤-٣-٢-١-٠		

يتبع / ٥



(٥)

تابع: نموذج إجابة امتحان شهادة دبلوم التعليم العام

للعام الدراسي ١٤٣٨/١٤٣٩ هـ - ٢٠١٧/٢٠١٨ م

الدور الأول - الفصل الدراسي الأول

المادة: العالم من حولي

تابع/ إجابة السؤال الثاني:

المفردة	الجزئية	الإجابة	الدرجة	الصفحة
١٦	ج	نظرة إيجابية/ تأثيرا كبيرا واضحا وإيجابيا على جميع مجالات الحياة الاقتصادية والاجتماعية والثقافية والسياسية / تسهم في تسهيل المعاملات الحياتية.	٢	٣٨- ٣٩
( بما يفيد المعنى )				
٢-٠				
				المعيار
				مفتاح التصحيح

إجابة السؤال الثالث:

المفردة	الجزئية	الإجابة	الدرجة	الصفحة
١٧	١- أ	١- سياسي / إداري / نظام حكم.	١	١٨-
		٢- ثقافي / فكري / تربوي / تعليمي.	١	٢٠
تعتبر إجابة الطالب صحيحة إذا كتب/ ظهور الوزراء / تطور الهيكل التنظيمي للدولة في الصورة رقم (١) ، وظهور المعلمين والكتبة/تعلم الكتابة في الصورة رقم (٢).				
٢-١-٠				
				المعيار
				مفتاح التصحيح

المفردة	الجزئية	الإجابة	الدرجة	الصفحة
١٧	٢- أ	الاستقرار / ظهور المجتمعات / التجمعات البشرية / اكتشاف الزراعة/ توفير محاصيل زراعية/ توفير الغذاء / أدوات الزراعة ( المحراث ، الفأس) / استئناس الحيوان.	٢	١٨- ٢٠
( يكتفى بذكر اثنين وبما يفيد المعنى )				
٢-١-٠				
				المعيار
				مفتاح التصحيح

(٦)


تابع: نموذج إجابة امتحان شهادة دبلوم التعليم العام

العام الدراسي ١٤٣٨/١٤٣٩ هـ - ٢٠١٧/٢٠١٨ م

الدور الأول - الفصل الدراسي الأول

المادة: العالم من حولي

تابع/ إجابة السؤال الثالث:

المفردة	الجزئية	الإجابة	الدرجة	الصفحة
١٧	ب		٤ لكل درجة.	٦٨
المعيار	تعتبر إجابة الطالب خاطئة إذا رتب ترتيباً صحيحاً على جدول الدول.			
مفتاح التصحيح	٤-٣-٢-١-٠			

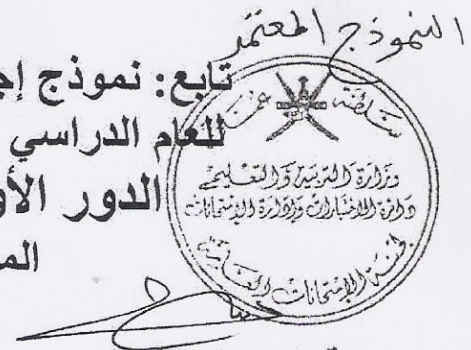
المفردة	الجزئية	الإجابة	الدرجة	الصفحة
١٧	ج	( ٥ ) - الجماهيرية الليبية/ ليبيا. ( ٦ ) - المملكة العربية السعودية/ السعودية.	٢	٦٧-٦٦
المعيار	تعتبر إجابة الطالب خاطئة إذا كتبت العاصمة بدلاً من اسم الدولة.			
مفتاح التصحيح	٢-١-٠			

المفردة	الجزئية	الإجابة	الدرجة	الصفحة
١٨	أ	النفط التقليدي. الوقود المنتج عن طريق الزراعة.	٢ لكل مفردة درجة.	٥٦
مفتاح التصحيح	٢-١-٠			

يتبع/ ٧

(٧)

تابع: نموذج إجابة امتحان شهادة دبلوم التعليم العام  
للعام الدراسي ١٤٣٨/١٤٣٩ هـ - ٢٠١٧/٢٠١٨ م  
الدور الأول - الفصل الدراسي الأول  
المادة: العالم من حولي



تابع/ إجابة السؤال الثالث:

المفردة	الجزئية	الإجابة	الدرجة	الصفحة
١٨	ب	١- الإيثانول.	١	٨٥
		٢- الديزل الحيوي / البيوديزل.	١	٨٦
المعيار			يشترط كتابة المصطلح العلمي كاملاً.	
مفتاح التصحيح			٢-١-٠	

إجابة السؤال الرابع:

المفردة	الجزئية	الإجابة	الدرجة	الصفحة
١٩	أ	اعتمد الإنسان على سرعة الرياح في تحريك أشعة السفن من أجل تسهيل تنقله من مكان إلى آخر.	٢	٥٣+ ٥٤
المعيار			تعتبر إجابة الطالب صحيحة إذا كتب "التنقل المائي"	
مفتاح التصحيح			٢-٠	

المفردة	الجزئية	الإجابة	الدرجة	الصفحة
١٩	ب	( Petra ) : صخر ( Olium ) : زيت	١ ١	٦٥
المعيار			-	
مفتاح التصحيح			٢-١-٠	

المفردة	الجزئية	الإجابة	الدرجة	الصفحة
٢٠	أ	الثقافة: مجموعة من وسائل التواصل مثل التراث الديني/ واللغة/ والقيم/ والعادات / والفلكلور الشعبي / الهوية. / سلوك يكتسب عبر التعلم يشمل عناصر غير مادية (معنوية) كاللغة والفن والدين والقيم وعناصر مادية كالملبس والمسكن والأدوات.	٢	١٠٠
المعيار			تعبر إجابة الطالب صحيحة إذا كتب الثقافة هي عبارة عن الدين واللغة والقيم والفنون والهوية/أو عبارة عن عناصر مادية أو غير مادية (معنوية).	
مفتاح التصحيح			٢-٠	

يتبع / ٨


(٨)

تابع: نموذج إجابة امتحان شهادة دبلوم التعليم العام  
للعام الدراسي ١٤٣٨/١٤٣٩ هـ - ٢٠١٧/٢٠١٨ م

الدور الأول - الفصل الدراسي الأول

المادة: العالم من حولي

تابع/ إجابة السؤال الرابع:



المفردة	الجزئية	الإجابة	الدرجة	الصفحة
٢٠	ب	آثار العولمة / العولمة / النظرة السلبية للعولمة / النظرة التشاؤمية للعولمة / سلبيات العولمة/سلبيات التعددية الثقافية /سلبيات التنوع الثقافي.	٢	١٠٥- ١١٦
المعيار		تعتبر إجابة الطالب صحيحة إذا كتب الغزو الفكري/ الغزو الثقافي.		
مفتاح التصحيح		٢-٠		
المفردة	الجزئية	الإجابة	الدرجة	الصفحة
٢٠	ج	علاقة تفاعلية / تشاركية / إيجابية / متداخلة/ الثقافة هي صانعة هوية الإنسان / الهوية جزء من الثقافة / الهوية مدينة للثقافة التي أوجدتها/ الثقافة لا تتعارض مع خصائص الهوية / علاقة تكاملية.	٢	١١٢- ١١٤
المعيار		( بما يفيد المعنى )		
مفتاح التصحيح		٢-٠		

المفردة	الجزئية	الإجابة	الدرجة	الصفحة
٢١	أ	ثقافة ظاهرة.	١	١٠٠
	ب	ثقافة خفية.	١	١٠٠
	ج	الثقافة المتغيرة / المتطورة.	١	١٠١
	د	الثقافة الجامدة.	١	١٠١
المعيار		( لا يشترط الترتيب بين أ ، ب ) ويؤخذ بمرادفات الثقافة الظاهرة مثل (مرئية/ مشاهدة بطريقة مباشرة) كما يؤخذ بمرادفات الثقافة الخفية مثل (غير مرئية/ غير مشاهدة/ مشاهدة بطريقة غير مباشرة)		
		( لا يشترط الترتيب بين ج ، د ) ويؤخذ بمرادفات الثقافة المتغيرة مثل (غير الثابتة/ تتأثر بالثقافات الأخرى/ منفتحة) كما يؤخذ بمرادفات الثقافة الجامدة مثل ( ثابتة/ غير منفتحة/ غير متطورة/ لا تتغير/ لا تتأثر بالثقافات الأخرى)		
مفتاح التصحيح		٤-٣-٢-١-٠		

نهاية نموذج الإجابة