



امتحان الصف الحادي عشر  
للعام الدراسي ١٤٣٥/١٤٣٦ هـ - ٢٠١٤/٢٠١٥ م  
الدور الأول - الفصل الدراسي الأول

- المادة: الدراسات الاجتماعية ( هذا وطني في السيرة الحضارية لعمان ) ● عدد صفحات أسئلة الامتحان: ( ٩ ) .
- زمن الإجابة: ساعتان ● الإجابة في الورقة نفسها.

		اسم الطالب
		المدرسة
الصف		


(التوقيع بالاسم)		الدرجة بالحروف (بالأحمر)	الدرجة بالأرقام (بالأحمر)		السؤال
المدقق (بالأخضر)	المصحح (بالأحمر)		عشرات	آحاد	
					١
					٢
					٣
					٤
مراجعة الجمع والتشطيب (بالأزرق)	جمعه (بالأحمر)				المجموع
				٦٠	المجموع الكلي

امتحان الصف الحادي عشر  
للعام الدراسي ١٤٣٥/١٤٣٦ هـ — ٢٠١٤/٢٠١٥ م  
الدور الأول - الفصل الدراسي الأول

- المادة: الدراسات الاجتماعية (هذا وطني في السيرة الحضارية لعمان)
- تنبيه: الأسئلة في (٩) صفحات.
- زمن الإجابة: ساعتان .

السؤال الأول: ضع دائرة حول رمز الإجابة الصحيحة لكل مفردة من المفردات الآتية:

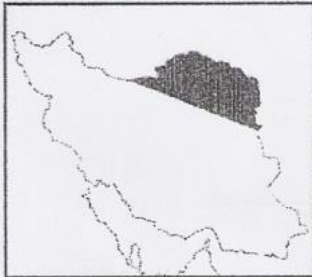
أجب عن جميع الأسئلة الآتية:



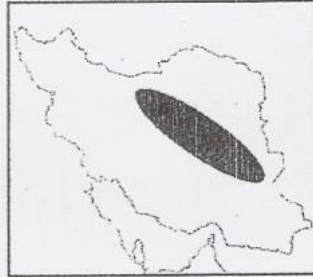
١ ( الصورة التي أمامك تعدّ أهم إنجازات الإنسان في العصر :

- أ - الحديدي.
- ب - الحجري الحديث .
- ج - الحجري الوسيط.
- د - البرونزي.

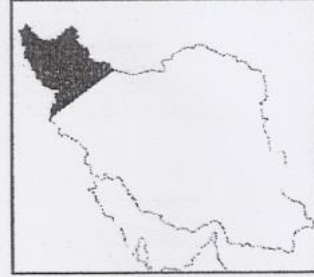
٢ ( الخريطة التي توضح الموطن الأصلي للسلالة الساسانية الحاكمة قديما في إيران :



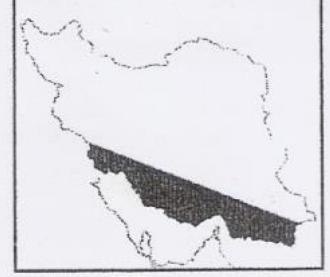
(د)



(ج)



(ب)



(أ)

٣ ( تدرج " مراكز الوفاء لتأهيل الأطفال المعوقين " في سلطنة عمان ضمن إشراف وزارة:  
أ - التربية والتعليم. ب - التنمية الاجتماعية. ج - القوى العاملة. د - التعليم العالي.

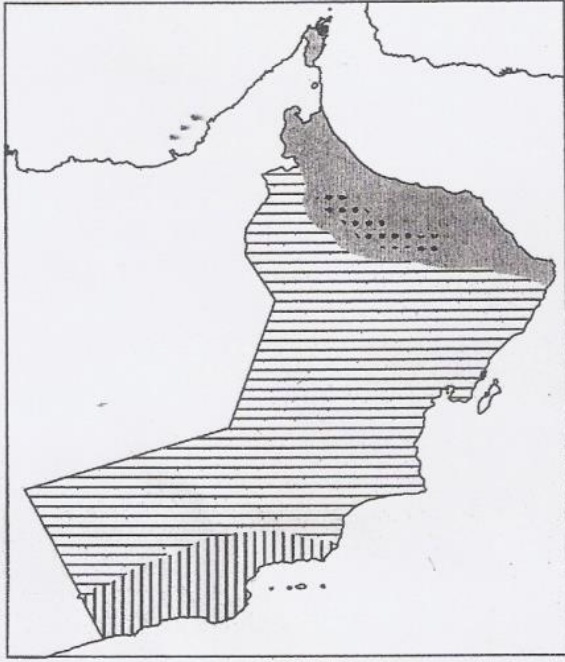


( ٢ )

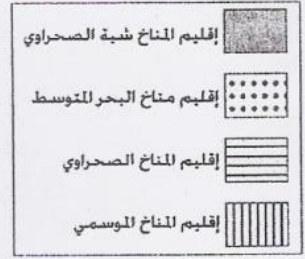
امتحان الصف الحادي عشر  
للعام الدراسي ١٤٣٥/١٤٣٦ هـ — ٢٠١٤ / ٢٠١٥ م  
الدور الأول - الفصل الدراسي الأول  
المادة: الدراسات الاجتماعية " هذا وطني "

تابع السؤال الأول:

٤ ( أمامك خريطة تمثل الأقاليم المناخية في سلطنة عمان، تأملها جيدا ثم اختر المفتاح المناسب لها:



(ب)



(أ)



(د)



(ج)

٥ ( الجدول الذي يمثل المناطق التي شملتها الإمبراطورية العمانية عبر التاريخ:

سواحل الهند
سواحل بلاد المغرب
سواحل أفريقيا الشرقية

(د)

سواحل أفريقيا الشرقية
سواحل الهند
سواحل بلاد فارس

(ج)

سواحل الهند
سواحل بلاد فارس
سواحل بلاد الشام

(ب)

سواحل البحر المتوسط
سواحل بلاد فارس
سواحل الهند

(أ)

٦ ( الفترة الزمنية لإجازة الأمومة التي تتمتع بها المرأة العمانية العاملة حسب قانون الخدمة المدنية :  
أ. ثلاثون يوما. ب. أربعون يوما. ج. خمسون يوما. د. ستون يوما.

( ٣ )

امتحان الصف الحادي عشر  
للعام الدراسي ١٤٣٥/١٤٣٦ هـ — ٢٠١٤ / ٢٠١٥ م  
الدور الأول - الفصل الدراسي الأول  
المادة : الدراسات الاجتماعية " هذا وطني "

تابع السؤال الأول:

٧ ( العام الميلادي الذي تعود إليه نشأة مجموعات دعم صحة المجتمع في سلطنة عمان :

أ- ١٩٨٩ . ب - ١٩٩٠ . ج - ١٩٩١ . د - ١٩٩٢ .

٨ ( الأرقام التي تمثل الشخصيات التي ذكرت وصفا جغرافيا في مؤلفاتها عن عمان خلال القرن العاشر الميلادي في الجدول المقابل هي:

م	الشخصيات
١	الأصطخري
٢	الهمذاني
٣	الحميري
٤	الأدريسي

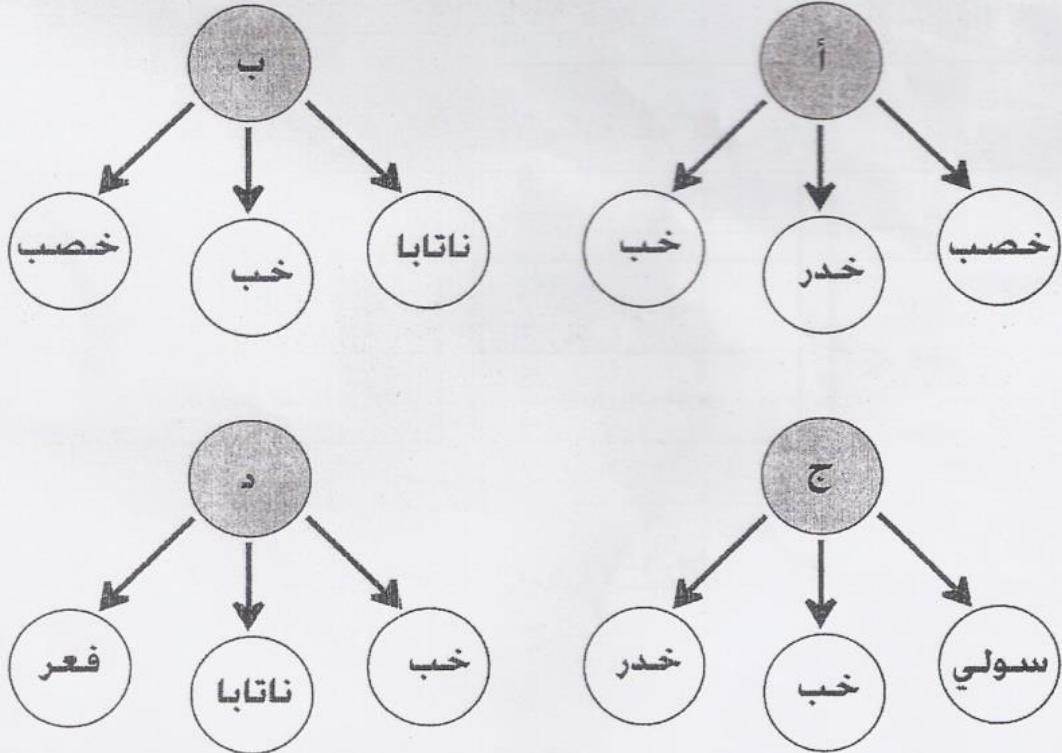
ب- (١،٣)

أ- (٢،١)

د- (٤،١)

ج- (٢،٣)

٩ ( خريطة المفاهيم التي تمثل أبرز الأودية التي تتحدر عبر سلسلة جبال مسندم:

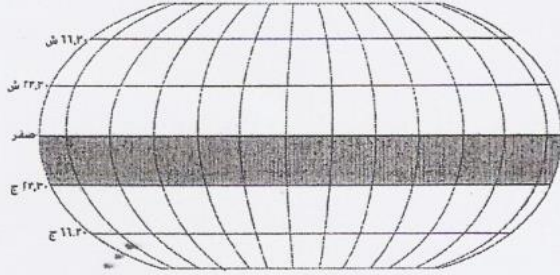




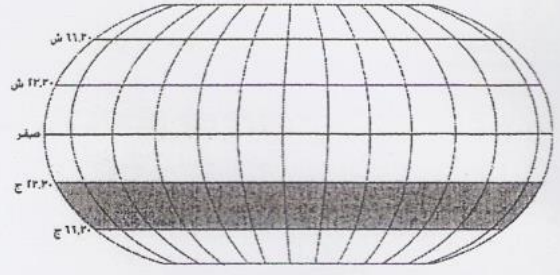
( ٤ )

امتحان الصف الحادي عشر  
للعام الدراسي ١٤٣٥/١٤٣٦ هـ — ٢٠١٤/٢٠١٥ م  
الدور الأول - الفصل الدراسي الأول  
المادة : الدراسات الاجتماعية " هذا وطني "

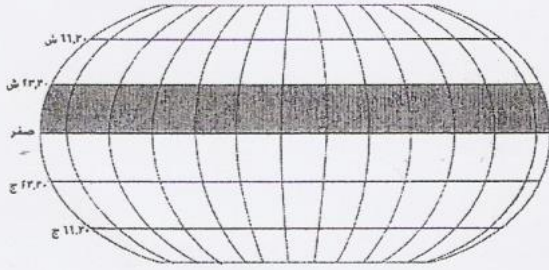
١٠ ( الشكل الذي يمثل المنطقة الحرارية التي تقع ضمنها سلطنة عمان :



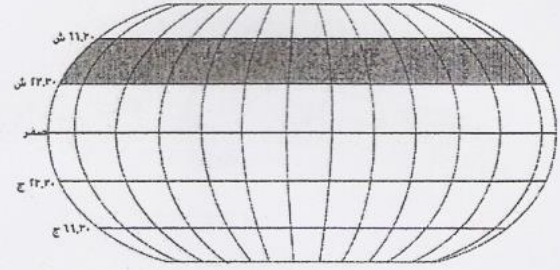
( أ )



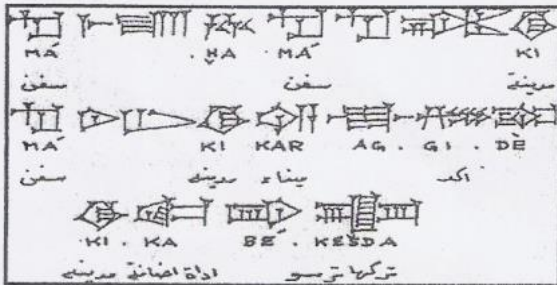
( ب )



( ج )



( د )




وثيقة سرجون الأكادي

١١ ( الحضارات التي ورد ذكرها في الشكل أمامك :

- أ - ميلوخا - دلمون - مجان .
- ب - ميلوخا - آشور - دلمون .
- ج - بابل - عيلام - دلمون .
- د - مجان - سومر - ميلوخا .


١٢ ( الصورة التي تمثل فن العازي في سلطنة عمان :




ب



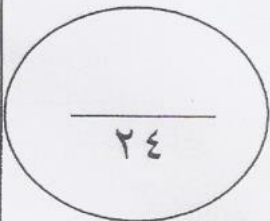
أ



د



ج



٢٤

(٥)

امتحان الصف الحادي عشر  
للعام الدراسي ١٤٣٥/١٤٣٦ هـ — ٢٠١٤/٢٠١٥ م  
الدور الأول - الفصل الدراسي الأول  
المادة : الدراسات الاجتماعية " هذا وطني "

السؤال الثاني:

أ ) اذكر اثنين لكل من:

١- العوامل التي ساعدت سلطنة عمان على الخروج من حالة التطرف المناخي .

.....  
.....

٢- مسميات ظفار القديمة لدى اليونان.

.....  
.....

ب ) فسّر العبارات الآتية:

١- برع العمانيون في تجارة العبور قديماً. حفاصا لعم

.....  
.....  
.....

٢- حرص العمانيون على الأوقاف والمحافظه عليها .

.....  
.....  
.....

ج ) ١- صنّف الجزر الآتية في الجدول التالي:

(بوسر - القبلية - شنيص - دايدامار)

جزر تابعة لجزر الحلايبات	جزر تابعة لشبه جزيرة مسندم

٢- كيف تمكّن ياقوت الحموي في كتابه معجم البلدان من وصف موقع عمان ومدنها؟

.....  
.....  
.....

١٢

يتبع/٦



(٦)

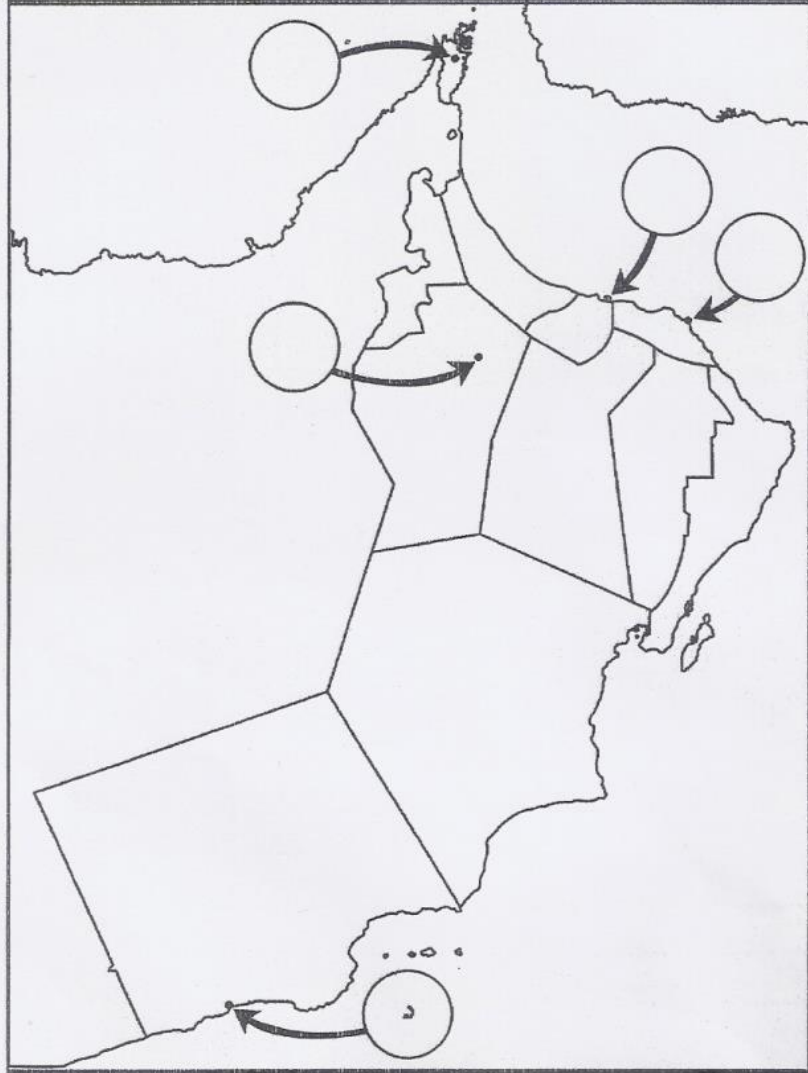
امتحان الصف الحادي عشر

للعام الدراسي ١٤٣٥/١٤٣٤ هـ — ٢٠١٣ / ٢٠١٤ م

الدور الأول - الفصل الدراسي الأول

المادة : الدراسات الاجتماعية " هذا وطني "

السؤال الثالث: أ) أمامك خريطة سلطنة عمان ، ادرسها ثم أجب عن الأسئلة التالية :



١- اكتب رمز كل عبارة مما يلي في الدائرة المناسبة على الخريطة.

أ- المدينة التي تقع فيها سبخة السوادي.

ب- المدينة التي كانت تسمى " السر " .


ج- المدينة التي يمر بها مدار السرطان.

٢- سمِّ الرِّحالة الذي وصف المدينة المشار إليها بالرمز ( د ) في القرن الرابع عشر الميلادي.

(٧)

امتحان الصف الحادي عشر  
للعام الدراسي ١٤٣٥/١٤٣٦ هـ — ٢٠١٤/٢٠١٥ م  
الدور الأول - الفصل الدراسي الأول  
المادة : الدراسات الاجتماعية " هذا وطني "

تابع السؤال الثالث:



ب ( دقق النظر في الشكل أمامك، ثم أجب عن الأسئلة الآتية:

١- ما اسم الحدث التاريخي الذي يمثله الشكل؟

.....

٢ - اذكر الفترة الزمنية التي تعود إليها النقوش الظاهرة في الشكل .

.....

ج ( أجب عن الأسئلة الآتية :

١- بين دور كل من:

أ- حمورابي في ازدهار التجارة مع عمان قديما.

.....

ب- العمانيين في نقل التأثيرات الحضارية الهندية إلى العراق قديما .

.....

ج- الوسيط " الوكيل " في التجارة بين عمان والعراق قديما.

.....

.....



( ٨ )

امتحان الصف الحادي عشر

للعام الدراسي ١٤٣٥/١٤٣٦ هـ — ٢٠١٤ / ٢٠١٥ م

الدور الأول - الفصل الدراسي الأول

المادة : الدراسات الاجتماعية " هذا وطني "

تابع السؤال الثالث:

٢- وفق معرفتك بمفهومى التنمية الاجتماعية العامة والتنمية الاجتماعية الخاصة، وزع العبارات الآتية في الجدول الذي يليها:

( رعاية الأمومة والطفولة - الفحص قبل الزواج - المباحدة بين الولادات - نظام الأسرة البديلة - الضمان الاجتماعي - رعاية المسنين ).

التنمية الاجتماعية الخاصة	التنمية الاجتماعية العامة

١٢

السؤال الرابع:

١) اكتب بين القوسين المصطلح أو المفهوم الصحيح لكل عبارة مما يأتي:

١- (.....) مصبات الأودية التي تستطيع كسر الحاجز الرملي والولوج إلى البحر فتندفق مياه المد خلالها.

٢- (.....) الاسم المحلي للوحدات الجبلية في سلطنة عمان.

٣- (.....) تعد من صور السبله العمانية في بعض ولايات عمان، يجتمع فيها الوالي مع مع أعيان البلاد وأصحاب الدعوى.

يتبع / ٩

( ٩ )

امتحان الصف الحادي عشر  
للعام الدراسي ١٤٣٥/١٤٣٦ هـ — ٢٠١٤ / ٢٠١٥ م  
الدور الأول - الفصل الدراسي الأول  
المادة : الدراسات الاجتماعية " هذا وطني "

تابع : السؤال الرابع :

ب ) أجب عن الأسئلة الآتية :

١- علّل العبارة الآتية :

" أصبحت الكثير من الأسر العمانية تندرج ضمن نوعية الأسر العمانية الصغيرة حديثاً "

٢- أكمل المخطط الزمني الآتي والذي يمثل بعض المواقع الأثرية في عمان :

الألف العاشرة ق. م	.....	الألف الثالثة ق. م	الألف الثانية ق. م
.....	الحمراء	مدحا - رأس الجنز .....بات	مدحا - سلوت .....

ج ) أجب عن الأسئلة الآتية :

١- " تعد اللغة العربية من أهم مرتكزات المجتمع العماني " وضح العبارة .

٢- سمّ الميدان الذي يقام فيه سباق الخيل السلطاني السنوي .