



المديرية العامة للتربية والتعليم

بمحافظة الشرقية جنوب

امتحان نهاية الفصل الدراسي الأول لمادة الدراسات الاجتماعية للصف التاسع

للعام الدراسي ١٤٣٦/١٤٣٧ هـ – ٢٠١٥/٢٠١٦ م

الفصل الدراسي الأول - الدور الثاني

- المادة: الدراسات الاجتماعية
- عدد صفحات اسئلة الامتحان: ( ٥ صفحات ) .
- زمن الإجابة: ساعة ونصف الساعة
- الإجابة في الورقة نفسها.

		اسم الطالب
الصف		المدرسة

(التوقيع بالاسم)		الدرجة بالحروف (بالأحمر)	الدرجة بالأرقام (بالأحمر)		السؤال
المدقق (بالأخضر)	المصحح (بالأحمر)		عشرات	آحاد	
					١
					٢
					٣
					٤
	مراجعة الجمع والتشطيب (بالأزرق)	جمعه (بالأحمر)			المجموع
					المجموع الكلي

## أجب عن جميع الأسئلة

السؤال الأول: اختر الإجابة الصحيحة بوضع علامة على الرمز الصحيح للبدائل المعطاة للأسئلة التالية: ١٦ درجة

١- عملية جمع البيانات عن عينة ممثلة للمجتمع يطلق عليها :

أ- التسجيل الحيوي      ب- التربة السكانية      ج- التعداد السكاني      د- المسوحات بالعينه

٢- حسب تعداد السكان بالسلطنة عام ٢٠١٠ بلغ عدد الذكور في محافظة الظاهرة ٨٧,٤٤٤ نسمة وبلغ عدد الاناث ٦٤,٢٢٠ نسمة ، بناء على المعطيات السابقة تكون نسبة النوع في المحافظة :

أ- ١٢,٥      ب- ١٣٠,١      ج- ١٣٦,١      د- ١٣٨,٤

٣- تعد سلطنة عمان في مراحل الانتقال السكاني ضمن المرحلة :

أ- الأولى      ب- الثانية      ج- الثالثة      د- الرابعة

٤- المستشار الذي عينه السيد سعيد بن سلطان أثناء وصوله إلى زنجبار رئيسا للوزراء:

أ- سليمان بن حمد البوسعيدي      ج- محيي الدين الوائلي  
ب- حميد بن حمد المرجبي      د- محمد بن خلفان البرواني

٥- الرقم الذي يشير إلى موقع مقديشو والتي كانت أحد مراكز انتاج الأخشاب في شرقي أفريقيا



أ- ١      ب- ٢

ج- ٣      د- ٤

٦- تم تأسيس المطبعة السلطانية في زنجبار في عهد السلطان :

أ- برغش بن سعيد      ب- سلطان بن أحمد      ج- سعيد بن سلطان      د- ماجد بن سعيد

٧- المنظمة الدولية التي تختص بالتربية والعلوم والثقافة بالعالم :

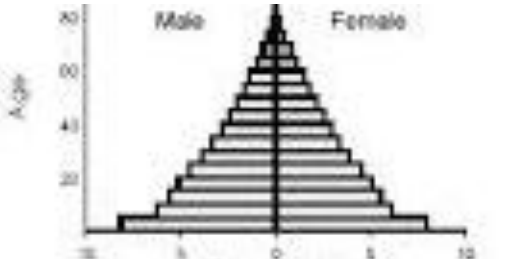

أ- الفاو      ب- لأيسكو      ج- اليونيسكو      د- الانوروا

تابع السؤال الأول

٨- العالم الاسلامي هو مجموعة الدول التي يشكل فيها المسلمون من جملة عدد السكان نسبة :  
أ ( ٤٠% ) ب ( ٥٠% ) ج ( ٦٠% ) د ( ٧٠% )

السؤال الثاني : أجب عن الأسئلة الآتية : ( ٨ درجات )

أولا : -قارن بين الهرم السكاني ( أ ) والهرم السكاني ( ب ) من حيث ( المسمى ، نوع المجتمع الذي يمثله )

ب	أ	نوع الهرم السكاني
		المسمى
		نوع المجتمع الذي يمثله

ثانيا : ( أ ) عرف المفاهيم التالية :

-المجالس السلطانية

.....

-الكثافة الفيزيولوجية

.....

-صافي الهجرة

.....

(ب) ترتفع معدلات المواليد بين المجتمعات:

- الزراعية

( اختر الاجابة الصحيحة مع التعليل )

- الصناعية

.....

تابع السؤال الثاني

ثالثا: رتب الأحداث التاريخية التالية من الأقدم إلى الأحدث بوضع الرقم في المربع

أعلنت بريطانيا الحماية على زنجبار.

اتخاذ السيد سعيد بن سلطان من زنجبار عاصمة ثانية له.

تولى الإمام أحمد بن سعيد الحكم في عمان .

وصول القائد البرتغالي البوكيرك السواحل سواحل شرقي إفريقيا.

٨ درجات

السؤال الثالث: أجب عن الأسئلة التالية

أولا : اقرأ النص التالي للرئيس الأمريكي السابق جيمي كارتر ، ثم أجب عما يليه من أسئلة

" على مر السنين أعجبت شخصيا بجهود جلالته السلطان الشجاعة في إحلال السلام في منطقته من العالم ، لقد نشر جلالته السلام بطرق عديدة . إن حصول جلالته على جائزة السلام الدولية ما هو إلا اعتراف دولي بدور جلالته الفاعل في خدمة عملية السلام الدولي . إننا نعتبر جلالته مصباحا منيرا لمحبي السلام .

أ) في أي عام حصل جلالته السلطان قابوس على جائزة السلام الدولية؟

.....

ب) على ما يدل منح جلالته السلطان جائزة السلام الدولية .

.....

ثانيا : اعط دليلا على

أ) تعاون السلطنة مع اليونسكو في مجال صون البيئة .

.....

ب) جهود السلطنة في مجال المساعدات الإنسانية في العالم الإسلامي .

.....

.....

تابع السؤال الثالث

ثالثاً: أ) اعط نتيجة على اعتناء العمانيون ببناء السفن الشراعية القادرة على الإبحار في المحيط الهندي و بحر العرب.

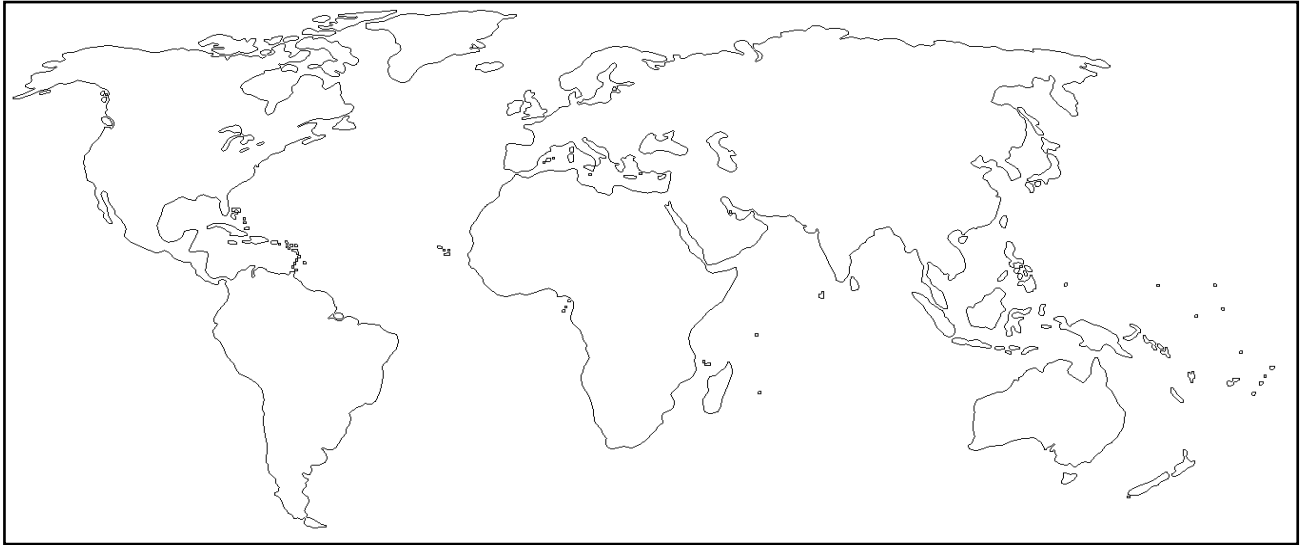
ب) عدد العوامل التي تؤثر في شكل الهرم السكاني ( يكتفى بذكر اثنين )

٢- أمامك مجموعة من اعمال منظمتي الصحة العالمية و منظمة الامم المتحدة للأغذية والزراعة صنفها في الجدول التالي  
(تراقب تفشي الامراض السارية - زيادة مصادر الانتاج لمسايرة زيادة الاستهلاك - نشر الوعي من أجل حماية مياه الشرب من التلوث - الاشراف على مشاريع صيد الأسماك )

منظمة الصحة العالمية	منظمة الأمم المتحدة للأغذية والزراعة

٨ درجات

السؤال الرابع: اجب عن الأسئلة التالية:



أولاً : ادرس الخريطة التالية ثم أجب عما يلي:

أ- ظلل على الخريطة امتداد الامبراطورية العمانية في عهد السيد سعيد بن سلطان.

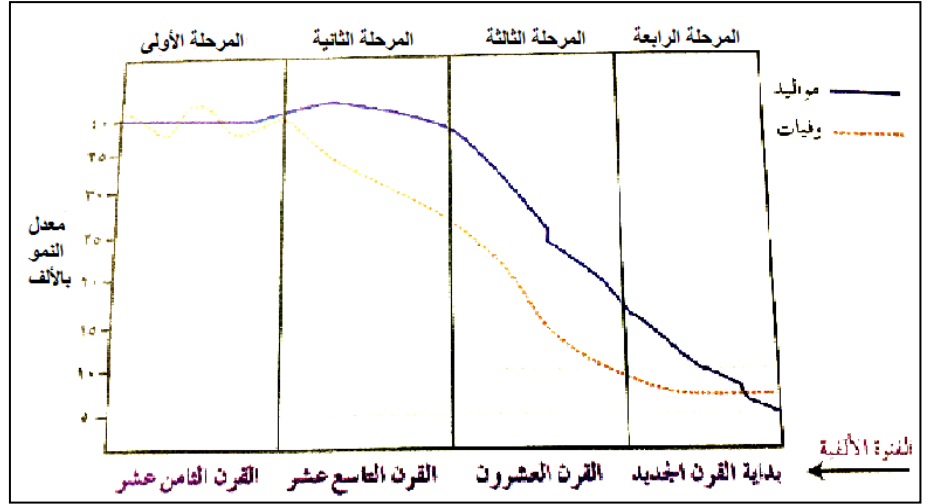
ب- ارسم خط سير السفينة سلطنة.

ج- وقع على الخريطة المحيط الهندي في مكانه الصحيح

د- وقع على الخريطة اسم الدولة التي ترأست مجلس الأمن مرتين خلال الفترة من ١٩٩٤ - ١٩٩٥ م

### تابع السؤال الرابع

ثانيا : ادرس الشكل التالي والذي يمثل مراحل الانتقال السكاني ، ثم أجب عن الأسئلة التالية



أ) عرف الانتقال السكاني :

.....

ب) على ماذا يدل الخط المتقطع (.....) في الشكل السابق

.....

ج) قارن بين المرحلة الأولى والرابعة من حيث معدلات الوفيات والمواليد

وجه المقارنة	المرحلة الأولى	المرحلة الرابعة
معدلات المواليد		
معدلات الوفيات		

انتهت الأسئلة





امتحان نهاية الفصل الدراسي الأول للصف التاسع

للعام الدراسي ٢٠١٥ / ٢٠١٦ م

الدور الثاني

الفصل الدراسي الأول

المادة: الدراسات الاجتماعية

إجابة السؤال الأول				
المفردة	البديل الصحيح	الدرجة	الصفحة	
١	د المسوحات بالعينة	٢	١٣	
٢	ج ١٣٦,١	٢	١٧	
٣	ب الثانية	٢	٢٥	
٤	أ سليمان بن حمد البوسعيدي	٢	٤٧	
٥	ب ٢	٢	٤٤	
٦	أ برغش بن سعيد	٢	٥٦	
٧	ج اليونيسكو	٢	٨٢	
٨	د الإعلام	٢	٨٣	
المجموع		١٦ درجة		

إجابة السؤال الثاني						
الجزئية	المفردة	الإجابة الصحيحة			الدرجة	الصفحة
اولا	أ-	المسمى	الهرم ذو القاعدة الضيقة	الهرم ذو القاعدة العريضة	٢	٢٣
		نوع المجتمع الذي يمثله	المجتمع المسن	المجتمع الفتي	لكل نصف درجة	



٤٧	١	مجالس كان يعقدها السلاطين البوسعيدين في شرقي افريقيا للاطلاع على مشاكل الرعية ، ولسماع رأي المستشارين فيما يتعلق بمصالح الدولة .	أ-	ثانيا
٣٢	١	- قسمة عدد السكان على مساحة المنطقة التي يعيشون عليها ويستثمرونها .		
٢٨	١	-الفرق بين الهجرة الخارجية والهجرة الداخلة للدولة .		
٢٨	نصف درجة نصف درجة	٧ الرزاعية لإحتياجها لليد العاملة . الثقافة السائدة في المجتمعات الزراعية . ( يكتفى بذكر واحدة)	ب-	ثانيا
٦٣	٢			ثالثا
٤٢	لكل		٤	
٤١	نصف		٣	
٤٠	درجة		٢	
			١	
٨ درجات		المجموع		

### إجابة السؤال الثالث

الصفحة	الدرجة	الإجابة الصحيحة	المفردة	الجزئية
٨٨	١	١٩٩٨	أ-	أولا
٨٨	١	تقديرا لدور جلالاته في إرساء السلام العالمي .	ب-	
٨٩	١	جائزة السلطان قابوس المعظم لصون البيئة .	أ-	ثانيا

٧٦	١	مساندة الشعب الفلسطيني ماديا وسياسيا - مساعدة الشعب البوسني المسلم ومسلمي كوسوفو - مساعدة الشعب الأفغاني وشعوب شرقي أفريقيا - ومساعدات للدول التي تتعرض للمحن كإيران وتركيا - والمتضررين في دول جنوب	ب_٢							
٤٥	١	استطاع العمانيون بسفنهم العملاقة أن يربطوا الشواطئ الإفريقية بالشواطئ العمانية في أوقات هبوب الرياح الموسمية.	أ-	ثالثا:						
٢٣	١	المواليد - الهجرة الداخلة - الهجرة الخارجة (يكتفى بذكر اثنين)	ب-							
٨٤	٢	<table border="1"> <tr> <td>منظمة الأمم المتحدة للأغذية والزراعة</td> <td>منظمة الصحة العالمية</td> </tr> <tr> <td>زيادة مصادر الانتاج لمسايرة زيادة الاستهلاك</td> <td>تراقب تفشي الأمراض السارية</td> </tr> <tr> <td>الاشراف على مشاريع صيد الأسماك</td> <td>نشر الوعي من أجل حماية مياه الشرب من التلوث</td> </tr> </table>	منظمة الأمم المتحدة للأغذية والزراعة	منظمة الصحة العالمية	زيادة مصادر الانتاج لمسايرة زيادة الاستهلاك	تراقب تفشي الأمراض السارية	الاشراف على مشاريع صيد الأسماك	نشر الوعي من أجل حماية مياه الشرب من التلوث	ج	
منظمة الأمم المتحدة للأغذية والزراعة	منظمة الصحة العالمية									
زيادة مصادر الانتاج لمسايرة زيادة الاستهلاك	تراقب تفشي الأمراض السارية									
الاشراف على مشاريع صيد الأسماك	نشر الوعي من أجل حماية مياه الشرب من التلوث									
٨ درجات		المجموع								

إجابة السؤال الرابع :

الصفحة	الدرجة	الإجابة الصحيحة	المفردة	الجزئية
٤٤	٤ لكل مفردة درجة واحدة			أولا

٢٤	١	١- الانتقال السكاني هو نتيجة حتمية للتغيرات التي تطرأ على حالة السكان من حيث المواليد والوفيات والهجرة.			أ-
٢٥	١	٢- معدل الوفيات.			
	٢ لكل نصف درجة				ب-
٢٦-٢٥		المرحلة الأولى	المرحلة الرابعة	وجه المقارنة	
		ارتفاع	انخفاض	معدلات المواليد	
		ارتفاع	انخفاض	معدلات الوفيات	
	٨				المجموع

أتمى نموذج الإجابة