

بِسْمِ اللَّهِ الرَّحْمَنِ الرَّحِيمِ
" رَبِّ اجْعَلْ لِي صَدْرِي مُبْتَدِئًا وَأَخِيرًا "



المديرية العامة للتربية والتعليم لمحافظة الظاهرة
دائرة التقويم التربوي

امتحان نهاية الفصل الدراسي الأول - الدور الثاني - العام الدراسي ٢٠١٥/٢٠١٦م

الصف : التاسع	المادة : الدراسات الاجتماعية	الزمن : ساعة ونصف	الدرجة : ٤٠ درجة
---------------	------------------------------	-------------------	------------------

تنبيه :

- الأسئلة في (٦) صفحات .
- الإجابة في نفس الورقة .

رقم السؤال	الدرجة بالأرقام	الدرجة بالحروف	اسم المصحح	توقيعه
١				
٢				
٣				
٤				
المجموع الكلي				

اسم الطالب /

الصف / الشعبة ()

المدرسة /

امتحان نهاية الفصل الدراسي الأول - الدور الثاني - العام الدراسي ٢٠١٥/٢٠١٦ م

السؤال الأول: ضع دائرة حول رمز الإجابة الصحيحة فيما يلي: (١٦ درجة)

١- جميع ما يلي من المصادر الرئيسية لدراسة الخصائص والتغيرات السكانية في أي مجتمع ما عدا:

- (أ) التعداد السكاني
(ب) التسجيل الحيوي
(ج) سجلات المدارس
(د) المسوحات بالعينة

٢- إذا كان عدد الذكور في مجتمع معين ما ٤٠٠٠٠٠ نسمة وعدد الإناث ٢٠٠٠٠٠ نسمة فإن نسبة النوع لهذا المجتمع:

- (أ) ١٠٠
(ب) ٢٠٠
(ج) ٣٠٠
(د) ٤٠٠

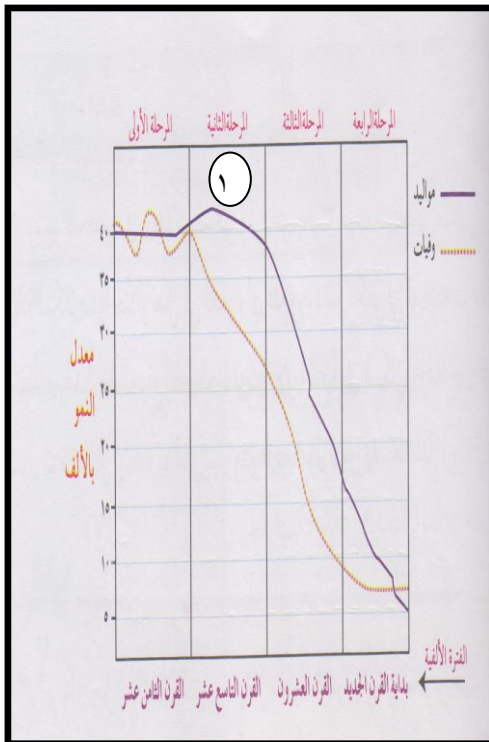
٣- تتميز مرحلة الإنتقال السكاني المشار إليها بالرقم (١) في الشكل المقابل ب:

(أ) انخفاض معدلات المواليد والوفيات

(ب) ارتفاع معدلات المواليد والوفيات

(ج) ارتفاع معدلات المواليد وانخفاض معدلات الوفيات

(د) ارتفاع معدلات المواليد وانخفاض معدلات الوفيات



تابع: السؤال الأول:

٤- أسس إمارة عربية إسلامية واسعة الأرجاء في أعالي الكونغو:

- (أ) حميد بن محمد المرجبي
(ب) السيد سليمان بن حمد
(ج) محمد بن خلفان البرواني
(د) حسن الفارسي

٥- بالإستعانة بالخريطة التي أمامك، الجزيرة المشار إليها بالرقم (١) وتشتهر بزراعة القرنفل والنارجيل:



- (أ) مافيا
(ب) ممباسا
(ج) بمبا
(د) زنجبار

٦- من أهم السلع التي كانت السفن العمانية تسعى إلى جلبها من شرقي إفريقيا:

- (أ) العاج
(ب) العنبر
(ج) الذهب
(د) الزعفران

٧- الصورة التي أمامك تمثل جائزة منحت لجلالة السلطان في عام ١٩٩٨م:



- (أ) البيئة العالمية
(ب) قمة الأرض
(ج) نوبل
(د) السلام الدولية

تابع السؤال الأول:

٨- المنظمة الدولية التي تعمل على توفير تغذية كافية وسكن ملائم وأوقات للراحة ومكافحة عمالة الأطفال:

(أ) الصحة العالمية

(ج) الأغذية والزراعة (الفاو)

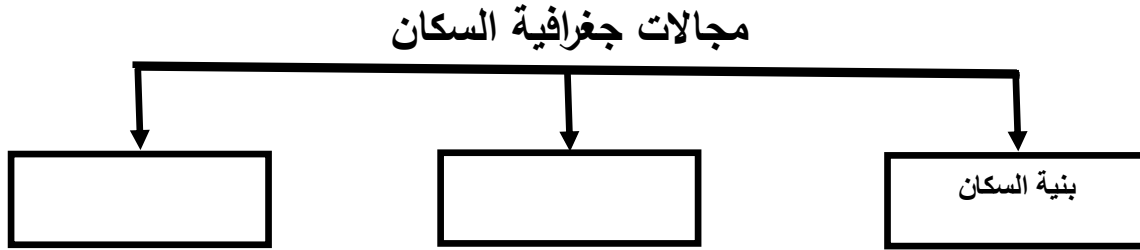
(ب) العمل الدولية

(د) اليونسكو

السؤال الثاني: (٨ درجات)

(أ) أجب عن الأسئلة التالية:

١- أكمل المخطط التالي:



٢- استبدل العبارات التالية بالاسم أو المصطلح الدال على كل منهما:

أ- نسبة الأفراد العاملين إلى الأفراد غير العاملين.....

ب- الفرق بين الهجرة الخارجية والهجرة الداخلية للدولة.....

(ب) دال على ما يلي:

١- تتمتع سلطنة عمان بموقع استراتيجي بالغ الأهمية في العالم الإسلامي

.....
.....
.....

تابع السؤال الثاني:

٢- المساعدات الإنسانية لسلطنة عمان في فلسطين.

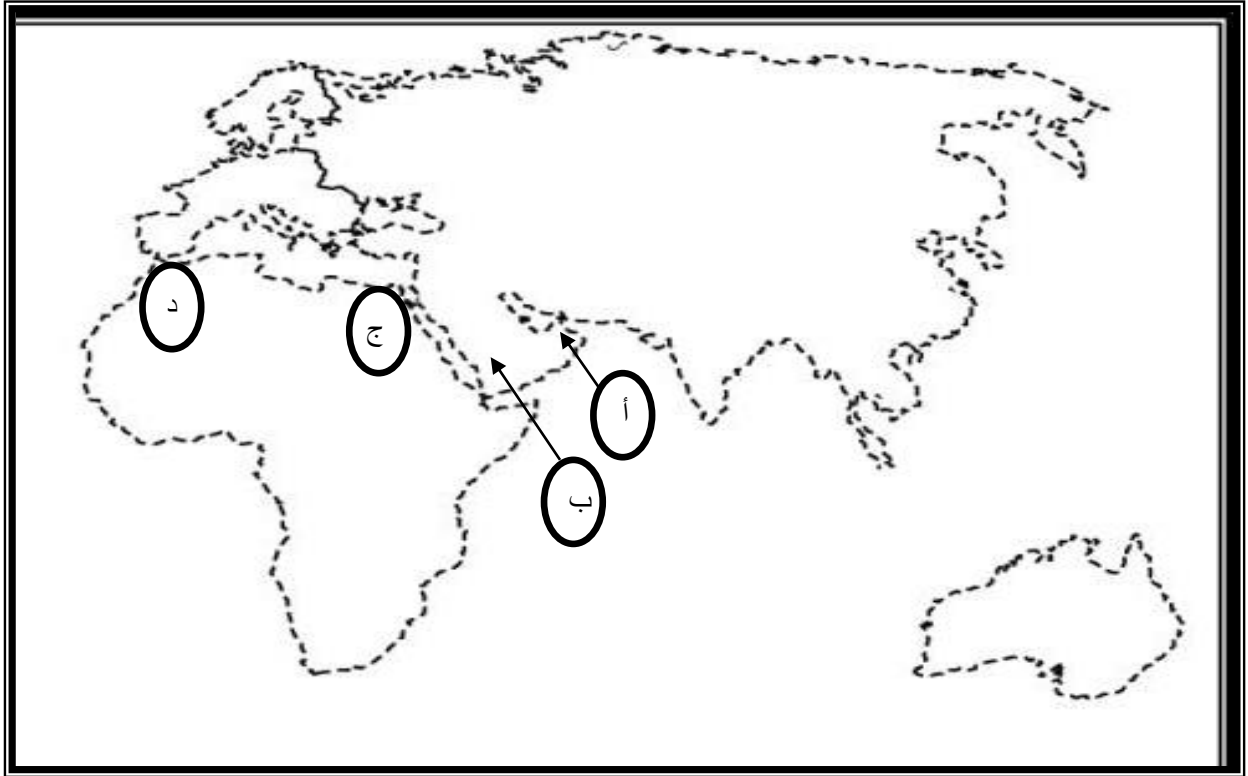
.....
.....
.....

ج) كيف يؤثر اختلاف نوعية المهاجرين في نسبة النوع في المجتمعات؟

.....
.....

السؤال الثالث: أجب عن الأسئلة التالية: (٨ درجات)

أ) ادرس الخريطة التالية ، ثم أجب عن الأسئلة التي تليها:



١- ارسم على الخريطة اتجاه الرياح التي دفعت السفن العمانية إلى شرقي إفريقيا؟

٢- الرمز الذي يشير إلى الدولة التي يوجد بها مقر المنظمة الإسلامية للتربية والعلوم والثقافة (إيسيسكو) هو.....

٣- أكتب البحر المتوسط في مكانه الصحيح على الخريطة.

يتبع ٤

تابع السؤال الثالث:

ب) رتب الأحداث التاريخية التالية من الأقدم الى الأحدث بوضع الرقم في المربع وفقاً للمعطيات الواردة في الجدول أدناه.

م	الأحداث	الترتيب
١	رحلة أحمد بن النعمان الكعبي إلى نيويورك على السفينة سلطانه.	
٢	اتخذ السيد سعيد بن سلطان زنجبار عاصمة ثانية لدولته.	
٣	تأسيس المطبعة السلطانية في زنجبار في عهد السلطان برغش بن سعيد.	

ج) تخيل نفسك تاجراً عمانياً في القرن التاسع عشر الميلادي بصحبة عدد من رفاقك من مدينة مسقط إلى زنجبار، ما المنتجات الزراعية التي تحملها من مسقط إلى زنجبار؟
(يكتفي بذكر أربع منتجات فقط)

.....
.....

السؤال الرابع: أجب عن الأسئلة التالية : (٨ درجات) :

أ- "يعد النمو السكاني في العالم من أبرز الظواهر السكانية المميزة لهذا العصر، حيث يمثل تحدياً مهماً للعالم ، ولا سيما الدول النامية التي يتكاثر سكانها بمعدل كبير يزيد على معدل التنمية الاقتصادية بها".
في ضوء العبارة السابقة ، أجب عن الأسئلة التالية؟

١- عرف المقصود بالنمو السكاني؟

.....
.....

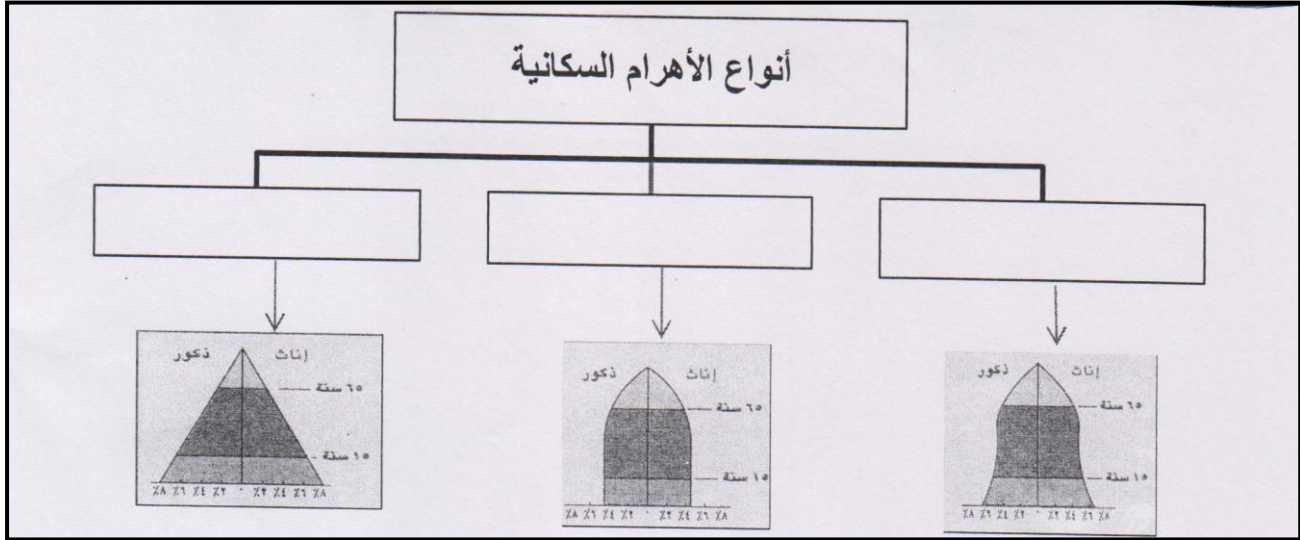
يتبع ٥ ...

تابع السؤال الرابع:

٢- بم تفسر اختلاف معدلات المواليد بين الدول ؟

.....
.....

ب- صنف أنواع الأهرامات السكانية في الخريطة المفاهيمية حسب الأشكال الموجودة أمامك؟



ج- في الجدول أدناه قم بكتابة اسم المنظمة الدولية أمام الإختصاص الذي يناسبها:

م	اسم المنظمة	إختصاصها
١		نشر الثقافة العالمية
٢		نشر الوعي لحماية مياه الشرب من التلوث
٣		حفظ الأمن والسلام الدوليين

انتهت الأسئلة مع التمنيات للجميع بالنجاح



بِسْمِ اللَّهِ الرَّحْمَنِ الرَّحِيمِ

" رَبِّ اجْعَلْ لِي قَلْبًا عَاقِلًا وَيَسِّرْ لِي أَمْرًا "

مِنَاطِنَةُ عُومَانَ
وَأَذَانَ الرَّبِّيَّةِ وَالتَّحْلِيمِ
المديرية العامة للتربية والتعليم بمحافظة الظاهرة
دائرة التقويم التربوي

نموذج إجابة امتحان نهاية الفصل الدراسي الأول - الدور الثاني - العام الدراسي ٢٠١٥/٢٠١٦م

الصف : التاسع	المادة : الدراسات الاجتماعية	الزمن : ساعة ونصف	الدرجة : ٤٠ درجة
---------------	------------------------------	-------------------	------------------

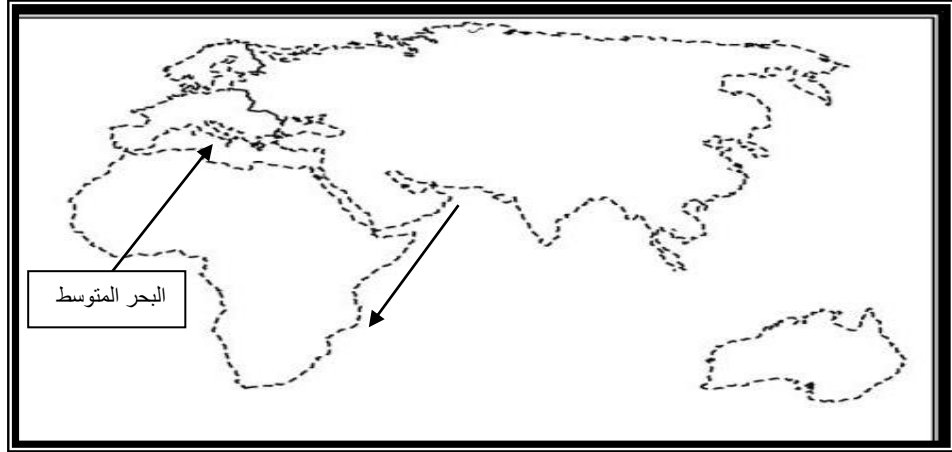
إجابة السؤال الأول : (١٦ درجة لكل مفردة درجتان)

رقم المفردة	١	٢	٣	٤	٥	٦	٧	٨
رمز الإجابة	ج	ب	ج	أ	ج	ج	د	ب
الإجابة	سجلات المدارس	٢٠٠	ارتفاع معدلات المواليد وانخفاض معدلات الوفيات	حميد بن محمد المرجبي	بمبا	الذهب	السلام الدولية	منظمة العمل الدولية
الدرجة	٢	٢	٢	٢	٢	٢	٢	٢
الصفحة	١١	١٦	٢٥	٥٣	٤٩	٥٣	٨٨	٨٤

م	الإجابة	الدرجة	الصفحة
أ	<p><u>إجابة ١</u></p> <pre> graph TD A[] --> B[كثافة السكان وعلاقتهم بالبيئة] A --> C[نمو السكان] A --> D[-----] </pre>	٢	١٠
	<p><u>إجابة ٢ : أ- الإعالة.</u> ب- صافي الهجرة.</p>	١ ١	١٥ ٢٨
ب-	<p>١- لأنها تقع في أقصى الجنوب الشرقي لشبه الجزيرة العربية وتطل على أهم الطرق التجارية البحرية في العالم، كما اتصلت قديماً بطرق القوافل عبر الجزيرة العربية لتربط بين أجزائها. <u>(يكتفى بذكر دليل واحد فقط)</u></p> <p>٢- لإعادة بناء المنازل والعقارات المتضررة وتجهيز المستشفيات والمؤسسات العلاجية وتنمية المشروعات الصغيرة والصناعات المنزلية وتطوير المشاريع ذات العلاقة بقطاع التربية والتعليم. <u>(المعلم يقدر إجابة الطالب)</u></p>	١ ١	٧٠ ٧٦
ج-	<p>- اختلاف نوعية المهاجرين فالغالبية تكون من الذكور.</p> <p>- عدم الدقة في تسجيل الإناث وإغفال التبليغ عن بعض ولادات الإناث.</p> <p>- اختلاف معدلات الوفيات بين الذكور والإناث فالحروب مثلاً تعمل على زيادة الوفيات عند الذكور. <u>(يكتفى بذكر سببين فقط)</u></p>	٢	١٦

إجابة السؤال الثالث : (٨ درجات)

أ-



٤١ ١
٧٥ ١
٧١ ١

١- السهم موضح على الخريطة.

٢- الرمز (د).

٣- البحر موضح على الخريطة.

م	الإجابة	الدرجة	الصفحة
ب-	<p>تابع السؤال الثالث</p> <p>الترتيب الصحيح للأحداث التاريخية :</p> <div style="display: flex; justify-content: space-around; align-items: center;"> <div style="border: 1px solid black; padding: 5px; margin: 5px;">٣</div> <div style="border: 1px solid black; padding: 5px; margin: 5px;">١</div> <div style="border: 1px solid black; padding: 5px; margin: 5px;">٢</div> </div>	<p>٣</p> <p>(يعطى الطالب درجة لكل مفردة)</p>	٥٦-٤٢
ج-	<p>- المنتجات الزراعية من التمور - الفواكه - الحنطة- الشعير - الأرز- الزعفران - اللبان - الرياحين - الورد المجفف - الليمون.</p> <p><u>(يكتفى بذكر أربع منتجات فقط)</u></p>	٢	٥٤

إجابة السؤال الرابع: (٨ درجات)

م	الإجابة	الدرجة	الصفحة								
أ-	١- زيادة أعداد السكان من سنة لأخرى نتيجة زيادة عدد المواليد وانخفاض عدد الوفيات والهجرة. ٢- حسب الأوضاع الاقتصادية والاجتماعية وبحسب الثقافة المكتسبة السائدة في المجتمعات.	١	٢٧ ٢٨								
ب-	<div style="text-align: center;"> <p>أنواع الأهرام السكانية</p> </div>	٣ درجات لكل تكملة درجة	٢٣								
ج-	<table border="1" style="width: 100%; text-align: center;"> <thead> <tr> <th>م</th> <th>اسم المنظمة</th> </tr> </thead> <tbody> <tr> <td>١</td> <td>اليونسكو</td> </tr> <tr> <td>٢</td> <td>الصحة العالمية</td> </tr> <tr> <td>٣</td> <td>مجلس الأمن الدولي</td> </tr> </tbody> </table>	م	اسم المنظمة	١	اليونسكو	٢	الصحة العالمية	٣	مجلس الأمن الدولي	٣ درجات لكل تكملة درجة	٨٦-٨٢
م	اسم المنظمة										
١	اليونسكو										
٢	الصحة العالمية										
٣	مجلس الأمن الدولي										

” نهاية نموذج الإجابة ”

إعداد وحدة إشراف الدراسات الاجتماعية
٩٩٤٥٧١٧٢