

الإجابة في نفس الورقة



المديرية العامة للتربية والتعليم بمحافظة جنوب الشرقية

امتحان الصف التاسع  
للعام الدراسي ١٤٣٦/١٤٣٧ هـ - ٢٠١٥/٢٠١٦ م  
الفصل الدراسي الأول - الدور الأول

- المادة: الدراسات الاجتماعية
- زمن الإجابة: ساعة ونصف الساعة
- عدد صفحات اسئلة الامتحان: ( ٦ صفحات )
- الإجابة في الورقة نفسها.

اسم الطالب	
الصف	المدرسة

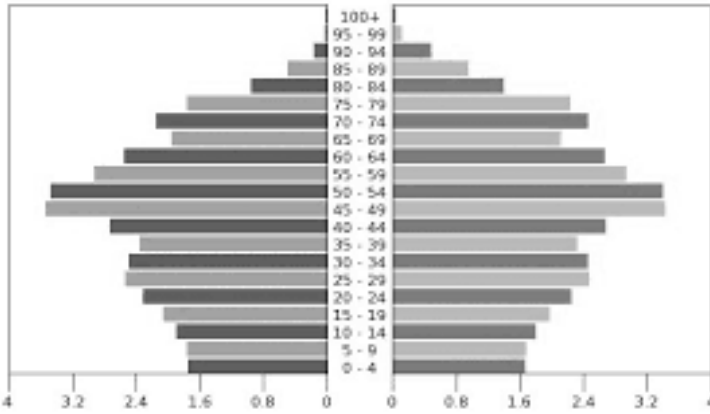
السؤال	الدرجة بالأرقام (بالأحمر)		الدرجة بالحروف (بالأحمر)	(التوقيع بالاسم)	
	آحاد	عشرات		المصحح (بالأحمر)	المدقق (بالأخضر)
١					
٢					
٣					
٤					
المجموع			جمعه (بالأحمر)	مراجعة الجمع والتشطيب (بالأزرق)	
المجموع الكلي					

أجب عن جميع الأسئلة .

السؤال الأول: اختر الاجابة الصحيحة بوضع علامة على الرمز الصحيح من بين البدائل المعطاة : (١٦ درجة)

- ١- أحمد طالب تخرج من الكلية التقنية العليا بدرجة البكالوريوس ويجيد اللغة الانجليزية الى جانب اللغة العربية ،  
التركيب الذي يمثل الحالة السكانية لأحمد هو:  
(أ) الاقتصادي (ب) العمري (ج) النوعي (د) الاجتماعي

٢- في الهرم السكاني لألمانيا للعام ٢٠١٤ ، فإن المرحلة العمرية التي يبدأ الهرم فيه بالانتساع:



- (أ) ٩ - ٥  
(ب) ٦٩ - ٦٥  
(ج) ٣٤ - ٣٠  
(د) ٨٩ - ٨٥

٣- يقصد به جمع البيانات و المعلومات بكل تفاصيلها في مجتمع معين في وقت محدد:  
(أ) المسوحات بالعينة (ب) التسجيل الحيوي (ج) التعداد السكاني (د) السجلات الحكومية

٤- وصفه ريتشارد بيرتون في كتابه أقاليم البحيرات بأنه " الأول في الحرب ، و الأول في السلم ، و الأول في قلوب أهل بلده " هو :

- (أ) سلطان بن أحمد (ب) أحمد بن سعيد (ج) برغش بن سعيد (د) سعيد بن سلطان

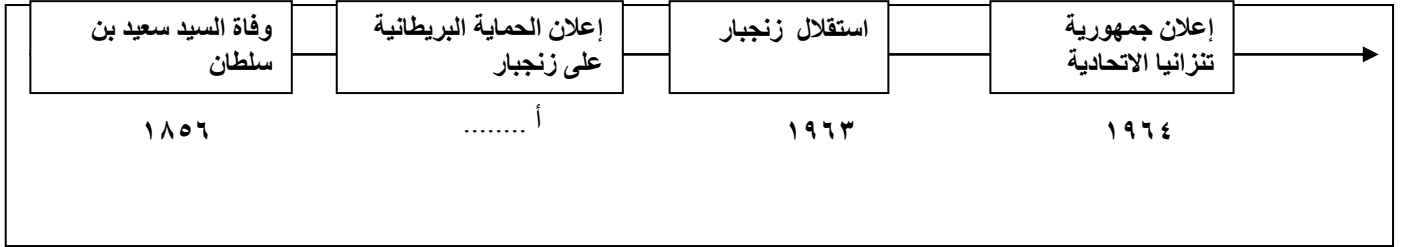
٥- الشكل المقابل يوضح أحد الطرق الرئيسية لتجارة القوافل العربية في قارة أفريقيا :



- (أ) الشمالي  
(ب) الأوسط الجنوبي  
(ج) الأوسط الشمالي  
(د) الجنوبي

تابع السؤال الأول

٦- توضح المسطرة الزمنية أهم الأحداث التاريخية في شرقي أفريقيا (١٨٥٦ - ١٩٦٤ م) فان الرمز ( أ ) يشير للعام:



د- ١٨٩٣

ج- ١٨٩٢

ب- ١٨٩١

أ- ١٨٩٠

٧) نشأت نتيجة قيام المتطرفين اليهود بحرق المسجد الأقصى عام ١٩٦٩ م منظمة :  
أ) الصحة العالمية ب- العمل الدولية ج- المؤتمر الاسلامي د-مجلس الامن الدولي

٨) شارك السلطنة في المجلس الدولي الحكومي للبرنامج الدولي لتنمية الاتصال ( بدتا ) وتمثله وزارة ..

أ- الاسكان ب- التنمية الاجتماعية ج- التراث والثقافة د- الاعلام

( ٨ درجات )

السؤال الثاني: أجب عن الأسئلة التالية :

أولاً:- اذكر نتيجة واحدة ترتبت على :

أ- توقيع اتفاقية تنمية العلاقات التجارية والاستثمارية بين السلطنة والولايات المتحدة الأمريكية في ٧ يوليو ٢٠٠٤ م .

ب- اتساع الامبراطورية العمانية في عهد السيد سعيد بن سلطان و تعدد ثغورها و حصونها .

ثانياً:

أ- اذكر اثنين من العوامل المؤثرة لتوجه العمانيون نحو شرقي أفريقيا

تابع السؤال الثاني :

ب- احسب الزيادة الطبيعية لسلطنة عمان وفقا لإحصائيات وزارة الصحة لعام ٢٠١٢ إذا علمت أن معدل المواليد الخام بالألف بلغ ٣٢,١ و معدل الوفيات الخام بالألف بلغ ٣,٢

ثالثا: ادرس الجدول المقابل الذي يوضح نسبة النوع في بعض الدول ثم أجب

عن الأسئلة التي تليه :

أ - كيف تقاس نسبة النوع ؟

الدولة	نسبة النوع
سلطنة عمان	١٢٨
الامارات العربية المتحدة	١٤٨
العراق	١٠٢
باكستان	١٠٥

ب-فسر: من حيث العوامل المؤثرة على نسبة النوع في المجتمعات ،

-ارتفاع نسبة النوع في دولة الامارات العربية المتحدة وانخفاضها في

جمهورية العراق

ج- لا يتوزع سكان الكرة الأرضية بشكل متساو ومنتظم . علل

٨درجات

السؤال الثالث: أجب عن الأسئلة التالية

أولاً:-

(أ) صنف المناطق الجغرافية التالية وفق ما تراه مناسباً في الجدول (نيويورك - موريشيوس - الكونغو- سيشل- بمبا )

تسمى الجزيرة الخضراء ، أرضها خصبة جدا وتشتهر بزراعة القرنفل والنارجيل.	
المدينة التي قصدتها السفينة سلطنة في رحلتها عبر المحيط الأطلسي سنة ١٨٤٠م.	
كان يستورد منها القرنفل إلى زنجبار قبل أن يقرر السيد سعيد بن سلطان زراعته في زنجبار.	
توفي بالقرب منها السيد سعيد بن سلطان على ظهر سفينته فكتوريا.	

تابع السؤال الثالث

ثانيا : اكتب المصطلح الدال على العبارات التالية  
أ- جميع الأفراد الذين يؤدون عملا منتجا لحسابهم الخاص أو عند الغير أو لدى الأسرة بدون أجر.

ب- أحد المنظمات التابعة لهيئة الأمم المتحدة ومن أعمالها توسيع دائرة الضمان الاجتماعي و الرعاية الصحية لليد العاملة

ثالثا: اقرأ الفقرة التالية ، ثم أجب عن الأسئلة التي تليها .

"تهتم هذه المنظمة بحقوق الطفل، ومن أجل ذلك تم في ١٩٨٩ م اعلان اتفاقية عالمية تضمن للطفل بقاءه و حمايته ونمائه ، و تصون حقوقه المدنية والصحية والاجتماعية والثقافية ، وتضم هذه الاتفاقية ٥٤ بندا "

أ - ما المنظمة التي تناولتها الفقرة السابقة.

ب- متى تم الاعلان عن اتفاقية حقوق الطفل؟

ج- "في سبتمبر ٢٠١٥ م تم مقاطعة عدد من الشركات العالمية نظرا لاستخدامها أطفال دون سن ١٥ للعمل لديها في المصانع مقابل أجور زهيدة "

هل يتعارض الخبر السابق مع بنود اتفاقية حقوق الطفل؟ وضح ذلك.

٨ درجات

السؤال الرابع: أجب عن الأسئلة التالية

أولاً : اذكر اثنين مما يلي :

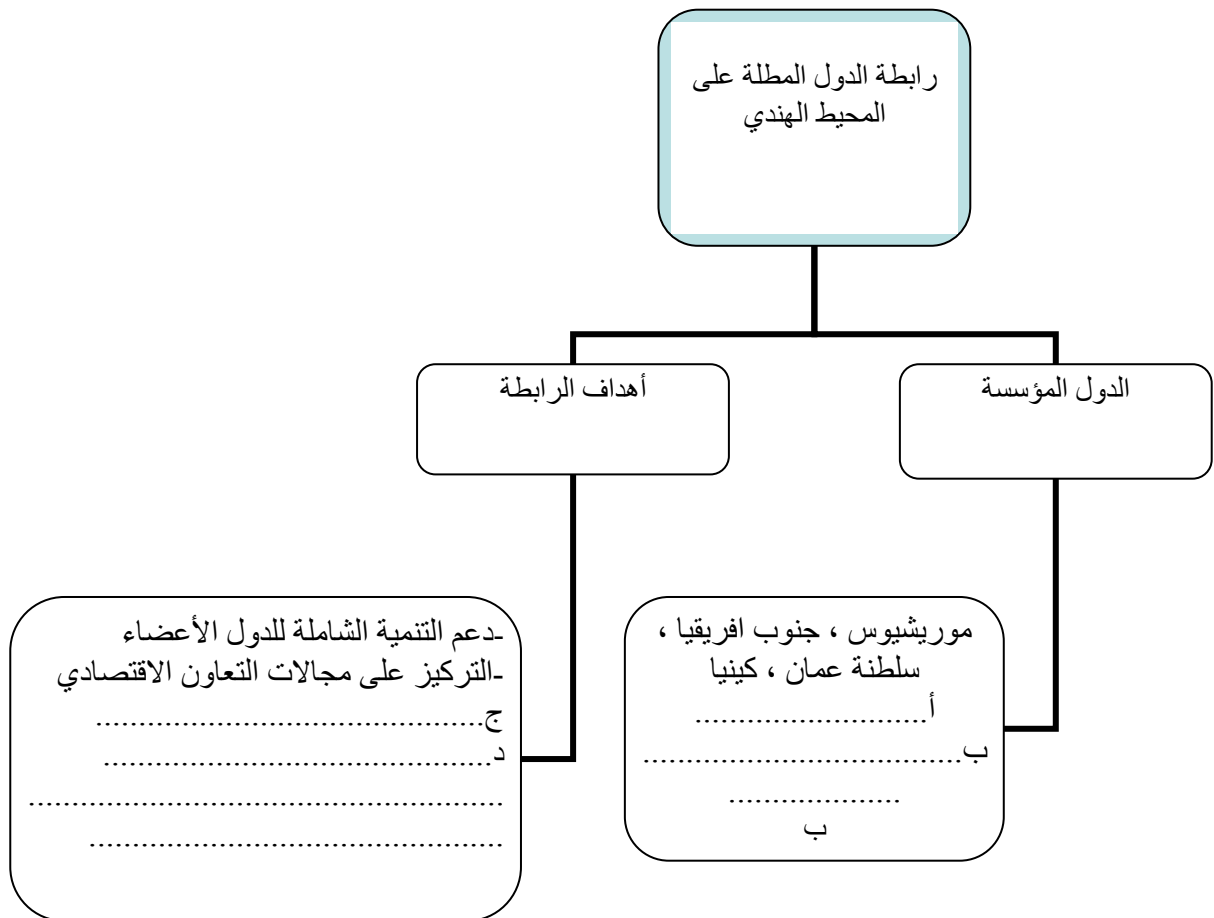
أ) الوثائق التي يشتمل عليها سجل الاحوال المدنية .

.....

ب) أبرز السلع العمانية التي حملتها السفن العمانية من عمان إلى شرقي افريقيا

.....

ثانياً: اكمل محتوى المخطط الآتي



تابع السؤال الرابع

ثالثاً- استعن بالخريطة التي أمامك ثم أجب عن الاسئلة التي تليها:



١) ما الدولة المشار إليها بالرمز (أ) والتي تمثل نمودجا للدول التي تتميز بانخفاض معدلات المواليد وانخفاض معدلات الوفيات .....

٢) الرمز الذي يشير الى إحدى الدول الآسيوية التي تشهد ارتفاعاً في أمد الحياة وتعاني من النمو السكاني البطيء هو .....

٣) ارتفاع أمد الحياة في الدولة المشار إليها بالرمز [ج] خلال الأربعين سنة الماضية. اذكر الأسباب.

٤) يعد النمو السكاني في العالم من أبرز التحديات السكانية بالنسبة للدول النامية. فسر

انتهت الأسئلة







نموذج إجابة "

امتحان نهاية الفصل الدراسي الأول للصف التاسع

للعام الدراسي ٢٠١٥ / ٢٠١٦ م

الدور الأول

المادة: الدراسات الاجتماعية

إجابة السؤال الأول			
المفردة	البديل الصحيح	الدرجة	الصفحة
١	د الاجتماعي	٢	٢١
٢	ج ٣٠ - ٣٤	٢	٢٤
٣	ج التعداد السكاني	٢	١١
٤	د سعيد بن سلطان	٢	٤٧
٥	د الجنوبي	٢	٥٢
٦	ب ١٨٩١م	٢	٦٣
٧	ج المؤتمر الاسلامي	٢	٧٥
٨	د الاعلام	٢	٨٣
المجموع		١٦ درجة	

إجابة السؤال الثاني

الصفحة	الدرجة	الإجابة الصحيحة	المفردة	الجزئية
٩١	١	تشكيل مجلس أعمال عماني أمريكي تمهدا لعقد اتفاقية التجارة الحرة بين السلطنة و الولايات المتحدة الامريكى .	أ-	أولا
٤٤	١	اختص كل والى بقيادة الجيش في ولايته والإشراف على الحاميات و الحصون فيها .	ب-	
٤١ - ٤٠	١ لكل مفردة نصف درجة [	- الموقع الجغرافي لعمان - دور عمان العريق في الملاحة البحرية - حركة الرياح الموسمية التي تهب على منطقة المحيط الهندي (يكفى باثنين)	أ-	ثانيا
+ ٣٠	نصف درجة	معدل الوفيات	ب-	
النشرة	درجة	١٠٠٠		
التوجيهية	نصف درجة	معدل المواليد		
ص ١٩	درجة	$100 \times \frac{28.9}{1000} = 2.89\%$		
١٦	١	نسبة النوع = $\frac{\text{عدد الذكور}}{\text{عدد الإناث}} \times 100$	أ-	ثالثا
١٦	١	في دولة الإمارات : اختلاف نوعية المهاجرين إليها ف الغالبية تكون من الذكور . جمهورية العراق: تعمل الحروب على زيادة الوفيات لدى الذكور ، وأيضا اختلاف نوعية المهاجرين منها فالغالبية من الذكور .	ب-	

٣٢	١	وذلك بسبب عدة عوامل منها: المناخ، وأشكال الطقس، والموقع الجغرافي، والعوامل البشرية. (يكتفى بذكر عاملين لكل منهما نصف درجة " )	ج
٨ درجات			المجموع

إجابة السؤال الثالث				
الدرجة	الدرجة	الإجابة الصحيحة	المفردة	الجزئية
٥٠	درجتان	تسمى الجزيرة الخضراء، أرضها خصبة جدا وتشتهر بزراعة القنفل والنارجيل.	بمبا	اولا
٤٤	(لكل نصف	المدينة التي قصدتها السفينة سلطانة في رحلتها عبر المحيط الأطلسي سنة ١٨٤٠م.	نيويورك	
٥١	مفردة درجة)	كان يستورد منها القنفل إلى زنجبار قبل أن يقرر السيد سعيد بن سلطان زراعته في زنجبار.	موريشيوس	
٤٥		توفي بالقرب منها السيد سعيد بن سلطان على ظهر سفينه فكتوريا.	سيسيل	
٢٠	١	السكان النشيطون اقتصاديا	أ-	ثانيا
٨٤	١	منظمة العمل الدولية	ب-	
٨٥	١	صندوق الأمم المتحدة الدولي لرعاية الطفولة (اليونيسيف)	أ-	ثالثا
٨٥	١	١٩٨٩	ب	
٨٥	١	نعم	ج	
٨٥	١	لأن من بنود اتفاقية حقوق الطفل: " لا يجوز استخدام الأطفال كأيدي عاملة رخيصة أو جنود " .		
٨ درجات			المجموع	

إجابة السؤال الرابع :				
الصفحة	الدرجة	الإجابة الصحيحة	المفردة	الجزئية
١٣	١	شهادة الميلاد وشهادة الوفاة و وثيقة الزواج و وثيقة الطلاق ( يكتفى باثنتين )	أ-	أولاً
٥٤	١	التمور، الفواكه، الحنطة والشعير والأرز، والزعفران واللبان والرياحين والورد المجفف والليمون.	ب-	
٧٩	٢ كل نصف درجة	<p>رابطة الدول المطلة على المحيط الهندي</p> <p>أهداف الرابطة</p> <p>الدول المؤسسة</p> <p>موريشيوس ، جنوب افريقيا سلطنة عمان ، كينيا ، سنغافورة و استراليا ..</p> <p>١- دعم التنمية الشاملة للدول الأعضاء. ٢- التركيز على مجالات التعاون الاقتصادي.....</p> <p>٣- تشجيع التفاعل الوثيق للتجارة و الصناعية ٤- تقوية أواصر التعاون والحوار بين الأعضاء في المحافل الدولية بخصوص القضايا الاقتصادية العالمية . ٥- دعم التعاون في مجال تنمية الموارد البشرية (يكتفى بذكر اثنتين)</p>		ثانياً
٢٥	نصف درجة		١-الصين	ثالثاً

٢٦	نصف درجة	٢- اليابان الرمز (ب)		
٢١		٣- توفر الرعاية الصحية ، مكافحة الأوبئة والأمراض، وجود الوعي الصحي بين الناس ) يكتفى بذكر اثنتين)		
٢٧	درجة (لكل نصف درجة	٤- لتكاثر عدد سكانها بمعدل كبير يزيد على معدل التنمية الاقتصادية بها ، وعلى امكانيات توفير الغذاء لسكانها في ظل الظروف الراهنة .		
	١			
	٨		المجموع	

أنتهى نموذج الإجابة