

سلطنة عمان

وزارة التربية والتعليم

الهيئة العامة للتعليم والتقانة محافظة الأحواز

امتحان الصف السابع

للعام الدراسي ١٤٣٦/١٤٣٧ هـ - ٢٠١٥/٢٠١٦ م

الفصل الدراسي الأول - الدور الأول

عدد الصفحات : ٧ صفحات

* الإجابة في الورقة نفسها

المادة : الدراسات الاجتماعية

زمن الإجابة : ساعة ونصف


		اسم الطالب
الشعبة		المدرسة

(التوقيع بالاسم)		الدرجة بالحروف بالأحمر	الدرجة بالأرقام بالأحمر	السؤال
المصحح (بالأخضر)	المصحح (بالأحمر)			
				1
				2
				3
				4
				5
				6
	مراجعة الجمع والتشطيب (بالأزرق)	جمعه (بالأحمر)		المجموع الكلي

يعتمد ،،،

المعلم الأول

السؤال الأول: ضع دائرة حول رمز الإجابة الصحيحة من بين البدائل المعطاة.



١- ترجع المقابر الظاهرة في الصورة المقابلة إلى الألفية.

ب- الثانية

د- الرابعة

أ- الأولى

ج- الثالثة

٢- يعد المصدر الأول في دراسة السكان:

أ- التعداد السكاني ب- سجلات المواليد ج- سجلات الوفيات د- سجلات الهجرة


٣- أدى مزج معدن النحاس بالقصدير إلى إنتاج معدن أكثر صلابة هو.

أ- الحديد ب- البرونز ج- الفولاذ د- الألمونيوم


٤- شاهدت أحد اصدقائك يتعامل مع اثاث المدرسة بطريقة خاطئة فانك.

أ- توافقه ب- تسكت عنه ج- تساعد د- تتصحه


٥- الصورة التي تدل على مقومات الصحة:



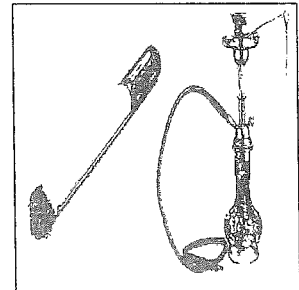
(ب)



(أ)



(د)




(ج)

تابع السؤال الأول:


٦- تم احتساب معدل المواليد في السلطنة عام ٢٠١٠ وكان الناتج يساوي ٢٠ نسمة / لكل.

أ- ١٠ ب- ١٠٠ ج- ١٠٠٠ د- ١٠٠٠٠٠

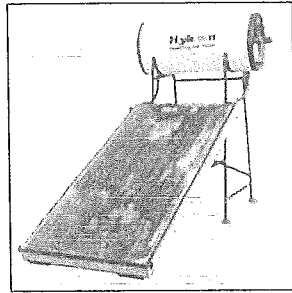
٧- الصورة التي تمثل أحد المصادر الطبيعية الغير متجددة.




(ب)



(أ)



(د)



(ج)

٨- يطلق على الاستفادة من المال الزائد عن الحاجة لإقامة مشاريع تزيد من الدخل بمفهوم.

أ- الادخار ب- الاستثمار ج- الترشيح د- الانفاق

السؤال الثاني: أجب عن الاسئلة التالية.

أولاً:

١. من خلال الآية القرآنية الآتية أكتب اسم الدولة التي كانت تحكمها المرأة.

(إِنِّي وَجَدْتُ امْرَأَةً تَمْلِكُهُمْ وَأُوتِيَتْ مِنْ كُلِّ شَيْءٍ وَلَهَا عَرْشٌ عَظِيمٌ).

تابع السؤال الثاني:

٢. قارن بين (مشكلة الجوع) و (سوء التغذية) من حيث التعريف:

مشكلة الجوع	سوء التغذية
.....
.....





٣. استنتج اثر قيام الحروب بين الدول على البنية النوعية للسكان.

ثانياً: اذكر سبباً واحداً لكل من:

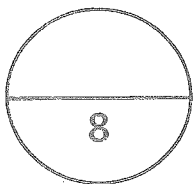
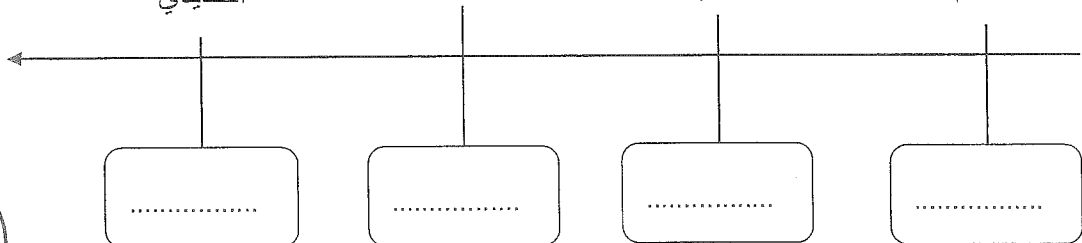
أ- اختلاف نسبة النوع من مجتمع إلى آخر.

ب- ارتفاع الهجرة الداخلية في محافظة مسقط.

ثالثاً: رتب الصور التي تمثل انجازات الانسان حسب العصر التي تنتمي إليه، وذلك بكتابة رمز الصورة في الخط الزمني.

العصر
الحديدي

العصر البرونزي

العصر الحجري
الحديثالعصر الحجري
القديم

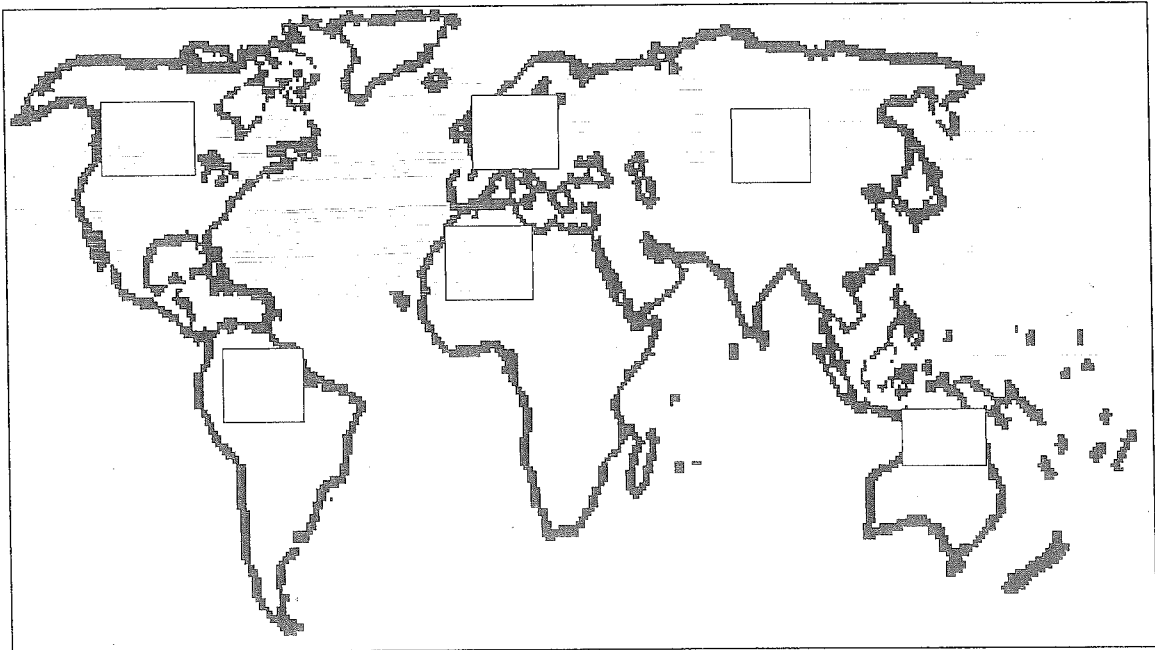
السؤال الثالث:

أولاً: أدرس الجدول الآتي ثم أجب عن الأسئلة التي تليه.

الرقم	القارة	إجمالي أعداد السكان	المساحة/كم ^٢	الكثافة
١	أفريقيا	٨٠١٤٣٦٢٤٩	٢٩٦٤٢٠٠٠	٢٧
٢	أمريكا الشمالية	٣١٨١٥٦٠٩٣	٢٤٢١٦٠٠٠	١٣
٣	أمريكا الجنوبية	٥٢٠٤١٦٣٠١	١٧٨٤٢٠٠٠	٢٩
٤	آسيا	٣٦٢٣٣٥٨٧٨٠	٤٤٠٢٦٠٠٠	٨٢
٥	أوروبا	٨٠٠٩١٥٢٥٠	١٠٣٩٧٠٠٠	٧٧
٦	أستراليا	٣١٣٠٧١١٥٩	٨٩٣٥٠٠٠	٣٥

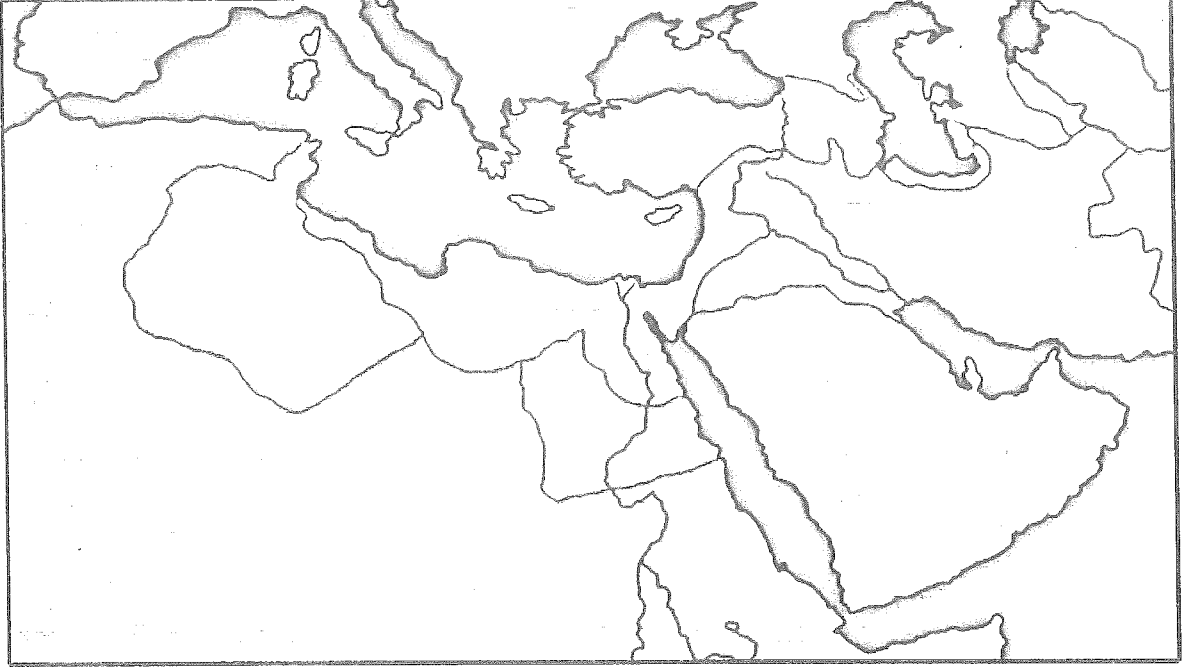
١- اكتب على الخريطة (رقم) القارة التي تأتي في المرتبة الأولى من حيث الكثافة السكانية.

٢- اكتب على الخريطة (رقم) القارة التي تأتي في المرتبة الثانية من حيث إجمالي عدد السكان.



يتبع ه ←

تابع السؤال الثالث: اكتب على الخريطة التالية مواقع الحضارات القديمة في أماكن ظهورها:
(مجان ، دلمون ، الرافدين ، الفراعنة)



ثانيا. اذكر دليلا واحدا على كل من:

أ- معرفة الانسان في عمان زراعة النخيل في العصر الحجري الحديث.

ب- خضوع مملكة دلمون لسيطرة حكام بلاد الرافدين.

ثالثا: كيف تتصرف في المواقف التالية.

أ- كنت أنت اخر من ينصرف من الفصل، وكانت أجهزة التكييف تعمل.

ب- رأيت ولي أمرك يربط حزام الأمان حين يقود السيارة.

السؤال الرابع: أجب عن الأسئلة التالية.

أولاً: احسب معدل الوفيات في دولة ما، حسب المعطيات الآتية:

• عدد السكان (٤٠٠٠٠٠٠) نسمة.

• عدد الوفيات (٤٠٠٠) نسمة.

• معدل الوفيات = $\frac{\text{عدد الوفيات خلال السنة}}{\text{إجمالي السكان في منتصف العام}} \times 10000$

معدل الوفيات = $\frac{\dots\dots\dots}{\dots\dots\dots} \times \dots\dots\dots$

معدل الوفيات = $\dots\dots\dots$

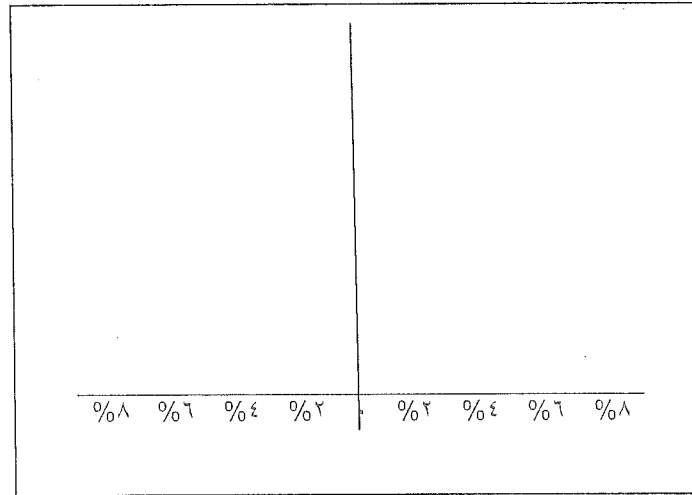
ثانياً:

أ- ارسم في المربع أدناه الهرم السكاني ذي القاعدة العريضة والجوانب المنحدرة الذي يمثل

المجتمع الفتى حيث تزيد فيه نسبة صغار السن، موضحاً فيه الآتي:

١- النوع

٢- الفئات العمرية



يتبع ٧ ←

تابع السؤال الرابع :

ب- أمامك جدول يوضح إحصائية الحوادث المرورية لعام ٢٠١٠،

السبب	عدد الحوادث	النسبة
الإهمال	٦١٥	٨
السرعة	٣٧٤٤	٥٢
التجاوز	٣٧٤	٥
سوء التصرف	١٦٣٩	٢٣

قم بترتيب أسباب الحوادث تنازليا حسب السبب.

١-

٢-

٣-

٤-

ثالثا: اقرأ النص ثم أجب عن الأسئلة التي تليه

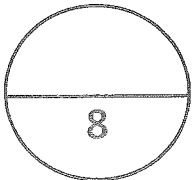
(يجب أن نعلم الأجيال معنى الادخار ومعنى أن ننفق وفق حاجتنا، فالإنسان الذي يكسب ريالين على سبيل المثال لو ادخر منه مئة بيسة، فإن مئة فوق مئة تصبح ريالا والريال يتحول إلى ريالين، وهكذا) صاحب الجلالة السلطان قابوس بن سعيد المعظم.

أ- ما الفكرة التي شجع صاحب الجلالة العمانيين على تطبيقها.

.....

ب- إذا كان مصروفك اليومي ٥٠٠ بيسة، وتوفر منه ٢٠٠ بيسة، فكم مجموع ما توفره خلال ٣٠ يوما.

.....



انتهت الأسئلة مع التمنيات للجميع بالتوفيق و النجاح

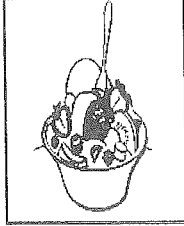

نموذج إجابية

سلطنة عمان
وزارة التربية والتعليم
المديرية العامة للتربية والتعليم لمحافظة الداخلية

نموذج إجابة امتحان الصف السابع (الفصل الدراسي الأول ٢٠١٥/٢٠١٦م) الدور الأول
لمادة الدراسات الاجتماعية

١٦ درجة لكل مفردة درجتان

السؤال الأول

الجزئية	١	٢	٣	٤	٥	٦	٧	٨
الرمز	ج	أ	ب	د	د	ج	ب	أ
الإجابة	الثالثة	التعداد السكاني	البرونز	تنصحه		١٠٠٠		الاستثمار
الصفحة	٢٣	٤٠	١٥	٨٦-٨٥	٧٧	٥٠	٦٦	٧٣

نموذج إجابات

سلطنة عمان
وزارة التربية والتعليم
المديرية العامة للتربية والتعليم لمحافظة الداخلية

نموذج إجابة امتحان الصف السابع (الفصل الدراسي الأول ٢٠١٥/٢٠١٦م) الدور الأول
لمادة الدراسات الاجتماعية

(٨ درجات)

السؤال الثاني

الملاحظات	الدرجة	الصفحة	الإجابة	المفردة	الجزئية				
	١	٣٧	دولة سبأ - مملكة سبأ - اليمن	١	أولا				
	١	٦٧	مشكلة الجوع: نقص كمية الغذاء عن الحد الأدنى المقبول.	٢					
	١	٦٧	سوء التغذية: افتقار الغذاء للعناصر الغذائية المطلوبة للجسم.						
يكتفى بإجابة واحدة	١	٤٦	زيادة وفيات الذكور / زيادة أعداد الإناث / قلة أعداد الذكور	٣					
سبب واحد فقط	١	٤٦	الهجرة ، تباين معدل الوفيات بين الذكور والإناث، الأخطاء في البيانات، الحروب	أ	ثانيا				
سبب واحد فقط	١	٥٥	توفر فرص العمل بأجور مرتفعة، توفر الخدمات التعليمية والاجتماعية والصحية، المستوى المعيشي	ب					
نصف درجة لكل اجابة صحيحة	٢	١٦-١٤	<table border="1" style="width: 100%; text-align: center;"> <tr> <td>د</td> <td>أ</td> <td>ب</td> <td>ج</td> </tr> </table>	د	أ	ب	ج		ثالثا
د	أ	ب	ج						



سلطنة عمان
وزارة التربية والتعليم
المديرية العامة للتربية والتعليم لمحافظة الداخلية

نموذج اجابة امتحان الصف السابع (الفصل الدراسي الأول ٢٠١٥/٢٠١٦م) الدور الأول
لمادة الدراسات الاجتماعية

السؤال الثالث

الجزئية	المفردة	الاجابة	الصفحة	الدرجة	الملاحظات
أولا	١	يكتب الرقم (٤) على قارة اسيا	٥٨	١	
	٢	يكتب الرقم (١) على قارة افريقيا	٥٨	١	
	٣	على الخريطة	٢٩	٢	لكل اجابة صحيحة نصف درجة
ثانيا	أ	وجود بعض ثمار النخيل المتحجرة في مواقع الحفر	٢١	١	
	ب	من خلال النصوص تشير الى دفع مملكة دلمون الجزية لحكام بلاد الرافدين	٣٢	١	
ثالثا	أ	اغلق اجهزة التكييف	٨٦-٨٥	١	حسب اجابة الطالب
	ب	اقوم بربط حزام الامان	٨٩	١	حسب اجابة الطالب

سلطنة عمان
وزارة التربية والتعليم
المديرية العامة للتربية والتعليم لمحافظة الداخلية

نموذج اجابة امتحان الصف السابع (الفصل الدراسي الأول ٢٠١٥/٢٠١٦م) الدور الأول
لمادة الدراسات الاجتماعية

(٨ درجات)

السؤال الرابع

الملاحظات	الدرجة	الصفحة	الاجابة	المفردة	الجزئية
لكل اجابة صحيحة نصف درجة	٢	٥١	$\frac{4000}{400000} \times 10000 =$	أ	اولا
رسم الهرم درجة توضيح البنية النوعية والفئة العمرية درجة	٢	٤٧-٤٦		أ	ثانيا
لكل اجابة صحيحة نصف درجة	٢	٩١	١- السرعة ٢- سوء التصرف ٣- الإهمال ٤- التجاوز	ب	
حسب اجابة الطالب	١	٧٥		الادخار	أ
	١	٧٥		٦ ريال	ب

انتهى نموذج الاجابة