



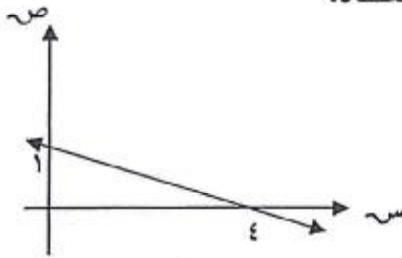
سلطنة عمان
وزارة التربية والتعليم

امتحان نهاية الفصل الدراسي الأول - للعام الدراسي ١٤٢٩/١٤٣٠ هـ - ٢٠٠٨/٢٠٠٩ م

الصف : العاشر	المادة الرياضيات	الزمن : ساعتان ونصف	الدرجة : ٦٠ درجة
تنبيهات:			
= الأسئلة في (٣) صفحات			
= على الطالب توضيح خطوات الحل عند الإجابة عن الأسئلة المقالية.			

السؤال الأول: أنقل أرقام المفردات الآتية (١-١٢) في ورقة إجابتك و أمام رقم كل مفردة اكتب الحرف الدال على الإجابة الصحيحة من بين البدائل المعطاة:

(١) ما ميل المستقيم الموضح بالرسم؟



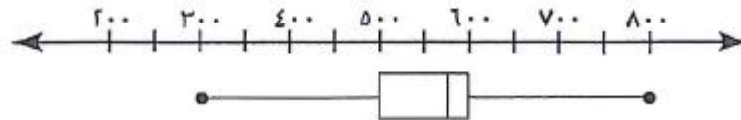
- (أ) -٤
(ب) $-\frac{1}{4}$
(ج) $\frac{1}{4}$
(د) ٤

(٢) إذا كانت $P(٣, ٢)$ ، $B(٧, ٣)$ ، $C(٤, ٤)$ ، ثلاث نقاط على استقامة واحدة . فما قيمة n ؟

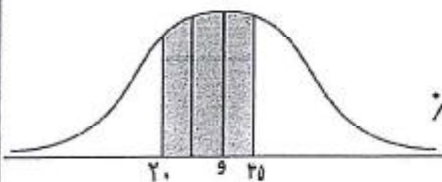
- (أ) ٤
(ب) ٧
(ج) ٩
(د) ١١
- (٣) ما نسبة حجم الاسطوانة إلى حجم المخروط عندما يشتركان بنفس القاعدة ؟

(٤) إذا كان المتوسط الحسابي لمجموعة من القيم يساوي ٢٠ ، والانحراف المعياري يساوي ٥ ، فما الدرجة المعيارية للمتوسط الحسابي؟

(٥) يمثل الشكل الآتي الصندوق والمؤشر لرواتب ٢٠ موظفا في إحدى المؤسسات . ما عدد الموظفين الذين نقل رواتبهم عن ٦٠٠ ريال ؟



(٦) إذا علمت إن الشكل المقابل يمثل منحى لتوزيع طبيعي . فما نسبة الجزء المظلل في الشكل المقابل إذا كان الانحراف المعياري يساوي ٥ ؟



- (أ) ٩٥%
(ب) ٨١,٥%
(ج) ٦٨%
(د) ٦١,٥%

٧) ما قيمة المقدار $\frac{\sqrt[3]{128}}{\sqrt[3]{16}}$ في أبسط صورة؟

- (أ) $\sqrt[3]{16}$ (ب) $\sqrt[3]{8}$ (ج) $\sqrt[3]{4}$ (د) $\sqrt[3]{2}$

٨) إذا كان $\sqrt[6]{ص} = \sqrt[3]{ص}$ ، فما قيمة ص؟

- (أ) ٢ (ب) ٤ (ج) ٨ (د) ١٦

٩) إذا كانت $\underline{أ} = \begin{bmatrix} ٧ & ١ \\ ٤ & ٣ \end{bmatrix}$ ، $\underline{ب} = \begin{bmatrix} ٥ & ٢ \\ ١ & ١٢ \end{bmatrix}$ ، $\underline{أ} + \underline{ب} = \begin{bmatrix} \blacksquare & \blacksquare \\ \blacksquare & \blacksquare \end{bmatrix}$ س

فما قيمة س؟

- (أ) ١٢^- (ب) ٢^- (ج) ٢ (د) ١٢

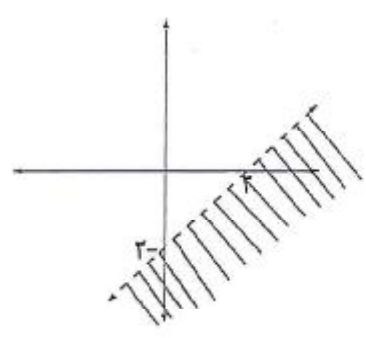
١٠) إذا كانت المصفوفة $\underline{أ}$ من الرتبة ٣×١ ، والمصفوفة $\underline{ب}$ من الرتبة ١×٣ ، فما رتبة المصفوفة $\underline{أ} \times \underline{ب}$ ؟

- (أ) ٣×٣ (ب) ١×١ (ج) ٣×١ (د) ١×٣

١١) إذا علمت أنه لا يوجد نظير ضرب للمصفوفة $\begin{bmatrix} ٦ & س \\ ٤ & ٣ \end{bmatrix}$ ، فما العبارة الصحيحة فيما يلي؟

- (أ) $س = ٤ = ١٨$ (ب) $س = ٤ = ٩$ (ج) $س = ٤ = ١٨^-$ (د) $س = ٤ = ٩^-$

١٢) المنطقة المظللة في الشكل المقابل تمثل:



- (أ) $ص > س - ٣$ (ب) $ص < س - ٣$
 (ج) $ص \leq س - ٣$ (د) $ص \geq س - ٣$

السؤال الثاني: أجب عن ما يأتي موضحا خطوات الحل :

(١) إذا كانت معادلة المستقيم ل هي $ص - س + ٢ = ٠$ ، اكتب معادلة المستقيم العمودي عليه علما علما بأن المستقيمين يتقاطعان في النقطة (٣ ، ٥).

(٢) إذا كانت $س = \begin{bmatrix} ٦ & ٢ \\ ١٢ & ٤ \end{bmatrix}$ ، $ص = \begin{bmatrix} ٢ & ٥ \\ ٣ & ١ \end{bmatrix}$ ، أوجد كلا مما يأتي:

(أ) النظير الضربي ل $ص$ (ب) $س \times ص$

(٣) تم رصد درجات الحرارة لخمس مدن وكانت كالاتي: ١١ ، ١٢ ، ٢٥ ، ٤٠ ، ٤٢ احسب كلا من:

(أ) المدى (ب) الانحراف المعياري لدرجات الحرارة

السؤال الثالث: أجب عن ما يأتي موضحا خطوات الحل:

(١) إذا كان خط سير محمد إلى المدرسة يمثله المستقيم: $ص = ٢س + ١$ ، وكان خط سير علي إلى السوق يمثله المنحنى: $ص = س^٢ - ٣س + ٧$ ، فإذا التقى محمد وعلي في نقطتين مختلفتين فأوجد إحداثي النقطتين اللتان تمثلان نقاط التقاءهما.

(٢) خزان على شكل اسطوانة نصف قطرها ٢ م ، وارتفاعها ٦ م ، الجزء العلوي للخزان على شكل نصف كرة. احسب مساحة السطح الخارجي للخزان.

(٣) حل المعادلتين الآتيتين باستخدام الصف البسيط :

$$س + ص = ٣$$

$$٢س + ص = ٥$$

السؤال الرابع: أجب عن ما يأتي:

(١) الجدول الآتي يوضح درجات ٤٠ طالبا في امتحان مادة العلوم :

فئات الدرجات	- ٢٠	- ٣٠	- ٤٠	- ٥٠	- ٦٠	- ٧٠	- ٨٠
التكرار	٥	٦	٩	٧	٦	٤	٣

أوجد:

(أ) الوسيط

(ب) المئيني ٧٥

(٢) حل المعادلة الجذرية: $\sqrt[٦]{٣س} = ٣$

(٣) رتب الجذور التالية تصاعديا $\sqrt[٥]{٥}$ ، $\sqrt[٦]{٦٤}$ ، $\sqrt[٥]{٢٤٣}$ ، $\sqrt[٣]{١٢}$ ، $\sqrt[٤]{٤٠}$ ، $\sqrt[٣]{٨١}$

،،، انتهت الأسئلة مع تمنياتنا لكم بالتوفيق والنجاح ،،،

سلطنة عمان
وزارة التربية والتعليم

نموذج إجابة امتحان الصف العاشر - الفصل الدراسي الأول

للعام الدراسي ١٤٢٩ / ١٤٣٠ هـ - ٢٠٠٨ / ٢٠٠٩ م

إجابة السؤال الأول:

(٢٤ درجة لكل مفردة درجتان لا تجزأ)

رقم المفردة	رمز الإجابة
١	ب
٢	د
٣	أ
٤	د
٥	ج
٦	ب
٧	د
٨	ج
٩	ب
١٠	ب
١١	أ
١٢	أ

إجابة السؤال الثاني: (١٢ درجة: ١) ٣ درجات ، (٢) ٥ درجات ، (٣) ٤ درجات)

الدرجة	الإجابة	المفردة	الجزئية
$\frac{1}{4}$ $\frac{1}{4}$ ١ $\frac{1}{4}$ $\frac{1}{4}$	<p>نفرض أن المستقيم العمودي على l هو m</p> <p>∴ ميل المستقيم $l = 1$ ∴ ميل العمودي عليه $(m) = -1$</p> <p>∴ النقطة $(3, 5)$ نقطة تقاطع المستقيمين ∴ تحقق معادلة المستقيم m</p> <p>∴ معادلة المستقيم m هي $(ص - ٣) = (س - ٥) (-١)$</p> $ص - ٣ = -س + ٥$ $ص + س = ٨$		١
١ $\frac{1}{4} + \frac{1}{4}$	$\Delta \text{ ص} = (٢ -) - ١٥ = ١٧$ <p>∴ النظير الضربي لـ $ص = \frac{1}{17}$</p> $\begin{bmatrix} \frac{2}{17} & \frac{3}{17} \\ \frac{5}{17} & \frac{1}{17} \end{bmatrix} = \begin{bmatrix} 2 & 3 \\ 5 & 1 \end{bmatrix} \frac{1}{17}$	أ	
$\frac{1}{4}$ لكتابة عملية الضرب درجتان لكل عنصر نصف درجة في المصفوفة الثالثة $\frac{1}{4}$	$\begin{bmatrix} 18+4 & 6+10 \\ 36-8 & 12-20 \end{bmatrix} = \begin{bmatrix} 22 & 16 \\ 28 & -8 \end{bmatrix} = \begin{bmatrix} 22 & 16 \\ 28 & -8 \end{bmatrix} \times \begin{bmatrix} 6 & 2 \\ 12 & 4 \end{bmatrix}$	ب	٢

تابع : إجابة السؤال الثاني:

الدرجة	الإجابة	المفردة	الوزنية
١	المدى = $42 - 11 + 1 = 32$	أ	٣
١	المتوسط = $\frac{42 + 40 + 20 + 12 + 11}{5} = \frac{130}{5} = 26$	ب	
$\frac{1}{4}$	نجد انحرافات القيم عن المتوسط : ١٥ - ، ١٤ - ، ١ - ، ١٤ ، ١٦		
$\frac{1}{4}$	نربع الانحرافات : ٢٢٥ ، ١٩٦ ، ١ ، ١٩٦ ، ٢٥٦		
١	الانحراف المعياري = $\sqrt{\frac{\sum (x_i - \bar{x})^2}{n}} = \sqrt{\frac{874}{4}} \approx 29,6$		

إجابة السؤال الثالث : (١٢ درجة : ١) ٤ درجات ، ٢) ٤ درجات ، ٣) ٤ درجات)

الدرجة	الإجابة	المفردة	الجزئية
١	$س^٢ - ٣س + ٧ = ٧ + س٣ - ٢س + ١$ $س^٢ - ٥س + ٦ = ٠$ $\begin{cases} ٠ = (٣ - س)(٢ - س) \\ س = ٣ \text{ أو } س = ٢ \end{cases}$ <p>عندما $س = ٣ \iff ص = ٧$: \therefore النقطة الاولى (٣ ، ٧)</p> <p>عندما $س = ٢ \iff ص = ٥$: \therefore النقطة الثانية (٢ ، ٥)</p>		١
١	<p>مساحة السطح الخارجي للخزان = $\frac{١}{٤} (\pi \cdot ٤ \text{ نوع}^٢ + \pi \cdot ٢ \text{ نوع} + \pi \cdot ٤ \text{ نوع}^٢)$</p> $\pi = (\pi \cdot ٢ \text{ نوع}^٢ + \pi \cdot ٢ \text{ نوع} + \pi \cdot ٤ \text{ نوع}^٢)$ $\pi = (\pi \cdot ٤ + \pi \cdot ٦ + \pi \cdot ٤)$ $٣٦ \pi = \pi$ <p>ملاحظة (إذا عوض الطالب عن $\pi = ٣,١٤$ تحسب له الإجابة صحيحة)</p>		٢
١	$\begin{bmatrix} ٣ & ١ & ١ \\ ٥ & ١ & ٢ \end{bmatrix}$ <p>ص ٢ \leftarrow ص ٢ - ١ ص - ٢ ص</p>		٣
١	$\begin{bmatrix} ٣ & ١ & ١ \\ ١ & ١ & ٠ \end{bmatrix}$ <p>ص ١ \leftarrow ص ١ - ١ ص - ٢ ص</p>		
١	$\begin{bmatrix} ٢ & ٠ & ١ \\ ١ & ١ & ٠ \end{bmatrix}$		
١	<p>$\therefore (س ، ص) = (١ ، ٢)$</p>		

اجابة السؤال الرابع : (١٢ درجة : ١) ٦ درجات (٢ ، ٣ درجات ، ٣) ٣ درجات (

الدرجة	الإجابة	المفردة	الجزئية																		
الجدول درجة ١ ١ ١ ١ الرسم درجة	<p>(١) نحول الجدول إلى المتجمع الصاعد ثم نمثله بيانياً:</p> <table border="1"> <thead> <tr> <th>فئات الدرجات (أقل من)</th> <th>٢٠</th> <th>٣٠</th> <th>٤٠</th> <th>٥٠</th> <th>٦٠</th> <th>٧٠</th> <th>٨٠</th> <th>٩٠</th> </tr> </thead> <tbody> <tr> <td>التكرار</td> <td>٠</td> <td>٥</td> <td>١١</td> <td>٢٠</td> <td>٢٧</td> <td>٢٣</td> <td>٢٧</td> <td>٤٠</td> </tr> </tbody> </table> <p>ترتيب الوسيط = $\frac{٤٠}{٢} = ٢٠$ من الرسم: الوسيط = ٥٠ (ب) المئيني $٣٠ = ٤٠ \times \frac{٧٥}{١٠٠} = ٧٥$ ∴ المئيني ٧٥ من الرسم = ٦٦</p>	فئات الدرجات (أقل من)	٢٠	٣٠	٤٠	٥٠	٦٠	٧٠	٨٠	٩٠	التكرار	٠	٥	١١	٢٠	٢٧	٢٣	٢٧	٤٠		١
فئات الدرجات (أقل من)	٢٠	٣٠	٤٠	٥٠	٦٠	٧٠	٨٠	٩٠													
التكرار	٠	٥	١١	٢٠	٢٧	٢٣	٢٧	٤٠													
١ ١ ١ ١	$٢٣ = \sqrt[٦]{٣س}$ $١٢٣ = ٣س$ $٣(٤٣) = ٣س$ $٤٣ = ٣س$ $٨١ = ٣س$		٢																		
ثلاث درجات لكل مفردة نصف درجة	$\sqrt[٣]{٨١}, \sqrt[٥]{٢٤٣}, \sqrt[٤]{٤٠}, \sqrt[٣]{١٢}, \sqrt[٥]{٥}, \sqrt[٦]{٦٤}$		٣																		

تراعى الحلول الأخرى الصحيحة في جميع الأسئلة المقالية