

امتحان نهاية الفصل الدراسي الأول- الدور الأول- العام الدراسي (٢٠١٥/٢٠١٤)

المادة : الدراسات الاجتماعية

الدرجة الكلية : ٤٠ درجة

الزمن : ساعة ونصف

الصف : التاسع الأساسي

* الاختبار في خمس ورقات والإجابة في نفس الورقة

أجب عن جميع الأسئلة الآتية:

السؤال الأول: اختر الحرف الدال على الإجابة الصحيحة من بين البدائل المعطاة : [١٦ درجة]

١- جميع ما يلي من المصادر الرئيسية لدراسة الخصائص والتغيرات السكانية في أي مجتمع ما عدا:
أ-التعداد السكاني ب-التسجيل الحيوي ج- المسوحات بالعينة د- سجلات المدارس

٢- تقاس نسبة النوع من خلال المعادلة التالية:

عدد الإناث ١٠٠٠x عدد الذكور	عدد الذكور ١٠٠x عدد الإناث	عدد الإناث ١٠٠x عدد الذكور	عدد الذكور ١٠٠٠x عدد الإناث
-----------------------------------	----------------------------------	----------------------------------	-----------------------------------

٣- إذا افترضنا أن عدد المواليد في عام ٢٠٠٩م لدولة ما بلغ حوالي ٢٠,٠٠٠ مولداً وعدد الوفيات في نفس العام بلغ حوالي ٥٠٠٠ نسمة فإن الزيادة الطبيعية في تلك الدولة :

أ- ١٠٠٠٠ نسمة ب- ١٥٠٠٠ نسمة ج- ٢٠٠٠٠ نسمة د- ٢٥٠٠٠ نسمة

٤- العام الميلادي الذي تولى فيه الإمام أحمد بن سعيد الحكم في عُمان:

أ- ١٧٤٠م ب- ١٧٤١م ج- ١٧٤٣م د- ١٧٤٤م

٥- الصورة التي أمامك تمثل جائزة منحت لجلالة السلطان في عام ١٩٩٨م:-

أ- البيئة العالمية ب- اليونسكو

ج- نوبل د- السلام الدولية



د- العنبر

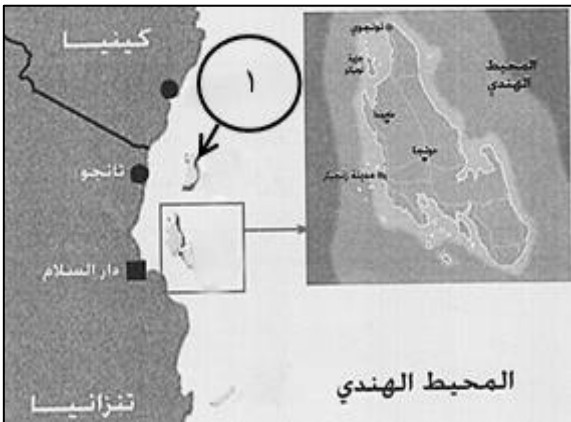
٦- ٦- تعتبر من البضائع التي حملتها المراكز العمانية من عمان إلى شرقي إفريقيا:

أ- الذهب ب- الزعفران ج- العاج

٧- بالاستعانة بالخريطة أمامك الجزيرة المشار إليها بالرقم (١) وتشتهر بزراعة القرنفل والনারجيل:

أ- مافيا ب- توهياتو

ج- ممباسة د- بمبا



٨- المدينة التي استضافت الاجتماع الوزاري لرابطة الدول المطلة على المحيط الهندي في ابريل عام ٢٠٠١م:

أ- دلهي ب- مسقط ج- كوالالمبور د- جاكارتا

١٦

[٨ درجات]

السؤال الثاني: أجب عن الأسئلة الآتية:

أولاً: اعط تعريفاً لكل مما يلي :

(أ) الكثافة السكانية :

(ب) العالم الإسلامي:

ثانياً: دال على ما يلي:

(أ) التواصل العماني المعاصر مع شرقي أفريقيا.

(ب) المساعدات الإنسانية لسلطنة عمان في فلسطين .

ثالثاً:

(أ) أكمل المخطط الآتي :

العوامل المؤثرة في الوجود العماني في شرقي أفريقيا

٣- حركة الرياح الموسمية

٢-

١-

(ب) علل ما يلي:

(١) تفوق زنجبار على غيرها من المراكز الأخرى مما جعل السيد سعيد يعجب بها كثيراً.

(٢) كان الطريق الشمالي لتجارة القوافل العربية في شرقي أفريقيا محفوفاً بالمخاطر.

[٨ درجات]

السؤال الثالث: أجب عن الأسئلة التالية:
أولاً : أنظر إلى الخريطة التي أمامك ثم أجب عن الأسئلة التي تليها:




١- ارسم الرمز الذي يشير إلى طرق التجارة البرية العمانية

٢- يشير الجزء المظلل في الخريطة إلى _____

٣- ضع دائرة حول إحدى مراكز إنتاج الأخشاب في شرقي أفريقيا.

٤- أرسم جزيرة مدغشقر في المربع التالي .



تابع السؤال الثالث:
ثانياً : أنظر إلى الخريطة التي أمامك ثم أجب عن الأسئلة التي تليها:



(١) استخراج من الخريطة اثنين من الدول المنتسبة إلى رابطة الدول المطلة على المحيط الهندي و _____
(٢) ما اسم الدولة المشار إليها بالرقم (١) _____

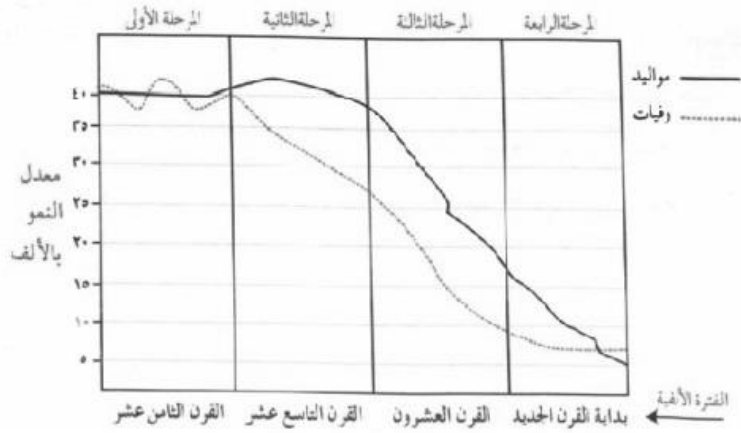
ثالثاً : في الجدول أدناه قم بكتابة اسم المنظمة الدولية أمام الاختصاص الذي يناسبها :

اختصاصها	اسم المنظمة المتخصصة
الاهتمام بمكافحة عمالة الأطفال	
نشر الثقافة العالمية	
نشر الوعي لحماية مياه الشرب من التلوث	
حفظ الأمن والسلام الدوليين	

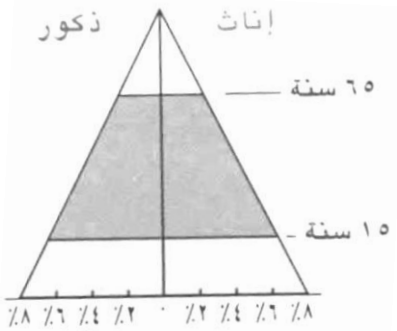
[٨ درجات] :

السؤال الرابع: أجب عن الأسئلة التالية

أولاً: ادرس الشكل الموجود أمامك والذي يمثل مراحل الانتقال السكاني ثم أجب عن الأسئلة التي تليه :-



- (١) يشير الخط المتصل (—) في الشكل السابق إلى _____
- (٢) المرحلة التي تميزت بارتفاع معدلات المواليد والوفيات هي _____
- (٣) ظلل المرحلة التي تميزت بانخفاض معدلات المواليد والوفيات بحيث تقترب من بعضها البعض.
- (٤) من أمثلة الدول التي تمثل المرحلة الثالثة _____



ثانياً: أنظر إلى الهرم السكاني الذي أمامك ثم أجب عن الأسئلة الآتية :

- (١) ما نوع الهرم الواضح أمامك ؟ _____
- (٢) ما الفئة العمرية التي تزيد نسبتها في هذا الهرم؟ _____

ثالثاً: " يعد النمو السكاني في العالم من أبرز الظواهر السكانية المميزة لهذا العصر حيث يمثل تحدياً مهماً للعالم .."
من خلال العبارة أجب على الأسئلة التالية:

- (١) عرف المقصود بالنمو السكاني.

- (٢) بم تفسر اختلاف معدلات المواليد بين الدول.

انتهت الأسئلة مع تمنياتنا لكم بالتوفيق والنجاح



المديرية العامة للتربية والتعليم لمحافظة البريمي
نموذج إجابة امتحان نهاية الفصل الدراسي الأول - الدور الأول
الصف التاسع
العام الدراسي (٢٠١٤/٢٠١٥م)

المادة: الدراسات الاجتماعية
الدرجة الكلية: (٤٠) درجة
تنبيه: نموذج الإجابة في (٤) صفحات

أولاً: إجابة السؤال الموضوعي:-

الدرجة الكلية: (١٦) درجة			إجابة السؤال الأول		
ملاحظات	الصفحة	الدرجة	الإجابة	البديل الصحيح	المفردة
	١١	٢	سجلات المدارس	د	١
	١٦	٢	ج- $\frac{\text{عدد الذكور}}{\text{عدد الإناث}} \times 100$	ج	٢
	٢٨	٢	15000 نسمة	ب	٣
	٤١	٢	١٧٤١م	د	٤
	٨٨	٢	جائزة السلام الدولية	د	٥
	٥٤	٢	الزعفران	ب	٦
	٤٩	٢	بمبا	د	٧
	٧٩	٢	مسقط	ب	٨
١٦ درجة			المجموع		

تابع نموذج إجابة امتحان نهاية الفصل الدراسي الأول – الدور الأول
الصف التاسع
العام الدراسي ٢٠١٤/٢٠١٥م

ثانياً: إجابة الأسئلة المقالية:-

الدرجة الكلية : (٨) درجات		إجابة السؤال الثاني			
ملاحظات	الصفحة	الدرجة	الإجابة الصحيحة	المفردة	الجزئية
	٣٢	١	العلاقة بين عدد السكان والمساحة الأرضية التي يعيشون عليها.	أ	أولاً
	٧٢	١	مجموعة الدول التي يشكل المسلمون فيها أكثر من ٥٠% من جملة عدد السكان.	ب	
	٦٤	١	- النشاط التجاري. - النقل الجوي (خمس رحلات اسبوعية) - الاستثمار	أ	ثانياً
	٧٦	٢	- إعادة بناء المنازل والعقارات المتضررة - تجهيز المستشفيات والمؤسسات العلاجية - تنمية المشروعات الصغيرة والصناعات المنزلية - إنشاء صوامع الغلال للمحافظات ضمن مشروع التنمية الزراعية المتكاملة . - تطوير المشاريع ذات العلاقة بقطاع التربية والتعليم . - إعادة تأهيل المرافق التعليمية والصحية والبنية التحتية . - تجهيز مؤسسات تأهيل ذوي الاحتياجات الخاصة . (يكتفى بذكر اثنين فقط)	ب	
	٤١-٤٠	١	العوامل المؤثرة في التواجد العماني في شرقي أفريقيا ١-الموقع الجغرافي ٢-دور عمان في الملاحة البحرية ٣-حركة الرياح الموسمية	أ	ثالثاً
	٤٢	١	١- بسبب موقعها المتوسط بين موانئ شرقي أفريقيا الإسلامية- كونها جزيرة فقد كانت أكثر أمناً – ذات طقس معتدل وأرضها خصبة – لها ميناء كبير صالح للملاحة- بها أعذب مياة شرقي أفريقيا (يكتفى بذكر سبب واحد) ٢- بسبب تعرض القوافل لهجمات قبائل الماساي.	ب	
٨ درجات		المجموع			

تابع نموذج إجابة امتحان نهاية الفصل الدراسي الأول – الدور الأول
الصف التاسع
العام الدراسي ٢٠١٤/٢٠١٥م

تابع ثانياً: إجابة الأسئلة المقالية:-

الدرجة الكلية : (٨) درجات			إجابة السؤال الثالث		
ملاحظات	الصفحة	الدرجة	الإجابة الصحيحة	المفردة	الجزئية
	٤٤	١	←→	١	أولاً
	٤٤	١	أراضي الدولة العمانية	٢	
	٥٤	١	مقديشو أو زنجبار	٣	
	٤٤	١	كما هي في الخريطة 	٤	
	٧٩	١	سلطنة عمان- مورشيوس- الهند- جنوب افريقيا- استراليا- سنغافورة- كينيا	١	ثانياً
	٨١	١	أستراليا	٢	
	٨٢-٨٤ - ٨٦	٢ (نصف درجة لكل منظمة)	- منظمة العمل الدولية - منظمة الأمم المتحدة للتربية والعلوم والثقافة أو (اليونسكو). - منظمة الصحة العالمية. - مجلس الأمن الدولي.	-	ثالثاً

تابع نموذج إجابة امتحان نهاية الفصل الدراسي الأول – الدور الأول

الصف التاسع

العام الدراسي ٢٠١٤/٢٠١٥م

تابع ثانياً: إجابة الأسئلة المقالية:-

الدرجة الكلية : (٨) درجات			إجابة السؤال الرابع		
ملاحظات	الصفحة	الدرجة	الإجابة الصحيحة	المفردة	الجزئية
	٢٥	١	المواليد	١	أولاً
	٢٥	١	المرحلة الأولى	٢	
	٢٦	١	تظليل المرحلة الرابعة	٣	
	٢٥	١	الصين- البرازيل- مصر – تونس (ذكر واحدة فقط)	٤	
	٢٣	١	الهرم ذو القاعدة العريضة	١	ثانياً
	٢٣	١	فئة صغار السن	٢	
	٢٧	١	زيادة أعداد السكان من سنة لأخرى نتيجة زيادة عدد المواليد وانخفاض عدد الوفيات والهجرة.	١	ثالثاً
	٢٨	١	وذلك حسب الظروف الاقتصادية والاجتماعية والثقافة السائدة بين المجتمعات.	٢	
٨ درجات			المجموع		

نهاية نموذج الإجابة