



حاضر

غائب

رقم الورقة

رقم المغلف

سُلْطَنَةُ عُومَانِ  
وَزَارَةُ التَّوْزِينِ وَالتَّجْلِيلِ

امتحان شهادة دبلوم التعليم العام  
للعام الدراسي ١٤٣٣/١٤٣٤ هـ - ٢٠١٢ / ٢٠١٣ م  
الدور الثاني - الفصل الدراسي الأول

- زمن الإجابة: ثلاث ساعات.
- الإجابة في الورقة نفسها.

- تنبيه: المادة: التاريخ (العالم من حولي).
- الأسئلة في ( ٩ ) صفحات.

تعليمات وضوابط التقدم للامتحان:

- الحضور إلى اللجنة قبل عشر دقائق من بدء الامتحان للأهمية.
  - إبراز البطاقة الشخصية لمراقب اللجنة.
  - يمنع كتابة رقم الجلوس أو الاسم أو أي بيانات أخرى تدل على شخصية الممتحن في دفتر الامتحان، وإلا ألغى امتحانه.
  - يحظر على الممتحنين أن يصطحبوا معهم بمركز الامتحان كتباً دراسية أو كراسات أو مذكرات أو هواتف محمولة أو أجهزة النداء الآلي أو أي شيء له علاقة بالامتحان كما لا يجوز إدخال آلات حادة أو أسلحة من أي نوع كانت أو حقائب يدوية أو آلات حاسبة ذات صفة تخزينية.
  - يجب أن يتقيد المتقدمون بالزي الرسمي (الدشداشة البيضاء والمصر أو الكمة للطلاب والدارسين والزي المدرسي للطالبات واللباس العماني للدارسات ) ويمنع النقاب داخل المركز ولجان الامتحان.
  - لا يسمح للمتقدم المتأخر عن موعد بداية الامتحان بالدخول إلا إذا كان التأخير بعذر قاهر يقبله رئيس المركز وفي حدود عشر دقائق فقط.
- يتم الالتزام بالإجراءات الواردة في دليل الطالب لأداء امتحان شهادة دبلوم التعليم العام.
- يقوم المتقدم بالإجابة عن أسئلة الامتحان المقالية بقلم الحبر (الأزرق أو الأسود).
- يقوم المتقدم بالإجابة عن أسئلة الاختيار من متعدد بتظليل الشكل (  ) وفق النموذج الآتي:
- س - عاصمة سلطنة عمان هي:
- القاهرة  الدوحة
- مسقط  أبوظبي
- ملاحظة: يتم تظليل الشكل (  ) باستخدام القلم الرصاص وعند الخطأ، امسح بعناية لإجراء التغيير.
- صحيح  غير صحيح
-

## أجب عن جميع الأسئلة الآتية

### السؤال الأول:

ظّل الشكل (○) المقترن بالإجابة الصحيحة لكل مفردة من المفردات (١-١٤) الآتية:

(١) أولى صور الطاقة التي عرفها الإنسان:

- |                                  |                                  |
|----------------------------------|----------------------------------|
| <input type="checkbox"/> الفحم.  | <input type="checkbox"/> النار.  |
| <input type="checkbox"/> الرياح. | <input type="checkbox"/> المياه. |

(٢) أبرز الجوانب تأثراً بظاهرة التحول الصناعي الجانب:

- |                                     |                                   |
|-------------------------------------|-----------------------------------|
| <input type="checkbox"/> الاجتماعي. | <input type="checkbox"/> التقني.  |
| <input type="checkbox"/> السياسي.   | <input type="checkbox"/> الثقافي. |

(٣) أول الشعوب التي حفرت بئراً للنفط في القرن الرابع الميلادي:

- |                                      |                                    |
|--------------------------------------|------------------------------------|
| <input type="checkbox"/> اليونانيين. | <input type="checkbox"/> الصينيين. |
| <input type="checkbox"/> الفراعنة.   | <input type="checkbox"/> الرومان.  |

(٤) تعاضم دور المؤسسات الثقافية في حصر التراث العالمي بفضل منظمة:

- |                                    |  |
|------------------------------------|--|
| <input type="checkbox"/> اليونسكو. | <input type="checkbox"/> الفياث.       |
| <input type="checkbox"/> الوايو.   | <input type="checkbox"/> الايكولوجيست. |

(٥) الطرق الآتية تستخدم في حقن أو تسخين المكمن في تقنية الاستخلاص المعزز للنفط عدا:

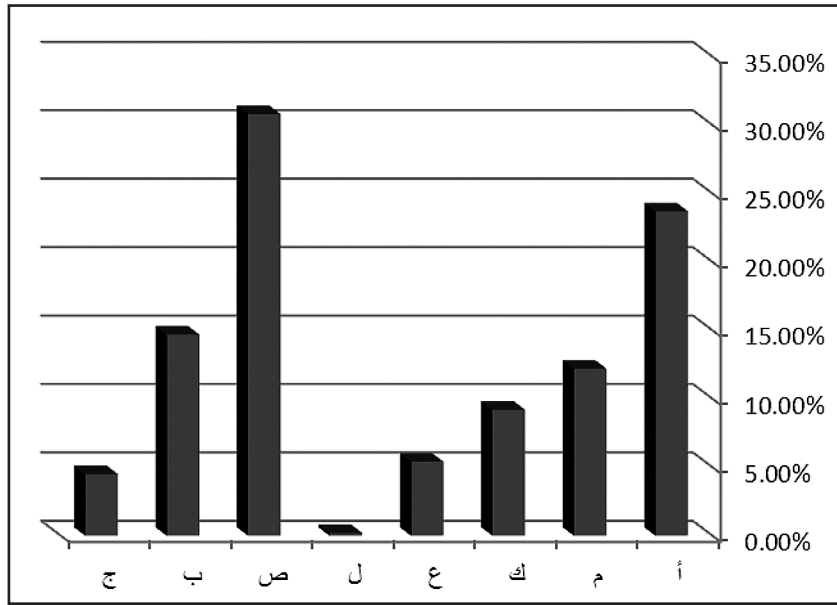
- |                                  |   |
|----------------------------------|---|
| <input type="checkbox"/> البخار. | <input type="checkbox"/> المواد العضوية.    |
| <input type="checkbox"/> الغاز.  | <input type="checkbox"/> المواد الكيميائية. |

(٦) تعتبر سجلاً متكاملًا لأسماء العرب:

- |  |   |
|--|---|
| <input type="checkbox"/> موسوعة السلطان قابوس. | <input type="checkbox"/> موسوعة أرض اللبان. |
| <input type="checkbox"/> الموسوعة العمانية.    | <input type="checkbox"/> موسوعة أرض عمان.   |

## تابع: السؤال الأول:

(٧) الشكل الآتي يمثل إنتاج النفط في العالم لعام ٢٠٠٥م، فإن الرمز (ص) يشير إلى:



- أفريقيا.  الشرق الاوسط.  
 آسيا.  الصين.

(٨) الدولة الأوروبية التي توجد فيها سلسلة المطاعم الصينية تحصل على الثوم الصيني المزروع بطريقه عضوية:

- ألمانيا.  الهند.  
 البيرو.  أسبانيا.

(٩) الوقود الذي اعتمدت عليه سلطنة عمان منذ عقد التسعينات من القرن العشرين لتوليد الكهرباء:

- الديزل.  البترول.  
 الغاز الطبيعي.  الفحم.

(١٠) حصلت فرقة صلالة الأهلية على المركز الأول عام ٢٠٠٣م في المهرجان المسرحي الخليجي:

- الثاني.  الرابع.  
 السادس.  الثامن.

## تابع: السؤال الأول:

(١١) يعزى الحضور القوي لبعض الثقافات داخل المجموعات أو الأقاليم الثقافية الأخرى إلى:

- العولمة والتطور التقني.  التنمية الثقافية.
- الاستقرار البشري.  التطور الصناعي.

(١٢) يعود تاريخ بناء أقدم المستوطنات في شبه الجزيرة العربية إلى ما قبل الميلاد في الألف:

- الرابعة.  السادسة.
- الثامنة.  العاشرة.

(١٣) الدولة التي تصدرت دول العالم في إنتاج وقود الإيثانول عام ٢٠٠٥م، تمثل على الخريطة الرمز:



- أ  ب
- ج  د

(١٤) المخطط السهمي الذي يمثل أسلوب المقايضة هو:

- 
-

السؤال الثاني:

لا تكتب في هذا الجزء

١٥) أمامك جدول يوضح عدداً من الشخصيات إبان الثورة الصناعية، أكتب في الجدول أدناه أهم اختراع لكل شخصية:

| مورس | جون كاي | توماس نيوكمن | غراهام بل |
|------|---------|--------------|-----------|
|      |         |              |           |

١٦) فسّر العبارات الآتية:

أ. من نتائج ثورة تكنولوجيا المعلومات "العمل في أي وقت وأي مكان".

---



---



---

ب. صعوبة استخدام سلطنة عمان طاقة الرياح كطاقة بديلة.

---



---



---

ج. تلعب الثقافة دوراً مهماً في تطوير الوعي الإنساني.

---



---



---



---

لا تكتب في هذا الجزء

تابع: السؤال الثاني:

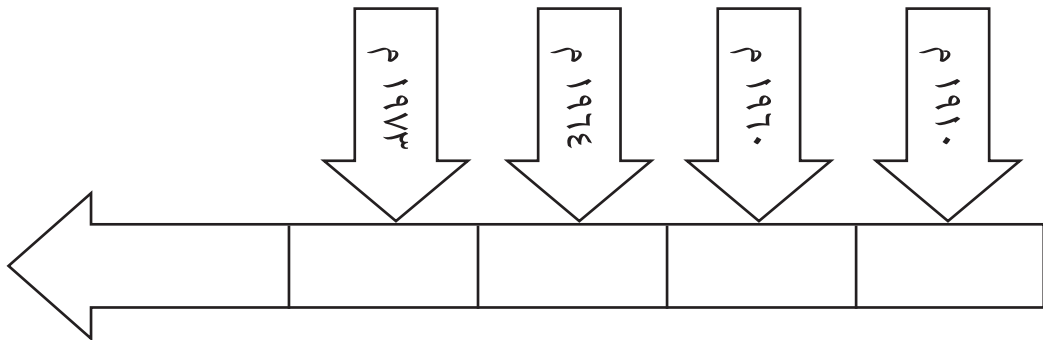
١٧) اكتب على الخط الزمني أدناه رمز الأحداث التاريخية الآتية:

أ. أول دولة عربية تنتج النفط.

ب. توقف الدول العربية تصدير النفط إلى أوروبا مؤقتاً.

ج. اكتشاف البترول في سلطنة عمان.

د. قيام منظمة الدول المصدرة للبترول.

السؤال الثالث:

١٨) اذكر اثنين من:

أ. الشروط الواجب توافرها في كل من يشغل كرسي الأستاذية.

---



---



---

ب. نتائج الثورة الصناعية.

---



---



---

لا تكتب في هذا الجزء

تابع: السؤال الثالث:

(١٩) أمامك مجموعة من العبارات، أعد تصنيفها طبقاً للجدول الآتي:  
(الزمن - الانتماء إلى الذات - البيئة)

| مقومات الحضارة البشرية | الأسس التي تبنى عليها الأقاليم الثقافية |
|------------------------|---|
|                        |   |

(٢٠) ” يعمل أصحاب الشركات العالمية على إقامة مشاريع كبرى للطاقة المتجددة القائمة على تكنولوجيا معروفة مثل طاقة الرياح ” في ضوء العبارة السابقة:

أ. ماذا يطلق على أصحاب هذه الشركات؟

---



---



---



---



---

ب. اقترح حلولاً لتطوير مستقبل الطاقة المتجددة.

---



---



---



---

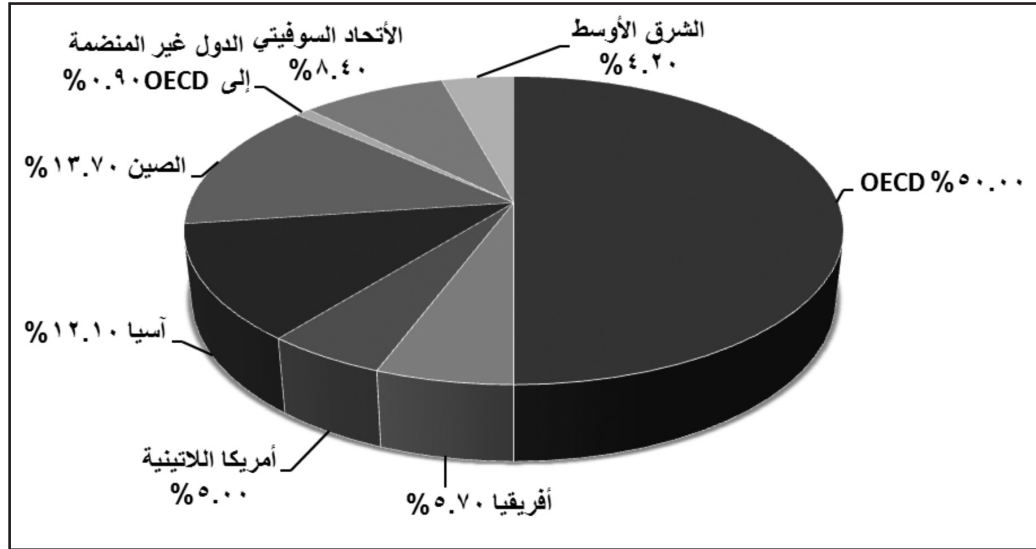


---

لا تكتب في هذا الجزء

تابع: السؤال الثالث:

٢١) الشكل الذي أمامك يمثل استهلاك الطاقة في العالم حسب الأقاليم العالمية لعام ٢٠٠٤م، أدرسه ثم أجب عن الأسئلة الآتية:



أ. وضح المقصود بالاختصار (OECD).

ب. استخراج أقل أربعة أقاليم استهلاكاً للطاقة.

السؤال الرابع:

٢٢) وضح طرق الحصول على الإيثانول من الذرة وقصب السكر.

لا تكتب في هذا الجزء



## تابع: السؤال الرابع:

(٢٣) فرق بين مصطلحي الهندسة الوراثية والخريطة الجينية.

---



---

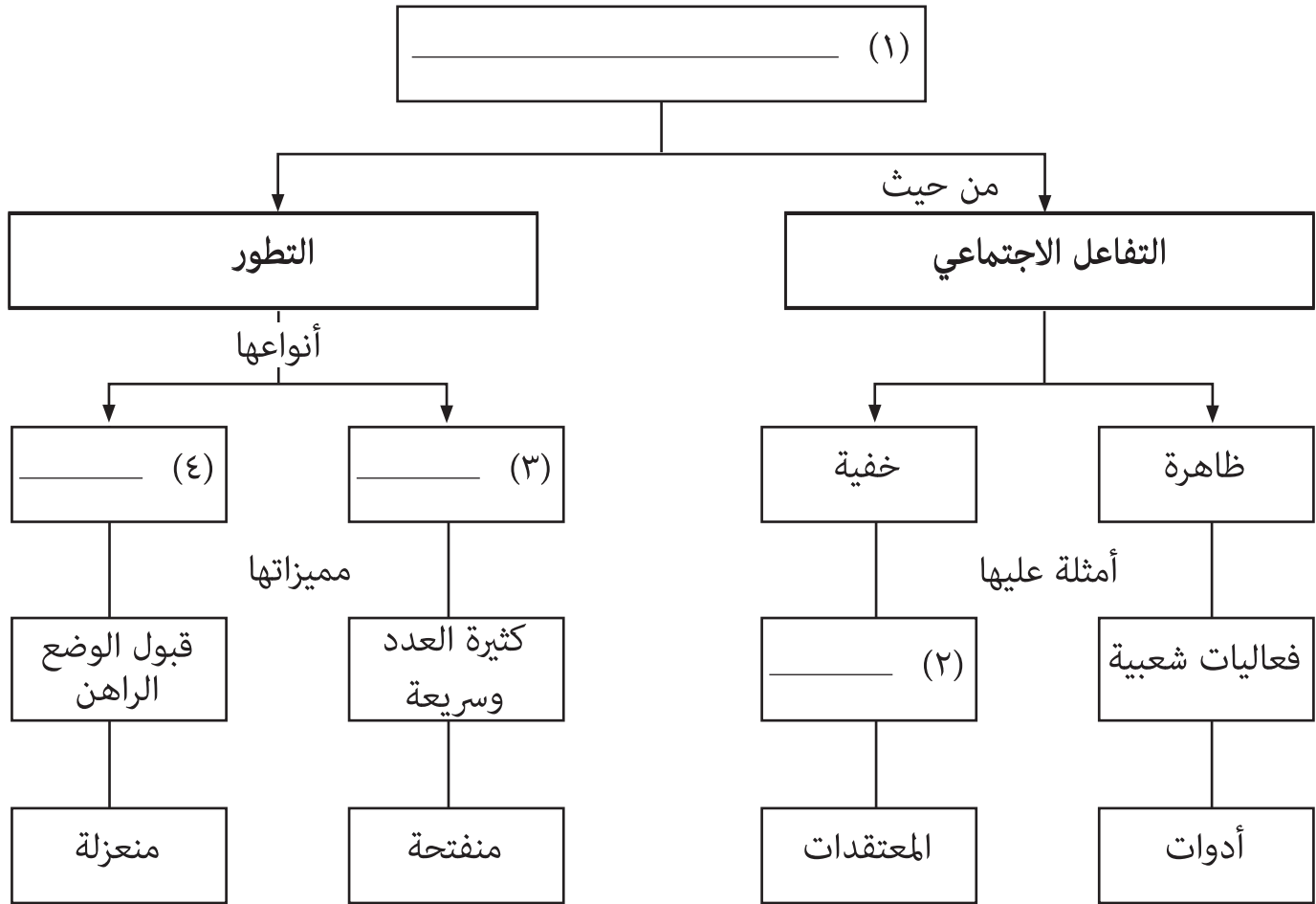


---



---

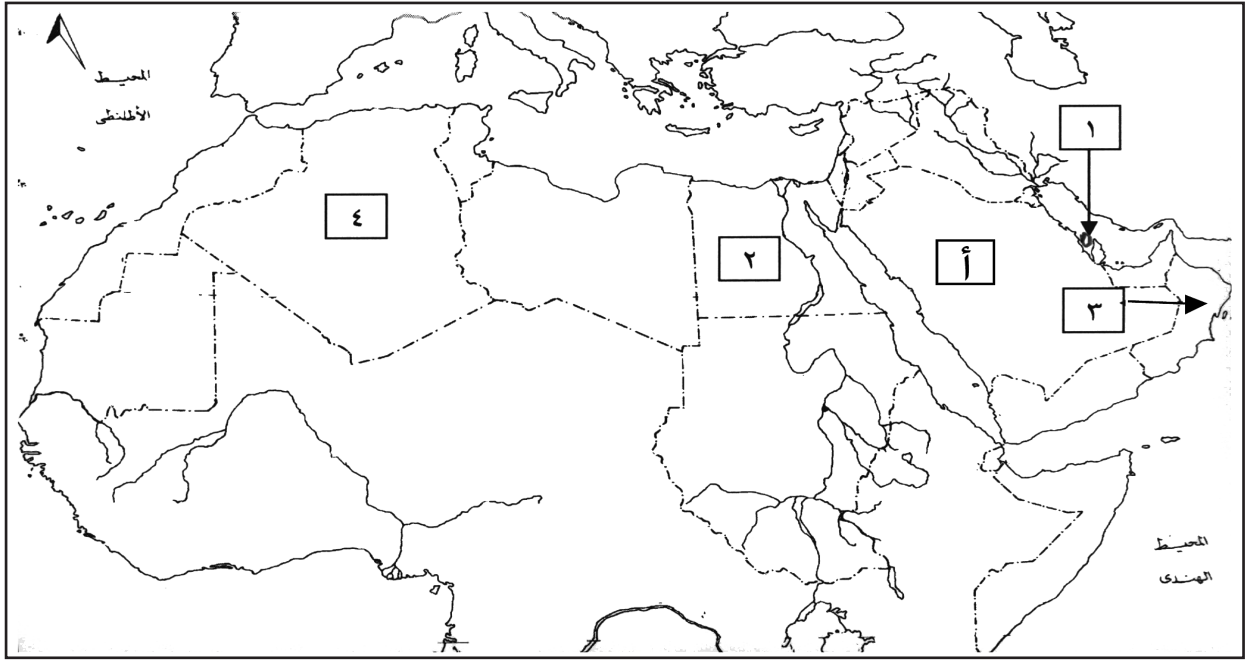
(٢٤) أكمل المخطط الآتي بكتابة الإجابة الصحيحة أمام كل رقم:



لا تكتب في هذا الجزء

## تابع: السؤال الرابع:

(٢٥) أدرس خريطة الوطن العربي التي أمامك ثم أجب عن الأسئلة التالية:



- أ. الرقم الذي يشير إلى الدولة التي يقع فيها كرسي جلالة السلطان قابوس المعظم في مجال الاستزراع الصحراوي. (\_\_\_\_\_)
- ب. الرقم الذي يشير إلى الدولة التي تقع بها عاصمة الثقافة العربية لعام ٢٠٠٦م. (\_\_\_\_\_)
- ج. ما نوع النفط الخام في الدولة المشار إليها بالرمز (أ)؟ (\_\_\_\_\_)
- د. ظلل بشكل صحيح الدولة التي عقدت فيها القمة العالمية حول مجتمع المعلومات عام ٢٠٠٥م.
- هـ. ارسم دائرة حول المضيق الذي يقع شمال غرب الوطن العربي والذي مرت به الرحلة الفينيقية في القرن ٦ ق.م.

انتهت الأسئلة، مع تمنياتنا لكم بالتوفيق والنجاح.