



امتحان مادة : الدراسات الاجتماعية (هذا وطني)

للف : الحادي عشر

للعام الدراسي ١٤٣٨/١٤٣٩هـ - ٢٠١٧/٢٠١٨م

الدور الثاني - الفصل الدراسي الأول

- زمن الامتحان : (ساعتان) ● عدد صفحات أسئلة الامتحان: (١٠) صفحات.
- الإجابة في الدفتر نفسه .

		اسم الطالب
الصف		المدرسة

التوقيع بالاسم		الدرجة		السؤال
المصحح الثاني	المصحح الأول	بالحروف	بالأرقام	
				١
				٢
				٣
				٤
مراجعة الجمع	جمعه			المجموع
				المجموع الكلي

(١)

المادة: هذا وطني - الصف : الحادي عشر - الدور الثاني - الفصل الدراسي الأول - العام الدراسي ٢٠١٧/٢٠١٨م

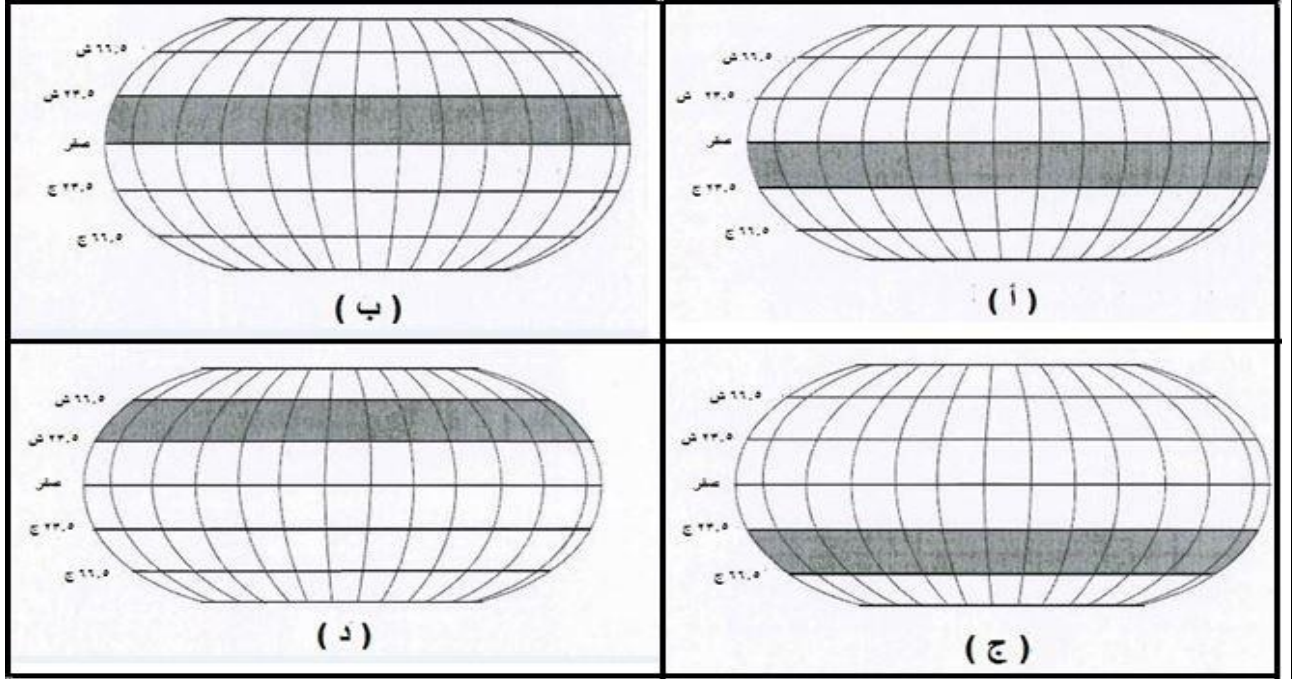
أجب عن جميع الأسئلة الآتية

السؤال الأول: ضع دائرة حول رمز الإجابة الصحيحة لكل مفردة من المفردات الآتية:

١ (عرفت مدينة الشحر التي صدر منها اللبان قديماً باسم :

- أ- سلوت. ب- الفرضة. ج- اسكبير. د- السر.

٢ (الشكل الذي يوضح موقع سلطنة عُمان من المناطق الحرارية في العالم:



٣ (من سمات الأسرة العمانية قديماً :

- أ- تأخر الزواج.
ب- الزواج المبكر.
ج- قلة عدد الأطفال.
د- المباعدة بين الولادات.

٤ (الإمارة التي أسسها سليمة بن مالك بن فهم في جنوب غرب إيران :

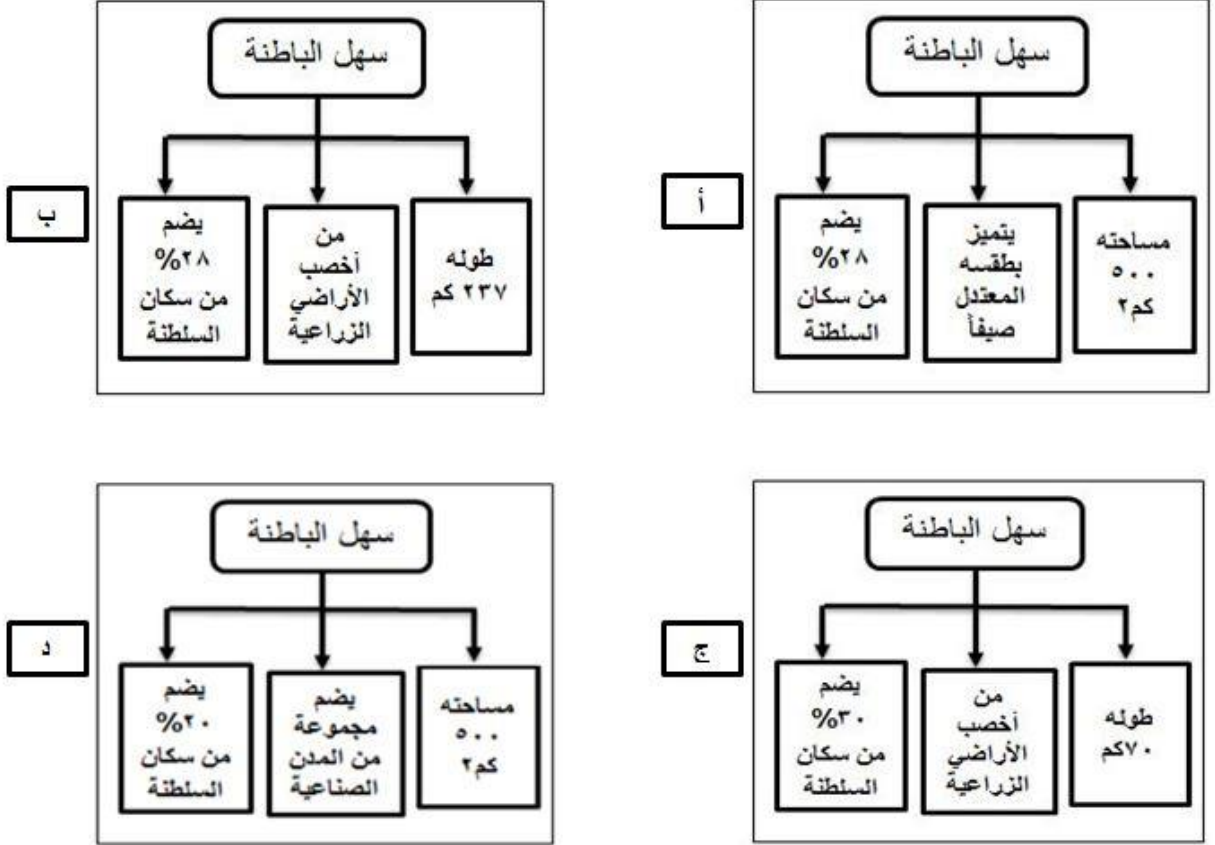
- أ- كرمان. ب- لنجا. ج- سيراف. د- بوشهر.

(٢)

المادة: هذا وطني - الصف : الحادي عشر - الدور الثاني - الفصل الدراسي الأول - العام الدراسي ٢٠١٧/٢٠١٨م

تابع السؤال الأول:

٥) خريطة المفاهيم التي توضح ميزات سهل الباطنة :



٦) الأرقام التي تشير إلى المواقع الأثرية العمانية المدرجة في قائمة التراث العالمي:

١	الوطية
٢	خور روري
٣	رأس الحمراء
٤	بات

أ- ١ و ٢

ب- ١ و ٣

د- ٢ و ٤

ج- ٢ و ٣

٧) تُعد تسمية " جبل النحاس " إشارة لإقليم شمال عُمان في النصوص:

أ- البابلية. ب- الفارسية. ج- السومرية. د- اليونانية.

(٣)

المادة: هذا وطني - الصف : الحادي عشر - الدور الثاني - الفصل الدراسي الأول - العام الدراسي ٢٠١٧/٢٠١٨م

تابع السؤال الأول:

٨ (المدن التي يشعر سكانها بالإرهاق الحراري نتيجة اقتران الحرارة بالرطوبة العالية :


سيق
جبل شمس
صحار
د

صور
الجبل الأخضر
صحار
ج

هيما
صلالة
سيق
ب

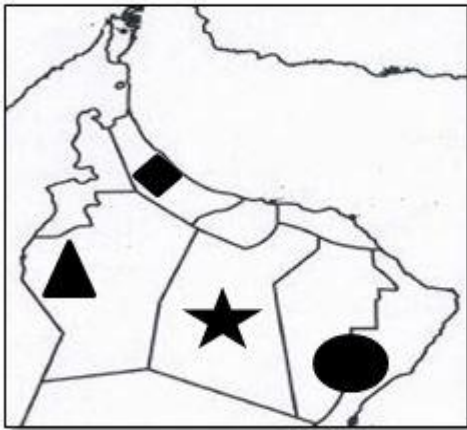
صور
صلالة
صحار
أ

٩ (تتمثل في الصورة المقابلة :



- أ - السبلة.
- ب - العازي.
- ج - الهبطة.
- د - الرزحة.

١٠ (الرمز الذي يشير إلى الموقع الصحيح لرمال الشرقية في الخريطة :



ب - ★

أ - ◆

د - ●

ج - ▲

(٤)

المادة: هذا وطني - الصف : الحادي عشر - الدور الثاني - الفصل الدراسي الأول - العام الدراسي ٢٠١٧/٢٠١٨م

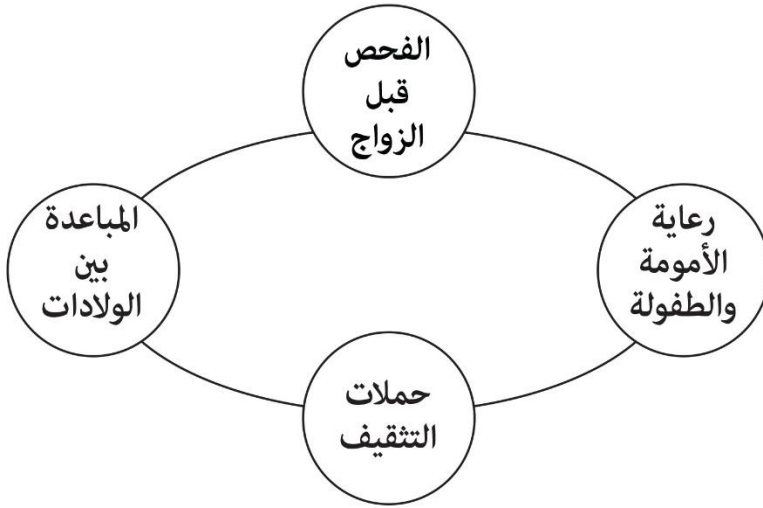
تابع السؤال الأول:

(١١) بدأت العوامل الأرضية و العناصر الطبيعية تُشكل سطح الأرض في سلطنة عُمان

منذ نحو:

- أ - ٦٠٠ مليون سنة. ب- ٧٠٠ مليون سنة.
ج- ٨٠٠ مليون سنة. د- ٩٠٠ مليون سنة.

(١٢) الشكل المقابل يوضح البرامج المعتمدة في تنظيم:



- أ - الفرد.
ب - المعيشة.
ج - الأسرة.
د - المجتمع.

السؤال الثاني :

أولاً : أ - ما المقصود بكل من:

١ - الأخوار:

.....
.....

٢ - الكهف:

.....
.....

(5)

المادة: هذا وطني - الصف : الحادي عشر - الدور الثاني - الفصل الدراسي الأول - العام الدراسي ٢٠١٧/٢٠١٨ م

تابع: السؤال الثاني:

ب- اذكر نتيجة واحدة ترتبت على كل من:-
١ - تعدد البيئات في سلطنة عُمان.

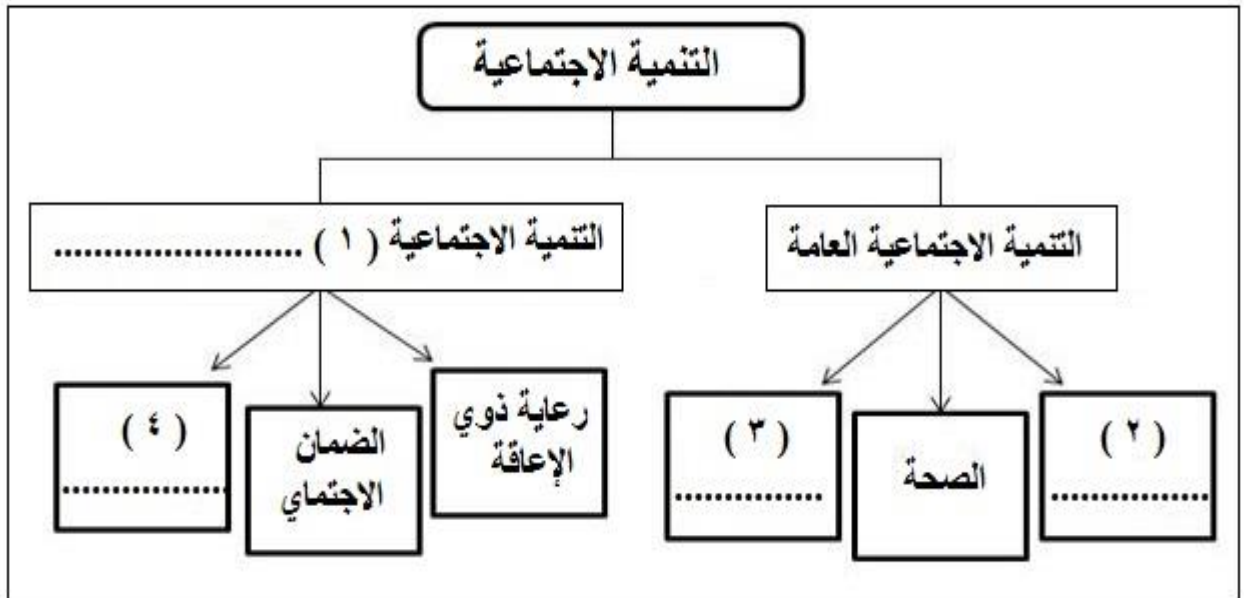
.....
.....

٢ - انتشار الصخور الجيرية بجبال ظفار.

.....
.....

ثانياً : أجب عن الأسئلة التالية:

أ - اكمل المخطط الذي أمامك:



تابع : السؤال الثاني:

ب - علل أهمية الموقع القاري لعمان بجباله وصحاريه الجافة وقت الحروب.

.....

ثالثاً :

أ - اقرأ الفقرة الآتية جيداً ثم أجب عن الأسئلة التي تليها:

يذكر الحميري "ببلاد عمان الخانات والحمامات التي بنيت خدمة للتجار القادمين إليها، ومدينة عمان سور به أبواب من حديد وبها أسواق كثيرة وهي فرضة الصين، تحمل إليها الأمتعة من سيراف وتكون الحمولة في قوارب صغيرة، ثم تحمل تلك البضائع في مراكب كبيرة عظيمة فتسير في البحر العظيم بالرياح الطيبة باتجاه الهند والصين".

١- اكتب من النص ما يشير إلى أن عمان كانت وجهة تجارية.

.....

٢- استخراج من النص ما يؤكد على تطور عمان في كل من:

..... الجانب العمراني:

..... الجانب الملاحي:

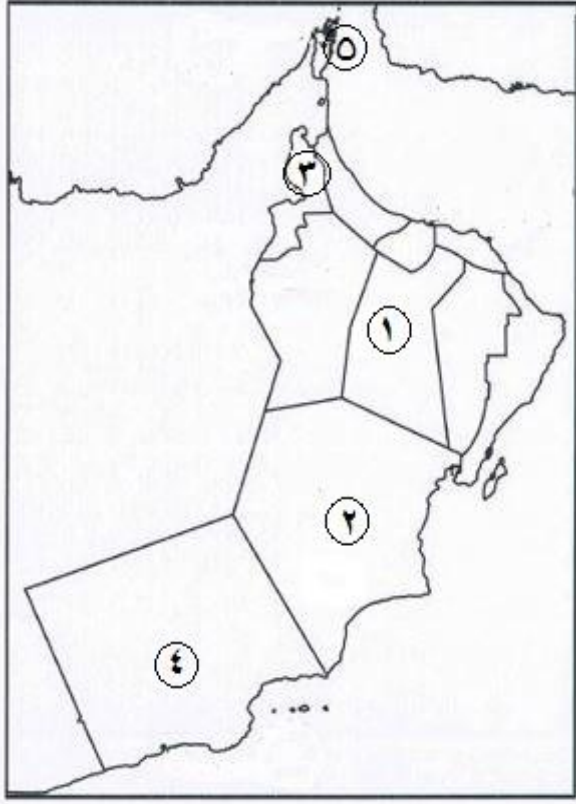
ب - وقوع عمان على الخليج العربي وبحر عمان وبحر العرب جعلها محط أنظار الكثير من القوى الاقتصادية العالمية منذ القدم حتى الوقت الحاضر، وضح ذلك.

.....

السؤال الثالث :

أولاً : أجب عن الأسئلة التالية :

- أ - أمامك خريطة سلطنة عُمان، ادرسها جيداً ، ثم اجب عن الأسئلة التي تليها:
١ - المحافظة التي يوجد بها جبل القمر
يشار إليها بالرقم (.....)



- ٢ - ما الرقم الذي يشير إلى السلسلة الجبلية التي توصف بأنها شديدة التضرس بسبب التعرية؟ (.....)
٣ - الرقم الذي يشير إلى المحافظة التي يسود معظم إقليمها المناخ الحار الجاف (.....)

- ب - ما اسم أكبر السبخات مساحة في سلطنة عُمان ؟

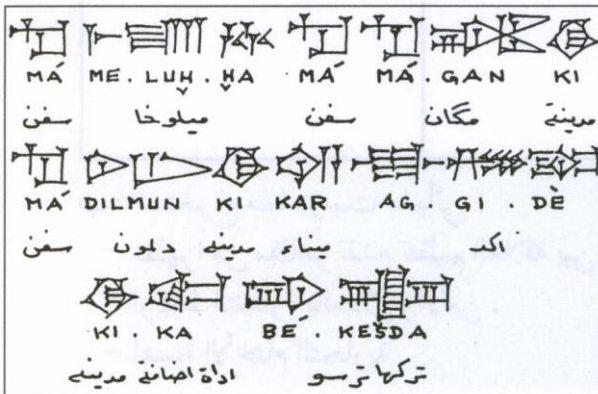
ثانياً اجب عما يلي:

- ١ - ما المقصود بالإيلاف؟

.....

- ٢ - حدد أبرز (الخامات الأساسية) التي استوردها السومريون من عُمان.

.....



- ب - أنظر إلى الشكل المقابل واجب

عن السؤال الآتي: ما الذي يمثله هذا الشكل ؟

.....

تابع : السؤال الثالث:

ج- " كانت لعمان إسهامات عديدة في نقل تأثيرات حضارية بين بلاد الرافدين والهند " في ضوء هذه العبارة ، اكتب ما يؤكد هذا الدور . (يكتفى بذكر دور واحد فقط)

د- ما الدور التجاري الذي لعبته دلمون في العلاقات التجارية بين عمان وبلاد الرافدين.

ثالثاً:

أ - من خلال دراستك للمواقع الأثرية المنتشرة في مناطق مختلفة من عمان وتتبعك لها والتعرف على خصائص كل منها وازدهار الحضارة بها، أجب عن الأسئلة الآتية:

١ - استنتج العوامل المرتبطة بأثر الموقع والتي جعلت من عمان مركزاً حضارياً منذ عصور ما قبل التاريخ.

..... —

 —

٢ - ما الدلالات على تنوع وتعدد المكتشفات الأثرية في المواقع الأثرية العمانية؟

.....

السؤال الرابع :

أولاً : اذكر اثنين من:

أ - مرتكزات المجتمع العماني.

١ -

٢ -

ب - صور التفاعل الاجتماعي حديثاً.

١ -

٢ -

ثانياً : أجب عما يلي:

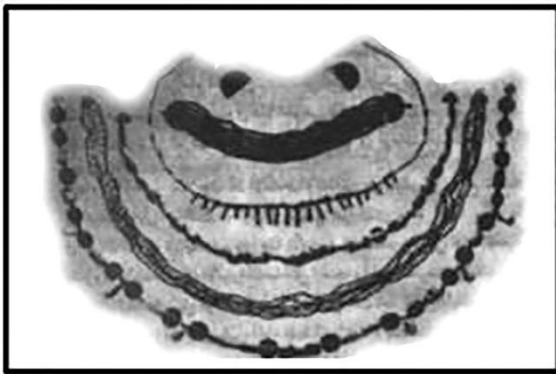
أ - " التنمية الاجتماعية التي تشهدها السلطنة هي تنمية شاملة "، فسّر ذلك.

.....

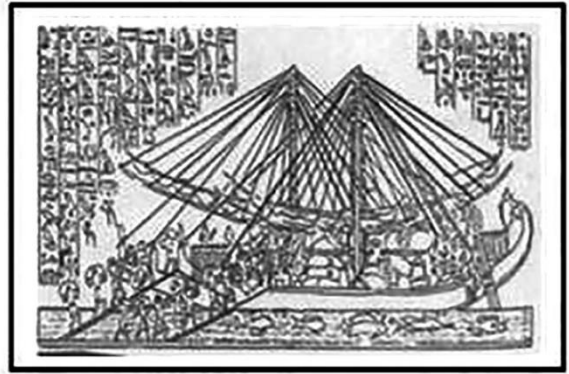
.....

.....

ب - أنسب الشكلين التاليين للحضارات القديمة التي تنتمي إليها:



٢ -



١ -

تابع : السؤال الرابع :

ثالثاً :

"إن الفرد منا ينشأ في أسرة قد تكون كبيرة أو صغيرة ، ومن حق هذا الفرد الحصول على رعاية حسنة من الوالدين من خلال توفير الظروف المعيشية المناسبة له وضمان حصوله على الرعاية الصحية والتعليمية والخدمية المناسبة ، وعلى الفرد منا أن يكون مشاركاً بفعالية في شؤون مجتمعه ووطنه" في ضوء ذلك:

١ - وضح دور المرأة الاقتصادي في الأسرة العمانية قديماً.

٢- استدل على جهود حكومة سلطنة عمان في رعاية الأسرة العمانية. (يكتفى بدليلين)

..... -

.....

..... -

.....

انتهت الأسئلة مع الدعاء للجميع بالتوفيق و النجاح

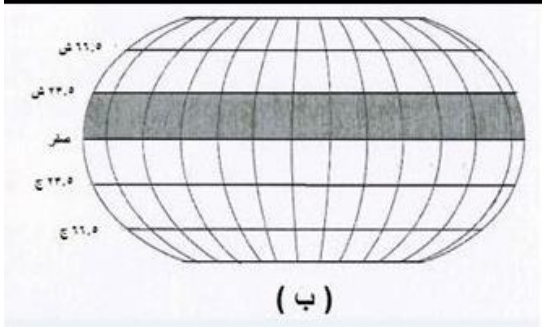
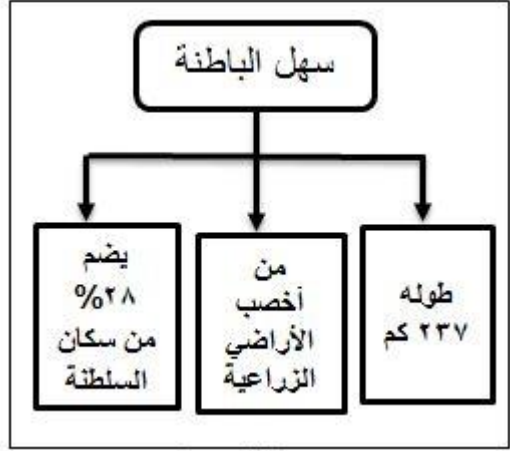
نموذج إجابة امتحان الصف الحادي عشر
 للعام الدراسي ١٤٣٨/١٤٣٩ هـ - ٢٠١٧/٢٠١٨ م
 الدور الثاني - الفصل الدراسي الأول

الدرجة الكلية: (٦٠) درجة.

المادة: هذا وطني


تبيئه: نموذج الإجابة في (٥) صفحات.

أولاً: إجابة السؤال الموضوعي:

المفردة	البديل الصحيح	الإجابة	الدرجة	الصفحة
١	ج	اسكبير	٢	١٩
٢	ب		٢	٢٠
٣	ب	الزواج المبكر	٢	٧٣
٤	أ	كرمان	٢	٥٩
٥	ب		٢	٢٩

(٢)

تابع نموذج إجابة امتحان الصف الحادي عشر
للعام الدراسي ١٤٣٨/١٤٣٩ هـ - ٢٠١٧/٢٠١٨ م
الدور الثاني - الفصل الدراسي الأول - المادة : هذا وطني

الدرجة : (٢٤) درجة		تابع : إجابة السؤال الأول					
المفردة	البديل الصحيح	الإجابة	الدرجة	الصفحة			
٦	د	٢ و ٤	٢	٤٨ و ٤٩			
٧	ج	السومرية	٢	٤٢			
٨	أ	<table border="1"><tr><td>صور</td></tr><tr><td>صلالة</td></tr><tr><td>صحار</td></tr></table>	صور	صلالة	صحار	٢	٣٧
صور							
صلالة							
صحار							
٩	أ	السبلة	٢	٧١			
١٠	د		٢	٣١ و ٣٢			
١١	ج	٨٠٠	٢	٢٥			
١٢	ج	الأسرة	٢	٨٠			
		المجموع	٢٤				

يتبع ٣/

الدرجة الكلية: (١٢) درجة		إجابة السؤال الثاني	
الصفحة	الدرجة	الإجابة الصحيحة	المفردة
٣٢	١	- الأخوار : عبارة عن خلجان مائية صغيرة متصلة عادة بمياه البحر .	أ - ١
٣٣	١	- الكهف : هو فتحة طبيعية في الصخر يتراوح قطره ما بين ٥-١٥ متراً ويتكون بفعل الإذابة في الصخور الجيرية ، أو بواسطة التعرية المائية لمياه الأمطار أو عن طريق التعرية البحرية .	أ - ٢
٢٤	١	- جعل السلطنة تمتلك إمكانيات اقتصادية وسياحية هائلة للاستفادة منها كمورد للدخل .	ب - ١
٢٨	١	- تكوّن الكهوف / تكوّن النافورات البحرية. (يكتفى بواحد)	ب - ٢
٨٢	٢ لكل نصف درجة	١ - الخاصة. ٢ - التعليم/ الإسكان/ الكهرباء والمياه/ الطرق/ الاتصالات / الإعلام. (يكتفى باثنين، ولا يشترط الترتيب) ٤ - تأهيل أفراد أسر ذوي الدخل المحدود/ أو رعاية المسنين.	أ
٢٢	١	- ملاذاً للعمانيين أمام الذين حاولوا بين فترة وأخرى السيطرة على سواحل السلطنة فكان العمانيون يلجأون إلى الداخل القاري لتنظيم صفوفهم ووضع الخطط لرد المعتدين.	ب
١٩	١	- فرضة الصين/ بناء الخانات والحمامات خدمة للتجار.	أ - ١
١٩	١	<u>الجانب العمراني:</u> وجود الخانات/ الحمامات/ للمدينة سور له أبواب من حديد. (يكتفى بواحد)	أ - ٢
١٩	١	<u>الجانب الملاحي:</u> مراكب عظيمة تسير في البحر العظيم باتجاه الهند والصين.	
٢٣	٢	- هي معبر هام للتجارة بين الشرق والغرب / تشرف على مضيق هرمز بوابة الخليج العربي قلب العالم النابض بالنفط / تعمل عمان على استرداد هذه الأهمية من خلال الاهتمام بإنشاء الموانئ لانعاش تجارة العبور (الترانزيت) التي برع فيها العمانيون قديماً . (يكتفى بواحدة/ وبها يفيد المعنى)	ب

إجابة السؤال الثالث		الدرجة الكلية: (١٢) درجة	
الجزئية	المفردة	الإجابة الصحيحة	الدرجة
أولاً	أ	١ - الرقم ٤ ٢ - الرقم ٥ ٣ - الرقم ٣	٣ لكل مفردة درجة
	ب	- أم السميم	١
	أ	١- النظام الذي ألفته القبائل والمراكز العربية قبل الإسلام، في عمليات ونظم الاتصال التجاري بينها.	١
ثانياً		٢- الأحجار / النحاس / اللبان. (يكتفى باثنين)	١
	ب	- نص الملك سرجون الأكادي وترجمته/ نص يوضح رسو سفن مجان و ميلوفا ودلمون في ميناء أكاد زمن الملك سرجون الأكادي.	١
	ج	- تشابه المحاصيل/نقل مؤثرات فنية كالنقوش والرسومات على الأواني تشابه الأختام/ ظهور الفنون و التماثيل من الأحجار والعاج في منازل أهل العراق/ تشابه في صناعة الأدوات المنزلية والحلي النسائية/ تشابه في بناء المنازل واستعمال الطين ونظام الغرف والحجرات. (يكتفى بواحد)	١
	د	- وسيط تجاري	١
	أ - ١	- جذب الجماعات المهاجرة لعمان منها هجرات الكنعانيين (الفينيقيين لاحقاً) بسبب قربها من مراكز الهجرات في عصور ما قبل التاريخ . - الاستفادة من خبرات المهاجرين الجدد و علّمت الآخرين (الفينيقيين) أصول الملاحة و فنون التعامل مع غيرهم . - التفاعل و التبادل مع غيرهم من الحضارات .	٢ لكل واحد درجة
أ - ٢	- براعة العمانيين الأوائل في استغلال البيئة وخاماتها/ وممارستهم لأعمال مختلفة مثل الدفاع عن النفس والجمع والالتقاط وكذلك الصيد البري والبحري. (يكتفى بدلالة واحدة)	١	
المجموع		١٢ درجة	

(٥)

تابع نموذج إجابة امتحان الصف الحادي عشر للعام الدراسي ١٤٣٨/١٤٣٩ هـ - ٢٠١٧/٢٠١٨ م
الدور الثاني - الفصل الدراسي الأول المادة : هذا وطني

تابع ثانياً: إجابة الأسئلة المقالية:

الدرجة الكلية: (١٢) درجة		إجابة السؤال الرابع	
٦٩-٦٨	٢	أ	الدين الإسلامي / اللغة العربية / المحافظة على التراث الوطني / الوحدة الوطنية / العادات والتقاليد والقيم / الأسرة العمانية / المساواة بين أفراد المجتمع / الأطر الدستورية والقانونية / الاهتمام بالتعليم / العمل / الصحة. (يكتفى باثنين)
٧٦	٢	ب	١ - العمل التطوعي. ٢ - التبرع بالدم. ٣ - معسكرات العمل الوطنية. (يكتفى باثنين)
٧٨	٢	أ	- لأنها لم تستهدف جانباً واحداً في حياة المجتمع / امتدت لتشمل جوانب الحياة المختلفة / لم تركز على فئة عمرية دون أخرى أو جنس دون آخر / لم تركز على المدن وتترك القرى الجبلية والصحراوية / لم تكن حالة ظرفية بل مبدأ وسياسة للحكومة . (يكتفى باثنين)
٥٤	١	ب - ١	١ - الحضارة المصرية / الفرعونية .
٥٥	١	ب - ٢	٢ - الهندية
٧٣	٢	١	كانت تعمل إلى جانب زوجها في الأنشطة الاقتصادية السائدة آنذاك.
٧٤	٢	٢	تقديم الرعاية الصحية و التعليمية و الخدمية/ تقديم برامج عديدة من شأنها توفير أحسن الظروف المعيشية مثل برنامج المباحدة بين الولادات و الفحص قبل الزواج و رعاية الأمومة و الطفولة/ الحرص على الترابط الأسري من خلال سن القوانين/ التشريعات الخاصة بعمل المرأة من خلال منحها إجازة الولادة و الأمومة مدتها ٥٠ يوماً براتب كامل/ إجازة بدون راتب لمدة لا تزيد عن عام لرعاية طفلها بعد انتهاء إجازة الولادة/ و حق المرأة في إجازة العدة و براتب كامل مدتها أربعة أشهر و(١٠) أيام من تاريخ وفاة الزوج. (يكتفى بدليلين)
١٢ درجة		المجموع	

نهاية نموذج الإجابة