



المديرية العامة للتربية والتعليم بمحافظة شمال الشرقية
دائرة التقويم التربوي
قسم الاختبارات والمقاييس

الدرجة النهائية

امتحان الصف التاسع
للعام الدراسي ١٤٣٦/١٤٣٧ هـ - ٢٠١٥ - ٢٠١٦ م
الدور الأول - الفصل الدراسي الأول

- المادة : الدراسات الإجتماعية
- زمن الاجابة : ساعة ونصف
- عدد صفحات اسئلة الامتحان : خمس صفحات
- الاجابة في نفس الورقة

بيانات الممتحن	
اسم الطالب :	
اسم المدرسة :	الصف :

تصحيح الورقة الامتحانية					
السؤال	الدرجة بالارقام		الدرجة بالحروف	التوقيع (بالاسم)	
	أحاد	عشرات		المصحح (اللون الاحمر)	المدقق (باللون الاخضر)
١					
٢					
٣					
٤					
٥					
٦					
٧					
المجموع			جمعه (باللون الاحمر)	مراجعة الجمع والتشطيب (باللون الازرق)	

السؤال الأول : (١٦ درجة)

ضع دائرة حول رمز الإجابة الصحيحة فيما يلي :

١- يعد أهم المصادر الرئيسية لدراسة الخصائص والتغيرات السكانية في أي مجتمع :-

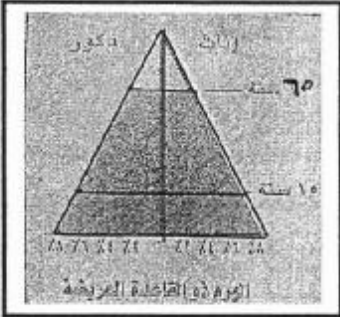
أ- التعداد السكاني ب- المسوحات بالعينة ج- التسجيل الحيوي د- سجلات المدارس
٢- البنية السكانية التي تفيد في معرفة نسب القوى العاملة ومعرفة معدلات الباحثين عن عمل :-

أ- البنية الاجتماعية ب- البنية النوعية ج- البنية الاقتصادية د- البنية العمرية

٣- أمامك أحد الأهرام السكانية الرئيسية الشكل الذي أمامك يمثل هرم :-

أ- المجتمع المسن ب- المجتمع الفتي

ج- المجتمع الشاب د- المجتمع الذكوري



٤- الجزيرة التي استورد منها السيد سعيد بن سلطان القرنفل الى زنجبار هي :

أ- سيشل ب- مدغشقر ج- سقطرى د- موريشيوس
٥- الصورة التي أمامك لشخصية مهمة عينها السيد سعيد بن سلطان رئيسا للوزراء بزنجبار :-

أ- حميد بن محمد المرجبي ب- أحمد بن النعمان الكعبي

ج- السيد سليمان بن حمد البوسعيدي د- الشيخ حسن الفارسي



د- ١٨٥٨م

ج- ١٨٥٧م

٦- توفي السيد سعيد بن سلطان عام :

أ- ١٨٥٥م ب- ١٨٥٦م

٧- المنظمة التي تهتم بتشجيع الأبحاث الطبية هي :

أ- اليونسكو ب- الفاو ج- اليونسيف د- الصحة العالمية


٨- العالم الإسلامي هو مجموعة الدول التي يشكل المسلمون فيها من جملة عدد السكان أكثر من :

أ- ٥٠% ب- ٦٠% ج- ٧٠% د- ٨٠%

السؤال الثاني : (٨ درجات) :

- ١- اكتب المصطلح الصحيح للعبارات التالية :
- أ- (.....) رسم بياني يبين توزيع السكان حسب فئاتهم العمرية والنوعية ويعكس صورة ملخصة لخصائص المجتمع .
- ب- (.....) الدول التي ترتبط فيما بينها بالموقع والقرب المكاني والإمتداد الجغرافي حيث تتقاسم الموقع الفلكي والحدود السياسية.
- ج- (.....) مصطلح ياباني ويعني موجة الميناء وهي موجة محيطية ضخمة تكون على هيئة سلسلة واسعة من الأمواج والمد البحري تسببه الزلازل والبراكين.

٢- أدرس الشكل التالي ثم أجب عن الاسئلة التي تليه



رتب مراحل الانتقال السكاني ترتيبا صحيحا من المرحلة الأولى الى الرابعة

الترتيب	مميزات مراحل الانتقال السكاني
	انخفاض سريع في معدلات المواليد يرافقه انخفاض في معدلات الوفيات
	ارتفاع في معدلات المواليد يرافقه انخفاض في معدلات الوفيات
	ارتفاع في معدلات المواليد يرافقه ارتفاع في معدلات الوفيات
	انخفاض في معدلات المواليد والوفيات

٣- علل : امد الحياة المتوقع في الدول المتقدمة اكثر من الدول النامية .

.....


.....

.....

امتحان الصف التاسع
للعام الدراسي ١٤٣٦/١٤٣٧هـ - ٢٠١٥ - ٢٠١٦م
النور الأول - الفصل الدراسي الأول
المادة : الدراسات الإجتماعية

السؤال الثالث: (٨ درجات)

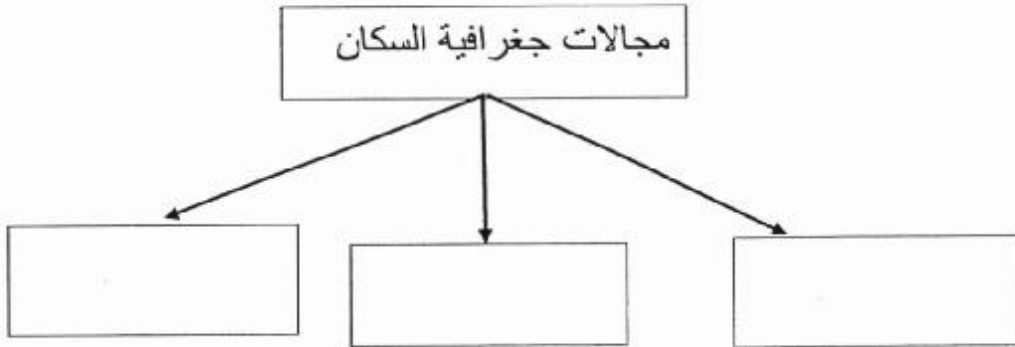
١- أدرس الخريطة التالية التي توضح موقع جزيرة زنجبار ثم أجب عن الأسئلة التي تليها :



.....	أ- تقع جزيرة زنجبار في قارة
.....	ب- تتكون زنجبار من جزيرتين كبيرتين هما
.....	ج- المحيط الذي يحد زنجبار من جهة الشرق هو
العرب و الشيرازيين	د- أهم الأجناس البشرية التي تسكن زنجبار
هـ - اكتب على الخريطة عاصمة جمهورية تنزانيا الاتحادية	

امتحان الصف التاسع
للعام الدراسي ١٤٣٦/١٤٣٧هـ - ٢٠١٥ - ٢٠١٦م
الدور الأول - الفصل الدراسي الأول
المادة : الدراسات الإجتماعية

٢- اكمل الشكل التالي الذي يوضح مجالات جغرافية السكان:



السؤال الرابع : (٨ درجات)

١- قارن بين كلا من منظمة المؤتمر الإسلامي ومنظمة الأمم المتحدة :

اسم المنظمة	منظمة المؤتمر الإسلامي	منظمة الأمم المتحدة
أوجه المقارنة		
سنة التأسيس		
سبب التأسيس		

امتحان الصف التاسع
للعام الدراسي ١٤٣٧/١٤٣٦ هـ - ٢٠١٥ - ٢٠١٦ م
الدور الأول - الفصل الدراسي الأول
المادة : الدراسات الإجتماعية

٢- أقرأ النص التالي ثم أجب عن الأسئلة التالية

(بلغ عدد سكان محافظة شمال الشرقية و جنوب الشرقية (٣٥٠٠٠٠٠ نسمة) حسب تعداد عام ٢٠١٠ م
علما بأن مساحة محافظة شمال الشرقية و جنوب الشرقية (٣٦٩٠٠ كم٢) .

احسب معدل الكثافة السكانية لمحافظة شمال الشرقية و جنوب الشرقية مع كتابة القانون؟

.....
.....
.....
.....
.....
.....
.....

٣- بما تفسر منح جلالة السلطان المعظم جائزة السلام الدولية عام ١٩٩٨ م؟

.....
.....
.....

مع اطيب التمنيات بالتوفيق والنجاح

نموذج إجابة امتحان الصف التاسع

سلطنة عمان

للعام الدراسي

٢٠١٥ / ٢٠١٦ م

المدور الأول

الفصل الدراسي الأول



وزارة التربية والتعليم

المديرية العامة للتربية والتعليم

محافظة شمال الشرقية

الأسئلة الموضوعية: ١٦ درجة

اجابة السؤال الأول			
المفردة	البديل الصحيح	الدرجة	الصفحة
١	أ- التعداد السكاني	٢	١١
٢	ج- البنية الاقتصادية	٢	٢٠
٣	ب- المجتمع الفتي	٢	٢٣
٤	د- جزيرة موريشيوس	٢	٥١
٥	ج- السيد سليمان بن حمد البوسعيدي	٢	٤٧
٦	ب- ١٨٥٦ م	٢	٦٢
٧	د- الصحة العالمية	٢	٨٤
٨	أ- ٥٠%	٢	٧٢

الأسئلة المقالية : ٢٤ درجة

اجابة السؤال الثاني ٨ درجات

الصفحة	الدرجة	الاجابة الصحيحة	المفردة	الجزئية										
٢٣	١	الهرم السكاني	أ	١										
٤١	١	الجوار الجغرافي	ب											
٧٧	١	تسونامي	ج											
٢٥ ٢٦	٤	<table border="1"> <thead> <tr> <th>الترتيب</th> <th>مميزات مراحل الانتقال السكاني</th> </tr> </thead> <tbody> <tr> <td>٣</td> <td>انخفاض سريع في معدلات المواليد يرافقه انخفاض معدلات الوفيات</td> </tr> <tr> <td>٢</td> <td>ارتفاع معدلات المواليد يرافقه انخفاض في معدلات الوفيات</td> </tr> <tr> <td>١</td> <td>ارتفاع معدلات المواليد يرافقه ارتفاع في معدلات الوفيات</td> </tr> <tr> <td>٤</td> <td>انخفاض في معدلات المواليد والوفيات</td> </tr> </tbody> </table>	الترتيب	مميزات مراحل الانتقال السكاني	٣	انخفاض سريع في معدلات المواليد يرافقه انخفاض معدلات الوفيات	٢	ارتفاع معدلات المواليد يرافقه انخفاض في معدلات الوفيات	١	ارتفاع معدلات المواليد يرافقه ارتفاع في معدلات الوفيات	٤	انخفاض في معدلات المواليد والوفيات		٢
الترتيب	مميزات مراحل الانتقال السكاني													
٣	انخفاض سريع في معدلات المواليد يرافقه انخفاض معدلات الوفيات													
٢	ارتفاع معدلات المواليد يرافقه انخفاض في معدلات الوفيات													
١	ارتفاع معدلات المواليد يرافقه ارتفاع في معدلات الوفيات													
٤	انخفاض في معدلات المواليد والوفيات													
٢١	١	نتيجة تقدم الدول المتقدمة في مكافحة الأوبئة والامراض إضافة الى وجود الوعي الصحي بين الناس		٣										

اجابة السؤال الثالث ٨ درجات				
الصفحة	الدرجة	الاجابة الصحيحة	المفردة	الجزئية
٤٩	١	افريقيا	أ	١
٤٩	١	للكل اجابة نصف درجة	ب	
٤٩	١	المحيط الهندي	ج	
٥٠	١	الأفارقة	د	
٤٩	١	يكتب على الخريطة دار السلام في موقعها الصحيح	هـ	
١٠	٣	بنية السكان وخصائصهم – النمو السكاني – الكثافة السكانية		٢
	درجات لكل اجابة صحيحة درجة			

اجابة السؤال الرابع ٨ درجات

٧٥	٤ درجات لكل مفردة درجة	<table border="1"> <tr> <td>اسم المنظمة</td> <td>منظمة المؤتمر الإسلامي</td> <td>منظمة الأمم المتحدة</td> </tr> <tr> <td>أوجه المقارنة</td> <td></td> <td></td> </tr> <tr> <td>سنة التأسيس</td> <td>١٩٦٩م</td> <td>١٩٤٥م</td> </tr> <tr> <td>سبب التأسيس</td> <td>قيام المتطرفين اليهود بحرق المسجد الأقصى</td> <td>تأسيس منظمة دولية جديدة تحل محل عصبة الأمم لتعمل على إرساء الأمن والسلام في العالم (او ما يفيد المعنى)</td> </tr> </table>	اسم المنظمة	منظمة المؤتمر الإسلامي	منظمة الأمم المتحدة	أوجه المقارنة			سنة التأسيس	١٩٦٩م	١٩٤٥م	سبب التأسيس	قيام المتطرفين اليهود بحرق المسجد الأقصى	تأسيس منظمة دولية جديدة تحل محل عصبة الأمم لتعمل على إرساء الأمن والسلام في العالم (او ما يفيد المعنى)	١
اسم المنظمة	منظمة المؤتمر الإسلامي	منظمة الأمم المتحدة													
أوجه المقارنة															
سنة التأسيس	١٩٦٩م	١٩٤٥م													
سبب التأسيس	قيام المتطرفين اليهود بحرق المسجد الأقصى	تأسيس منظمة دولية جديدة تحل محل عصبة الأمم لتعمل على إرساء الأمن والسلام في العالم (او ما يفيد المعنى)													
٣٢	٢ كتابة القانون درجة والحل الصحيح درجة	<p>الكثافة السكانية = $\frac{\text{عدد السكان}}{\text{المساحة}}$</p> <p>الكثافة السكانية = $\frac{٣٥٠٠٠٠}{٩,٤٨ \text{ نسمة/كم}^٢}$</p> <p>٣٦٩٠٠ كم^٢</p>	٢												
٨٨	٢	تقديرًا لدور جلالته في إرساء السلام العالمي	٣												
	٤٠ درجة		المجموع الكلي												