



امتحان الصف الحادي عشر
للعام الدراسي ١٤٣٤/١٤٣٥ هـ - ٢٠١٣/٢٠١٤ م
الدور الأول - الفصل الدراسي الأول

- المادة: الدراسات الاجتماعية (هذا وطني في السيرة الحضارية لعمان) • عدد صفحات أسئلة الامتحان: (٧).
- زمن الإجابة: ساعتان • الإجابة في الورقة نفسها.

		اسم الطالب
		المدرسة
الصف		

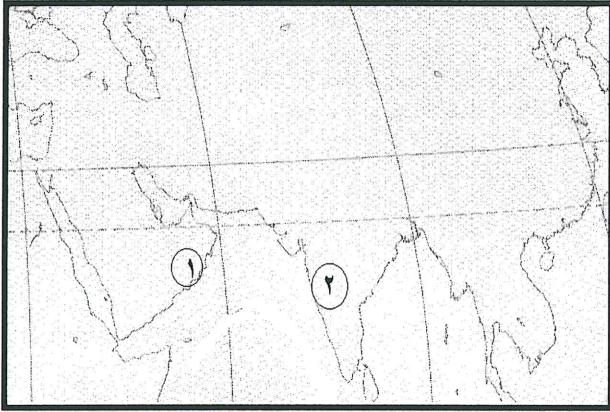
(التوقيع بالاسم)		الدرجة بالحروف (بالأحمر)	الدرجة بالأرقام (بالأحمر)		السؤال
المدقق (بالأخضر)	المصحح (بالأحمر)		عشرات	آحاد	
					١
					٢
					٣
					٤
مراجعة الجمع والتشطيب (بالأزرق)	جمعه (بالأحمر)				المجموع
				٦٠	المجموع الكلي

امتحان الصف الحادي عشر
للعام الدراسي ١٤٣٤/١٤٣٥ هـ — ٢٠١٣/٢٠١٤ م
الدور الأول - الفصل الدراسي الأول

- المادة: الدراسات الاجتماعية (هذا وطني في السيرة الحضارية لعمان)
- تنبيه: الأسئلة في (٧) صفحات.
- زمن الإجابة: ساعتان.

السؤال الأول: ضع دائرة حول رمز الإجابة الصحيحة لكل مفردة من المفردات الآتية:
أجب عن جميع الأسئلة الآتية:

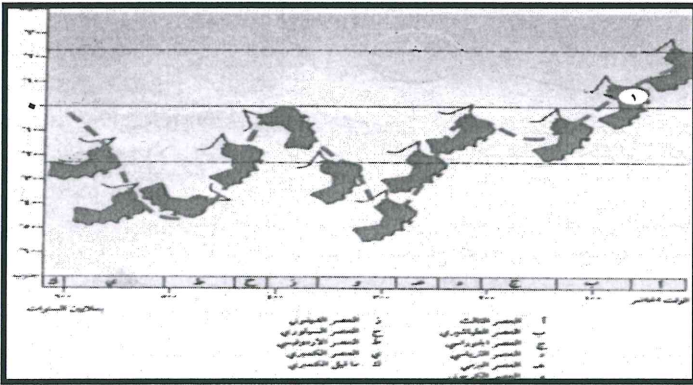
- (١) يشير اسم مزون الذي أطلقه الفرس على عمان قديماً إلى:
- أ - إنتاج النحاس.
 - ب - الاستقرار والإقامة.
 - ج - وفرة المياه.
 - د - ازدهار الموانئ.



- (٢) سلعة اقتصادية كانت تُصدّر في القرن ١٣م من الميناء رقم (١) إلى المنطقة رقم (٢) في الخريطة المقابلة:

- أ - الأسلحة.
- ب - الخيول.
- ج - الأخشاب.
- د - الأختام.

(٣) الموقع الفلكي لمسار عمان الجيولوجي في المرحلة المشار إليها بالرقم (١) في الشكل الآتي:



- أ - دائرة الاستواء.
- ب - الدائرة القطبية.
- ج - مدار السرطان.
- د - مدار الجدي.

- (٤) الولاية التي يشعر سكانها في فصل الصيف بالإرهاق الحراري أكثر من غيرها:
- أ - صور.
 - ب - نزوى.
 - ج - إبراء.
 - د - أدم.

(٢)

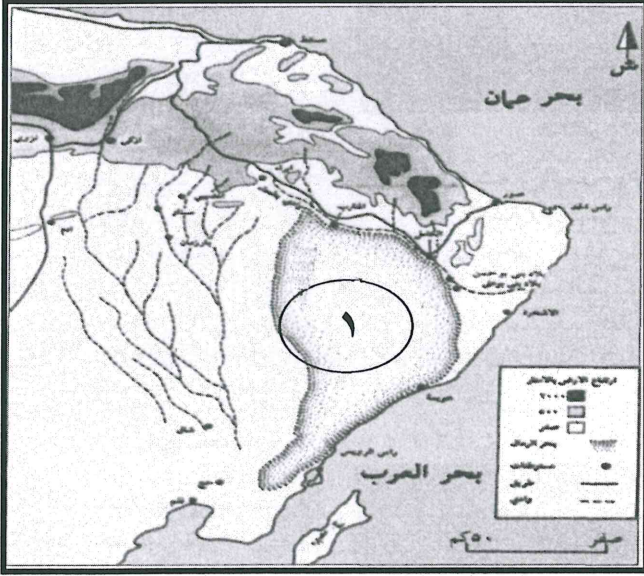
امتحان الصف الحادي عشر

للعام الدراسي ١٤٣٤/١٤٣٥ هـ — ٢٠١٣/٢٠١٤ م

الدور الأول - الفصل الدراسي الأول

المادة: الدراسات الاجتماعية " هذا وطني "


تابع السؤال الأول:




٥ (الشكل التضاريسي الذي يحد المنطقة المشار إليها بالرقم (١) من جهة الغرب في الخريطة المقابلة:

- أ - أخوار .
ب - سلاسل جبلية .
ج - أودية .
د - سهول ساحلية .


٦ (النقوش الصخرية القديمة التي عثر عليها في جبال ظفار:




ب -



أ -



د -



ج -

٧ (اتسمت الأسرة العمانية في عصر النهضة ب :

- ب - إنجاب عدد كبير من الأطفال .
د - تحمل المسؤولية في سن صغيرة .

- أ - الزواج في سن مبكرة .
ج - تأخر سن الزواج .

(٣)

امتحان الصف الحادي عشر

للعام الدراسي ١٤٣٤/١٤٣٥ هـ — ٢٠١٣ / ٢٠١٤ م

الدور الأول - الفصل الدراسي الأول

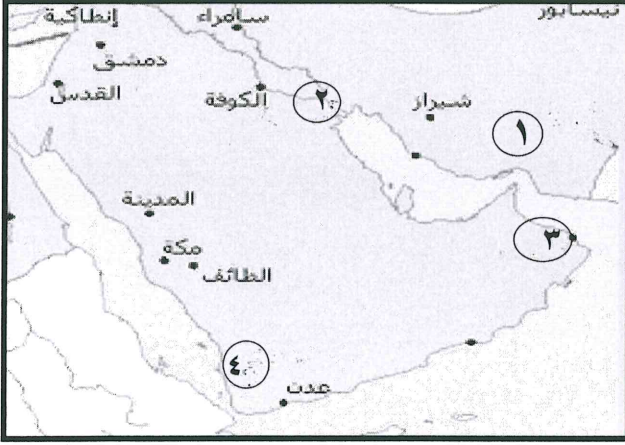
المادة : الدراسات الاجتماعية " هذا وطني "

تابع السؤال الأول:

٨ (تسقط معظم أمطار جنوب عمان في فصل:

- أ- الربيع. ب- الخريف. ج- الشتاء. د- الصيف .

٩ (الرقم الذي يشير إلى موقع الإمارة التي أسسها سليمة بن مالك بن فهم:



- أ- ١
ب- ٢
ج- ٣
د- ٤

١٠ (المثال الدال على التفاعل الاجتماعي الحديث في المجتمع العماني :

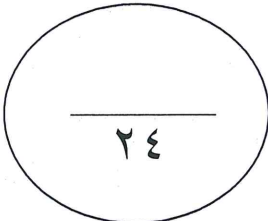
- أ- حصاد اللبان. ب - جني التمور.
ج- صيد السمك. د- التبرع بالدم.

١١ (تُعد المحافظة على التراث الوطني من:

- أ - العادات والتقاليد العمانية .
ب - مرتكزات المجتمع العماني.
ج - خصائص المجتمع العماني .
د - سمات الشخصية العمانية.

١٢ (نجحت الجاليات العمانية والعربية في تحويل الموانئ الصينية إلى الإسلام وثقافته منذ القرن الهجري :

- أ- الأول. ب- الثاني. ج- الثالث. د - الرابع .



(٤)

امتحان الصف الحادي عشر

للعام الدراسي ١٤٣٤/١٤٣٥ هـ — ٢٠١٣ / ٢٠١٤ م

الدور الأول - الفصل الدراسي الأول

المادة : الدراسات الاجتماعية " هذا وطني "

السؤال الثاني:

أ) اذكر اثنين لكل من:

١- أوجه الوقف عند العمانيين .

.....
.....

٢- الآراء حول تسمية عمان بهذا الاسم .

.....
.....

ب) علل لما يأتي:

١- وجود تباينات تضاريسية على أراضي السلطنة.

.....
.....

٢- ضرورة التعامل مع المياه في السلطنة بمسؤولية وعدم الاستنزاف .

.....
.....
.....

ج) ١- صنف السلع الآتية إلى سلع استوردتها الصين و سلع صدرتها في تبادلها التجاري مع عمان .
(التمور، العنبر، اللبان، الخزف)

السلع المستوردة	السلع المصدرة
الصين	

٢- حدد الوسيط التجاري بين كل حضارتين من الحضارات الآتية:

الحضارة	الوسيط	الحضارة
مجان		سومر
بابل		الهند

(٥)

امتحان الصف الحادي عشر

للعام الدراسي ١٤٣٤/١٤٣٥ هـ — ٢٠١٣ / ٢٠١٤ م

الدور الأول - الفصل الدراسي الأول

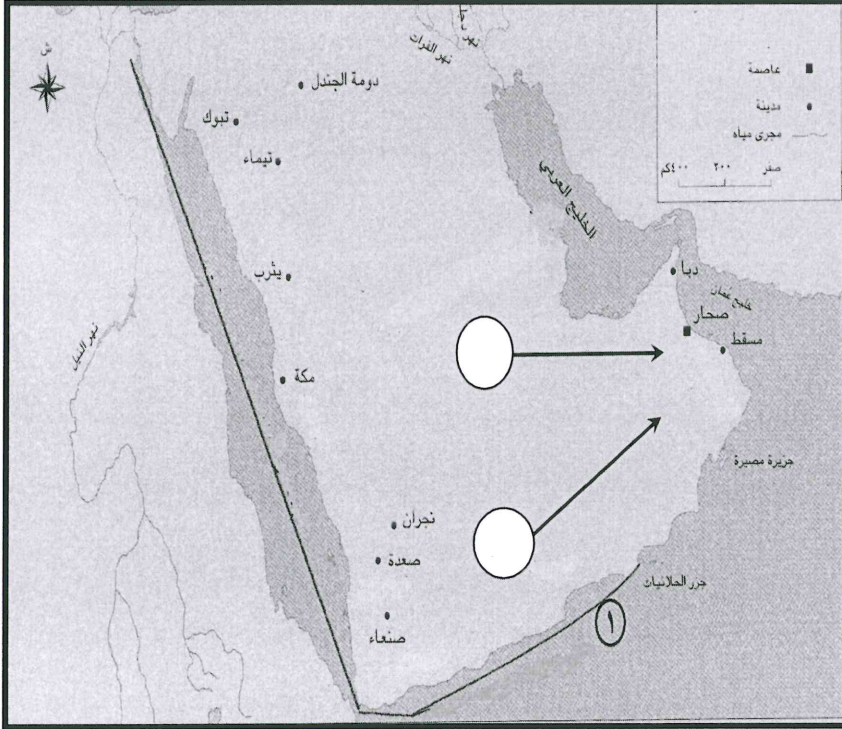
المادة : الدراسات الاجتماعية " هذا وطني "

السؤال الثالث:

أ) ادرس الخريطة الآتية جيداً، ثم
اجب عن الأسئلة التي تليها:

- ١- وقع مسار الهجرات الآتية بنقل الحرف المقابل للهجرة إلى السهم الصحيح على الخريطة:
أ- هجرة القحطانيين إلى عمان.
ب- هجرة العدنانيين إلى عمان

٢- حدد موقع مستوطنة رأس الحمراء باستخدام الرمز (Δ).



٣- ما المسطحات المائية التي يمر بها خط التجارة البحري المشار إليه بالرقم (١) ؟

.....
.....

ب) دلي لما يأتي:

١ - لم تكن بدايات التكوين الاجتماعي في بعض أنحاء عمان مستقرة في مكان واحد .

.....
.....
.....

٢ - رعاية الحكومة العمانية لذوي الإعاقة .

.....
.....
.....

(٦)

امتحان الصف الحادي عشر

للعام الدراسي ١٤٣٤/١٤٣٥ هـ — ٢٠١٣ / ٢٠١٤ م

الدور الأول - الفصل الدراسي الأول

المادة : الدراسات الاجتماعية " هذا وطني "

تابع السؤال الثالث:

ج (انسب المقولات الآتية للجغرافيين والرحالة:

الوصف	اسم الجغرافي أو الرحالة
صحار قسبة عمان فهي تقع على البحر وبها متاجر وتقصدها المراكب.
نزوى تقع في الجبال وهي مدينة كبيرة بناء بيوتها من الطين ويقع جامعها في وسط السوق.
ظفار مدينة تحيطها الصحراء ويقع قصر السلطان داخل المدينة.
مسقط مدينة من نواحي عمان على ساحل البحر.

١٢

السؤال الرابع:

أ (وضح ما يأتي:

١- الاستفادة الحضارية لعمان من موقعها بين حضارات مهمة.

.....
.....
.....
.....

٢- تأثير الحياة الاقتصادية على حجم الأسرة العمانية قديماً.

.....
.....
.....
.....

(٧)

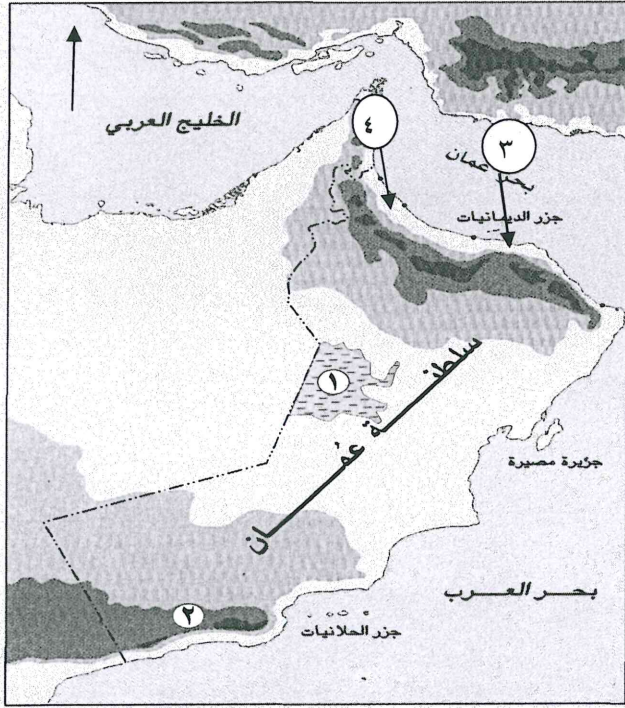
امتحان الصف الحادي عشر

للعام الدراسي ١٤٣٤/١٤٣٥ هـ — ٢٠١٣ / ٢٠١٤ م

الدور الأول - الفصل الدراسي الأول

المادة : الدراسات الاجتماعية " هذا وطني "

تابع السؤال الرابع:



ب) أمامك خريطة سلطنة عمان ادرسها جيدا ثم
اجب عن الأسئلة الآتية :

١- ارسم على الخريطة اتجاه الرياح التي ساعدت
العمانيين في الإبحار إلى سواحل شرقي أفريقيا.

٢- ما الرقم الذي يشير إلى المحافظة التي يقام
فيها سباق الخيل السلطاني السنوي ؟
.....

٣- قارن بين المنطقة (١) والمنطقة (٢) في الخريطة
من حيث: أ - المناخ السائد
ب - الشكل التضاريسي

المنطقة رقم (٢)	المنطقة (١)	
		المناخ السائد
		الشكل التضاريسي


ج) ما أوجه الشبه والاختلاف بين سهل جريب وسهل الباطنة؟

أوجه الاختلاف	أوجه الشبه

نموذج إجابة امتحان الصف الحادي عشر
للعام الدراسي ١٤٣٤/١٤٣٥ هـ - ٢٠١٣/٢٠١٤ م
الدور الأول - الفصل الدراسي الأول

المادة: الدراسات الاجتماعية (هذا وطني في السيرة الحضارية لعمان) الدرجة الكلية: (٦٠) درجة
تنبيهه: نموذج الإجابة في (٥) صفحات

أولاً: إجابة السؤال الموضوعي:

الدرجة: (٢٤) درجة		إجابة السؤال الأول		
الصفحة	الدرجة	الإجابة	البديل الصحيح	المفردة
٤٣	٢	وفرة المياه	ج	١
١٩	٢	الخيول	ب	٢
٢٥	٢	دائرة الاستواء	أ	٣
٣٧	٢	صور	أ	٤
٣١	٢	أودية	ج	٥
٤٧	٢		د	٦
٧٣	٢	تأخر سن الزواج	ج	٧
٣٤	٢	الصيف	د	٨
٥٩	٢	١	أ	٩
٧٦	٢	التبرع بالدم	د	١٠
٦٨	٢	مرتكزات المجتمع العماني	ب	١١
٥٦	٢	الأول	أ	١٢
٢٤ درجة		المجموع		

(٢)

تابع نموذج إجابة امتحان الصف الحادي عشر
للعام الدراسي ١٤٣٤/١٤٣٥ هـ - ٢٠١٣/٢٠١٤ م
الدور الأول - الفصل الدراسي الأول
المادة: الدراسات الاجتماعية (هذا وطني)

ثانياً: إجابة الأسئلة المقالية:

إجابة السؤال الثاني		الدرجة الكلية : (١٢) درجة	
الجزئية	المفردة	الإجابة الصحيحة	الدرجة
أ	١	<p>- أوقاف مخصصة للمساجد/ عمارة المساجد وخدماتها وتوفير مياه الشرب والإنارة والفراش والطلاء</p> <p>- أوقاف مخصصة لجماعة المسجد/ تقديم وجبات الفطور والسحور في شهر رمضان والوجبات الأخرى في بقية أيام السنة /توزيع النقود في يوم عرفة</p> <p>- أوقاف مخصصة للحارة (الحي)/ توزيع العوائد المالية على أهل الحارة / خدمات في الحارة كنظافة الطرق وإصلاح القناطر وأسوار الحارة وتجهيز التنور</p> <p>- أوقاف خاصة لكتابة الصكوك الشرعية/ شراء العصي للعميان/ تجهيزات الجنازة والمقابر</p> <p>- أوقاف خاصة للفقراء والأيتام</p> <p>- أوقاف تخصص للتعليم.</p> <p>" يكتفى باثنين لكل درجة "</p>	٢
	٢	<p>- سميت نسبة إلى عمان بن إبراهيم الخليل عليه السلام.</p> <p>- نسبة إلى قبيلة قحطانية في اليمن.</p> <p>- نسبة إلى وادي في اليمن يسمى عمان.</p> <p>" يكتفى باثنين لكل درجة "</p>	٢
ب	١	<p>مرور السلطنة بأحداث جيولوجية كبيرة / بفعل العوامل الأرضية والعناصر الطبيعية التي عملت على تشكيل سطح الأرض في عمان / وجود تكوينات جيولوجية تحتوي على معظم صخور القشرة الأرضية والتباينات الجيولوجية .</p> <p>"يكتفى بتعلييل واحد"</p>	٢
	٢	<p>تعد الأمطار المصدر الوحيد لإمداد السلطنة بالمياه/ تتصف الأمطار في السلطنة بأنها شحيحة وغير منتظمة/ كما تتصف بالفجائية والغزارة والبقعية والتباين الزمني والمكاني/ مرور السلطنة بفترات جفافاً طويلة.</p> <p>"يكتفى بتعلييل واحد"</p>	٢

(٣)

تابع نموذج إجابة امتحان الصف الحادي عشر
للعام الدراسي ١٤٣٤/١٤٣٥ هـ - ٢٠١٣/٢٠١٤ م

الدور الأول - الفصل الدراسي الأول
المصادة: الدراسات الاجتماعية (هذا وطني)

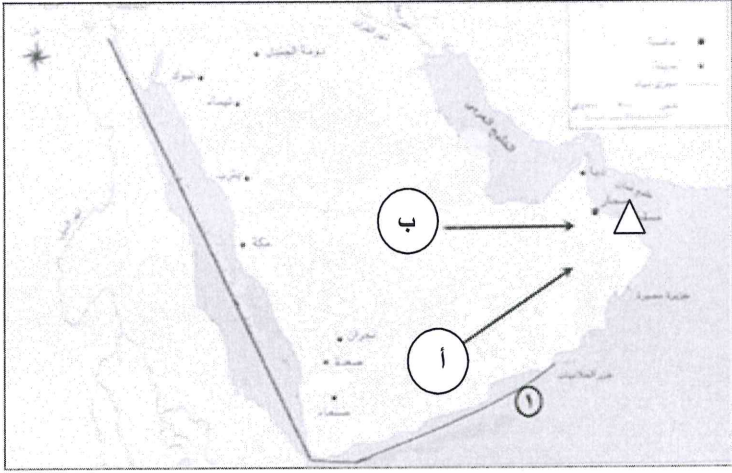
تابع ثانياً: إجابة الأسئلة المقالية:

تابع إجابة السؤال الثاني

٥٦-٥٥	٢	المصدر الصين	المستورد اللبان والتمور	١	ج
"لكل مفردة نصف درجة"					
٥٢	٢	الحضارة سومر الهند	الوسيط دلمون (البحرين) مجان (عمان)	٢	
الحضارة مجان بابل					

الدرجة الكلية: (١٢) درجة

إجابة السؤال الثالث

الصفحة	الدرجة	الإجابة الصحيحة	المفردة	الجزئية
٦١	١	 <p>١- أ- الإجابة على الخريطة ب- الإجابة على الخريطة ٢- الإجابة على الخريطة ٣- بحر العرب/ والبحر الاحمر / المحيط الهندي/ خليج عدن . " يكتفى بواحد وله درجة "</p>		أ
٤٨	١			
٥٣	١			
	١			
٦٦	٢	وجود مكتشفات في أماكن كثيرة لم تعد الآن مأهولة بالسكان. "أو ما يفيد المعنى"	١	
٨٢	٢	توفير الأجهزة التعويضية اللازمة لهم/ دعم البرامج الرياضية لذوي الإعاقة/ توفير فرص عمل لهم/ برنامج التأهيل المجتمعي/ تأسيس مراكز الوفاء لتأهيل الأطفال المعوقين. " يكتفى بواحد وله درجتان "	٢	ب

(٤)

تابع نموذج إجابة امتحان الصف الحادي عشر
للعام الدراسي ١٤٣٤/١٤٣٥ هـ - ٢٠١٣/٢٠١٤ م
الدور الأول - الفصل الدراسي الأول
المادة: الدراسات الاجتماعية



ثانياً: إجابة الأسئلة المقالية:

تابع إجابة السؤال الثالث					
الصفحة	الدرجة	الإجابة الصحيحة		المفردة	الجزئية
١٧-١٩	٤	الوصف	اسم الرحالة والجغرافي	ج	
		صحار قصبه عمان فهي تقع على البحر وبها متاجر وتقصدها المراكب.	الإصطخري		
		نزوى تقع في الجبال وهي مدينة كبيرة بناء بيوتها من الطين ويقع جامعها في وسط السوق.	المقدسي		
		ظفار مدينة تحيطها الصحراء ويقع قصر السلطان بداخلها.	ابن بطوطة		
		مسقط مدينة من نواحي عمان على ساحل البحر.	الحموي		
		"لكل مفردة درجة"			
إجابة السؤال الرابع					
الدرجة الكلية : (١٢) درجة					
٤٥	٢	اطلع أهلها على جوانب التقدم لتلك الحضارات وتمكنوا من الأخذ من إنجازاتها، وكان لهم دورا في نقل تلك الإنجازات إلى حضارات أخرى .		١	أ
٧٣	٢	اتسمت الأسرة بأنها كبيرة وممتدة لأن الحياة الاقتصادية كانت قائمة على عمل أفراد الأسرة في مهنة مشتركة في الصيد أو الرعي أو التجارة أو الصناعة .		٢	

يتبع/٥

(٥)

تابع نموذج إجابة امتحان الصف الحادي عشر
للعام الدراسي ١٤٣٤/١٤٣٥ هـ - ٢٠١٣/٢٠١٤ م
الدور الأول - الفصل الدراسي الأول
المادة: الدراسات الاجتماعية

تابع ثانياً: إجابة الأسئلة المقالية:

تابع إجابة السؤال الرابع

٥٨	١		١	ب									
٧٢	١	رقم (٣)	٢										
٣٤ - ٢٧	٢	<table border="1"> <thead> <tr> <th>المنطقة رقم (٢)</th> <th>المنطقة (١)</th> <th></th> </tr> </thead> <tbody> <tr> <td>موسمي (شبه موسمي)</td> <td>صحراوي (حار أو جاف)</td> <td>المناخ السائد</td> </tr> <tr> <td>جبلية (جبال)</td> <td>سبخة / منطقة حوضية مستوية السطح منخفضة المنسوب عما يجاورها من أراضي.</td> <td>الشكل التضاريسي</td> </tr> </tbody> </table> <p>"لكل نصف درجة"</p>	المنطقة رقم (٢)	المنطقة (١)		موسمي (شبه موسمي)	صحراوي (حار أو جاف)	المناخ السائد	جبلية (جبال)	سبخة / منطقة حوضية مستوية السطح منخفضة المنسوب عما يجاورها من أراضي.	الشكل التضاريسي	٣	
المنطقة رقم (٢)	المنطقة (١)												
موسمي (شبه موسمي)	صحراوي (حار أو جاف)	المناخ السائد											
جبلية (جبال)	سبخة / منطقة حوضية مستوية السطح منخفضة المنسوب عما يجاورها من أراضي.	الشكل التضاريسي											
٣٤ + ٢٩	٢ + ٢	<table border="1"> <thead> <tr> <th>اوجه الاختلاف</th> <th>اوجه التشابه</th> </tr> </thead> <tbody> <tr> <td>سهل الباطنة أطول وأكبر مساحة من سهل جرييب/ سهل جرييب يتعرض لرياح موسمية/ ويتميز بطقس معتدل صيفا / وتجري فيه مياه العيون/ تنتشر زراعة جوز الهند في جرييب وزراعة النخيل في سهل الباطنة/ الباطنة في الشمال وجرييب في الجنوب.</td> <td>سهول ساحلية/كونتها إرسابات فيضية/ زراعية / ظهور مدن سكنية وصناعية / مناخ حار شبه جاف.</td> </tr> <tr> <td>"يكتفى باثنين لكل درجة"</td> <td>"يكتفى باثنين لكل درجة"</td> </tr> </tbody> </table>	اوجه الاختلاف	اوجه التشابه	سهل الباطنة أطول وأكبر مساحة من سهل جرييب/ سهل جرييب يتعرض لرياح موسمية/ ويتميز بطقس معتدل صيفا / وتجري فيه مياه العيون/ تنتشر زراعة جوز الهند في جرييب وزراعة النخيل في سهل الباطنة/ الباطنة في الشمال وجرييب في الجنوب.	سهول ساحلية/كونتها إرسابات فيضية/ زراعية / ظهور مدن سكنية وصناعية / مناخ حار شبه جاف.	"يكتفى باثنين لكل درجة"	"يكتفى باثنين لكل درجة"	ج				
اوجه الاختلاف	اوجه التشابه												
سهل الباطنة أطول وأكبر مساحة من سهل جرييب/ سهل جرييب يتعرض لرياح موسمية/ ويتميز بطقس معتدل صيفا / وتجري فيه مياه العيون/ تنتشر زراعة جوز الهند في جرييب وزراعة النخيل في سهل الباطنة/ الباطنة في الشمال وجرييب في الجنوب.	سهول ساحلية/كونتها إرسابات فيضية/ زراعية / ظهور مدن سكنية وصناعية / مناخ حار شبه جاف.												
"يكتفى باثنين لكل درجة"	"يكتفى باثنين لكل درجة"												

الدرجة الكلية ٦٠ درجة

أنتهى نموذج الإجابة