

بِسْمِ اللَّهِ الرَّحْمَنِ الرَّحِيمِ
" رَبِّهِ أَفْرَغْ لِي حَذْرِي وَيَسِّرْ لِي أَمْرِي "



المديرية العامة للتربية والتعليم لمحافظة الظاهرة
دائرة التقويم التربوي

امتحان نهاية الفصل الدراسي الأول - الدور الأول - العام الدراسي ٢٠١٤ / ٢٠١٥ م

الصف: السابع المادة : الدراسات الاجتماعية الزمن : ساعة ونصف الدرجة : ٤٠ درجة

تنبيه :

- الأسئلة في (٥) صفحات .
- الإجابة في نفس الورقة .

| رقم السؤال | الدرجة بالأرقام | الدرجة بالحروف | اسم المصحح | توقيعه |
|---------------|-----------------|----------------|------------|--------|
| ١ | | | | |
| ٢ | | | | |
| ٣ | | | | |
| ٤ | | | | |
| المجموع الكلي | ٤٠ | | | |

اسم الطالب /

الصف / الشعبة () الرقم ()

المدرسة /

ضع دائرة حول الحرف الدال على الإجابة الصحيحة من بين البدائل المعطاة :

١) من منجزات العصر البرونزي استخدام الأدوات المشار إليها بالرمز :



(د)



(ج)




(ب)



(أ)

٢) يعود تاريخ المقابر في الصورة التي أمامك إلى الألف .. ق.م :



(ب) الثانية

(أ) الأولى

(د) الرابعة

(ج) الثالثة

٣) يبلغ سكان إحدى القرى ٣٠٠٠ نسمة وعدد العاملين فيها ١٥٠٠ نسمة ، فإن نسبة الإعالة لهذه القرية تبلغ :

(د) ٢٠٠%

(ج) ١٥٠%

(ب) ١٠٠%

(أ) ٥٠%

٤) تكرر حدوث المجاعات في بعض الدول النامية يؤدي إلى ظهور ما يسمى :

(أ) سوء التغذية (ب) حلقة الفقر (ج) مشكلة الجوع (د) مشكلة الغذاء

٥) تم اجراء التعداد الثالث للسكان في سلطنة عمان في عام :

(د) ٢٠١٣م

(ج) ٢٠١٠م


(ب) ٢٠٠٣م

(أ) ١٩٩٣م

٦) جميع الصور التالية من مقومات الصحة الجيدة ما عدا :



(د)



(ج)



(ب)



(أ)

٧) تصنف المرافق التالية ضمن الممتلكات العامة ما عدا :

(د) المساجد

(ج) الحدائق

(ب) المحاكم

(أ) المنازل

٨) يقصد بنظام السير على الطرقات سواء للمركبات أم للمشاة :

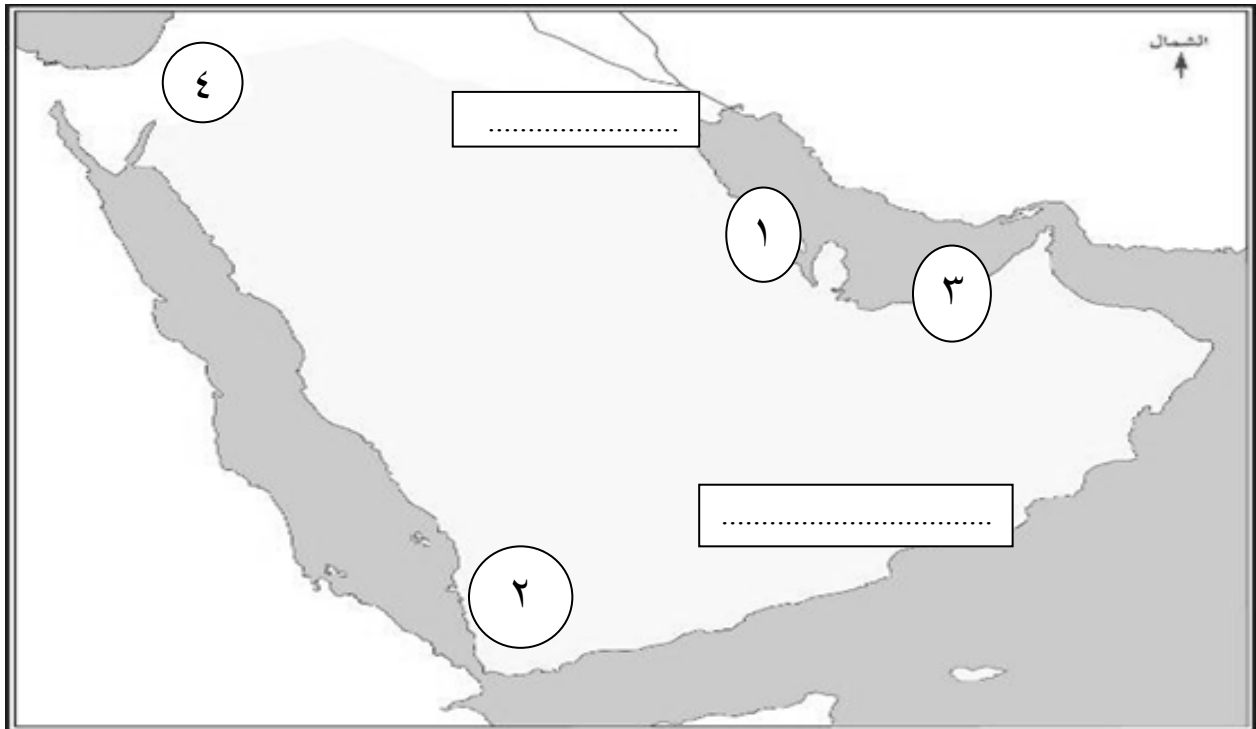
(د) المرور

(ب) السلامة المرورية

(ج) الأمن

السؤال الثاني : (٨ درجات)

١) ادرس الخريطة التالية جيدا ثم أجب عن الأسئلة التالية :



- أ) موقع أثري عثر فيه على آثار تنتمي إلى حضارة أم النار يشار إليه بالرقم (.....)
ب) مقبرة عالي توجد في الموقع المشار إليه بالرقم (.....)
ج) حضارة تقع في أقصى جنوب غربي شبه الجزيرة العربية يشار إليها بالرقم (.....)
د) اكتب على الخريطة موقع خور روري الأثري .

٢) (تعددت الأسماء التي عرفت بها عمان قديما نتيجة لارتباطها بالحضارات الأخرى المجاورة لها..
في ضوء هذه العبارة أكمل الجدول التالي :

| م | اسم الحضارة | الاسم التاريخي لعمان |
|---|-------------|----------------------|
| أ | الآشوريون | |
| ب | الأكاديون | |
| ج | | مزون |

٣) عرف مفهوم الانفجار السكاني ؟

.....

السؤال الثالث (٨ درجات) :

(١) ادرس الجدول التالي جيدا ثم أجب عن الأسئلة التالية :

| المحافظة | إجمالي السكان | المساحة / كم ^٢ | الكثافة السكانية نسمة / كم ^٢ |
|----------|---------------|---------------------------|---|
| مسقط | ٧٧٥٨٧٨ | ٣٥٠٠ | ٢٢١ , ٧ |
| ظفار | ٧٢٩٢٤٩ | ٩٩٣٠٠ | ٧ , ٤ |
| الباطنة | ٧٧٢٢٤٩ | ١٢٥٠٠ | ٦١ , ٨ |
| مسندم | ٣١٤٢٥ | ١٨٠٠ | |

(أ) احسب الكثافة السكانية لمحافظة مسندم باستخدام القانون التالي :

(جملة عدد السكان في منطقة ما (نسمة) ÷ المساحة الكلية للمنطقة كم^٢)

.....

(ب) رتب المحافظات حسب الكثافة السكانية لكل منها .

.....

.....

(ج) هل توجد علاقة بين كثافة السكان والمساحة فسر إجابتك .

.....

.....

(٢) علل لما يلي :

(أ) يفضل الإنسان العيش في المناطق السهلية على المناطق الجبلية .

.....

.....

(ب) محافظة مسقط أكثر محافظات السلطنة استقبالا للمهاجرين .

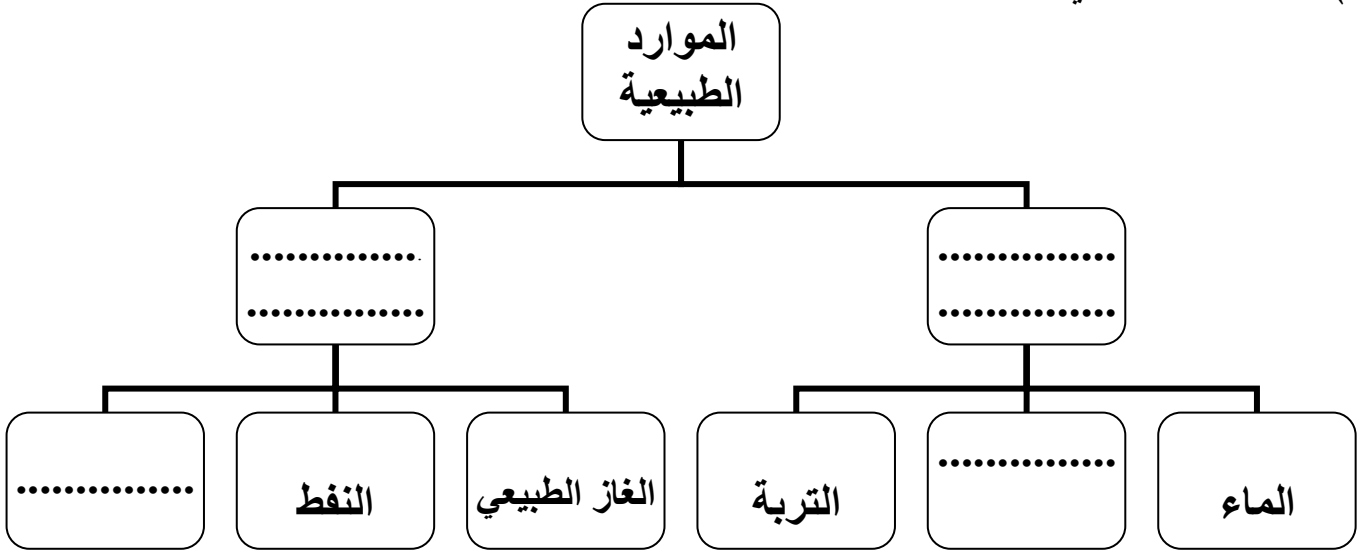
.....

.....

.....

تابع السؤال الثالث:

٣ (أكمل المخطط الذي أمامك :



السؤال الرابع : (٨ درجات)

١ (أجب على جميع الأسئلة التالية :

حدد نوع التصرف الصائب والتصرف الخاطئ فيما يلي بوضع إشارة \checkmark أو \times في الفراغات :

| م | السلوكيات | صائب | خاطئ |
|---|---|------|------|
| أ | طالب يذهب للمدرسة قبل تناول وجبة الافطار صباحا . | | |
| ب | رب أسرة يصرف الدخل الشهري بالكامل في الأسبوع الثاني من الشهر . | | |
| ج | طالب يتأكد من إغلاق مفاتيح الكهرباء قبل الخروج من الفصل . | | |
| د | طفل صغير يركب في المقعد الأمامي للسيارة أثناء قيادة والده للسيارة . | | |

٢ (لو كنت (قائدا للسيارة) كيف تتصرف في المواقف التالية :

أ (الاقتراب من منطقة عبور المشاة .

.....

ب (الاتصال بالهاتف النقال أثناء قيادة السيارة .

.....

.....

تابع السؤال الرابع :

٣ (أ - اقرأ النص التالي من خطاب حضرة صاحب الجلالة السلطان قابوس بن سعيد المعظم يحفظه الله في سيح الخيرات، ثم أجب عن الأسئلة التالية:

(يجب أن نعلم الأجيال معنى الادخار ومعنى أن ننفق وفق حاجتنا.....)

١ (ما أهم الأفكار التي احتوتها مقولته ؟

.....
.....

٢ (ما النتائج التي تتوقعها من تطبيق الفكرة ؟

.....
.....

ب (أدرس العبارة التالية جيدا ثم أجب عن السؤال التالي :

(يمثل الانسان أحد أكبر العوامل المهمة في تدهور البيئة وتلوثها)

صنف الدول الغنية والدول الفقيرة من حيث تهديدها للبيئة :

| المكان | الدول المسؤولة عن التهديد |
|-----------------------------------|---------------------------|
| البيئة البحرية | |
| الأراضي الزراعية والحياة النباتية | |

،، انتهت الأسئلة مع تمنياتنا للجميع بالتوفيق والنجاح ،،

سلطنة عمان

وزارة التربية والتعليم

المديرية العامة للتربية والتعليم بمحافظة الظاهرة


دائرة التقويم التربوي

نموذج إجابة امتحان نهاية الفصل الدراسي الأول - الدور الأول - العام الدراسي ٢٠١٤ / ٢٠١٥ م

الصف : السابع | المادة الدراسات الاجتماعية | الزمن : ساعة ونصف | الدرجة : ٤٠ درجة

لكل مفردة درجتان

إجابة السؤال الأول : (١٦)

| الدرجة | رقم الصفحة | الإجابة | رمز الإجابة | رقم المفردة |
|---------|------------|--|-------------|-------------|
| ٢ | ١٥ |  | أ | ١ |
| ٢ | ٢٣ | الثالثة | ج | ٢ |
| ٢ | ٤٥ | ١٠٠% | ب | ٣ |
| ٢ | ٦٧ | حلقة الفقر | ب | ٤ |
| ٢ | ٤٠ | ٢٠١٠ م | ج | ٥ |
| ٢ | ٧٧ |  | ج | ٦ |
| ٢ | ٨٧ | المنازل | أ | ٧ |
| ٢ | ٨٨ | المرور | د | ٨ |
| ١٦ درجة | | مجموع الدرجات | | |

نموذج إجابة امتحان نهاية الفصل الدراسي الأول - الدور الأول - العام الدراسي ٢٠١٤ / ٢٠١٥ م

| رقم الصفحة | الدرجة | الإجابة |
|------------|------------|--|
| | | إجابة السؤال الثاني (٨ درجات) |
| | | ١ : |
| ٢٢ | درجة واحدة | أ : (٣) |
| ٣٠ | درجة واحدة | ب : (١) |
| ١٧ | درجة واحدة | ج : (٢) |
| ٢٢ | درجة واحدة | د : كتابتها في الفراغ الصحيح في عمان . |
| | | ٢ : |
| ٢٥ | درجة واحدة | أ : الآشوريون (سفن الناس) |
| ٢٥ | درجة واحدة | ب : الأكاديون (بلاد الفضة) |
| ٢٦ | درجة واحدة | ج : (الفرس) مزون |
| | | ٣ : |
| ٤٢ | درجة واحدة | الانفجار السكاني (زيادة أعداد السكان بصورة كبيرة تفوق الزيادة في الموارد الطبيعية) |

| رقم الصفحة | الدرجة | الإجابة |
|------------|--------------------|--|
| | | إجابة السؤال الثالث : (٨ درجات) |
| | | ١ : |
| ٦٢ / ٦٣ | درجة واحدة | أ : الكثافة السكانية لمحافظة مسندم = $31425 \div 1800 = 17,5$ نسمة / كيلو متر مربع . |
| | درجتان لكل مفردة | ب : مسقط ، الباطنة ، مسندم ، ظفار (يعطى الطالب الدرجة على الترتيب الصحيح للمحافظة في مكانها حسب الترتيب الموضح) |
| ٦٣ | نصف درجة | ج : نعم ، توصف المناطق المزدحمة بالسكان بأنها مناطق ذات كثافة سكانية عالية ، أما المناطق قليلة السكان فتوصف بأنها ذات كثافة سكانية منخفضة ، وتزداد الكثافة السكانية في المناطق ذات المساحة الصغيرة وتقل في المناطق ذات المساحة الكبيرة . |
| ٦١ | درجة واحدة | (أو ما يفيد المعنى حسب تعبير الطالب) |
| ٥٩ | درجة واحدة | ٢ : |
| | | أ : نظرا لسهولة الوصول إليها ، وملائمتها لبناء المساكن وقيام الزراعة . |
| ٥٦ | درجة واحدة | ب : توفر فرص العمل ، وتوفير خدمات صحية وتعليمية واجتماعية في محافظة مسقط أكثر من غيرها من المحافظات . |
| | | ٣ : |
| | درجتان | • موارد متجددة |
| ٦٦ | لكل مفردة نصف درجة | • موارد غير متجددة |
| | | • الهواء |
| | | • المعادن |

نموذج إجابة امتحان نهاية الفصل الدراسي الأول - الدور الأول - العام الدراسي ٢٠١٤ / ٢٠١٥ م

| رقم الصفحة | الدرجة | الإجابة |
|------------|-----------------------|---|
| | | إجابة السؤال الرابع (٨ درجات) |
| | | ١ : |
| ٧٧ | درجتان | أ : × خاطئ |
| | | ب : × خاطئ |
| ٨٥ | لكل مفردة نصف درجة | ج : √ صائب |
| ٩٠ | | د : × خاطئ |
| | | ٢ : |
| ٨٩ | درجة واحدة | أ : التخفيف من السرعة والتوقف للسماح للمشاة بالمرور . |
| ٩٠ | درجة واحدة | ب : التوقف عند الحاجة لاستخدام الهاتف النقال . |
| | | ٣ : |
| ٧٥ | درجة واحدة | أ - ١ : تعليم الأبناء والأجيال القادمة الادخار ، والانفاق وفق الحاجة . |
| | درجة واحدة | ٢ : توفير أموال تساعد الأسرة على الانفاق عند الضرورة ، واستثمارها في بعض المشروعات التجارية والصناعية . |
| ٦٩ | درجة واحدة | ب (البيئة البحرية (الدول الغنية) |
| | درجة واحدة | • الأراضي الزراعية والحياة النباتية (الدول الفقيرة) |
| | | نهاية نموذج الإجابة |