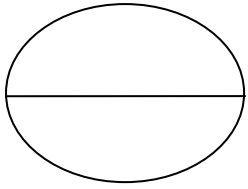




امتحان مادة الدراسات الاجتماعية للصف الثامن

الفصل الدراسي الأول - الدور الأول

سلطنة عمان
وزارة التربية والتعليم
إدارة التربية والتعليم
بمحافظة الوسطى



اسم الطالب :	العام الدراسي : ٢٠١٥/٢٠١٦م
الزمن : ساعة ونصف	تنبيه الأسئلة في (٤) ورقات

السؤال الأول : أختَر الإجابة الصحيحة من بين البدائل المعطاة فيما يأتي :-

(١) كان الفضل للعُمانيين في إدخال صناعة الصابون لأول مرة في
(أ) ممباسا (ب) ماليندي (ج) الكونغو (د) البحيرات الأستوائية

(٢) "سلطنة عمان دولة عربية إسلامية مستقلة ذات سيادة تامة عاصمتها مسقط"
تمثل هذه العبارة أحد المواد الواردة في باب
(أ) المبادئ الموجهة (ب) الدولة و نظام الحكم (ج) مجلس عمان (د) القضاء

(٣) من القصور التي شيّدت في عهد دولة البوسعيد في مسقط
(أ) المتوني (ب) العجائب (ج) بيت العلم (د) بيت الفلج

(٤) حينما يشير السهم إلى الشرق في جهاز دوار الرياح فإن الرياح تكون قادمة من
(أ) الشمال (ب) الجنوب (ج) الشرق (د) الغرب



(٥) نوع المطر في الصورة التي أمامك من الأمطار
(أ) الإعصارية (ب) الموسمية
(ج) التضاريسية (د) التصاعدية

(٦) أنشأ المجلس الإستشاري و الذي تتطور إلى مجلس الشورى في عام
(أ) ١٩٧٠ (ب) ١٩٨٣ (ج) ١٩٩١ (د) ١٩٩٧

(٧) تأسست المطبعة السلطانية بشرقي إفريقيا في عهد السيد
(أ) حمد بن سعيد (ب) سلطان بن أحمد (ج) سعيد بن سلطان (د) برغش بن سعيد

(٨) تستقبل الأرض حوالي من الاشعاع الشمسي
(أ) ٤٥% (ب) ٥٠% (ج) ٥٥% (د) ٦٠%

السؤال الثاني :-

أولاً:-

فسر ما يأتي :-

(١) زيادة الحركة السياحية في محافظة ظفار خلال فصل الصيف .

.....
.....
.....

(٢) الأشعة العمودية أشد حرارة من الأشعة المائلة.

.....
.....
.....

(٣) الإهتمام بمشاريع التشجير و زيادة المساحات الخضراء في المدن و التجمعات السكانية.

.....
.....

ثانياً :-

صنف البضائع الآتية التي كانت تحملها السفن العمانية بين عمان و الهند
(خشب الصندل – الأرز – اللؤلؤ – الصوف – المسك – اللبان – الأعشاب الطبية – البخور)

(البضائع من الهند إلى عمان) الواردات	(البضائع من عمان إلى الهند) الصادرات
.....

ثالثاً :-

ما الهدف من كل من :-

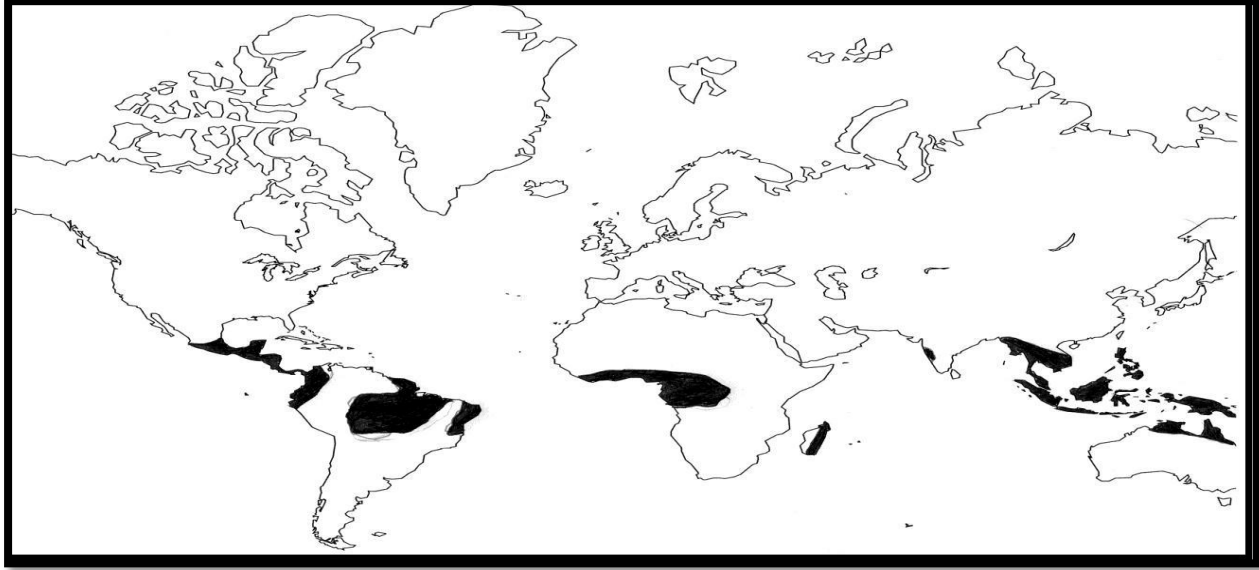
(١) الجولات السامية التي يقوم بها حضرة صاحب الجلالة السلطان قابوس بن سعيد المعظم حفظه
الله و رعاه.

.....
.....
.....

(٢) التعليم

.....
.....
.....

السؤال الثالث :-
أولاً:- من الخريطة أكمل ما يأتي :-



- ١) الاقليم المناخي الذي تمثله الخريطة
٢) خصائص هذا الاقليم من حيث:-
درجة الحرارة.....
الأمطار.....
٣) استخرج من الخريطة قارة لا تظهر به خصائص هذا الاقليم قارة

ثانياً:-

- ١) فرق بين مجلس الدولة و مجلس الشوري من حيث طريقة تعيين الاعضاء؟
مجلس الدولة.....
مجلس الشورى.....
٢) ما أهمية التنظيم الإداري؟
.....
.....
.....

ثالثاً :-

أكمل الجدول بكتابة اسم الشخصية التي تنسب إليها العمل

الشخصية العمانية التاريخية	أهم الأعمال و الأحداث
	شيد حصن البريمي و زوده بالمدافع
	توقيع معاهدة تجارية مع شركة الهند الشرقية عام ١٧٩٨
	المبعوث العماني للولايات المتحدة الامريكية عام ١٨٤٠
	شيد قصر العجائب في زنجبار

السؤال الرابع :-

أولاً:-

قارن بين الرياح الموسمية و الرياح المحلية

الرياح المحلية	الرياح الموسمية	وجه المقارنة
.....	المفهوم
.....	أمثلة عليها

ثانياً :-

"يعد المؤرخون عهد السيد سعيد بن سلطان الفترة الذهبية في التاريخ العماني الحديث"
دلل على ذلك ؟

.....
.....
.....
.....
.....

ثالثاً :-

أكمل الجدول الآتي مع توضيح الحقوق و الواجبات العامة في النظام الأساسي للدولة

الواجبات	الحقوق
.....

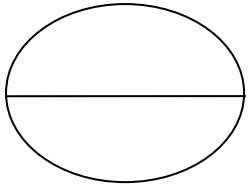
" انتهت الأسئلة مع تمنياتنا بدوام التوفيق والنجاح "



امتحان مادة الدراسات الاجتماعية للصف الثامن

الفصل الدراسي الأول - الدور الأول

سلطنة عمان
وزارة التربية والتعليم
إدارة التربية والتعليم
بمحافظة الوسطى



اسم الطالب :	العام الدراسي : ٢٠١٥/٢٠١٦م
الزمن : ساعة ونصف	تنبيه الأسئلة في (٤) ورقات

السؤال الأول : أختَر الإجابة الصحيحة من بين البدائل المعطاة فيما يأتي :-

(١) كان الفضل للعُمانيين في إدخال صناعة الصابون لأول مرة في
(أ) ممباسا (ب) ماليندي (ج) الكونغو (د) البحيرات الأستوائية

(٢) "سلطنة عمان دولة عربية إسلامية مستقلة ذات سيادة تامة عاصمتها مسقط"
تمثل هذه العبارة أحد المواد الواردة في باب
(أ) المبادئ الموجهة (ب) الدولة و نظام الحكم (ج) مجلس عمان (د) القضاء

(٣) من القصور التي شيّدت في عهد دولة البوسعيد في مسقط
(أ) المتوني (ب) العجائب (ج) بيت العلم (د) بيت الفلج

(٤) حينما يشير السهم إلى الشرق في جهاز دوار الرياح فإن الرياح تكون قادمة من
(أ) الشمال (ب) الجنوب (ج) الشرق (د) الغرب



(٥) نوع المطر في الصورة التي أمامك من الأمطار
(أ) الإعصارية (ب) الموسمية
(ج) التضاريسية (د) التصاعدية

(٦) أنشأ المجلس الإستشاري و الذي تتطور إلى مجلس الشورى في عام
(أ) ١٩٧٠ (ب) ١٩٨٣ (ج) ١٩٩١ (د) ١٩٩٧

(٧) تأسست المطبعة السلطانية بشرقي إفريقيا في عهد السيد
(أ) حمد بن سعيد (ب) سلطان بن أحمد (ج) سعيد بن سلطان (د) برغش بن سعيد

(٨) تستقبل الأرض حوالي من الاشعاع الشمسي
(أ) ٤٥% (ب) ٥٠% (ج) ٥٥% (د) ٦٠%

السؤال الثاني :-

أولاً:-

فسر ما يأتي :-

(١) زيادة الحركة السياحية في محافظة ظفار خلال فصل الصيف .

.....
.....
.....

(٢) الأشعة العمودية أشد حرارة من الأشعة المائلة.

.....
.....
.....

(٣) الإهتمام بمشاريع التشجير و زيادة المساحات الخضراء في المدن و التجمعات السكانية.

.....
.....

ثانياً :-

صنف البضائع الآتية التي كانت تحملها السفن العمانية بين عمان و الهند
(خشب الصندل – الأرز – اللؤلؤ – الصوف – المسك – اللبان – الأعشاب الطبية – البخور)

(البضائع من الهند إلى عمان) الواردات	(البضائع من عمان إلى الهند) الصادرات
.....

ثالثاً :-

ما الهدف من كل من :-

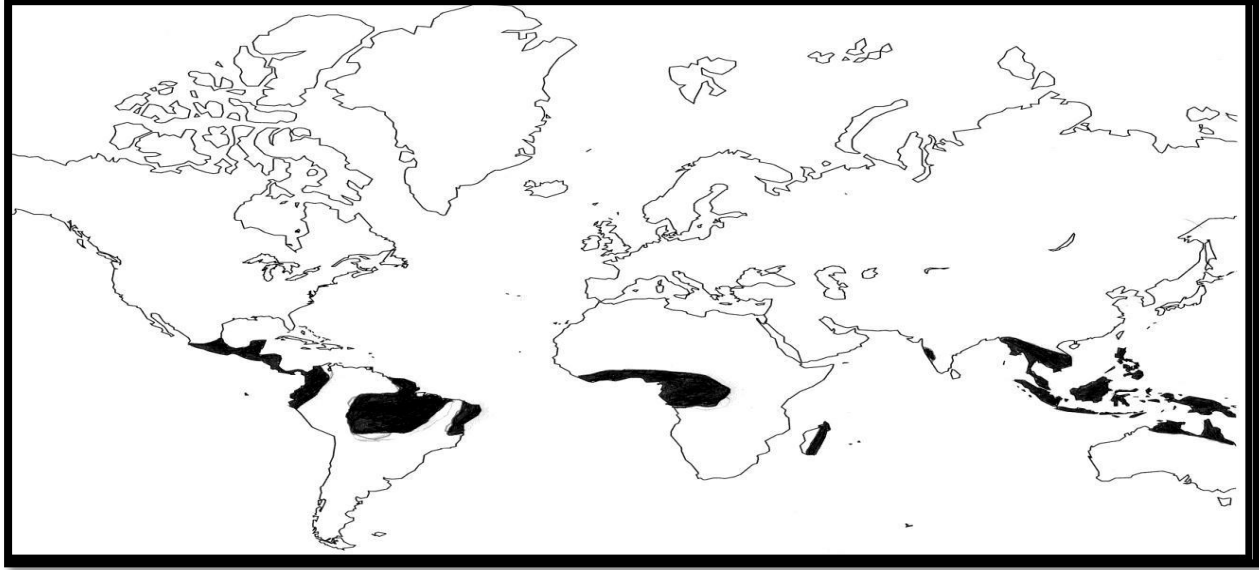
(١) الجولات السامية التي يقوم بها حضرة صاحب الجلالة السلطان قابوس بن سعيد المعظم حفظه
الله و رعاه.

.....
.....
.....

(٢) التعليم

.....
.....
.....

السؤال الثالث :-
أولاً:- من الخريطة أكمل ما يأتي :-



- ١) الاقليم المناخي الذي تمثله الخريطة
٢) خصائص هذا الاقليم من حيث:-
درجة الحرارة.....
الأمطار.....
٣) استخرج من الخريطة قارة لا تظهر به خصائص هذا الاقليم قارة

ثانياً:-

- ١) فرق بين مجلس الدولة و مجلس الشوري من حيث طريقة تعيين الاعضاء؟
مجلس الدولة.....
مجلس الشورى.....
٢) ما أهمية التنظيم الإداري؟
.....
.....
.....

ثالثاً :-

أكمل الجدول بكتابة اسم الشخصية التي تنسب إليها العمل

الشخصية العمانية التاريخية	أهم الأعمال و الأحداث
	شيد حصن البريمي و زوده بالمدافع
	توقيع معاهدة تجارية مع شركة الهند الشرقية عام ١٧٩٨
	المبعوث العماني للولايات المتحدة الامريكية عام ١٨٤٠
	شيد قصر العجائب في زنجبار

السؤال الرابع :-

أولاً:-

قارن بين الرياح الموسمية و الرياح المحلية

الرياح المحلية	الرياح الموسمية	وجه المقارنة
.....	المفهوم
.....	أمثلة عليها

ثانياً :-

"يعد المؤرخون عهد السيد سعيد بن سلطان الفترة الذهبية في التاريخ العماني الحديث"
دلل على ذلك ؟

.....
.....
.....
.....
.....

ثالثاً :-

أكمل الجدول الآتي مع توضيح الحقوق و الواجبات العامة في النظام الأساسي للدولة

الواجبات	الحقوق
.....

" انتهت الأسئلة مع تمنياتنا بدوام التوفيق والنجاح "