




السؤال الأول : ( ١٦ درجة )

ضع دائرة على الحرف الدال على الإجابة الصحيحة من بين البدائل المعطاة :

( ١ ) الجهاز الذي أمامك يستخدم في قياس :



( أ ) درجة الحرارة

( ب ) سرعة الرياح

( ج ) الضغط الجوي

( د ) نسبة الرطوبة

( ٢ ) يرجع بدء تاريخ الرصد الجوي المنتظم في سلطنة عمان لعام ١٩٤٢م في مطار :

( أ ) مصيرة ( ب ) مسقط ( ج ) صحار ( د ) صلالة

( ٣ ) من الرياح المحلية التي تنشأ بسبب الفروقات المحلية في درجات الحرارة والضغط

الجوي في شبه الجزيرة العربية :

( أ ) الخماسين ( ب ) السيروكو ( ج ) السولانو ( د ) السموم

( ٤ ) الأمام الذي بويع بالإمامة عام ١٧٤٤م وتوفي في الرستاق عام ١٧٨٣م هو :

( أ ) احمد بن سعيد ( ب ) ناصر بن مرشد ( ج ) سيف بن سلطان ( د ) سلطان بن مرشد

( ٥ ) قائد الحملة العسكرية للمنطقة المشار إليها بالرمز ( أ ) لتخليصها من سيطرة الفرس عام

١٧٧٥م :



( أ ) سلطان بن احمد

( ب ) احمد بن سعيد

( ج ) هلال بن احمد

( د ) سالم بن سلطان

تابع السؤال الأول :

٦) الحاكم الهندي ( سيبوا صاحب) الذي ارسل بهدية ثمينة الى الامام احمد بن سعيد تقديرا له لتأمين الطريق التجاري بين الهند وعمان كان يحكم منطقة :

أ ( بنجلور      ب ( مليبار      ج ( ممباي      د (جوارر

٧) الصورة التالية تشير الى احد المبادئ المواجهة لسياسة الدولة و هي :



أ (السياسية      ب (الاجتماعية

ج (الاقتصادية      د (الثقافية

٨)تشكل في نوفمبر عام ١٩٩١م كتطوير للمجلس الاستشاري الذي أنشيء عام ١٩٨٣:

أ ( مجلس الدولة      ب ( مجلس الشورى      ج ( مجلس عمان      د (مجلس الوزراء

السؤال الثاني : ( ٨ درجات )

١) عرف كلا من :

أ ( المدى الحراري:.....

.....

ب ( التكاثف :.....

.....

٢) بم تفسر:

أ ( تهب الرياح الدائمة على مناطق واسعة من العالم بصورة مستمرة طوال ايام السنه.

.....

.....

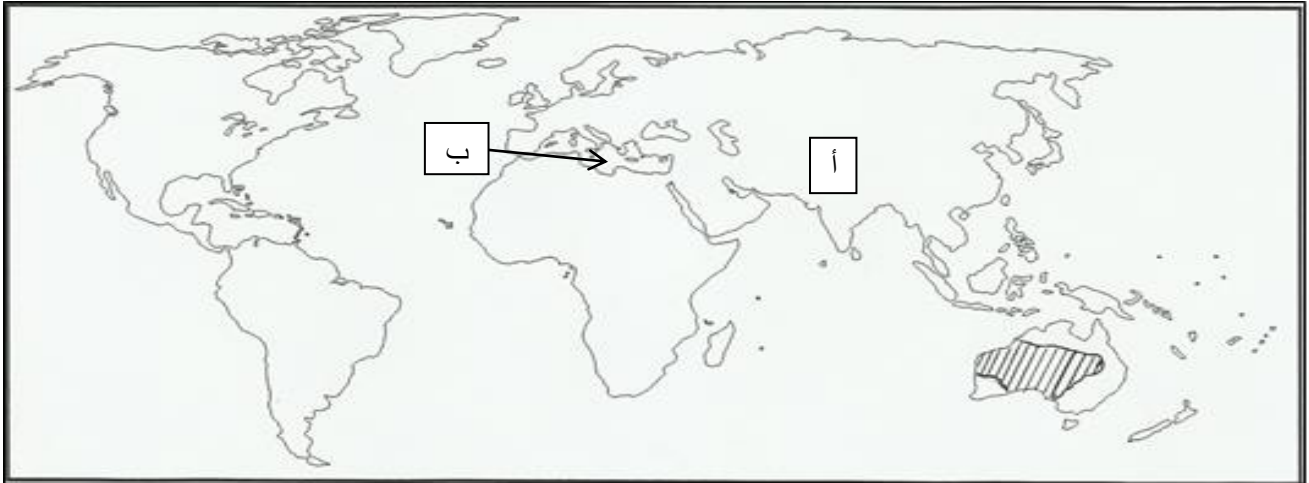
ب)الاهتمام بمشاريع التشجير و زيادة المساحات الخضراء في المدن والتجمعات السكانية .

.....

.....

تابع السؤال الثاني :

٣) أمامك خريطة العالم ادرسها جيدا ، ثم اجب عما يلي :



١) نوع الضغط الجوي في فصل الصيف على المنطقة المشار إليها بالرمز ( أ )

.....

٢) اسم الصحراء في المنطقة المضللة على الخريطة .

.....

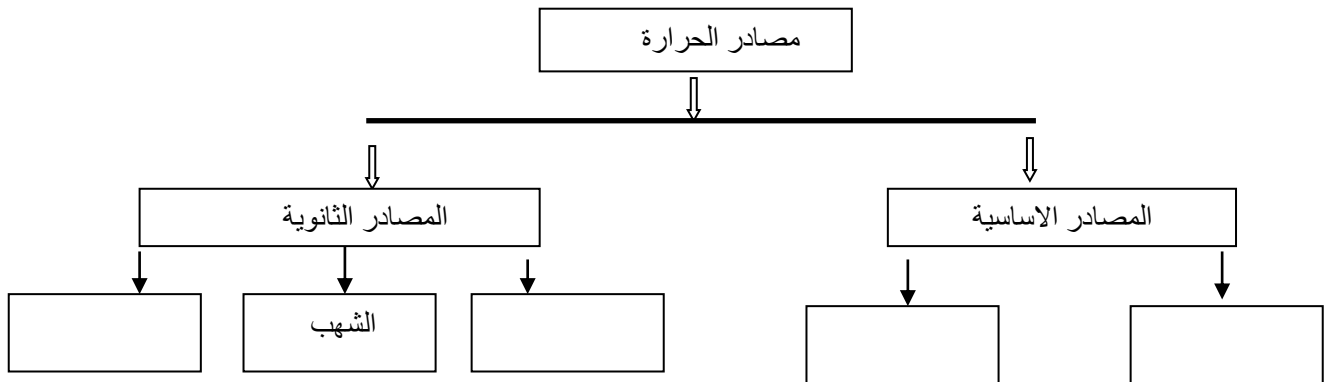
٣) نوع الاقليم المناخي في المناطق المظلة على البحر المشار اليه بالرمز (ب)

.....

٤) وقع على الخريطة المحيط الاطلسي في موقعه الصحيح .

السؤال الثالث: ( ٨ درجات )

١) أمامك شكل يوضح اهم مصادر الحرارة على الارض ادرسه جيدا ثم اكمل الشكل :



يتبع،،،

( ٣ )

تابع السؤال الثالث : .

(٢) اجب عمايلي

(أ) فسر يعتبر عهد السيد سعيد بن سلطان الفترة الذهبية في التاريخ العماني الحديث.

(ب) اذكر اثنين من الاجراءات التي اتخذها الامام احمد بن سعيد لجعل منطقة الخليج العربي والساحل العماني منطقة تجارية حرة؟

(٣) أقرأ النص التالي ثم اجب عن الأسئلة التي تليه:

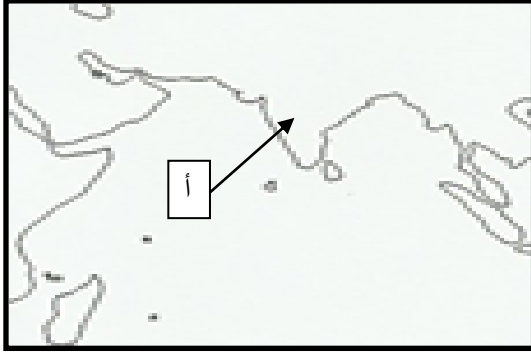
(( وصل الإمام أحمد الى بركاء كمحرر وعين فيها خلفان بن محمد البوسعيدي والياً ، وسعى إلى خنق حيوية الفرس بحرمان مسقط من دورها الاقتصادي، فقد توصل إلى تحويل كل الخطوط البحرية والتجارية نحو ميناء بركاء ، ناقلاً بذلك الغنى إلى المرفأ المحرر، ومهمشاً مرفأ مسقط الذي يحتله الفرس )) .

(أ) استنتج مظهراً من مظاهر التنظيم الاداري للدولة في عهد الامام احمد بن سعيد.

(ب) دلل على الحنكة الاقتصادية لدى الامام أحمد في حربه مع الفرس وتحرير مسقط.

السؤال الرابع : ( ٨ درجات )

١) امامك خريطة صماء للمحيط الهندي ادرسها جيدا ثم اجب عما يلي :



أ) ارسم خط سير الطريق التجاري من مسقط الى خليج البنغال .

ب ) اذكر اثنين من البضائع التي كانت تستوردها السفن العمانية من المنطقة المشار اليها برمز (أ) .

١..... ٢.....

٢) اجب عما يلي :

أ ) صنف العبارات التالية في الجدول.

(( الجنسية - الدفاع عن الوطن - الحرية الشخصية - المحافظة على الأموال العامة للدولة وممتلكاتها))

الواجبات	الحقوق

ب ) اجب عما يأتي:.

كيف تحافظ على الممتلكات العامة داخل مدرستك.

.....  
.....

٣) اقرأ العبارة التالية ثم اجب عن الاسئلة التالية

((إن الانسان هو أداة التنمية وصانعها وهو الى جانب ذلك هدفها وغايتها ))

أ ) من قائل هذه العبارة ؟.....

ب ) ماذا تستنتج من هذه العبارة . .....

.....

، ، انتهت الأسئلة مع تمنياتنا للجميع بالتوفيق والنجاح ، ،



نموذج إجابة امتحان للصف الثامن للدراسات الاجتماعية

الفصل الدراسي الاول - الدور الثاني

للعام الدراسي ٢٠١٥-٢٠١٦م

المادة: الدراسات الاجتماعية	تنبيه: النموذج في أربع صفحات
الدرجة الكلية: ٤٠ درجة	

إجابة السؤال الاول:.. موضوعي ١٦ درجات (لكل مفردة درجتان)

رقم المفردة	الحرف الدال على الاجابة	الاجابة الصحيحة	الدرجة	الصفحة
١	أ	درجة الحرارة	٢	٢٥
٢	د	صلاله	٢	١٨
٣	د	السموم	٢	٣٣
٤	أ	احمد بن سعيد	٢	٥٥
٥	ج	هلال بن احمد	٢	٥٦
٦	أ	بنجلور	٢	٧٢
٧	ب	الإجتماعية	٢	٨٨ الشكل (٥)
٨	ب	مجلس الشورى	٢	٩٦

تابع نموذج إجابة امتحان مادة الدراسات الاجتماعية للصف الثامن – الفصل الدراسي الاول  
- الدور الثاني للعام الدراسي ٢٠١٥-٢٠١٦م

إجابة السؤال الثاني:.. مقالتي ٨ درجات (يتكون من ٣ جزئيات)

رقم السؤال	المفردة	الإجابة الصحيحة	الدرجة	الصفحة
١	أ	الفرق بين أعلى درجة حرارة وأدنى درجة حرارة تسجلان خلال فترة زمنية معينة (اليوم او الشهر او السنة).	١	١٦
	ب	هو تحول بخار الماء الموجود في الهواء من حالة الغازية إلى الحالة السائلة، بسبب انخفاض درجة حرارة الهواء.	١	٣٧
٢	أ	بسبب وجود مراكز دائمة من الضغط الجوي المرتفع والمنخفض على سطح الأرض.	٢	٣٢
	ب	تعمل على تلطيف الجو بمنعها الاشعاع الشمسي من الاتصال المباشر مع سطح الأرض، كما تعمل أيضا على تكثيف بخار الماء في الهواء. (مع مراعاة اجابة الطالب)	٢	١٧
٣	١	ضغط منخفض	نصف درجة فقط	٣٣ الشكل ٢٤ ب
	٢	صحراء استراليا	نصف درجة فقط	٤٥ الشكل ٣٧
	٣	اقليم البحر المتوسط	نصف درجة فقط	٤٨ الشكل ٣٩
	٤	توقيع المحيط الاطلسي في الموقع الصحيح	نصف درجة فقط	٤٥ الشكل ٣٧
				



تابع نموذج إجابة امتحان مادة الدراسات الاجتماعية للصف الثامن – الفصل الدراسي الاول  
للعام الدراسي - الدور الثاني ٢٠١٥-٢٠١٦م

إجابة السؤال الثالث: \_\_. مقالي ٨ درجات (يتكون من ٣ جزئيات)

رقم السؤال	المفردة	الإجابة	الدرجة	الصفحة
١	-	 <pre> graph TD     A[مصادر الحرارة] --&gt; B[المصادر الثانوية]     A --&gt; C[المصادر الأساسية]     B --&gt; D[النافورات الحارة]     B --&gt; E[الشهب]     B --&gt; F[البراكين]     C --&gt; G[الإشعاع الأرضي]     C --&gt; H[الإشعاع الشمسي] </pre>	درجتين لكل مفردة نصف درجة	٢١
٢	أ	<p>-اتصافه بالتواضع -السياسة الدبلوماسية-عقلية تجارية-كون امبراطورية واسعة-كون اسطول بحري ضخم- طور الحياة الاقتصادية-اتخذمن زنجبار عاصمة ثانية -اهتم بالنواحي العمرانية</p> <p>(يكتفى بمفردتين فقط)</p>	درجتان	٦٠
٢	ب	<p>- تنظيم الحسابات المالية في المواني التجارية</p> <p>- اعد ترتيب النظام الجمركي على السفن والبضائع الداخلية والخارجية</p> <p>- توزيع المراكز التجارية</p> <p>( مطلوب فقط مفردتين )</p>	درجتان	٦٥
٣	أ	تعيين خلفان بن محمد واليا على بركاء	درجة	٥٧
	ب	تحويل الخطوط البحرية والتجارية نحو ميناء بركاء	درجة	٥٧

تابع نموذج إجابة امتحان مادة الدراسات الاجتماعية للصف الثامن – الفصل الدراسي الاول  
للعام الدراسي - الدور الثاني ٢٠١٥-٢٠١٦ م  
إجابة السؤال الرابع:.. مقالتي ٨ درجات (يتكون من ٣ جزئيات)

رقم السؤال	المفردة	الإجابة	الدرجة	الصفحة				
١	أ	رسم الخط على الخريطة 	درجة	٧٢ الشكل ١٥				
٢	ب	الارز والانسجة القطنية والصوف وخبث الصندل والمسك والكافور (مطلوب مفردتين فقط)	درجة لكل مفردة نص	٧٢				
٢	أ	<table border="1"> <thead> <tr> <th>واجبات</th> <th>حقوق</th> </tr> </thead> <tbody> <tr> <td>الدفاع عن الوطن المحافظة على الاموال العامة للدولة</td> <td>الجنسية و الحرية الشخصية</td> </tr> </tbody> </table>	واجبات	حقوق	الدفاع عن الوطن المحافظة على الاموال العامة للدولة	الجنسية و الحرية الشخصية	درجتان	٩١
واجبات	حقوق							
الدفاع عن الوطن المحافظة على الاموال العامة للدولة	الجنسية و الحرية الشخصية							
٩٠	ب	من خلال عدم العبث بمرفقات المدرسة المحافظة على الاثاث المدرسي (مع مراعاة اجابة الطالب)	درجتان	٩٠				
٣	أ	جلالة السلطان قابوس	درجة	٨٣				
٨٣	ب	ان المواطن يعد عنصرا مهما في تحقيق التقدم والتطور في السلطنة وهو قادر على ذلك من خلال تكاتفه وتعاونه مع الاخرين	درجة	٨٣				

انتهى نموذج الاجابة