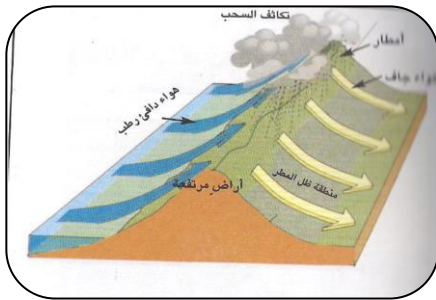


السؤال الأول : (١٦ درجة)

ضع دائرة على الحرف الدال على الإجابة الصحيحة من بين البدائل المعطاة :

- (١) أقصى مكان تتعامد عليه أشعة الشمس شمال دائرة الاستواء :
أ (مدار الجدي ب (مدار السرطان ج (القطب الشمالي د (القطب الجنوبي
(٢) المصدر الأول للحرارة على سطح الأرض :
أ (البراكين ب (الشهب ج (النافورات الحارة د (الشمس
(٣) نوع الأمطار الموضحة في الشكل الذي أمامك :



- أ (التصاعدية
ب (الإعصارية
ج (التضاريسية
د (الموسمية

(٤) توفي الإمام أحمد بن سعيد في مدينة :

- أ (الرستاق ب (نزوى ج (أدم د (صحار
٥ (البناء الموضح في الصورة يقع في جزيرة :



- أ (موريشيوس
ب (زنجبار
ج (سقطرى
د (مدغشقر

(٦) السفينة العمانية التي زارت ميناء مرسيليا الفرنسي عام ١٨٤٩م :

- أ (شاه علم ب (كارولين ج (فيكتوريا د (الرحماني
(٧) العام الميلادي الذي انطلقت فيه النهضة المباركة في سلطنة عمان عام :
أ (١٩٧٠م ب (١٩٧١م ج (١٩٧٢م د (١٩٧٣م

تابع السؤال الأول :

٨) باب من أبواب النظام الأساسي للدولة ورد فيه (سلطنة عمان دولة عربية إسلامية مستقلة ذات سيادة تامة ، عاصمتها مسقط) :

أ (الحقوق و الواجبات ب)المبادئ الموجهة ج)الدولة و نظام الحكم د) القضاء

السؤال الثاني : (٨ درجات)

أجب عن الأسئلة التالية :

١) عرف ما يلي :

أ. الضغط الجوي:

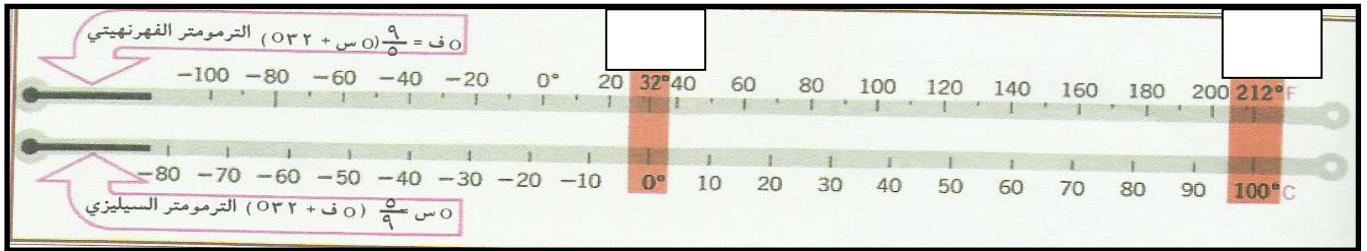
.....

ب . نقطة الندى:.....

.....

٢) أمامك شكل يوضح أحد الأنظمة المستخدمة في قياس أحد عناصر المناخ

ادرسه جيدا ، ثم أجب عما يلي :



أ . ما عنصر المناخ الذي يستخدم النظامين السابقين في قياسه ؟.....

ب . ضع أرقام المفردات التالية داخل المربع الصحيح في الشكل أعلاه:

١. درجة التجمد ٢ . درجة الغليان

٣) أجب عما يلي :

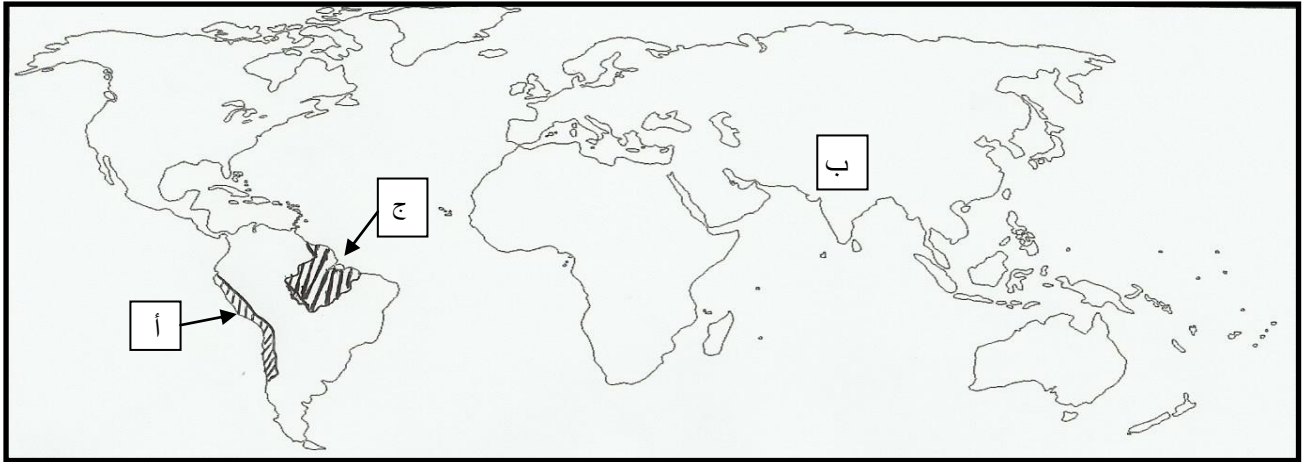
أ . علل :

..... سقوط الأمطار صيفا على محافظة ظفار جنوب سلطنة عمان .

.....

تابع : السؤال الثاني :

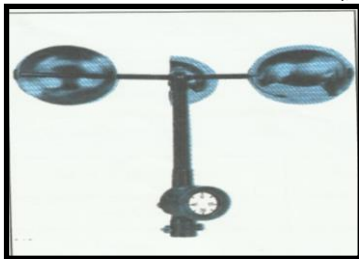
ب . أمامك خريطة العالم ادرسها جيدا ، ثم أجب عما يلي :



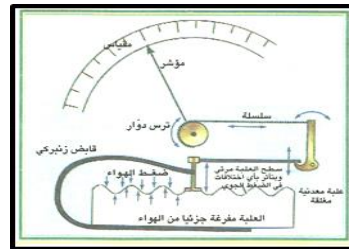
١. ارسم خط يوضح الموقع الصحيح لدائرة الاستواء في الخريطة .
٢. اسم الصحراء في المنطقة المظللة و المشار إليها بالرمز (أ) .
٣. نوع الضغط الجوي على المنطقة المشار إليها بالرمز (ب) في فصل الصيف.
- ٤ . فسر كثافة الغطاء النباتي في المنطقة المشار إليها بالرمز (ج) .

السؤال الثالث: (٨ درجات)

١ . أمامك شكلان ادرسهما ، ثم أكمل الجدول التالي :



(ب)



(أ)

وجه المقارنة	الجهاز (أ)	الجهاز (ب)
اسم الجهاز		
استخدام الجهاز		

تابع السؤال الثالث :

٢) اذكر واحد لكل مما يأتي :

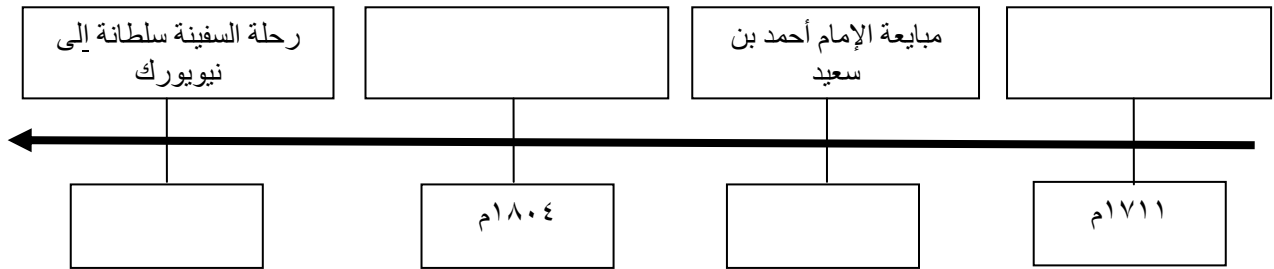
أ . عمل من أعمال الامام أحمد بن سعيد لتثبيت أركان الدولة .

ب . انجاز من انجازات السيد سعيد بن سلطان في مجال الزراعة .

٣) أجب عما يلي :

أ. رتب الأحداث و التواريخ الموجودة داخل المستطيل في المسطرة الزمنية التالية .

١٨٤٠ م - وفاة الإمام سلطان بن سيف الثاني - ١٧٤٤ م - السيد سعيد بن سلطان يتولى الحكم



ب . أمامك خريطة المحيط الهندي ادرسها جيدا ثم أجب

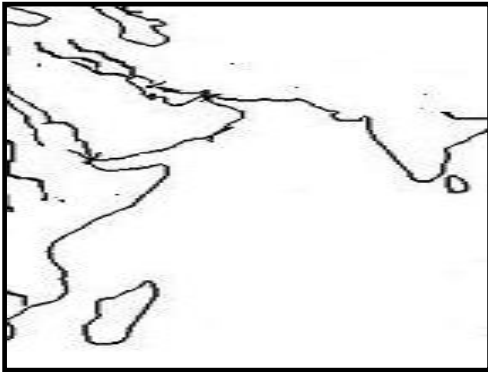
عما يلي :

١ . ظل امتداد الامبراطورية العمانية في شرق افريقيا

في عهد السيد سعيد بن سلطان في الخريطة .

٢ . ارسم سهما يوضح حركة السفن العمانية باتجاه

شرق افريقيا .



السؤال الرابع : (٨ درجات) أجب عن الاسئلة التالية :

١) صف العلاقة بين عمان والدولة الفارسية في عهد دولة البوسعيد .

تابع السؤال الرابع :

(٢)

أ / من النطق السامي (إن الأمم لا تتبنى إلا بسواعد أهلها ، و إن رقيها في مدارج الحضارة و التقدم لا يتم إلا عن طريق العلم و الخبرة و التدريب و التأهيل) في ضوء هذه العبارة . وضح دورك كمواطن للمساهمة في بناء وطنك .

.....
.....

ب / . اذكر اثنين مما يلي :

١ . واجبات المواطن تجاه الدولة .

.....
.....

٢ . شرطين من شروط عضوية مجلس الدولة .

.....
.....

٣) بماذا تنصح من يرفض الإدلاء بصوته في انتخابات مجلس الشورى .

.....
.....

،، انتهت الأسئلة مع تمنياتنا للجميع بالتوفيق والنجاح ،،

سلطنة عمان
وزارة التربية والتعليم
المديرية العامة للتربية والتعليم بمحافظة الظاهرة
دائرة التقويم التربوي

نموذج إجابة امتحان نهاية الفصل الدراسي الأول - الدور الأول - العام الدراسي ٢٠١٥/٢٠١٦م

الصف: الثامن	المادة: الدراسات الاجتماعية	الزمن: ساعة ونصف	الدرجة: ٤٠ درجة
--------------	-----------------------------	------------------	-----------------

النموذج في أربع صفحات

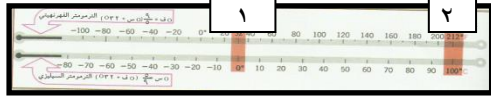
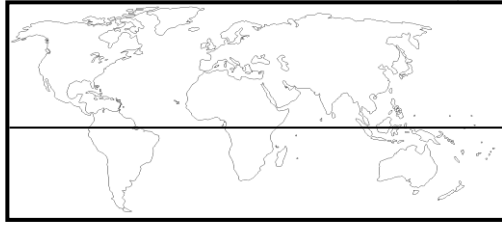
{ نموذج الإجابة }

اجابة السؤال الأول (١٦ درجة) لكل مفردة درجتين

م	رقم المفردة	رمز الإجابة الصحيحة	الإجابة الصحيحة	الدرجة	الصفحة
١	١	ب	مدار السرطان	٢	١٤
٢	٢	د	الشمس	٢	٢٢
٣	٣	ج	التضاريسية	٢	٣٩
٤	٤	أ	الرستاق	٢	٥٥
٥	٥	ب	زنجبار	٢	٦٩
٦	٦	ب	كارولين	٢	٧٣
٧	٧	أ	١٩٧٠م	٢	٨١
٨	٨	ج	الدولة و نظام الحكم	٢	٨٦

تابع نموذج إجابة امتحان مادة الدراسات الاجتماعية للصف الثامن –
الفصل الدراسي الاول - الدور الأول للعام الدراسي ٢٠١٥-٢٠١٦ م

إجابة السؤال الثاني:.. مقالتي ٨ درجات (يتكون من ٣ جزئيات)

رقم السؤال	المفردة	الاجابة	الدرجة	الصفحة
١	أ	الضغط الجوي : وزن عمود الهواء فوق نقطة معينة (السنتيمتر المربع الواحد) على سطح الأرض	درجة	٢٨
	ب	نقطة الندى : هي النقطة او الحد الذي يسمح بتكاثف بخار الماء في الغلاف الجوي بأشكال متعددة ، و تعتمد هذه النقطة على كمية بخار الماء و درجة الحرارة	درجة	٣٨
٢	أ	الحرارة	درجة	٢٥
	ب	يضع الطالب رقم المفردة في المربع الصحيح 	درجة لكل مفردة نصف درجة	٢٥ شكل (١٤)
٣	أ	بسبب هبوب الرياح الموسمية الجنوبية الغربية	درجة	٤١
	ب	١ - بالرسم على الخريطة  ٢ - اكماما ٣ - ضغط منخفض ٤ - بسبب غزارة الامطار	درجة نصف درجة نصف درجة درجة	٢٨ شكل (٢٨) ٤٥ شكل (٣٧) ٣٣ شكل (٢٤) ب/ ٤٢ - ٤٣

تابع نموذج إجابة امتحان مادة الدراسات الاجتماعية للصف الثامن –
الفصل الدراسي الاول - الدور الأول للعام الدراسي ٢٠١٥-٢٠١٦م

إجابة السؤال الثالث:.. مقالتي ٨ درجات (يتكون من ٣ جزئيات)

رقم السؤال	المفردة	الاجابة	الدرجة	الصفحة									
١	-	<table border="1"> <thead> <tr> <th>وجه المقارنة</th> <th>الجهاز (أ)</th> <th>الجهاز (ب)</th> </tr> </thead> <tbody> <tr> <td>اسم الجهاز</td> <td>الباررومتر المعدني</td> <td>الأنيمومتر</td> </tr> <tr> <td>استخدام الجهاز</td> <td>قياس الضغط الجوي</td> <td>قياس سرعة الرياح</td> </tr> </tbody> </table>	وجه المقارنة	الجهاز (أ)	الجهاز (ب)	اسم الجهاز	الباررومتر المعدني	الأنيمومتر	استخدام الجهاز	قياس الضغط الجوي	قياس سرعة الرياح	درجتان لكل مفردة نصف درجة	٣٠ - ٣١
وجه المقارنة	الجهاز (أ)	الجهاز (ب)											
اسم الجهاز	الباررومتر المعدني	الأنيمومتر											
استخدام الجهاز	قياس الضغط الجوي	قياس سرعة الرياح											
٢	أ	- اتخذ الرستاق عاصمة - أوجد رجال الشرطة - أنشاء جيشا ثابتا و مدريا - أرسى القواعد الإدارية و القضائية - شجع التجارة مع الهند و شرقي أفريقيا - اهتم بالنواحي العمرانية - (مطلوب مفردة واحدة)	درجة	٥٥									
	ب	أدخل زراعة القرنفل و البن و السمسم الى زنجبار - اهتم بزراعة جوز الهند و الحبوب و المطاط و الارز و الشعير و الفول و قصب السكر و المانجو و الجوافة (مطلوب مفردة واحدة)	درجة	٦٤									
٣	أ	<table border="1"> <tbody> <tr> <td>١٧١١م</td> <td>وفاة الامام سلطان بن سيف الثاني</td> </tr> <tr> <td>١٧٤٤م</td> <td>مبايعة الإمام أحمد بن سعيد</td> </tr> <tr> <td>١٨٠٤م</td> <td>السيد سعيد بن سلطان يتولى الحكم</td> </tr> <tr> <td>١٨٤٠</td> <td>رحلة السفينة سلطنة الى نيويورك</td> </tr> </tbody> </table>	١٧١١م	وفاة الامام سلطان بن سيف الثاني	١٧٤٤م	مبايعة الإمام أحمد بن سعيد	١٨٠٤م	السيد سعيد بن سلطان يتولى الحكم	١٨٤٠	رحلة السفينة سلطنة الى نيويورك	<p>نصف درجة</p> <p>نصف درجة</p> <p>نصف درجة</p> <p>نصف درجة</p>	٥٤ ٥٥ ٦٠ ٧٦	
١٧١١م	وفاة الامام سلطان بن سيف الثاني												
١٧٤٤م	مبايعة الإمام أحمد بن سعيد												
١٨٠٤م	السيد سعيد بن سلطان يتولى الحكم												
١٨٤٠	رحلة السفينة سلطنة الى نيويورك												
	ب	الاجابة على الخريطة	درجتان لكل مفردة درجة	٦١									

تابع نموذج إجابة امتحان مادة الدراسات الاجتماعية للصف الثامن –
 الفصل الدراسي الاول - الدور الأول للعام الدراسي ٢٠١٥-٢٠١٦م
 إجابة السؤال الرابع:.. مقالتي ٨ درجات (يتكون من ٣ جزئيات)

رقم السؤال	المفردة	الاجابة	الدرجة	الصفحة
١		اتسمت بالتنافس من أجل الحصول على السيادة البحرية و كان التنافس التجاري و اضحا بين الموانئ العمانية و الفارسية على التجارة القادمة من الهند و شرقي افريقيا - استأجرت حكومة السيد سعيد بن سلطان الموانئ الفارسية مثل بندر عباس مقابل مبلغ سنوي و هذا يؤكد العلاقات السليمة بينهم (مع مراعاة اجابة الطالب)	درجتان	٧١
٢	أ	من خلال الاهتمام بالعلم و تنمية الخبرات و التدريب على الجديد و تطوير قدراتي مع مراعاة إجابة الطالب	درجتان	٨٤
	ب	١ - واجبات المواطن الدفاع عن الوطن - التعااضد و التراحم بين المواطنين - المحافظة على كيان الاسرة - المحافظة على الأموال العامة للدولة و ممتلكاتها (مطلوب مفردتين فقط)	درجة لكل مفردة نصف درجة	٩١
		٢ - شروط عضوية مجلس الدولة ان يكون عماني الجنسية بصفة أصيلة - أن لا تقل سنه عن الأربعين سنة - ان يكون ذا مكانة و سمعة حسنة (مطلوب مفردتين فقط)	درجة لكل مفردة نصف درجة	٩٦
٣		انصح بالحرص على المشاركة في الانتخابات ذلك لان الشورى تولد الثقة و الحوار بين الناس و المشاركة في تطوير المجتمع و تساعد على طرح الموضوعات و الاحتياجات الضرورية للمواطنين و مناقشتها و تقديم المقترحات المناسبة <u>مع مراعاة اجابة الطالب</u>	درجتان	٩٤