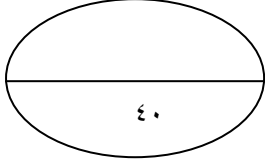




امتحان الصف :الثامن
العام الدراسي ٢٠١٥ / ٢٠١٦
الفصل الدراسي الثاني - الدور الثاني

سلطنة عمان
وزارة التربية والتعليم
ادارة التربية والتعليم بمحافظة الوسطى

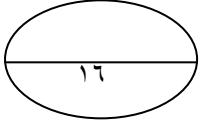


الدرجة الكلية

اسم الطالب :

المادة : الدراسات الاجتماعية	العام الدراسي : ٢٠١٥ / ٢٠١٦
الزمن : ساعة ونصف	تنبيه الاسئلة في (٥) ورقات

السؤال الأول اختر الاجابة الصحيحة بوضع دائرة على الرمز الصحيح من البدائل المعطاة:



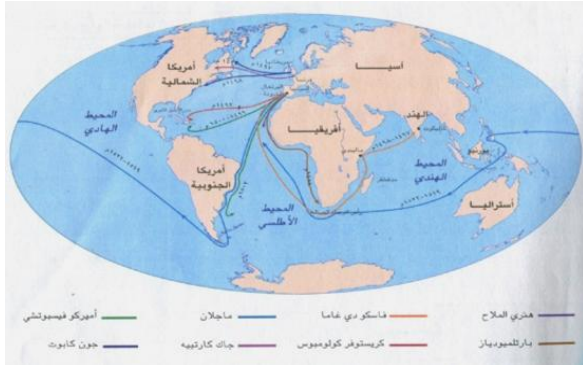
١- تغطي المياه من مساحة سطح الارض ما نسبته :

د- ٣%

ج- ٩٧%

ب- ٧١%

أ- ١٧%



٢- تظهر لنا خريطة الاكتشافات الجغرافية التي امامك ان الرحلة الوحيدة التي عبرت المحيط الهادي هي :

ب- فاسكودي جاما

أ- ماجلان

ج- كريستوفر كولمبس

د- هنري الملاح

٣- تميزت مسقط بالنمو والازدهار على مدار تاريخها حتى اصبحت عاصمة للبلاد في عهد الامام :

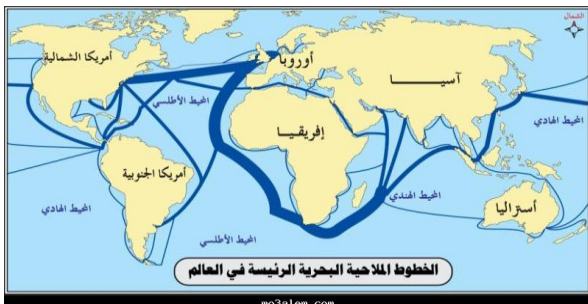
أ- غسان بن عبد الله ب- احمد بن سعيد ج- حمد بن سعيد د- ناصر بن مرشد

٤- من خلال خريطة النقل البحري التي امامك يظهر لنا ان اكثر طرق النقل ازدحاما بالعالم طريق:

أ- شمال الاطلسي ب- جنوب الاطلسي

د- المحيط الهادي

ج- قناة بنما



٥- نستخدم ١٤٤ الف لترا من الماء حتى نستطيع انتاج طن واحد من :

أ- النحاس ب- الفحم ج- البلاستيك د- الورق

٦- بدأت النهضة الاوربية فى هذه الدولة قبل غيرها من الدول بسبب موقعها التجارى :

أ- بريطانيا ب- فرنسا ج- المانيا د- ايطاليا

٧- سميت نزوى فى عهد الامام غسان بن عبدالله لكثرة العلماء بها باسم :

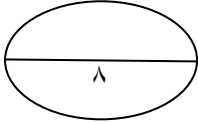
أ- قلعة الاسلام ب- مدينة النور ج- أم القرى د- بيضة الاسلام

٨- الظاهرة الطبيعية التى امامنا تمثل أحداهم المعالم السياحية لولاية :



أ- هيماء ب- صلالة

ج- الرستاق د- صحار



السؤال الثانى : أجب عن الاسئلة التالية : أولا- أ : عرف ما يأتى:-

1- الينابيع :

.....
.....
.....

2-الجليد:

.....
.....
.....


ب- علل ما يأتى :

1- تعد منطقة البليد ابرز المعالم الاثرية بصلالة :

.....
.....
.....

2-شهرة سوق مطرح القديم بمحافظة مسقط :-

.....
.....
.....



ثانيا:- أجب عما يأتي من الاسئلة :-

أ- ادرس الشكل الذى امامك ثم اجب عن الاسئلة التى تليه :-

- ١- ما اسم هذه الالة
- ٢- من الذى اخترعها
- ٣- ما أهميتها

ب- عدد أهم المعالم السياحية لولاية صحار :

.....
.....

ثالثا: أجب عما يأتي :

أ- ما النتائج المترتبة على : (يكتفى بذكر نتيجتين)
اختراع آلة بذر الحبوب ببريطانيا عام 1701 م :

.....
.....

ب- بين الشخصية بالعبارة الآتية :

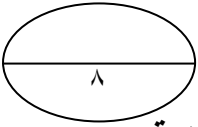
1- شاعر ايطالى ولد بفلورنسا وعبر عن افكاره في رائعته " الكوميديا
الالهية"

.....
.....

2- جغرافى عربى وذكر ان صحار هى قسبة عمان وانها أجمل مدن بحر
الصين :

.....
.....

السؤال الثالث : اجب عما يأتي :

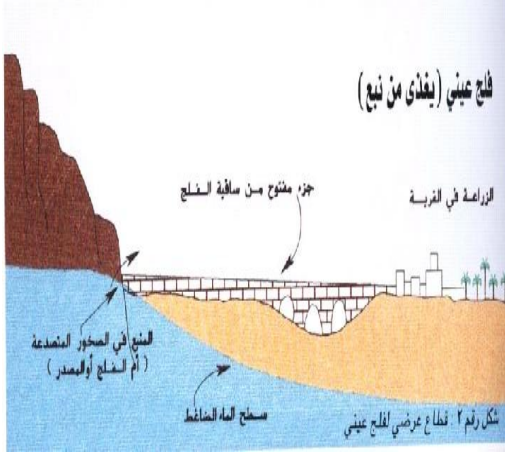


أولا: قارن بين مسقط وصلالة من حيث الموقع الجغرافى والاثار التاريخية
للمدينتين

وجه المقارنه	مدينة مسقط	مدينة صلالة
الموقع الجغرافى		
الاثار التاريخية		

ثانياً:- أ- ما رايك فى جهود السلطنة المبذولة فى مكافحة استنزاف المياه :

ب- الشكل الذى امامك يمثل احد انواع الافلاج بالسلطنة ادرسه جيدا ثم اجب عما يليه:-



١- من امثلة هذا النوع فى السلطنة

٢- تبلغ نسبة هذا النوع فى

السلطنة

٣- من أنواع الافلاج الاخرى

ثالثاً:- أ- اكمل الجدول الاتى:

مشكلات المياه	اسباب حدوثها
تلوث المياه
.....	1- الاستخدام العشوائى. 2- سوء شبكات المياه 3- ازدياد السحب
تملح المياه

ب- فسر ما يأتى :

1- للنقل البحرى أهمية كبيرة حالياً لكل دول العالم :

2- وجود اثار اجتماعية سيئة للثورة الصناعية التى قامت فى أوروبا:-

السؤال الرابع :- أجب عن الاسئلة الاتية :-

أولاً:- أ- وضح ما يأتى:-

1- أهمية موقع مدينة الرستاق:- (يكتفى باهميتين اثنتان فقط)

.....

.....

2-مظاهر التقدم في نزوى في عصر النهضة المباركة : (يكتفى بمجال واحد)

.....
.....
.....

ب- أذكر الصناعات التقليدية التي تشتهر بها مدينة نزوى :-

.....
.....
.....

ثانيا :- امامك خريطة صماء لسلطنة عمان ادرسها جيدا ثم أجب عما يليه :



١- استخرج المحافظة التي تم انشاء محطة تحلية الغبرة :

٢- حدد على الخريطة المحافظة التي بها قلعة نزوى:

٣- تحد محافظة ظفار من جهة الجنوب دولة.....

ثالثا:- اجب عن الاسئلة الاتية :-

أ- من خلال دراستك لعوامل قيام النهضة الاوربية ما مقترحاتك لانشاء نهضة عمانية وعربية حديثة :-

.....
.....

ب- اجب عما يأتي من الاسئلة :-

1- اختراع الة الطباعة بالمانيا عام 1445م على يد يوحنا جوتنبرج اهمية عظيمة:-

ب- لا أوافق

أ- اوافق

السبب:-

.....
.....

انتهت الاسئلة مع اطيب الامنيات بالتوفيق



سلطنة عمان
وزارة التربية والتعليم
ادارة التربية والتعليم بالوسطى

نموذج الإجابة لاختبار مادة الدراسات الاجتماعية

للفصل الثامن الدراسي الثاني (الدور الثاني) العام ٢٠١٥ / ٢٠١٦م

أ - الأسئلة الموضوعية (نمط الاختبار من المتعدد) :

إجابة السؤال الأول				
المفردة	الرمز	البديل الصحيح	الدرجة	الصفحة
١	ب	٧١%	٢	١٠
٢	أ	ماجلان	٢	٥٣
٣	ج	حمد بن سعيد	٢	٧٣
٤	أ	شمال الاطلسي	٢	٢٣
٥	د	الورق	٢	٢١
٦	د	ايطاليا	٢	٤٥
٧	د	بيضة الاسلام	٢	٨٥
٨	ج	الرسناق	٢	٩٨
المجموع			٢	

الأسئلة المقالية :

إجابات السؤال / الثاني				
الجزئية	المفردة	الإجابات الصحيحة	الدرجة	الصفحة
أولا (١)	أ	١ - الينابيع : هي اندفاع المياه بشكل طبيعي الى سطح الارض من خزانتها الطبيعية او من الطبقات الصخرية الحاوية لها لوجود شقوق في الطبقات . ٢ - الجليد : تلتج مترامك فوق بعضه يتميز بصلابته نتيجة لانضغاطه	نصف درجة	١٦
	ب	١ - لانها شاهده على المكانة التاريخية للمدينة ، وجود حوض شهير بها ، وجود بقايا ارضفة ميناء ، انتشار المساجد والمباني والمقابر المنتشرة (يكتفى بنقطة واحدة) ٢ - لشهرتها في بيع منتجات الحرف التقليدية مثل الحلوى وادوات الزينة والمشغولات الفضية والنحاسية والفخاريات	درجة واحدة	١٠٩
ثانيا (٢)	أ	١ - المحرك البخارى ٢ - جيمس واط ٣ - اهميتها : -١- احلال الفحم الحجري مكان المصادر المائية. ٢ - ادارة الالات بالمصانع .٣- تطور الانتاج والاستغناء عن الالات التي تدار بالمياه .٤- زيادة سرعة وانتاج العمل	نصف درجة نصف درجة درجة واحدة	٦٥

١٠٥	درجة واحدة	المعالم السياحية بولاية صحار هي : ١- انتشار الحدائق مثل حديقة البيويل الفضى . ٢- بوابة صحار . ٣- الفنادق والاستراحات . ٤- المعالم الطبيعية الجبلية مثل وادي حبيبي ووادي عاهن و (يكتفى بنقطتين)	ب	تابع ثانيا (٢)
٦٣	درجة واحدة	نتائج اختراع التّبرّ الحبوب هي : ١- ادخال البذور في التربة . ٢- زيادة الانتاج ومنع تلف البذور . ٣- ادى هذا الاختراع الى اختراع الات اخرى مثل الات الحصاد ووسائل مقاومة الافات الزراعية (يكتفى بنتيجتين لكل منها نصف درجة)	أ	ثالثا
٤٧ ١٠٢	نصف درجة نصف درجة	١- دانتي ٢- الرحالة المقدسي	ب	ثالثا
٨ درجات			المجموع	

إجابات السؤال / الثالث					
الصفحة	الدرجة	الإجابات الصحيحة		المفردة	الجزئية
٧٠ ٧٤ ٧٥ ١٠٧ ١٠٩ ١١٠	درجتان لكل جزئية نصف درجة	صلالة	مسقط	وجه المقارنة	اولا
		جنوب عمان وتطل على بحر العرب (ص ١٠٧)	الشمال الشرقي من السلطنة وتطل على بحر عمان(ص ٧٠)	الموقع الجغرافي	
		١- منطقة البليد والرباط ٢- مواقع اثرية مثل اويار والمغسيل ،٣- مقابر قديمة بعين ازارات ٤- سواقي وبئر مياه في وادي نحيز (ص ١٠٩،١١٠)	١- بوابة مسقط القديمة ،قلعتي الجلالى والميرانى.٣- قلعة مطرح ٤- بيوت اثرية مثل بيت جرزيز والسيد شهاب ٥- قصر العلم (ص ٧٤،٧٥) يكتفى بنقطة واحدة	الاثار التاريخية	
٣٢	نصف درجة نصف درجة نصف درجة	١- من امثلة هذا النوع فلج عين الكسفة،فلج عين الحمام ،فلج عين ازارات (يكتفى بمثال واحد) ٢- ٢٨ % . ٣- فلج غيلي ،فلج داوودي		أ	ثانيا

٣٧	نصف درجة	<p>ما رايك : اوافق لان اقامة محطات تحلية مياه مثل محطة الغبرة وبركاء يساعد على تعويض ما تم استنزافه . (يوخذ برأى الطالب واسلوبه في حدود الموضوع)</p>		ب	
٢٤	درجة واحدة	اسباب الحدوث	مشكلات المياه	أ	ثالثا
		الامطار الحمضية ،النباتات والحشائش ،مبيدات حشرية ،فضلات مصانع			
			استنزاف المياه		
٢٥	نصف درجة				
٢٧	درجة واحدة	دخول مياه البحر المالحة ،مرور المياه بتكوينات صخرية مالحة			
٢٢	درجة واحدة	١- أهمية النقل البحرى هي : ١- أرخص انواع النقل والاكثر اقتصادا . ٢- اقل خطورة لتزود السفن بالاجهزة الحديثة. ٣- وفرة الموانئ ٤- خطوط الملاحة حرة لا تحتاج لصيانة (يكتفى بنقطتين) ٢- وجود اثار اجتماعية سيئة للثورة الصناعية بسبب:- ١- هجرة الفلاحين الى المدن للعمل بالمصانع . ٢- ازدحام المدن وقلة الخدمات وانعدام الشروط الصحية في المساكن والمصانع		ب	
٦٥	نصف درجة				
		٨ درجات		المجموع	

اجابة السؤال الرابع

الصفحة	الدرجة	الاجابة	المفردة	الجزئية
٩٣	درجة واحدة	١:- أهمية موقع مدينة الرستاق : ١- موقع استراتيجي بين محافظات الظاهرة والباطنة والداخلية . ٢- مركز اقتصادي وسوق للمنتجات الزراعية والحيوانية . ٣- مركز تسويق لمنتجات الجبل الاخضر (يكتفى بنقطتين)		
٩٠،٩١	درجة واحدة	٢:-مظاهر النهضة المباركة في نزوى: ١- مجال التعليم : انشاء كلية العلوم التطبيقية واكاديمية السلطان قابوس للشرطة والكلية التقنية ومعهد التمريض وجامعة نزوى. ٢- الصحة :انشاء المستشفيات ومجمعات صحية ومستشفى نزوى المركزي . ٣- النقل والطرق :ربط المدينة بشبكة طرق وانارة ومياة . ٤- اجتماعيا : انشاء مجمعات شباب ومساكن حديثة . ٥- اقتصاديا :انشاء منطة صناعية متكاملة بها صناعات مثل ... (يكتفى بذكر مجال واحد من ما سبق)	أ	اولا
٨٩	درجة واحدة	الصناعات التقليدية بنزوى : صناعة السيوف والخناجر والاسلحة التقليدية وصياغة الذهب والفضة وصناعة الحلوى والاونان النحاسية وصناعة النسيج والازار والعمائم .	ب	
	درجة واحدة درجة واحدة نصف درجة	١- محافظة مسقط ٢- يحدد التلاميذ على الخريطة محافظة الداخلية. ٣- الجمهورية اليمنية .		ثانيا
٤٦ ٤٧	درجة واحدة	مقترحاتك لانشاء نهضة عمانية وعربية : (يؤخذ بمقترحات الطلاب في حدود الافكار الاتية) ١- الاهتمام بالعمران وانشاء المدن ٢- تشجيع العلماء والمتقنين ٣- استخدام قدرات العقل والاعتماد علانفس ٤- تشجيع عرواح المغامرة المحسوية ٥- تشجيع المفكرين والكتاب ٦- الاتصال بالبلاد الخارجية للاستفادة من افكارهم ٧- الاهتما بطباعة الكتب والترجمة والتاليف	أ	
٤٧	نصف درجة درجة واحدة	أ-واثق <input checked="" type="checkbox"/> لان اختراع الة الطباعة كان له نتائج عظيمة مثل : ١- سهل طباعة الكتب وانتشارالعلوم والاداب والفنون . ٢- سهل على الكثيرين الاطلاع على العلوم .	ب	ثالثا
٨ درجات				المجموع