



سلطنة عُمان  
وزارة التربية والتعليم  
البيئية العامة للتربية والتعليم بمحافظة الداخلية

امتحان الصف الخامس

للعام الدراسي ١٤٣٥/١٤٣٦ هـ - ٢٠١٤/٢٠١٥ م

الفصل الدراسي الأول - الدور الأول

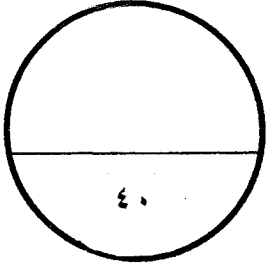
- المادة : الدراسات الاجتماعية
- زمن الإجابة : ساعة ونصف
- الأسئلة في : ٦ صفحات
- \* الإجابة في الورقة نفسها

اسم الطالب	
المدرسة	الشعبة

( التوقيع بالاسم )		الدرجة بالحروف بالأحمر	الدرجة بالأرقام بالأحمر	السؤال
المصحح ( بالأخضر )	المصحح ( بالأحمر )			
				1
				2
				3
				4
				5
				6
	مراجعة الجمع والتشطيب ( بالأزرق )	جمعه ( بالأحمر )		المجموع الكلّي

يعتمد ،،،

المعلم الأول



سلطنة عمان  
وزارة التربية والتعليم

المديرية العامة للتربية والتعليم لمحافظة الداخلية

امتحان الصف : الخامس

العام الدراسي : ٢٠١٤/٢٠١٥م الفصل الدراسي : الاول الدور : الأول

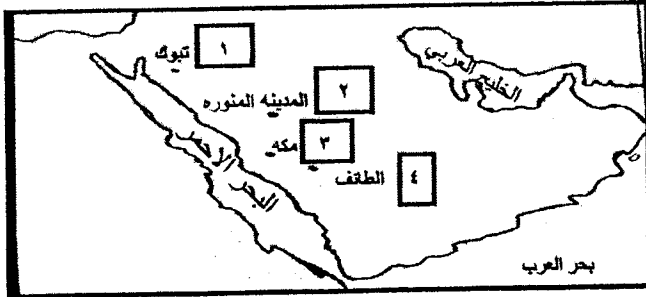
- المادة: الدراسات الاجتماعية
- زمن الاجابة: ساعة ونصف
- تنبيه:
- الأسئلة في ( ٦ ) صفحات
- الاجابة في الورقة نفسها.

اسم الطالب/..... الصف/.....

السؤال الأول: ضع دائرة حول رمز الاجابة الصحيحة من بين البدائل المعطاة لكل عبارة فيما يلي:

١-الحافة الصخرية التي تواجه البحر مباشرة:

- أ-الجبال      ب- الدلتا      ج-السهول      د-الجروف الصخرية



٢-الرقم الذي يمثل عاصمة الدولة الإسلامية في عهد الرسول الكريم في الخريطة المقابلة:

- أ- ١      ب- ٢      ج- ٣      د- ٤

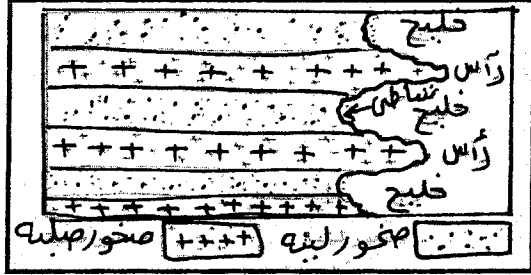
٣-إذا توجهنا الى غرب غرينتش فان عدد خطوط الطول يصبح:

- أ- ٣٦٠ خط      ب- ١٨٠ خط      ج- ٩٠ خط      د- ٨٠ خط

٤- تعرف الأراضي المنبسطة قليلة الانحدار التي ترتفع عما يجاورها من أراضي:

- أ-الجبال      ب-التلال      ج-السهول      د-الهضاب

٥- الشكل المقابل يمثل ظاهرة جغرافية ناتجة عن نحت الامواج للصخور اللينة تسمى:



ب- رأس

أ- خليج

د- دلتا

ج- جبل

٦- اول مسجد اسس في الاسلام:

ب - النبي

أ-الأقصى

د-الحرام

ج- قباء

٧- المضيق الذي ستمر به مريم في رحلتها من عمان الى ايران:

ب- هرمز

أ- باب المندب

د- جبل طارق

ج- بنما

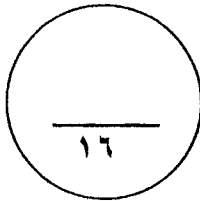
٨- مجاري مائية سطحية مؤقتة الجريان تجري فيها المياه في فترة سقوط الامطار:

ب- الأنهار

أ- الأودية

د-الخليج

ج-الأبار



السؤال الثاني:

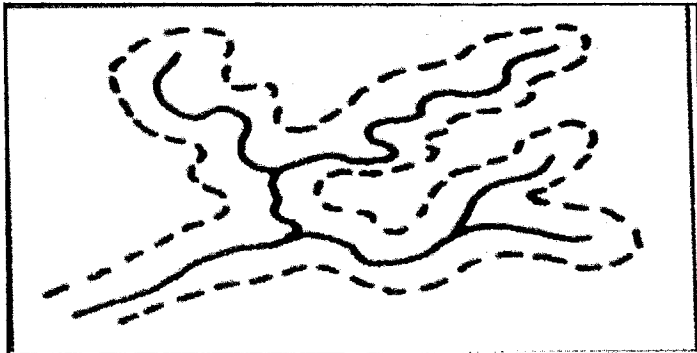
أولاً: أنظر الى الشكل المقابل ثم  
أجب عن الأسئلة التي تليه:

١- سم الظاهرة الواضحة في الشكل.

.....

٢- كيف تنشأ هذه الظاهرة؟

.....



ثانيا: تمعن في الجدول الذي امامك والذي يوضح درجات الحرارة وكمية المطر في منطقة سيق بالجبل الأخضر ثم اجب عما يلي:

الشهر	يناير	فبراير	مارس	أبريل	مايو	يونيو	يوليو	أغسطس	سبتمبر	أكتوبر	نوفمبر	ديسمبر
درجات الحرارة (س)	٩,٥	١٢	١٥	١٨	٢٢	٢٥	٢٥	٢٤	٢٢	١٨	١٤	١١
الأمطار (مليمترات)	٢٣	٤٦	٥٨	٣٧	٢٦	١٣	٤٧	٥٩	٢٦	٨	٦	١١

- ١- أعلى درجة حرارة سجلت في منطقة سيق في شهر.....
- ٢- أدنى درجة حرارة سجلت في سيق.....
- ٣- الشهر الذي سقطت فيه أعلى كمية مطر.....
- ٤- الشهر الذي سقطت فيه أقل كمية مطر.....

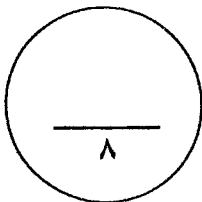
ثالثا:

أعرف ما يلي:  
١- التربة.

٢- الإمبراطورية:

ب- قارن بين الإمبراطورية الرومانية والإمبراطورية الفارسية حسب الجدول الآتي:

وجه المقارنة	الإمبراطورية الفارسية	الإمبراطورية الرومانية
لقب الحاكم	.....	.....
الأنشطة الاقتصادية السائدة	.....	.....

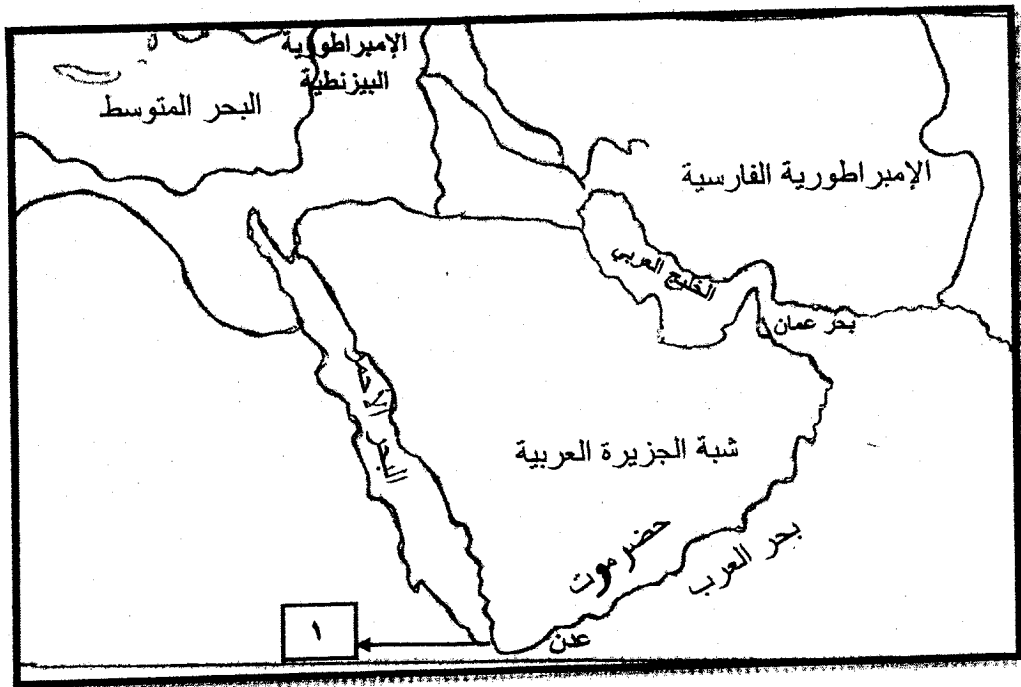


السؤال الثالث:  
أولاً:

صنف المناخات التالية بما يناسبها من خصائص مناخية في الجدول:  
المناخ الصحراوي مناخ البحر المتوسط المناخ الموسمي

الخصائص المناخية	اسم المناخ
معتدل وجاف صيفاً وممطر شتاءً	
يتركز حول مدار السرطان ويوجد تفاوت حراري بين الليل والنهار	
يتأثر بالرياح الموسمية الجنوبية الغربية	

ثانياً: أ - أدرس الخريطة التي أمامك ثم اجب عن الأسئلة التي تليها:

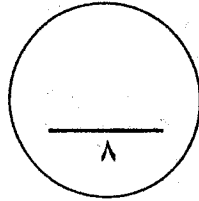


- ١- ضع دائرة حول الدول المحيطة بشبه الجزيرة العربية قبيل الإسلام.
- ٢- ظلل المسطح المائي الذي يحد شبه الجزيرة العربية من جهة الغرب.
- ٣- اسم المضيق المشار إليه بالرقم (١)

ثالثا:

ب - رتب الأحداث التاريخية من الأقدم الى الأحدث بوضع الأرقام من (١ - ٤)

الحدث التاريخي	الترتيب الصحيح
فتح خيبر	
وفاة الرسول الكريم	
صلح الحديبية	
غزوة احد	



السؤال الرابع:

أولاً:

من خلال دراستك للكثبان الرملية وأنواعها :

١- ارسم داخل المربع المقابل شكل الكثيب الهلالي.

٢- وضح بالسهم إتجاه الرياح علي الكثيب.

ثانياً:

أجيب عن الاسئلة التالية:

١- ادلل على جهود الحكومة لحل مشكلة العجز المائي.

٢- ما أهمية الهجرة النبوية من مكة إلى المدينة؟

٣- اذكر امثلة على السلاسل الجبلية الموجودة في سلطنة عمان؟

تابع ٦

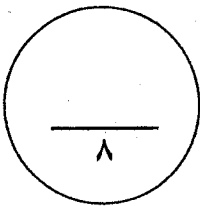
ثالثاً: انظر الى الصورة التي امامك ثم اجب عن الأسئلة التي تليها :



١- سم المسكن الذي يعيش فيه البدوي.

٢- عدد الحيوانات التي يعتمد عليها البدوي في حياته؟

٣- علل تنقل البدو من مكان الي آخر؟



انتهت الأسئلة مع تمنياتنا لكم بالنجاح

نموذج الإجابة لمادة الدراسات الاجتماعية للصف  
الخامس الفصل الأول الدور الأول

الأسئلة الموضوعية (نمط الاختيار من متعدد):

اجابة السؤال الأول : ١٦ درجة لكل مفردة درجتان

المفردة	رمز الاجابة الصحيحة	البديل الصحيح	الدرجة	الصفحة
١	د	الجروف الصخرية	٢	٢٠
٢	ب	المدينة المنورة	٢	٨٥
٣	ب	١٨٠	٢	١٢
٤	د	الهضاب	٢	٣١
٥	أ	الخليج	٢	٢٠
٦	ج	قباء	٢	٨٥
٧	ب	هرمز	٢	١٦
٨	أ	الأودية	٢	٥٥
المجموع				١٦ درجة

الأسئلة المقالية : اجابة السؤال الثاني ٨ درجات

نموذج اجابة



الصفحة	الدرجة	الإجابة الصحيحة			المفردة	الجزئية
٢٤	١	ملاحظة العلامة ( / ) تعني إجابة أخرى صحيحة			١-أ	أولا
٢٣	١	نتيجة الأرسابات النهرية			٢-أ	
٤٣	٢ لكل مفردة نصف درجة	١- يونيو - يوليو ٢- ٩.٥ ٣- أغسطس ٤- نوفمبر			أ	ثانيا
٥٩	١	-هي الطبقة المفتتة من قشرة الأرض وتنمو فيها النباتات			١	ثالثا
٧٦	١	هي مجموعة كبيرة من الدول والأقاليم والشعوب يحكمها حاكم واحد			٢	
٧٧	٢ لكل مفردة نصف درجة	الإمبراطورية الرومانية	الإمبراطورية الفارسية	وجه المقارنة	ب	ثالثا
٨٠	٢	قيصر	كسرى	لقب الحاكم		
		الزراعة التجارية لصناعات الحرفية	الزراعة/تربية الحيوان/التجارة/الصناعة مثل الجلود والأواني الخزفية	الأنشطة السائدة		
٨ درجات					المجموع	


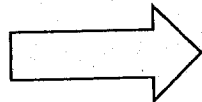
نموذج اجابة

السؤال الثالث :

الصفحة	الدرجة	الإجابة الصحيحة ملاحظة العلامة ( / ) تعني إجابة أخرى صحيحة		المفردة	الجزئية
٤١	١	اسم المناخ	الخصائص المناخية	أ	أولاً
		مناخ البحر المتوسط	معتدل وجاف صيفاً وممطر شتاءً		
		المناخ الصحراوي	يتركز حول مدار السرطان ويوجد تفاوت حراري بين الليل والنهار		
٤٦	١	المناخ الموسمي	يتأثر بالرياح الموسمية الجنوبية الغربية	أ	ثانياً
٦٧	١	١- تضع دائرة حول الإمبراطورية الرومانية والفارسية داخل الخريطة			
١٦	١	٢- تظلل البحر الأحمر ٣- مضيق باب المندب			
٨٨	٢ لكل مفردة نصف درجة	الحدث التاريخي	الترتيب الصحيح	أ	ثالثاً
٨٩		فتح خيبر	٣		
٩٠		وفاة الرسول الكريم	٤		
٩٢		صلح الحديبية	٢		
		غزوة أحد	١		
٨ درجات				المجموع	

نموذج اجابة

السؤال الرابع:

الصفحة	الدرجة	الإجابة الصحيحة ملاحظة العلامة ( / ) تعني إجابة أخرى صحيحة	المفردة	الجزئية
٣٧	١		أ -١	أولا
٣٧	١		أ -٢	
٥٧	١	تحلية مياه البحر -معالجة مياه الصرف الصحي	أ ١	ثانيا
٨٥	١	وجد المسلمون بيئة صالحة للدعوة -تمتع المسلمون بالأمن والاستقرار	٢	
٢٧	١	سلسلة جبال حجر عمان -سلسلة جبال ظفار	٣	
	١	-خيمة مصنوعة من شعر	١	ثالثا
	١	-الماعز -الأغنام-الخيول-الجمال	٢	
	١	-ينتقلون من مكان لآخر بحثا عن الماء والعشب لحيواناتهم	٣	
	٨ درجات		المجموع	

نموذج اجابة