

حاضر

غائب



امتحان شهادة دبلوم التعليم العام
للعام الدراسي ١٤٣٥/١٤٣٤ هـ - ٢٠١٣/٢٠١٤ م
الدور الأول - الفصل الدراسي الأول

- المادة : التاريخ (العالم من حولي).
- الأسئلة في (١٠) صفحات.
- زمن الإجابة : ثلاث ساعات.
- الإجابة في الورقة نفسها.

تعليمات وضوابط التقدم للامتحان:

- الحضور إلى اللجنة قبل عشر دقائق من بدء الامتحان للأهمية.
 - إبراز البطاقة الشخصية لمراقب اللجنة.
 - يمنع كتابة رقم الجلوس أو الاسم أو أي بيانات أخرى تدل على شخصية الممتحن في دفتر الامتحان ، وإلا ألغى امتحانه.
 - يحظر على الممتحنين أن يصطحبوا معهم همركز الامتحان كتباً دراسية أو كراسات أو مذكرات أو هواتف محمولة أو أجهزة النداء الآلي أو أي شيء له علاقة بالامتحان كما لايجوز إدخال آلات حادة أو أسلحة من أي نوع كانت أو حقائب يدوية أو آلات حاسبة ذات صفة تخزينية.
 - يجب أن يتقيد المتقدمون بالزي الرسمي (البدن البيضاء البيضاء والمصر أو الكمة للطلاب والدارسين والزي المدرسي للطالبات واللباس العماني للدارسات) ويمنع النقاب داخل المركز ولجان الامتحان.
 - لا يسمح للمتقدم المتأخر عن موعد بداية الامتحان بالدخول إلا إذا كان التأخير بعذر قاهر يقبله رئيس المركز وفي حدود عشر دقائق فقط.
- يتم الالتزام بالإجراءات الواردة في دليل الطالب لأداء امتحان شهادة دبلوم التعليم العام.
- يقوم المتقدم بالإجابة عن أسئلة الامتحان المقالية بقلم الحبر (الأزرق أو الأسود).
- يقوم المتقدم بالإجابة عن أسئلة الاختيار من متعدد بتظليل الشكل (○) وفق النموذج الآتي:
- س - عاصمة سلطنة عمان هي:
- القاهرة. ○ الدوحة.
- مسقط. ○ أبو ظبي.
- ملاحظة:** يتم تظليل الشكل (●) باستعمال القلم الرصاص وعند الخطأ، امسح بعناية لإجراء التغيير.
- صحيح ○ غير صحيح
- ⊗ ⊖ ⊙ ⊚

لا تكتب في هذا الجزء

لا تكتب في هذا الجزء

لا تكتب في هذا الجزء

مُسَوِّدَةٌ، لَا يَتَمُّ تَصْحِيحُهَا

لا تكتب في هذا الجزء

لا تكتب في هذا الجزء

لا تكتب في هذا الجزء

أجب عن جميع الأسئلة الآتية:السؤال الأول:

ظلل الشكل (○) المقترن بالإجابة الصحيحة لكل مفردة من المفردات الآتية:

١- البُعد الأحدث الذي أضافه الإنسان إلى محيطه الطبيعي:

○ الاجتماعي. ○ التكنولوجي.

○ الثقافي. ○ الاقتصادي.

٢- ترتيب ظهور الكتابات الآتية من الأقدم إلى الأحدث:

○ المسمارية ← الفينيقية ← الهيروغليفية.

○ الفينيقية ← الهيروغليفية ← المسمارية.

○ المسمارية ← الهيروغليفية ← الفينيقية.

○ الهيروغليفية ← الفينيقية ← المسمارية.

٣- بدأ الإنسان استعمال الطاقة المتولدة من الفحم في الصناعة في القرن الميلادي:

○ الحادي عشر. ○ الثاني عشر. ○ الثالث عشر. ○ الرابع عشر.

٤- يتمثل الجانب غير المادي للثقافة في:

○ المسكن واللغة. ○ الملبس والأخلاق.

○ الأدوات والفن. ○ الدين والقيم.

٥- نادى بأن يكون حاكم المدينة الفاضلة فيلسوفاً انطلاقاً من نظريته في النفس الإنسانية:

○ أفلاطون. ○ سقراط. ○ توينبي. ○ لامارتين.

٦- كانت بدايات استعمال الغاز الطبيعي المسال لتوليد الطاقة في سلطنة عُمان في العقد الميلادي:

١٩٨٠-١٩٨٩ ○

١٩٧٠-١٩٧٩ ○

٢٠٠٠-٢٠٠٩ ○

١٩٩٠-١٩٩٩ ○

٧- النموذج الأول والأوضح لتمكن المجتمعات الإنسانية من إنتاج ثقافات خاصة بها:

○ الزراعة. ○ التجارة. ○ الصناعة. ○ الاتصالات.

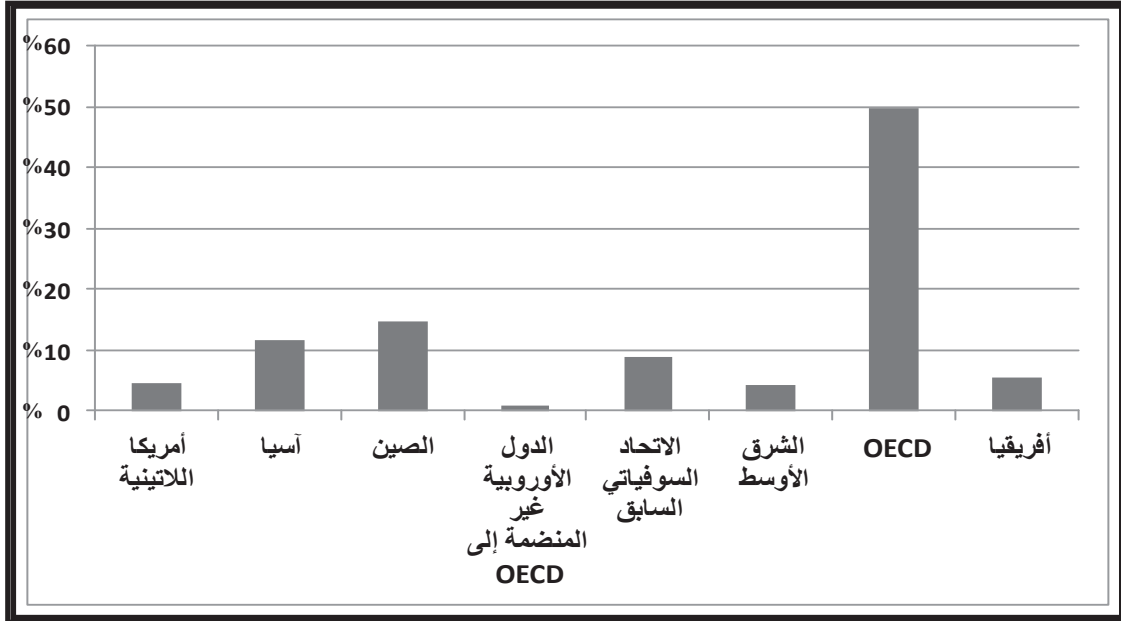
٨- أول استعمال للطاقة الذرية في مجال:

○ الطب. ○ الهندسة. ○ الحرب. ○ الفضاء.

٩- يتم انتاج الكهرباء في معمل الرانس الفرنسي باستعمال الطاقة:

○ المائية. ○ الشمسية. ○ الريحية. ○ النووية.

١٠- ثاني أقاليم العالم تزوداً بالطاقة في عام ٢٠٠٤م كما يوضحه الشكل الآتي:



○ أفريقيا ○ الصين ○ أمريكا اللاتينية ○ آسيا

١١- بدأ النشاط الصحفي في عهد صاحب الجلالة السلطان قابوس - حفظه الله - عام ١٩٧٠م

بإصدار:

○ أخبار عُمان. ○ أخبار شركتنا. ○ صحيفة الوطن. ○ صحيفة عُمان.

١٢- يتصف العمل في منظمات المجتمع المدني بأنه:

○ طوعي وفردى. ○ طوعي وجماعى. ○ إلزامى وفردى. ○ إلزامى وجماعى.

١٣- المقر الحالى لمنظمة أوبك يقع فى:

○ النمسا. ○ سويسرا. ○ فنزويلا. ○ إندونيسيا.

١٤- الرقم الذى يشير إلى القارة التى تمثل منشأ خام نطف برنت:



○ ١ ○ ٢ ○ ٣ ○ ٤

السؤال الثاني:

(١٥) علل ما يأتي :

أ- توقُّع ارتفاع أسعار النفط بشدة قبل وقت نفاذه.

ب- أهمية الانتماء للذات في تأسيس المجتمعات على عقلية أخلاقية.

(١٦) دلل على أن بدايات استعمال النفط قبل الميلاد كان في قارة آسيا.

(١٧) ”ملك دول الخليج العربي فرصة تجاوز مشكلة الانخفاض التدريجي في إنتاج النفط.“
ما مبررات ذلك؟

لا تكتب في هذا الجزء

لا تكتب في هذا الجزء

١٨) صنف جميع المنجزات الحضارية الآتية: (المقايضة، الرحلات الكبرى، الفنون، نظام الحكم) إلى المجال الذي تنتمي إليه:

المجال	المنجزات الحضارية التي تنتمي إليه
السياسي	
الاقتصادي	
الفكري	

١٩) "قامت إحدى الدول ببيع كميات من النفط من ميناء التصدير الواقع على ساحلها". في ضوء هذه العبارة، أجب عن السؤالين الآتيين:

أ- ما شكل طريقة البيع الذي اتبعته هذه الدولة في بيع نفطها؟

ب- من يتحمل كلفة النقل والتأمين في البيع بهذه الطريقة؟

٢٠) صف كيفية الحصول على الإيثانول باستعمال الطريقة العضوية الباردة.

٢١) "تواجه سلطنة عُمان معوقات في استعمال الخلايا الشمسية لتوليد الطاقة" أثبت صحة هذه العبارة.

السؤال الثالث:

٢٢ - سمّ منظمة دولية ومنظمة إقليمية نظيرة للجنة الوطنية العمانية للتربية والثقافة والعلوم.

منظمة دولية:

منظمة إقليمية:

٢٣) "للعولمة في جانبها التقني آثار داعمة للتنوع الثقافي وآثار مخلة به". فسر هذه العبارة.

(٢٤) - اكتب بين القوسين المصطلح الصحيح لكل عبارة مما يأتي :

أ- () يقوم على فرضيات علمية مدروسة يمكن تحقيقها وممزوج بالحقائق العلمية والرؤية التنبؤية.


ب- () وقود مكون من الإيثانول بنسبة ٨٥% ومن البنزين بنسبة ١٥%.

ج- () المرأة الحقيقية للمنظومة الثقافية المتكاملة، تضم النتاج التراكمي لمجمل موجات الإبداع والابتكار التي تتناقلها أجيال الشعب الواحد في شتى أشكال التعبير الثقافي.

(٢٥) عدد ثلاثة من مخاطر تمويل تكنولوجيا الطاقة المتجددة.

(٢٦) ما المشكلتان اللتان واجهتهما ورش غزل النسيج نتيجة وجودها على مساقط المياه عند بداية الثورة الصناعية؟

٢٧- انظر إلى الشكل الآتي ثم أجب عن الأسئلة التي تليه :



أ- سمِّ مخترع الآلة الظاهرة بالشكل.

ب- ما القوة التي تعمل بها هذه الآلة؟

السؤال الرابع:

٢٨) ما الأفكار التي يركز عليها المفهوم الحديث للتنوع الثقافي؟

٢٩) لماذا تحرك المجتمع الدولي نحو حماية تنوع أشكال التعبير الثقافي؟

٣٠) كيف استغل الإنسان طاقة الرياح في بدايات العصور التاريخية؟

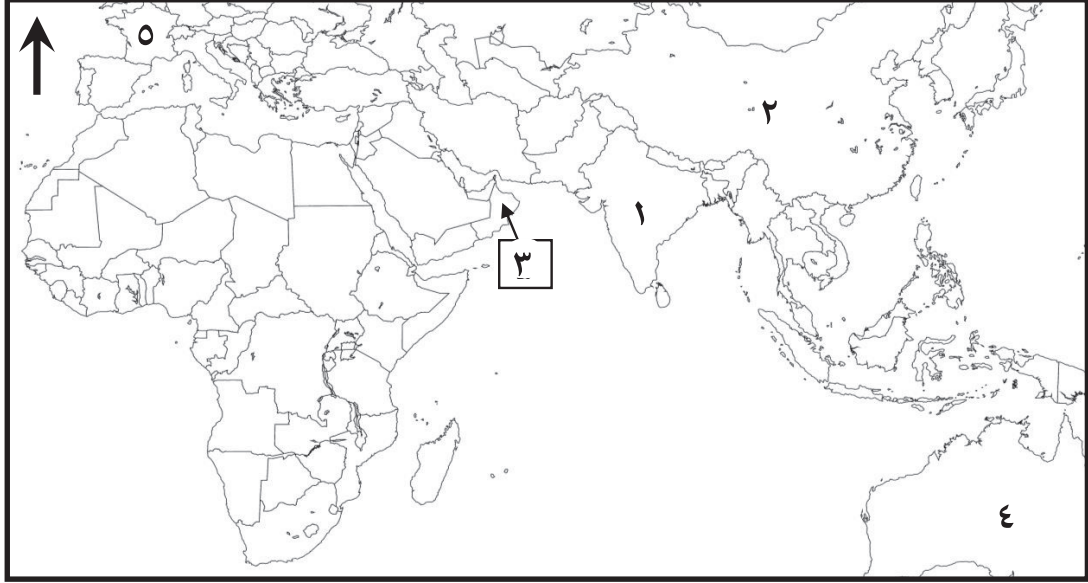
٣١) أعط مقترحاً لتخفيض كلفة استعمال الرياح لإنتاج الطاقة.

لاتكتب في هذا الجزء

لاتكتب في هذا الجزء

تابع السؤال الرابع:

(٣٢) ادرس الخريطة التي أمامك، ثم أجب عن الأسئلة التي تليها :



أ- اكتب في الخريطة الرمز (أ) على الدولة العربية الأفريقية التي كانت من المؤسسين لمنظمة الأوبك.

ب- ما الرقم الذي يشير إلى الدولة التي دخلت منها بعض الآلات الموسيقية وفنونها إلى عُمان؟

ج- ظلل المسطح المائي الذي انطلقت منه رحلة الفينيقيين حول القارة الأفريقية في القرن السادس قبل الميلاد.

د- ما مصدرا الطاقة اللذان أسهما عام ٢٠٠٥م بنسبة ٨٥% من الدخل القومي للدولة المشار إليها بالرقم (٣)؟

انتهت الأسئلة، مع تمنياتنا لكم بالتوفيق والنجاح