

مُسَوِّدَة، لا يتم تصحيحها

لا تكتب في هذا الجزء

لا تكتب في هذا الجزء

لا تكتب في هذا الجزء

أجب عن جميع الأسئلة الآتية:

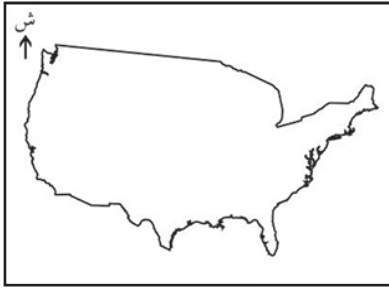
السؤال الأول:

ظل الشكل (○) المقترن بالإجابة الصحيحة لكل مفردة من المفردات الآتية:

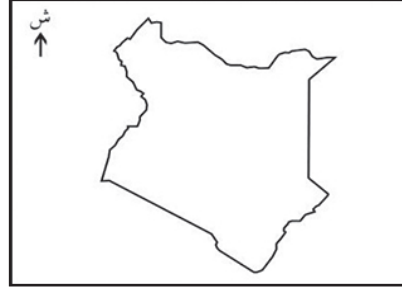
١- الحصن الذي يضم مكتبة دولة اليعاربة:

- الحزم ○ جبرين ○ الرستاق ○ نزوى

٢- خريطة الدولة التي استوردت منها عمان خشب الساج في العصر الإسلامي:



○



○



○



○

٣- المصطلح الذي يشمل إنتاج المعرفة وتحويلها وتخزينها ونشرها:

- الحداثة ○ المعلوماتية ○ العولمة ○ المواطنة

٤- المشرف على بيت المال في عهد الإمام أحمد بن سعيد:

- الإمام ○ رئيس الوكلاء ○ القاضي ○ رئيس الشرطة

٥- تصبح المخلفات الإشعاعية خطرة إذا تجاوز نشاطها الإشعاعي:

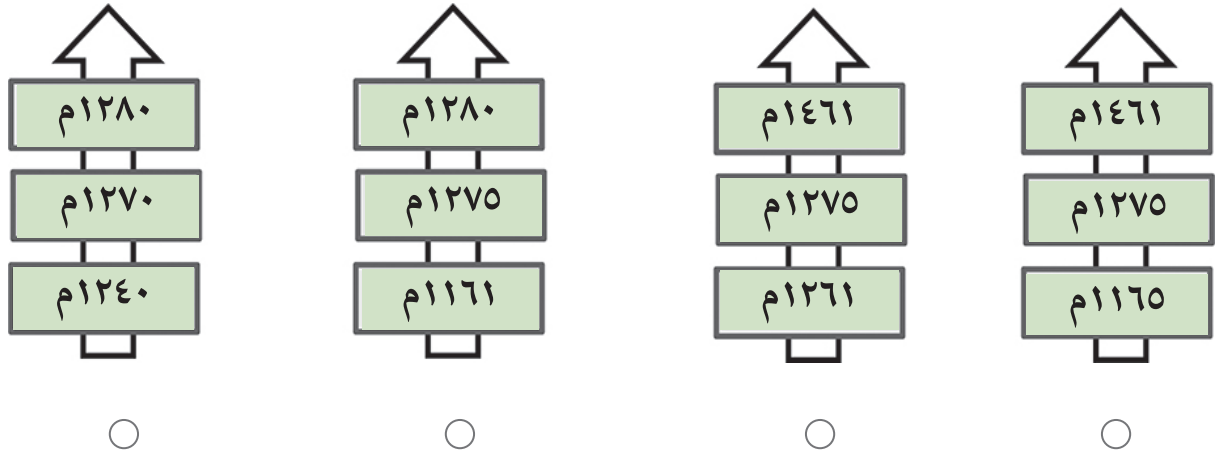
- ٧٠ بيكريل/جم ○ ٨٠ بيكريل/جم ○ ٩٠ بيكريل/جم ○ ١٠٠ بيكريل/جم

تابع السؤال الأول:

٦- بلغ عدد مرات منح جائزة السلطان قابوس لحماية البيئة منذ إنشائها وحتى نهاية عام ٢٠١١ م:

- ١١ ○ ١٦ ○ ٢٢ ○ ٢٨ ○

٧- السلم الزمني الصحيح الذي يبين هجمات الفرس على عمان في عهد النباهنة:



٨- رئيس مجلس الوزراء العماني عام ١٩٢٩ م السيد:

- تركي بن سعيد ○ سعيد بن تيمور ○ نادر بن فيصل ○ فيصل بن تركي ○

٩- العام الميلادي الذي يمثل أعلى نسبة عجز مائي في سلطنة عمان خلال الفترة من ١٩٩٠-٢٠٠٠ م:

- ١٩٩٠ ○ ١٩٩٤ ○ ١٩٩٧ ○ ٢٠٠٠ ○

١٠- المحافظة التي تقع فيها أكبر محطة تحلية مياه في سلطنة عمان:

- مسقط ○ جنوب الشرقية ○ مسندم ○ جنوب الباطنة ○

١١- النشاط السياحي الذي تحدث عنه المؤتمر المنعقد في سلطنة عمان بتاريخ ٢٦-٢٨ فبراير عام ٢٠٠٦ م:

- الثقافي ○ الجيولوجي ○ البيئي ○ التراثي ○

لا تكتب في هذا الجزء

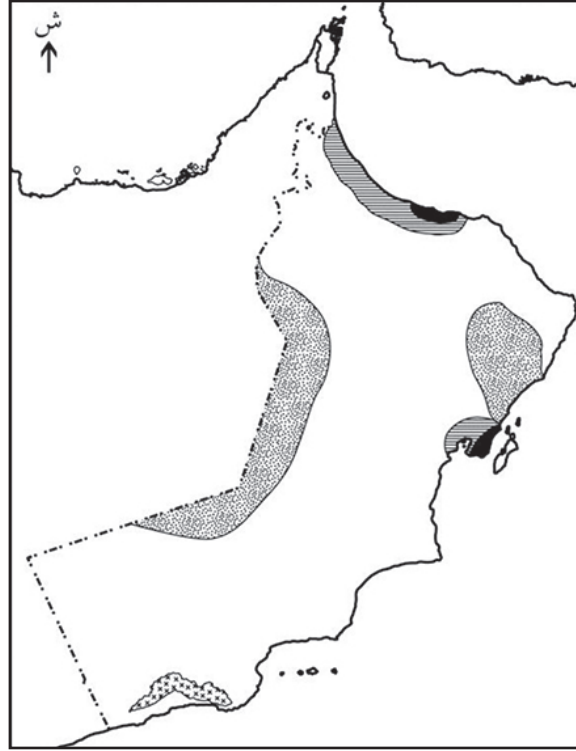
لا تكتب في هذا الجزء

تابع السؤال الأول:

١٢- المرحلة التي يبدأ فيها تحوّل سلوك الفرد إلى عضو اجتماعي فاعل وفق تعريف مفهوم التنشئة الاجتماعية :

- التعديل ○ الخبرات ○ الممارسات ○ الاكتساب

١٣ - أمامك خريطة توضح المشكلات البيئية في سلطنة عمان، اختر المفتاح المناسب لها:



- تدهور مراعي (horizontal lines)
تآكل الشاطئ (cross-hatch)
زحف الرمال (dotted)
تملح المياه الجوفية (cross-hatch)

○

- تملح المياه الجوفية (horizontal lines)
زحف الرمال (dotted)
تآكل الشاطئ (cross-hatch)
تدهور مراعي (solid black)

○

- تآكل الشاطئ (solid black)
تملح المياه الجوفية (horizontal lines)
زحف الرمال (dotted)
تدهور مراعي (cross-hatch)

○

- تدهور مراعي (cross-hatch)
زحف الرمال (solid black)
تملح المياه الجوفية (cross-hatch)
تآكل الشاطئ (horizontal lines)

○

تابع السؤال الأول:

١٤- الصورة الفائزة بالميدالية الفضية على مستوى العالم عام ٢٠٠٦م:



السؤال الثاني:

١٥- علل ما يأتي:

أ- تمكّن العمانيون من تثبيت النظام في جزيرة سقطرى.

ب- قلة استفادة سلطنة عمان من كميات الأمطار الساقطة أثناء تشكّل العواصف المطرية.

لا تكتب في هذا الجزء

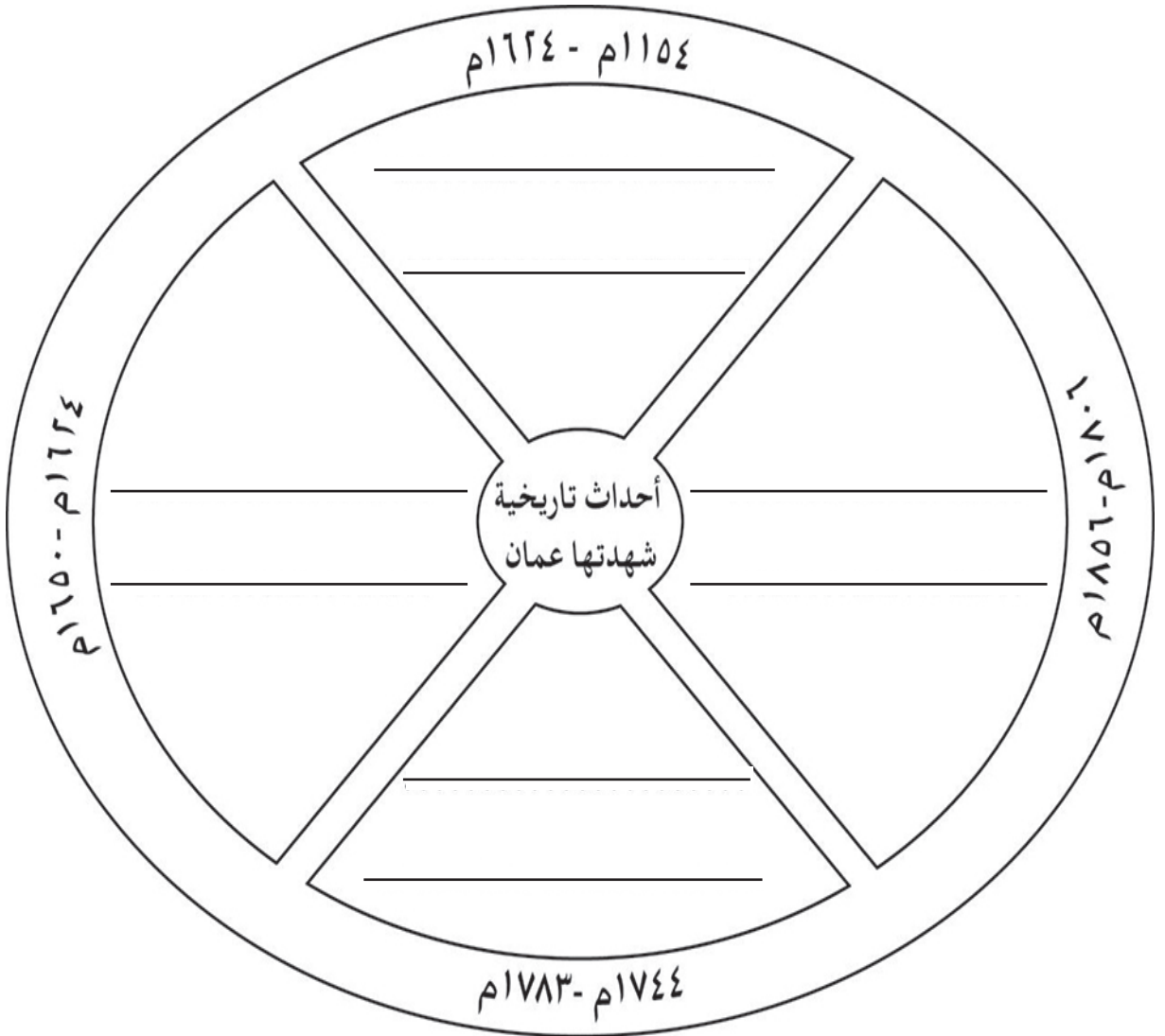
لا تكتب في هذا الجزء

تابع السؤال الثاني: (١٥- علق ما يأتي)

ج- تعدّ الأسرة أهمّ مؤسسات التنشئة الاجتماعية للحفاظ على العادات والتقاليد.

١٦ - أملك مجموعة من الأحداث التاريخية التي شهدتها عمان . أعدّ توزيعها بشكل مناسب على المراحل التاريخية في الدائرة الآتية:

(كسر الحصار الفارسي على البصرة - القوة العالمية الثانية بحرا - حكم بني نبهان - طرد البرتغاليين)

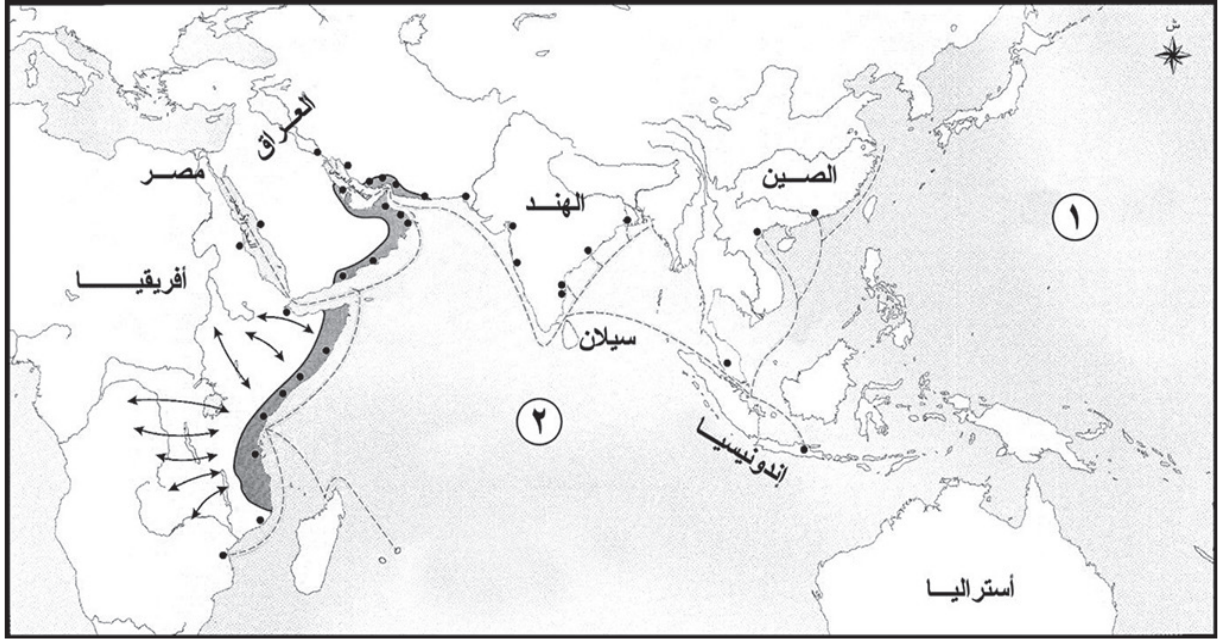


لا تكتب في هذا الجزء

لا تكتب في هذا الجزء

تابع السؤال الثاني:

١٧ - أمامك خريطة توضح النشاط العماني في المحيط الهندي، ادرسها ثم أجب عن الأسئلة التي تليها:



أ- ما الرقم الذي يشير إلى الموقع الصحيح للمحيط الهندي؟

ب - ضع دائرة حول المنطقة التي امتد إليها نشاط الأسطول العماني التجاري لأول مرة زمن الامام أحمد بن سعيد.

ج - استخراج الرموز الصحيحة التي تشير إلى الدلالات الموضحة في الجدول الآتي:

دلالة الرمز	شكل الرمز في الخريطة
الامتداد العماني	
طرق التجارة البحرية	
مراكز عمانية	
طرق التجارة البرية	

لا تكتب في هذا الجزء

لا تكتب في هذا الجزء

السؤال الثالث:

١٨- برهن صدق العبارات الآتية:

أ - تعد الفترة من (١٨٨٨م - ١٩٣٢م) من الفترات التاريخية الصعبة على عمان محليا وإقليميا ودوليا.

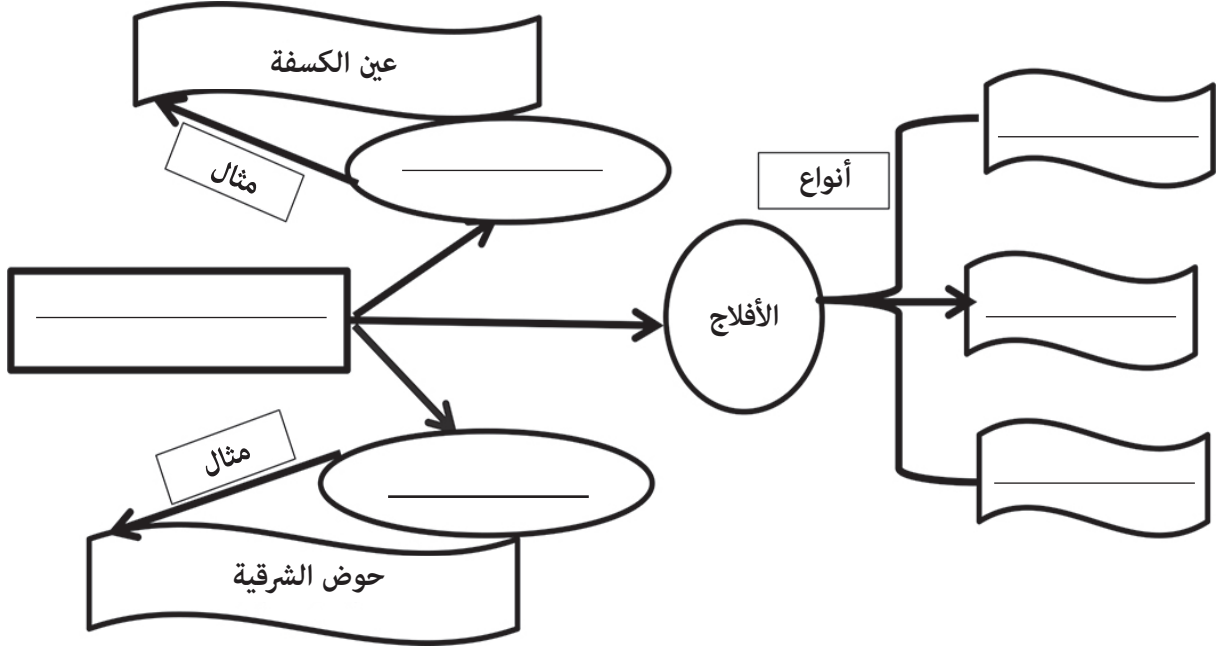
(يجب ذكر برهان محلي - إقليمي - دولي)

ب- بدأت سلطنة عمان مبكرا في وضع التشريعات في مجال البيئة البحرية.

ج - تعد سنة ١٩٧٥م مهمة في مسيرة الرعاية الشبابية في سلطنة عمان.

تابع السؤال الثالث:

١٩- المخطط الذي أمامك يمثل أحد الموارد المائية في سلطنة عمان. أكمله بكتابة الإجابة الصحيحة :



٢٠- ما الاسم المحلي الذي أطلقه العمانيون قديما على نظم إدارة الموارد المائية الآتية:

<p>_____</p> <p>_____</p>	<p>استخراج المياه من الآبار اليدوية المفتوحة.</p>
<p>_____</p> <p>_____</p>	<p>تمكين قنوات الأفلاج من عبور مجاري الأودية</p>

٢١- وضح الأثر الذي ترتب على تنوع البيئات الحضرية في عمان.

لا تكتب في هذا الجزء

لا تكتب في هذا الجزء

السؤال الرابع:

٢٢- تضمّ البيئة العمانية العديد من الحيتان والدلافين والنباتات والزواحف مما ساعد في تحقيق التنوع الإحيائي .

في ضوء العبارة السابقة أجب عن الأسئلة الآتية:

أ- ما المقصود بالتنوع الإحيائي؟

ب- رتب الأنواع الواردة في العبارة السابقة بدءًا بأكثرها وجودًا في البيئة العمانية.

٢٣- تشهد الساحة الدولية في الوقت الحاضر متغيرات عالمية وظواهر عدة مثل العولمة والحدائق.

أ- ما القارة التي بدأ فيها ظهور ما يعرف بظاهرة الحدائق؟

ب- اقترح اثنين من الحلول التي تمكّن الشباب من الحفاظ على الهوية الوطنية في ظل تحديات العولمة.

تابع: السؤال الرابع :

٢٤- كيف تعمل الكشافة والمرشدات على تأهيل الشباب وصقل مهاراتهم؟

٢٥- استرشد بالجدول أمامك والذي يمثل (المشاريع التي تمت الموافقة عليها لبرنامج سند بسلطنة عمان) في الإجابة على الأسئلة التي تليه:

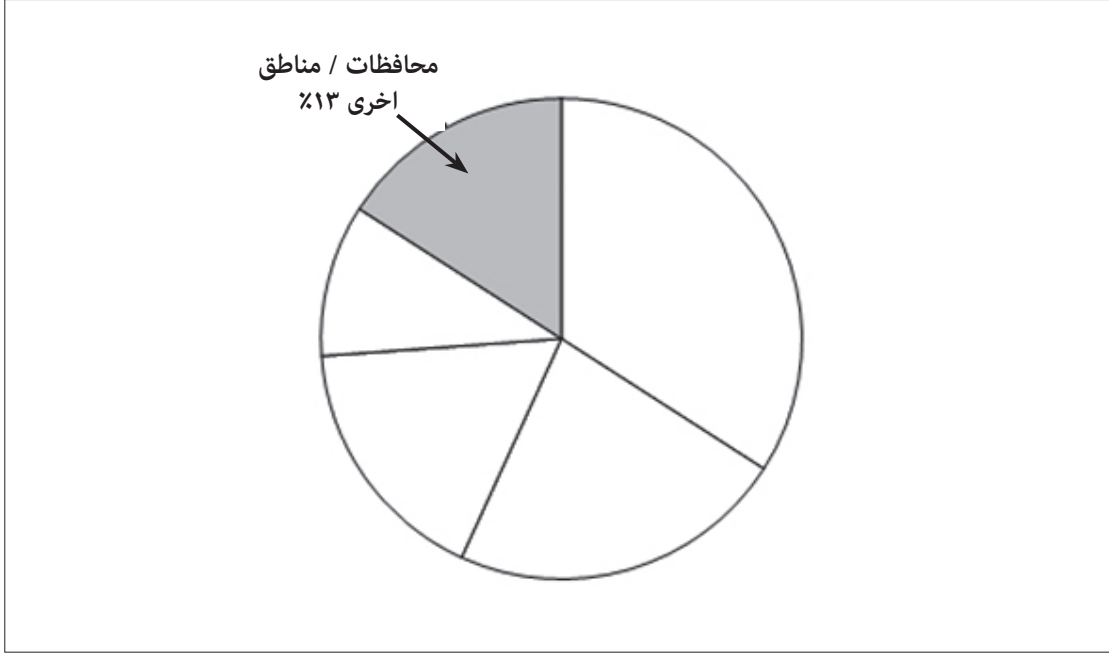
المحافظة / المنطقة	عدد المشاريع	نسبة عدد المشاريع
مسقط	١٤٧	%٢٨
ظفار	٢٠	%٤
الداخلية	٦٥	%١٣
الشرقية	١٢٦	%٢٤
الظاهرة	٣٨	%٧
الباطنة	١١٦	%٢٢
مسندم	٣	%٠,٦
الوسطى	٧	%١,٤
المجموع	٥٢٢	%١٠٠

لاتكتب في هذا الجزء

لاتكتب في هذا الجزء

تابع: السؤال الرابع :

أ- اكتب في المكان الصحيح على الدائرة البيانية الآتية أسماء (المحافظات / المناطق) الأكثر استفادة من برنامج سند حسب نسبة كل منها.



ب- سمّ المحافظات اللتين تشكلان نسبة ٥٠% من عدد المشاريع الممولة عن طريق برنامج سند.

ج- استخرج حقيقة جغرافية تتعلق بمشاريع برنامج سند في محافظة مسندم.

انتهت الأسئلة، مع تمنياتنا لكم بالتوفيق والنجاح

مُسَوِّدَة

لاتكتب في هذا الجزء

لاتكتب في هذا الجزء

لاتكتب في هذا الجزء

مُسَوِّدَة

لاتكتب في هذا الجزء

لاتكتب في هذا الجزء

لاتكتب في هذا الجزء

لاتكتب في هذا الجزء

لاتكتب في هذا الجزء

لاتكتب في هذا الجزء