



المديرية العامة للتربية والتعليم بمحافظة جنوب الشرقية

امتحان الصف الخامس

للعام الدراسي ١٤٣٥/١٤٣٦ هـ - ٢٠١٤/٢٠١٥ م

الفصل الدراسي الأول - الدور الأول

- عدد صفحات اسئلة الامتحان: (٥ صفحات) .
- الإجابة في الورقة نفسها.

- المادة: الدراسات الاجتماعية
- زمن الإجابة: ساعة ونصف الساعة

اسم الطالب	
المدرسة	
الصف	

(التوقيع بالاسم)	الدرجة بالحروف (بالأحمر)	الدرجة بالأرقام (بالأحمر)		السؤال
		عشرات	آحاد	
المدقق (بالأخضر)	المصحح (بالأحمر)			١
				٢
				٣
				٤
	مراجعة الجمع والتشطيب (بالأزرق)	جمعه (بالأحمر)		المجموع
				المجموع الكلّي

امتحان الصف الخامس
للعام الدراسي ١٤٣٥/١٤٣٦ هـ - ٢٠١٤/٢٠١٥ م
الفصل الدراسي الأول - الدور الأول
المادة: الدراسات الاجتماعية

أجب عن جميع الأسئلة الآتية

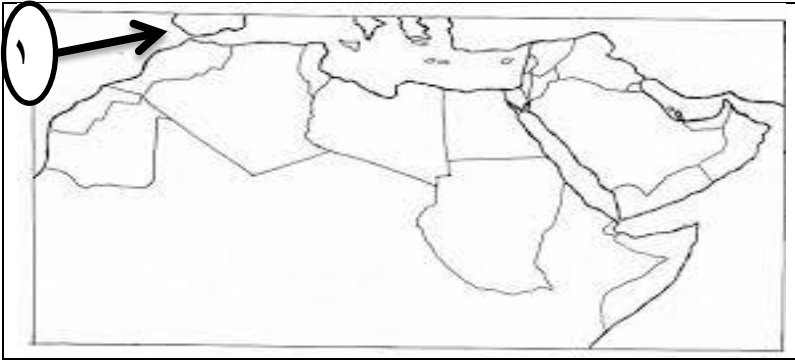
السؤال الأول: ضع دائرة حول رمز الإجابة الصحيحة لكل مفردة من المفردات الآتية: (١٦ درجة)

١- توجد جبال الأطلس الأعلى في:

- أ- السودان ب- تونس ج- المغرب د- مصر

٢- يصنف المناخ في جبال عسير في المملكة العربية السعودية بالمناخ:

- أ- الموسمي ب- البحر المتوسط ج- الصحراوي د- الجاف وشبه الجاف

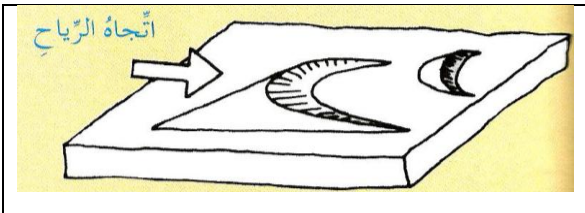


٣- يشير الرقم (١) إلى مضيق:

- أ- جبل طارق ب- هرمز
ج- باب المندب د- البوسفور

٤- الدولة العربية التي لا يظهر فيها المناخ الصحراوي هي:

- أ- سلطنة عمان ب- البحرين ج- سوريا د- لبنان



٥- الكتيب الرملي الذي يظهر في الصورة هو:

- أ- النجمي ب- الطولي
ج- الهلالي د- الدائري

٦- الخليفة الراشدي الذي قضى على حركة الردة في جميع أنحاء شبه الجزيرة العربية:

- أ- أبو بكر الصديق ب- عمر بن الخطاب ج- علي بن أبي طالب د- عثمان بن عفان

٧- كانت رحلة أهل مكة قبل الإسلام صيفا إلى بلاد:

- أ- اليمن ب- الشام ج- الهند د- الصين

(٢)

امتحان الصف الخامس

للعام الدراسي ١٤٣٥/١٤٣٦ هـ - ٢٠١٤/٢٠١٥ م

الفصل الدراسي الأول - الدور الأول

المادة: الدراسات الاجتماعية

تابع السؤال الأول:


٨- تشير الصورة التي أمامك إلى نوع من الدالات النهرية:

ب- أرجل الطائر

أ- النجمي

د- المثلثي

ج- الحلزوني



(٨ درجات)

السؤال الثاني: أجب عن الأسئلة الآتية:

١- استبدل العبارات الآتية بالمصطلح أو المفهوم الدال عليها :

أ- (أراضي منبسطة "قليلة الانحدار" ترتفع عما يجاورها من أراضٍ.

ب- (حالة الجو لفترة زمنية قصيرة لا تتجاوز عدة أيام فقط.

ج- (الطبقة المفتتة من قشرة الأرض، وتنمو فيها النباتات.

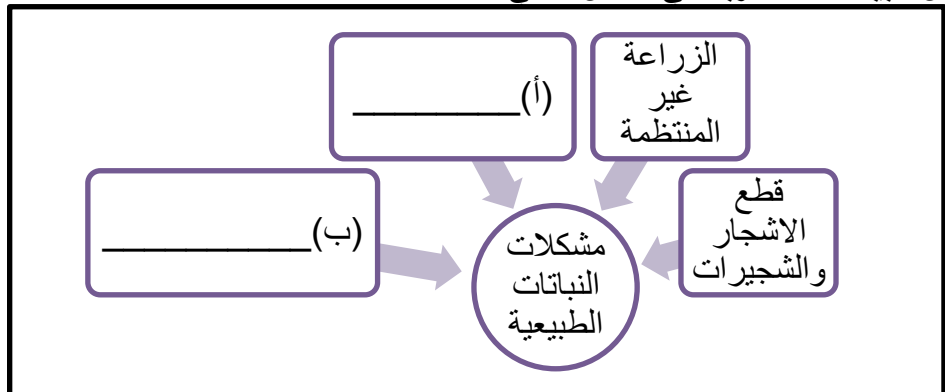
د- (المدن الجديدة التي بنيت لتكون مركزاً للجند.

٢- فسر كل من:

أ- انخفاض عدد السكان في السهول الداخلية؟

ب- كثرة تنقل البدو من مكان إلى آخر؟

٣- أكمل البيانات المطلوبة في الشكل الآتي:



(٣)
امتحان الصف الخامس
للعام الدراسي ١٤٣٥/١٤٣٦ هـ - ٢٠١٤/٢٠١٥ م
الفصل الدراسي الأول - الدور الأول
المادة: الدراسات الاجتماعية

السؤال الثالث: أجب عن الأسئلة الآتية: (٨ درجات)

- ١- قارن بين إقليم مناخ البحر المتوسط وإقليم المناخ الموسمي من حيث:
(أ) الموقع والامتداد
(ب) الخصائص المناخية

م	الإقليم	(أ) الموقع والامتداد	(ب) الخصائص المناخية
١	مناخ البحر المتوسط		
٢	المناخ الموسمي		

- ٢- رتب الأحداث التاريخية التالية من الأقدم إلى الأحدث:

- () غزوة الخندق "الأحزاب"
() صلح الحديبية
() عام الوفود
() معركة بدر

- ٣) أمامك جدول يوضح توزيع درجات الحرارة والأمطار الشهرية في بيروت (لبنان)، ادرسه جيداً ثم أجب عن الأسئلة التالية:

الشهر	يناير	فبراير	مارس	أبريل	مايو	يونيو	يوليو	أغسطس	سبتمبر	أكتوبر	نوفمبر	ديسمبر
درجات الحرارة (س)	١٠	١٢	١٤	١٦	١٩	٢٢	٢٦	٢٧	٢٥	٢٤	١٧	١٢
الأمطار (مليمترات)	٢,٨	٩,٠	٤٥	١٨	٥	-	-	-	٥	٤٥	١٢	١٩٨

- (أ) أعلى درجة حرارة سجلت في شهر: _____
(ب) الأشهر التي لم تسقط فيها الأمطار: _____
(ج) الشهر الذي تزيد فيه كمية الأمطار عن ١٠٠ ملليمتر: _____
(د) علل : إنشاء عدد من السدود الكبرى على الأنهار الرئيسية والأودية؟

- _____
■ _____

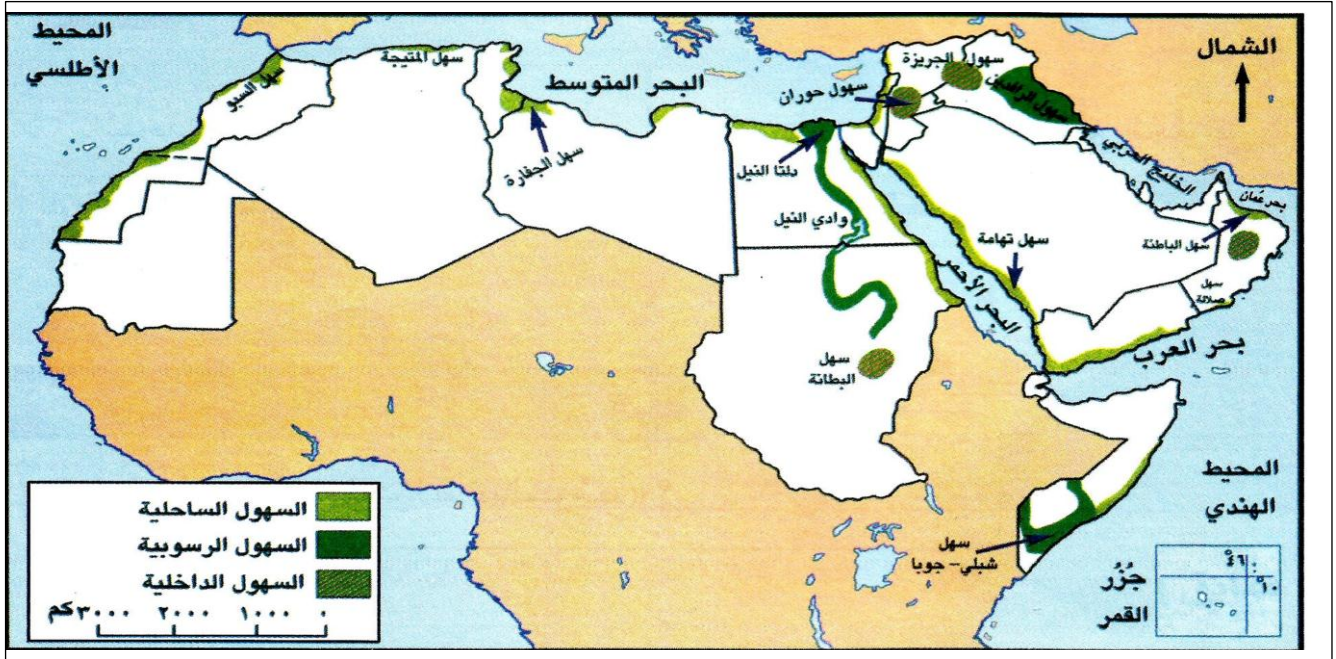
السؤال الرابع: أجب عن الأسئلة الآتية: (٨ درجات)

١- أذكر اثنين لكل من:

(أ) الدول العربية التي تمر بها دائرة الاستواء:

(ب) الأسباب التي تؤدي إلى اختلاف نوعية النباتات وكثافتها من منطقة لأخرى:

٢- مستعيناً بالخريطة التي أمامك:



• صنف السهول التالية إلى سهول ساحلية وسهول داخلية:

(سهل تهامة - سهل الباطنة - سهل حوران - سهل البطانة)

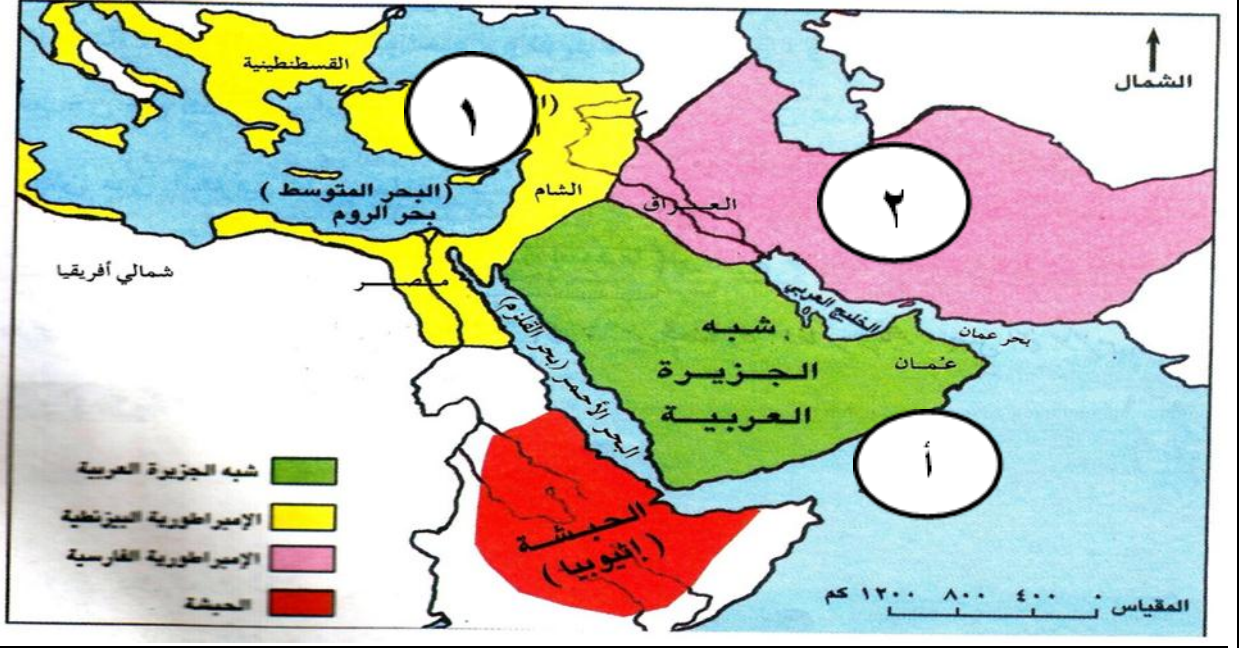
سهول ساحلية	سهول داخلية

يتبع/٥

امتحان الصف الخامس
للعام الدراسي ١٤٣٥/١٤٣٦ هـ - ٢٠١٤/٢٠١٥ م
الفصل الدراسي الأول - الدور الأول
المادة: الدراسات الاجتماعية

تابع السؤال الرابع:

٣- أستعن بالخريطة التي أمامك ثم أجب عن الأسئلة الآتية:



أ- الديانة التي كانت تنتشر في الإمبراطورية المشار إليها بالرقم (٢):

ب- كان الحاكم في الإمبراطورية المشار إليها بالرقم (١) يعرف بـ:

ج- المسطح المائي المشار إليها بالرمز (أ) هو:

د- علل : سبب اهتمام أبناء القبيلة بالجمال والخيول:

انتهت الأسئلة، مع تمنياتنا لكم بالتوفيق والنجاح.