



امتحان الصف الثامن  
للعام الدراسي ١٤٣٥/١٤٣٦ هـ - ٢٠١٤/٢٠١٥ م  
الفصل الدراسي الأول - الدور الأول

- عدد صفحات أسئلة الامتحان (٥)
- الإجابة في الورقة نفسها.

- المادة: الدراسات الاجتماعية
- زمن الإجابة: ساعة ونصف

اسم الطالب	
المدرسة	
الصف	

السؤال	الدرجة بالأرقام (بالأحمر)		الدرجة بالحر وف (بالأحمر)	التوقيع بالاسم	
	آحاد	عشرات		المصحح (بالأحمر)	المدقق (بالأخضر)
١					
٢					
٣					
٤					
المجموع			جمعه (بالأحمر)	مراجعة الجمع والتشطيب (بالأزرق)	
المجموع الكلي					

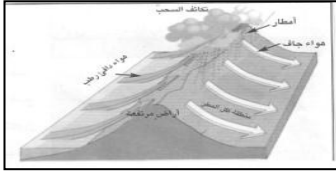
امتحان الصف الثامن  
للعام الدراسي ١٤٣٥/١٤٣٦ هـ - ٢٠١٤/٢٠١٥ م  
الفصل الدراسي الأول - الدور الأول  
المادة: الدراسات الاجتماعية

أجب عن جميع الأسئلة الآتية:

السؤال الأول: ضع دائرة حول رمز الإجابة الصحيحة لكل مفردة من المفردات الآتية: ١٦ درجة

١- من خصائص المناخ الاستوائي:

أ- مناخ معتدل	ب- مناخ بارد	ج- مناخ ثابت	د- مناخ جاف
درجات حرارة منخفضة	درجات حرارة ثابتة	امطار تصاعديه	درجات حرارة عالية



٢- نوع المطر في الصورة التي أمامك من الأمطار:

أ- التضاريسية      ب- التصاعدي      ج- الإعصارية      د- الموسمية

٣- من طرق القوافل البرية العمانية في شرقي أفريقيا يمتد من كلوه جنوبي تنجانيقا وشمالى موزمبيق الى بحيرة نياسالطريق:

أ- الشمالي      ب- الجنوبي      ج- الأوسط      د- الغربي

٤- يبلغ عدد أبواب النظام الأساسي للدولة :

أ- خمسة      ب- ستة      ج- سبعة      د- ثمانية

٥- الإمام الذي قاد مقاومة العمانيين ضد الفرس في مدينة صحار :

أ- سلطان بن مرشد      ب- أحمد بن سعيد      ج- سلطان بن احمد      د- سعيد بن سلطان

٦- تتناسب درجة الحرارة مع عامل الارتفاع بعلاقة :

أ- طردية      ب- عكسية      ج- متساوية      د- أ-ج

٧- تعتبر من حقوق المواطن في النظام الأساسي للدولة :

أ- الدفاع عن الوطن      ب- الجنسية      ج- التعاضد      د- التراحم

٨- الرقم (١) بالشكل يشير إلى ميناء الذي استأجرته حكومة السيد

سعيد بن سلطان من بلاد فارس :

أ- البصرة      ب- سيراف      ج- بندر عباس      د- لنجا



(٢)

تابع امتحان الصف الثامن  
للعام الدراسي ١٤٣٥/١٤٣٦ هـ - ٢٠١٤/٢٠١٥ م  
الفصل الدراسي الأول - الدور الأول  
المادة: الدراسات الاجتماعية

( ٨ درجات )

السؤال الثاني :

أولاً : أجب عن الأسئلة التالية :

١- مم يتكون مجلس عمان حسب النظام الأساسي للدولة ؟

أ- .....  
ب- .....

٢- ماذا يقصد بالجمرك؟

.....

ثانياً : بم تفسر الآتي :

١- الاهتمام بمشاريع التشجير وزيادة المساحات الخضراء في المدن والتجمعات السكانية ؟

.....

٢- اهتمام جلالة السلطان بالمواطن في بناء الدولة وعلاقته بالتنظيم الإداري ؟

.....

.....

ثالثاً : صنف في الجدول التالي الأقاليم التالية حسب دوائر العرض المعطاة :

دوائر العرض هي : ( ٣٠-١٨ ) - ( ١٨-٨ ) - ( ٣٠-٤٠ )

الدائرة العرضية	الإقليم
١-.....	١- الحار الجاف
٢-.....	٢- البحر المتوسط
٣-.....	٣- الموسمي

(٣)

تابع امتحان الصف الثامن  
للعام الدراسي ١٤٣٥/١٤٣٦ هـ - ٢٠١٤/٢٠١٥ م  
الفصل الدراسي الأول - الدور الأول  
المادة: الدراسات الاجتماعية

السؤال الثالث : ( ٨ درجات )



أولاً :- بالنظر إلى صورة الشخصية أجب عما يلي :

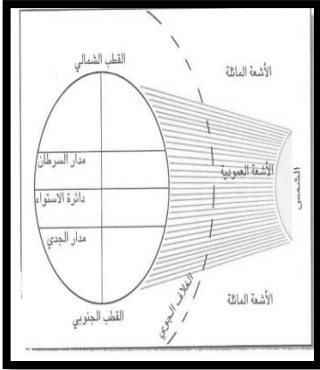
- ١- ما اسم هذه الشخصية ؟ .....
- ٢- في عهد من برزت هذه الشخصية؟ .....
- ٣- السفينة التي قادها إلى مدينة نيويورك هي .....

ثانياً : أجب عن الأسئلة التالية:

١- أدرس الشكل التالي، ثم أجب عن الأسئلة التالية :

أ - ما نوع الأشعة التي تسقط على دائرة الاستواء؟

- ب- كلما اتجهنا من المناطق الاستوائية الى المناطق القطبية فان  
زاوية سقوط اشعة الشمس.....  
٢- من خلال التجربة التالية :

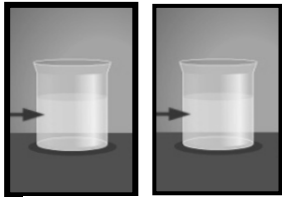


كأس فيه ماء وكأس فيه رمل وترموتر نضع الكؤوس في الشمس  
أيهما يسخن ويسجل درجة حرارة عاليه بسرعة ؟

كأس الماء

كأس الرمل

أختر الإجابة الصحيحة .



ماء رمل

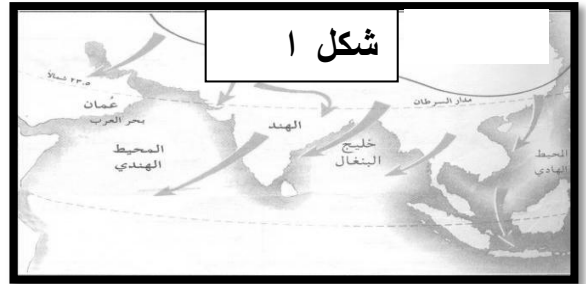
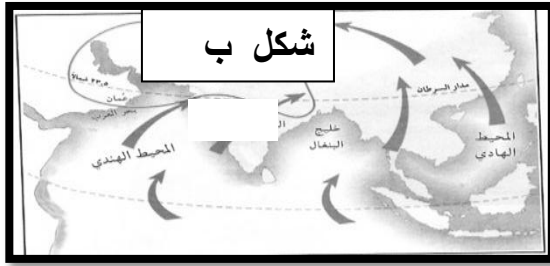
السبب : .....

(٤)

تابع امتحان الصف لثامن  
للعام الدراسي ١٤٣٥/١٤٣٦ هـ - ٢٠١٤/٢٠١٥ م  
الفصل الدراسي الأول - الدور الأول  
المادة: الدراسات الاجتماعية

تابع السؤال الثالث :

ثالثا: قارن بين مناطق الضغط في القارة الآسيوية :



ب	أ	وجه المقارنة
		نوع الضغط
		الفصل السائد

السؤال الرابع: أجب عن الأسئلة التالية: (٨ درجات)  
أولا : ١- ادرس المخطط البياني التالي وأجب عما يلي  
أ- المخطط الذي أمامك يدرس عنصرين من  
عناصر المناخ هما :

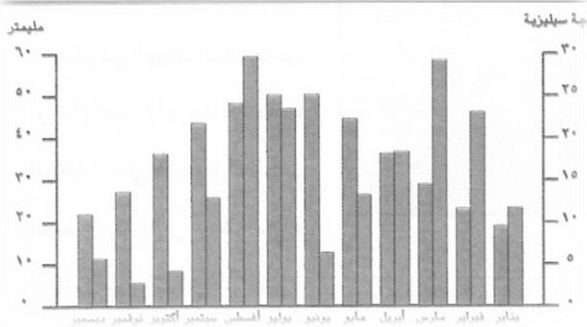
١- .....  
٢- .....

ب- ماهو العنصر المناخي الذي يقاس بالمليمتر  
من خلال الرسم البياني؟ .....

٢- (اهتم حكام دولة أبوسعيد اهتماما خاصا بالعلاقات الدولية.....)  
\*بعد قراءتك للفقرة السابقة ، أجب عن الأسئلة التالية:  
أ- اذكر أدلة على العلاقات الحسنة مع الدولة العثمانية ؟

.....  
.....

يتبع ص ٥



(٥)

تابع امتحان الصف الثامن الأساسي  
للعام الدراسي ١٤٣٥/١٤٣٦ هـ - ٢٠١٤/٢٠١٥ م  
الفصل الدراسي الأول - الدور الأول  
المادة: الدراسات الاجتماعية

تابع السؤال الرابع :  
ب- في رأيك هل مازالت السلطنة ترتبط بعلاقات حسنة مع هذه الدول ؟

.....

ثانياً: من خلال الشكل الذي أمامك : استخراج النسبة المئوية للرطوبة  
إذا كانت قراءة الترمومتر الجاف ٤٤ س وكان المبلل ٣٧ س  
الحل

.....  
.....

الفرق بين قراءتي الترمومتريين الجاف والمبلل									قراءة الترمومتر
٩	٨	٧	٦	٥	٤	٣	٢	١	حرارة الجاف
٥٤	٥٩	٦٣	٦٨	٧٣	٧٨	٨٣	٨٨	٩٤	٤٥
٥٤	٥٨	٦٣	٦٨	٧٢	٧٨	٨٣	٨٨	٩٤	٤٤
٥٣	٥٨	٦٢	٦٧	٧٢	٧٧	٨٣	٨٨	٩٤	٤٣

ثالثاً: من النطق السامي

(إن الأمم لا تبني إلا بسواعد أهلها ، وإن رقيها في مدارج الحضارة والتقدم لا يتم إلا عن طريق العلم والخبرة والتدريب والتأهيل )

من خلال الخطاب السامي اجب عن الأسئلة التالية :

١- ركز جلالة السلطان المعظم في النطق السامي على عوامل لبناء الحضارة ؟


أ.....  
ب.....


ج.....  
د.....

٢- كيف تساهم كمواطن في بناء حضارة السلطنة ؟

.....  
.....

انتهت الأسئلة، مع تمنياتنا لكم بالتوفيق والنجاح.









المديرية العامة للتربية والتعليم

بمحافظة جنوب - الشرقية

نموذج إجابة الامتحان النهائي لمادة الدراسات الاجتماعية للصف الثامن

للعام الدراسي ١٤٣٥/١٤٣٦ هـ - ٢٠١٤/٢٠١٥ م

الدور الأول - الفصل الدراسي الأول

• الدرجة الكلية ٤٠ درجة

• المادة: الدراسات الاجتماعية

• تنبيه: الإجابة في ( ٣ ) صفحات

الدرجة الكلية ١٦ درجة		إجابة السؤال الأول : لكل مفردة درجتان	
الصفحة	الدرجة	البديل الصحيح	المفردة
٤٢	درجتان	ج (مناخ ثابت - أمطار تصاعدية)	١
٣٩	درجتان	أ (تضاريسية)	٢
٦٥	درجتان	ب (الجنوبي)	٣
٨٦	درجتان	ج ( سبعة أبواب)	٤
٥٤	درجتان	أ (الإمام سلطان بن مرشد)	٥
١٥	درجتان	ب (عكسية )	٦
٩١	درجتان	ب (الجنسية )	٧
٧١	درجتان	ج (ندر عباس )	٨

مجموع الدرجات ٢ × ٨ = ١٦ درجة

يتبع ص ٢

الدرجة الكلية ٨ درجات		إجابة السؤال الثاني		
ص	الدرجة	الإجابة الصحيحة	المفردة	الجزئية
٩٥	درجتان لكل مفردة درجة	أ- مجلس الشورى ب- مجلس الدولة	١	أولاً
٦٥	درجة	الجمرك: جهاز إداري يتولى فرض الرسوم وتحصيلها على البضائع الواردة إلى مواني الدولة من الدول الأخرى	٢	
١٧	درجتان لكل مفردة درجة	-تعمل النبات على تلطيف الجو بمنعها الاشعاع الشمسي من الاتصال المباشر مع سطح الارض - كما تعمل على تكثيف بخار الماء في الهواء (درجه واحده) -لان الإنسان هو أداة التنمية وصانعها وهو إلى جانب ذلك هدفها وغايتها والمواطن يعد عنصرا مهما في تحقيق التطور والتقدم .	أ ب	ثانياً
٨٣	درجة			
٤٤	٣ درجات لكل مفردة درجة	الحار الجاف (١٨-٣٠) المتوسط (٣٠-٤٠) الموسمي (٨-١٨)		ثالثاً
٤٨				
٤٦				

الدرجة الكلية ٨ درجات		إجابة السؤال الثالث		
الصفحة	الدرجة	الإجابة الصحيحة	المفردة	الجزئية
٧٧- ٧٦	ثلاث درجات لكل مفردة درجة	احمد بن النعمان الكعبي في عهد السيد سعيد بن سلطان سلطانه	١ ٢ ٣	أولاً
١٤	درجتان لكل درجه	أ- أشعة عمودية ب- تكون مائلة كأس الرمل	١ ٢	
٢٣	درجه واحده لكل نصف درجه	لان اليايس يسخن بسرعة ويفقد الحرارة بسرعة بعكس الماء		
٣٣	درجتان لكل نصف درجه	١- الضغط المرتفع - فصل الشتاء ب-الضغط المنخفض - فصل الصيف.		ثالثاً

الدرجة الكلية ٨ درجات

السؤال الرابع

الصفحة	الدرجة	الإجابة الصحيحة	المفردة	الجزئية
٤٩	درجة نصف درجة	أ- الحرارة - الأمطار ب- الأمطار	١	أولا
٧١	درجة ونصف درجة واحدة	أ- ارتبطت عمان بعلاقات حسنة مع الدولة العثمانية فعندما نجح الأسطول العماني في تحرير البصرة التي كانت خاضعة للدولة العثمانية قرر السلطان العثماني مصطفى الثالث صرف مكافأة سنوية للإمام احمد تدفع من خزينة الدولة فتوثقت العلاقة بين عمان والدولة العثمانية ب- *نعم مازالت العلاقات الطيبة تربط بين عمان وبين تركيا (أي إجابة يكتبها الطالب)	٢	
٣٧	نصف درجة	٧ درجات سيليزية	١	ثانيا
٩٨	نصف درجة	ب- عند الرجوع للجدول عند الفرق ٧ ودرجه الجاف ٤٤ فان الرطوبة الجوية تساوي ٦٣		
٨٤	درجتان لكل نصف درجة درجة واحده فقط	..... أ- العلم ب- الخبرة ج- التدريب د- التأهيل - عن طريق الاهتمام بدراستي والاجتهاد والمثابره (اي تعبير يعبر الطالب عنه يعتبر صحيحا)	١ ٢	ثالثا

اتتهت الإجابة