



سلطنة عمان

وزارة التربية والتعليم

المديرية العامة للتربية والتعليم لمحافظة جنوب الشرقية

الامتحان النهائي لمادة الدراسات الاجتماعية للصف السادس

للعام الدراسي ١٤٣٥/١٤٣٦ هـ - ٢٠١٤/٢٠١٥ م الفصل الدراسي الأول - الدور الأول

الاسم:

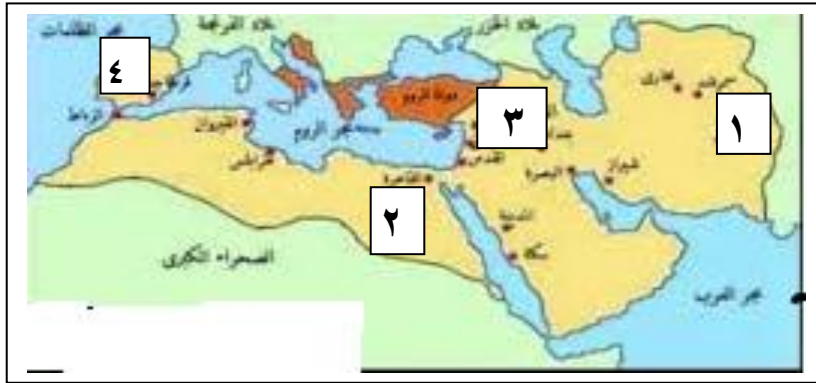
درجة الامتحان (٤٠)

المدرسة: زمن الإجابة: ساعة ونصف تنبيه: الأسئلة في (٥) صفحات

أجب عن جميع الأسئلة الآتية

السؤال الأول: ضع دائرة حول رمز الإجابة الصحيحة من بين البدائل المعطاة:

(١) من خلال الخريطة المقابلة ما الرقم الذي يشير الى أولى البلدان التي أعلنت استقلالها عن الدولة العباسية:




أ- ١

ب- ٢

ج- ٣

د- ٤



(٢) تبلغ درجة حرارة الصهير البركاني الواضح في الشكل الذي أمامك :

أ- ٧٠ س

ب- ٩٠ س

ج- ٥٠٠ س

د- ١٠٠٠ س

(٣) الترتيب الصحيح للدويلات الاسلامية الاتية من القديم الى الحديث :

أ	الامامة في عمان	الموحدون	المرابطون
ب	الموحدون	الامامة في عمان	المرابطون
ج	الامامة في عمان	المرابطون	الموحدون
د	المرابطون	الامامة في عمان	الموحدون

٤- العلاقات العدائية كانت تربط بين الدولتين :

أ- العباسية والأغالبة

ب- الرستمية والعباسية

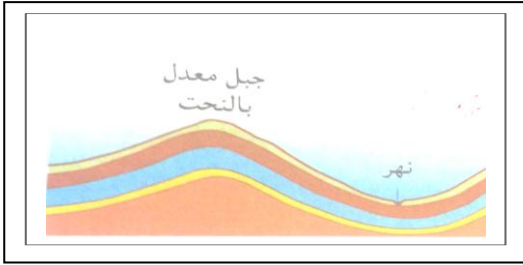
ج- الرستمية والأموية

د- الأدارسة والرستمية

تابع الامتحان النهائي لمادة الدراسات الاجتماعية للصف السادس
للعام الدراسي ١٤٣٥/١٤٣٦ هـ - ٢٠١٤/٢٠١٥ م الفصل الدراسي الأول - الدور الأول

تابع السؤال الاول:

٥- الشكل المقابل يرمز لـ احدى مراحل تشكل الجبال وهي المرحلة:



أ- الاولى

ب- الثانية

ج- الثالثة

د- الرابعة

٦- الصور التالية تمثل النظام الارضي. ما الصورة التي تمثل الغلاف الذي يحتوي على النفط والمعادن:



ب-




أ-

ضباب
وغيوم



د-



ج-

٧- ما العبارة التي تمثل مفهوم الطقس :

- أ- ترتفع درجة حرارة السلطنة في فصل الصيف.
ب- تهب على السلطنة في فصل الشتاء رياح شمالية شرقية.
ج- مساء الجمعة سقطت امطار على محافظة مسقط.
د- تنخفض درجة حرارة السلطنة في فصل الشتاء.

٨- الرمز المستخدم في النشرة الجوية لسلطنة عمان والذي يدل على ان الجو غائم جزئيا:



د-



ج-



ب-



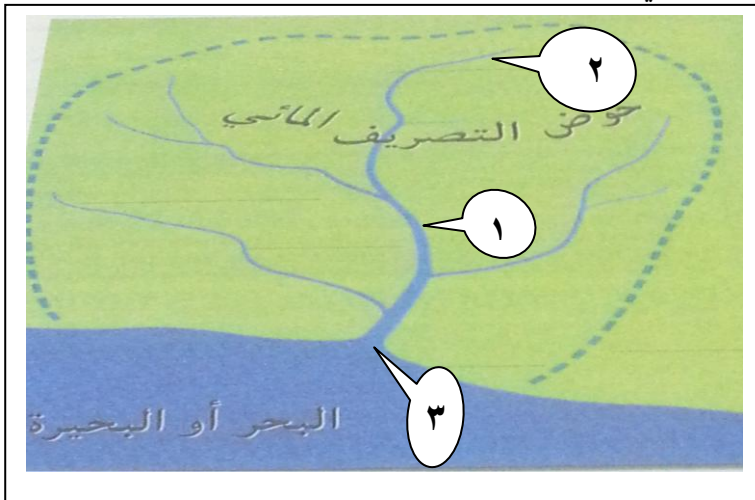
أ-

تابع الامتحان النهائي لمادة الدراسات الاجتماعية للصف السادس
للعام الدراسي ١٤٣٥/١٤٣٦ هـ - ٢٠١٤/٢٠١٥ م الفصل الدراسي الأول- الدور الأول

السؤال الثاني :

- أ- رتب الاحداث التاريخية التالية من الاقدم الى الاحداث:
 - ارسل العباسين جيش بقيادة محمد بن نور واستولى على عمان . ()
 - عينت الدولة العباسية محمد بن جناح واليا على عمان . ()
 - بايع العمانيون الجلندي بن مسعود اماما عليهم . ()
- ب- انظر الى الشكل الذي يوضح حوض التصريف المائي، ثم اجب عن الاسئلة الاتية:

١- اكتب بجوار المصطلحات التالية الرقم الذي يدل عليها في الشكل المقابل:

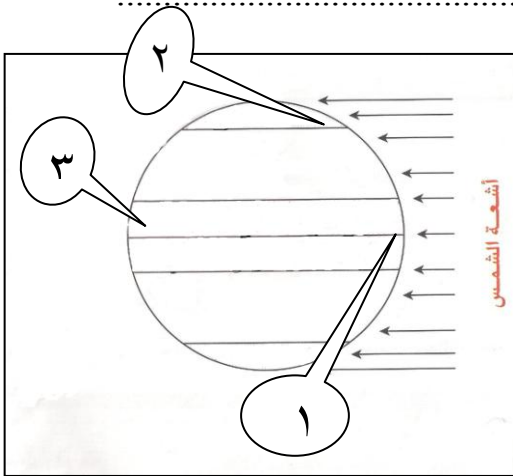


- المنبع ()
 - المصب ()
 - المجرى الرئيسي ()

٢- ارسم سهم في الشكل (←) يحدد الجانب المحدب للمنعطف النهري.

ج- ادرس الشكل الذي امامك ثم اجب عن الاسئلة الاتية:

١- ايهما اعلى درجة حرارتها المنطقة المشار اليها بالرقم (١) ام المنطقة المشار اليها بالرقم (٢) ؟



٢- ما اسم الدائرة المشار اليها بالرقم (٢) ؟

٣- بما تفسر اختلاف درجات الحرارة بين المنطقة المشار اليها بالرقم (١) والمنطقة المشار اليها بالرقم (٢) ؟

.....

٨

تابع الامتحان النهائي لمادة الدراسات الاجتماعية للصف السادس
للعام الدراسي ١٤٣٥/١٤٣٦ هـ - ٢٠١٤/٢٠١٥ م الفصل الدراسي الأول- الدور الأول

السؤال الثالث :

أ- علل ما يلي:

١- تسمية العمانيين محمد بن نور باسم محمد بن بور.

.....
.....

٢- قَبْل البربر الدعوة الفاطمية.

.....
.....

ب- قارن بين كَثبان البرخان ، وكَثبان السيف من حيث :
(الشكل. - طبيعة الرياح التي شكلتها - انحدار الجوانب)

وجه المقارنة	كثبان البرخان	كثبان السيف
الشكل
طبيعة الرياح التي شكلتها
انحدار الجوانب

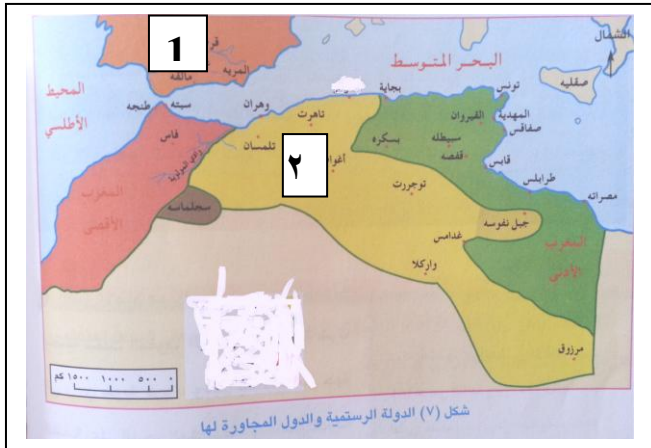
ج- امامك خريطة الدولة الرستمية والدول المجاورة لها، ادرسها ثم اجب عن الاسئلة التي تليها:
١- ما الدول التي تقع فيها حاليا عاصمة الدولة الرستمية؟

.....

٢- ضع دائرة حول احدى مدن دولة الاغالبة.

٣- كيف كانت علاقة الدولة المشار اليها بالرقم (١) بالدولة
المشار اليها بالرقم (٢).

.....
.....



تابع الامتحان النهائي لمادة الدراسات الاجتماعية للصف السادس
للعام الدراسي ١٤٣٥/١٤٣٦ هـ - ٢٠١٤/٢٠١٥ م الفصل الدراسي الأول- الدور الأول

السؤال الرابع:

أ- صنف الملوّثات التالية الى مصادر التلوّث المياه في الجدول الاتي:
(دخان المصانع، الزيوت، الورق، المياه العادمة، مخلفات البناء، مساحيق الغسيل)

الملوّثات	مصادر التلوّث
دخان المصانع ،	التلوّث الناجم عن الصناعة
..... ،	التلوّث بالنفايات المنزلية الصلبة
الزيوت ،	التلوّث بمياه الصرف الصحي

ب- من خلال الخريطة المقابلة اجب عما يلي:

١- اين أنشئت السدود؟

.....
.....

٢- استخرج من الخريطة :

- سد في محافظة مسقط:
- سد في محافظة ظفار:



ج- فسر ما يأتي

١- بناء السدود في معظم دول العالم.

.....
.....

٢- اهتمام الامير عبدالرحمن الثالث بتقوية الاسطول.

.....
.....

انتهت الأسئلة مع تمنياتنا لكم بالنجاح



سلطنة عمان
وزارة التربية والتعليم
المديرية العامة للتربية والتعليم لمحافظة جنوب الشرقية
نموذج الإجابة لامتحان النهائي لمادة الدراسات الاجتماعية للصف السادس
للعام الدراسي ١٤٣٥/١٤٣٦ هـ - ٢٠١٤/٢٠١٥ م الفصل الدراسي الأول - الدور الأول

المادة: الدراسات الاجتماعية الدرجة الكلية: ٤٠ درجة تنبيه: نموذج الإجابة ثلاثة صفحات


اجابة السؤال الاول: ١٦ درجة (كل مفردة درجتان)				
المفردة	البديل الصحيح	الدرجة	الصفحة	
١	د ٤	٢	٥٤	
٢	د ١٠٠٠ س	٢	٢١	
٣	ج الامامه - المرابطون - الموحدون	٢	٦٠	
٤	ب الرستمية والعباسية	٢	٧٨	
٥	ج الثالثة	٢	٢٨	
٦	د 	٢	١٣	
٧	ج مساء الجمعة سقطت امطار على محافظة مسقط.	٢	١٠١	
٨	أ 	٢	١٢٥	

اجابة السؤال الثاني (٨ درجات)

الجزئية	المفردة	الاجابة الصحيحة	الدرجة	الصفحة
أ		- ارسل العباسين جيش بقيادة محمد بن نور واستولى على عمان (٣) - عينت الدولة العباسية محمد بن جناح واليا على عمان (١) - بايع العمانيون الجلندي بن مسعود اماما عليهم (٢)	لكل نصف درجة	٦٦ + ٧٠

تابع نموذج الاجابة لامتحان النهائي لمادة الدراسات الاجتماعية للصف السادس
للعام الدراسي ١٤٣٥/١٤٣٦ هـ - ٢٠١٤/٢٠١٥ م الفصل الدراسي الأول- الدور الأول

تابع اجابة السؤال الثاني

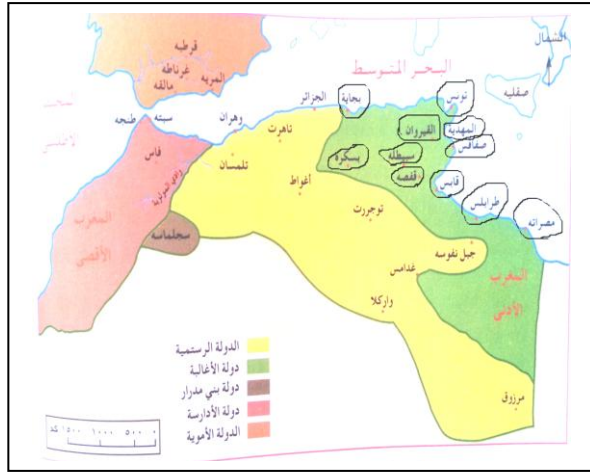
٣٠ - ٣١	لكل نصف درجة	- المنبع (٢) - المصب (٣) - المجرى الرئيسي (١)	١	ب
٣٦	١	 <p>اي اشارة بالسهم الى الجانب المحدث في المجرى الرئيسي او احد روافد النهر</p>	٢	
١٠٢	١	المشار اليها بالرقم (١)	١	ج
١٠٢	١	دائرة الاستواء او خط الاستواء	٢	
١٠٢	٢	بسبب تعامد الشمس على المنطقة المشار اليها بالرقم (١)	٣	
٨ درجات			المجموع	

اجابة السؤال الثالث

رقم الصفحة	الدرجة	الاجابة الصحيحة	المفردة	الجزئية												
٧٠	١	لانه اكثر من القتل والإفساد	١	أ												
٨٤	١	لان البربر كانوا ساخطين على الدولة العباسية ، كما كانوا يرغبون في تأسيس دولة يكونون هم أصحابها.	٢													
٤٧	لكل نصف درجة	<table border="1"> <tr> <td>كثبان السيف</td> <td>كثبان البرخان</td> <td>وجه المقارنة</td> </tr> <tr> <td>طولية</td> <td>هلالية الشكل</td> <td>الشكل</td> </tr> <tr> <td>رياح غير منتظمة</td> <td>رياح قوية من اتجاه ثابت ولفتره طويلة</td> <td>طبيعة الرياح التي شكلتها</td> </tr> <tr> <td>جوانب شديدة الميل</td> <td>جانب شديد الميل وجانب اخر مقابل قليل الميل</td> <td>انحدار الجوانب</td> </tr> </table>	كثبان السيف	كثبان البرخان	وجه المقارنة	طولية	هلالية الشكل	الشكل	رياح غير منتظمة	رياح قوية من اتجاه ثابت ولفتره طويلة	طبيعة الرياح التي شكلتها	جوانب شديدة الميل	جانب شديد الميل وجانب اخر مقابل قليل الميل	انحدار الجوانب		ب
كثبان السيف	كثبان البرخان	وجه المقارنة														
طولية	هلالية الشكل	الشكل														
رياح غير منتظمة	رياح قوية من اتجاه ثابت ولفتره طويلة	طبيعة الرياح التي شكلتها														
جوانب شديدة الميل	جانب شديد الميل وجانب اخر مقابل قليل الميل	انحدار الجوانب														

تابع نموذج الاجابة للامتحان النهائي لمادة الدراسات الاجتماعية للصف السادس
للعام الدراسي ١٤٣٥/١٤٣٦ هـ - ٢٠١٤/٢٠١٥ م الفصل الدراسي الأول- الدور الأول

تابع اجابة السؤال الثالث

٧١	١	الجزائر	١	ج
٧٦	١		٢	
		تعتبر اجابة صحيحة لو اشار عين على احدى المدن		
٧٨	١	كانت علاقة ودية وقوية	٣	
٨ درجات			المجموع	

اجابة السؤال الرابع

١٣٣- ١٣٤	لكل نصف درجة	<table border="1"> <tr> <td>المياه العادمة</td> <td>التلوث الناجم عن الصناعة</td> </tr> <tr> <td>الورق، مخلفات البناء</td> <td>التلوث بالنفايات المنزلية الصلبة</td> </tr> <tr> <td>مساحيق الغسيل</td> <td>التلوث بمياه الصرف الصحي</td> </tr> </table>	المياه العادمة	التلوث الناجم عن الصناعة	الورق، مخلفات البناء	التلوث بالنفايات المنزلية الصلبة	مساحيق الغسيل	التلوث بمياه الصرف الصحي	١	أ
المياه العادمة	التلوث الناجم عن الصناعة									
الورق، مخلفات البناء	التلوث بالنفايات المنزلية الصلبة									
مساحيق الغسيل	التلوث بمياه الصرف الصحي									
١٤٢	١	في المناطق الجبلية	١	ب						
١٤٢	١	- محافظة مسقط سد الخوض.	٢							
	١	- محافظة ظفار سد صحنوت								
١٤٠	٢	بهدف حجز المياه للاستفادة منها في أغراض مختلفة مثل ري المزروعات والشرب.	١	ج						
٥٧	١	لحماية الموانئ الاندلسية	٢							
٨ درجات			المجموع							

انتهت الاجابة مع تمنياتنا لكم بالنجاح