

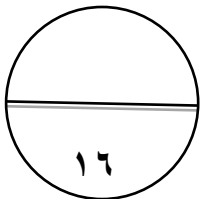
امتحان الدراسات الاجتماعية للصف الثامن
الفصل الدراسي الثاني - الدور الأول

| | |
|--------------------|---|
| اسم الطالب / ----- | العام الدراسي : ٢٠١٣ - ٢٠١٤ م |
| الزمن : ساعة ونصف | تنبيه : الأسئلة في (٤) ورقات والإجابة في نفس الورقة |

السؤال الأول :-

اختر الإجابة الصحيحة من بين البدائل المعطاة :-

- (١) تغطي المياه من سطح الأرض حوالي :
أ) ٥١% ب) ٦١% ج) ٧١% د) ٨١%
- (٢) من أرخص أنواع النقل وأكثرها اقتصادا :
أ) النقل النهري ب) النقل البحري ج) النقل البري د) النقل الجوي
- (٣) بلغ عدد الأفلاج العمانية ١١٢٤ فلجا توجد ٣٨% منها في :
أ) الداخلية ب) الوسطي ج) ظفار د) الباطنة
- (٤) سفينة عمانية استخدمتها منظمة اليونسكو للقيام برحلة بحرية لدراسة طريق الحرير البحري :
أ) فلك السلامة ب) الرحماني ج) شباب عمان د) سلطنة
- (٥) أول الدول الأوروبية التي بدأت فيها الثورة الصناعية :
أ) فرنسا ب) بريطانيا ج) إيطاليا د) ألمانيا
- (٦) تضم حوالي ٢٨% من جملة سكان سلطنة عمان :
أ) مسقط ب) الشرقية ج) الداخلية د) مسندم
- (٧) بني الإمام " سلطان بن سيف الأول " :
أ) حصن نزوي ب) قلعة الشهباء ج) برج القرن د) المسجد الجامع
- (٨) الاضرحة الدينية من المعالم السياحية التي تشتهر بها مدينة :
أ) الرستاق ب) صور ج) صلالة د) صحار

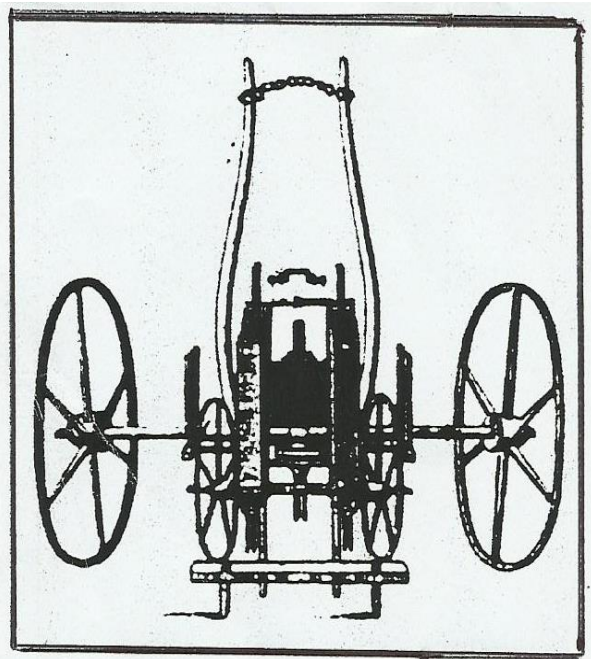


السؤال الثاني:-

أولاً: بماذا تفسر-----؟

(أ) مشكلة تملح المياه .

(ب) أهمية موقع مدينة صلالة لسلطنة عمان .



ثانياً: - أمامك صورة لأحد الاختراعات الصناعية:

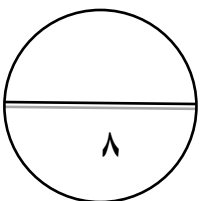
(أ) ما اسم هذا الاختراع؟:-----

(ب) كيف انعكس اختراعه على الزراعة؟

ثالثاً :- ضع علامة (√) أمام العبارة الصحيحة وعلامة (X) أمام العبارة الخاطئة :-

() (أ) أقدم محطة تحليه للمياه في السلطنة أقيمت عام ١٩٧٦م في بركاء

() (ب) أصبحت مسقط عاصمة لعمان في عهد الإمام " حمد بن سعيد " ١٧٨٤م



السؤال الثالث :-

أولا :- ما النتائج المترتبة علي كل من :-
(أ) مشكلة تلوث المياه

(ب) الموقع الاستراتيجي لمسقط في أهميتها التاريخية :

ثانيا :- أكمل الجدول التالي

| العالم / الرحالة | أهم أعماله |
|------------------|--|
| جيمس واط | ----- اخترع أول آلة طباعة تعمل باليد عام ١٤٤٥ م |
| فيردناند ماجلان | ----- ----- |
| جاك كارتيه | ----- ----- |

ثالثا اكتب أمام كل عبارة المدينة العمانية التي تدل عليها :-

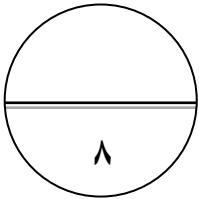
(أ) عرفت بأنها بيضة الإسلام في عهد الأمام " غسان بن عبد الله " لكثرة دور العلم والعلماء فيها .

(-----)

(ب) زارها الرحالة والجغرافيين وقال عنها " المقدسي " عندما زارها عام ٩٩٩م

أنها : " قسبة عمان " .

(-----)



السؤال الرابع :-

أولا : انسب الأعمال الآتية إلي أصحابها :-

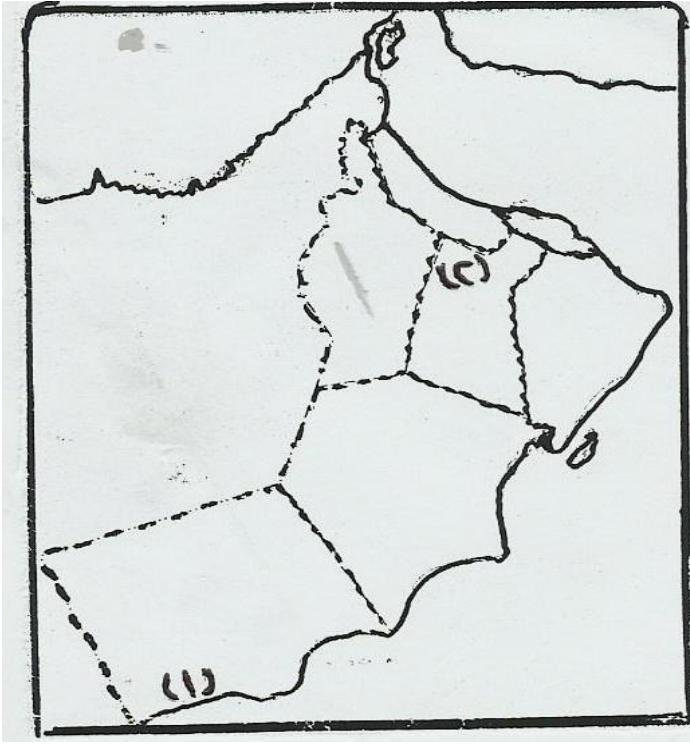
(أ) بحار أسباني قاد مجموعة أوروبية وصلت أمريكا الجنوبية عام ١٤٩٢م

(-----)

(ب) شيد " حصن الحزم " أحد المعالم الأثرية في مدينة الرستاق

(-----)

(٣)



ثانيا :- أمامك خريطة صماء لسلطنة عمان :

(أ) أكمل ما يلي :

(١) المدينة التي يوجد بها آثار البليد هي

(٢) يوجد فلج دارس أكبر الأفلاج العمانية
في مدينة -----

(ب) ظلل علي الخريطة ما يلي :

(١) المدينة التي يوجد بها قلعتي

الجلالي والميراني

(٢) المدينة التي يوجد بها وادي

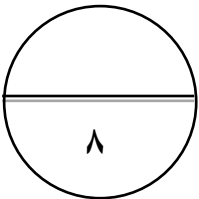
السحتن

ثالثا : اجب عما يلي:-

(أ) ماذا يحدث لو تعطلت الدورة المائية علي كوكب الأرض

(ب) صنف الآثار المترتبة علي الثورة الصناعية بالنسبة للوطن العربي (إيجابية - سلبية)
الآثار الإيجابية :

الآثار السلبية :



(انتهت الأسئلة مع تمنياتنا بالنجاح والتفوق)

(٤)

المادة : الدراسات الاجتماعية
الدرجة الكلية : (٤٠) درجة
(تنبيه : النموذج الإجابة في أربع صفحات)

إجابة السؤال الأول : (الدرجة الكلية ١٦ درجة)

| المفردة | البديل الصحيح | الإجابة | الدرجة | الصفحة |
|---------|---------------|--------------|--------|--------|
| ١ | ج | ٧١% | ٢ | ١٠ |
| ٢ | ب | النقل البحري | ٢ | ٢٢ |
| ٣ | د | الباطنة | ٢ | ٣١ |
| ٤ | أ | فلك السلامة | ٢ | ٥٥ |
| ٥ | ب | بريطانيا | ٢ | ٦١ |
| ٦ | أ | مسقط | ٢ | ٧٧ |
| ٧ | ب | قلعة الشهباء | ٢ | ٨٦ |
| ٨ | ج | صلالة | ٢ | ١١٤ |

إجابة السؤال الثاني (الدرجة الكلية : ٨ درجات)

| الصفحة | الدرجة | الإجابة الصحيحة | المفردة | الجزئية |
|--------|---------------------------------------|--|---------|---------|
| ٢٧ | درجتان (لكل مفردة درجة) | ١- دخول مياه البحر المالحة إلى خزانات المياه الجوفية في بعض المناطق الساحلية ٢- مرور المياه أثناء تسربها إلى باطن الأرض بتكوينات صخرية تحتوي على الأملاح | أ | أولاً |
| ١٠٧ | درجتان (لكل مفردة درجة) | ١- موقعها هياً لها التواصل مع الحضارات ٢- وجود الجبال وفر لها الحماية من جهة الشمال ٣- تتميز بمناخ استثنائي عن باقي أجزاء السلطنة ٤- وفرة المواني الطبيعية (يكتفي باثنتين فقط) | ب | |
| ٦٣ | درجة | آلة بذر الحبوب | أ | ثانياً |
| ٦٣ | درجة (لكل مفردة نصف درجة) | ١- اتساع مساحة الأراضي الزراعية ٢- تحسين نوعية الإنتاج وكميته ٣- حماية البذور من التلف (يكتفي باثنتين فقط) | ب | |
| ٣٧ | درجة | (X) أقيمت في الغبرة | أ | ثالثاً |
| ٧٣ | درجة | (√) | ب | |

| الصفحة | الدرجة | الإجابة الصحيحة | | المفردة | الجزئية |
|--------|---|---|------------------|---------|---------|
| ٢٥ | درجتان (لكل مفردة درجة) | ١-انتشار الأمراض والأوبئة التي قد تسبب الوفاة ٢-تدهور الإنتاج الزراعي لتلوث التربة بالمياه الملوثة | | أ | أولا |
| ٧٠ | درجتان (لكل مفردة درجة) | ١-تواصلها مع دول الخليج واليمن وشرق أفريقيا والهند وجنوب شرق آسيا ٢-تواصلها مع حضارات عديدة مما أكسبها ازدهاراً اقتصادياً واسعا جعلها من أهم مراكز الجذب السياحي | | ب | |
| ٦٥ | درجتان (لكل مفردة نصف درجة) | أهم أعماله | العالم-الرحالة | | ثانيا |
| ٤٧ | مفردة نصف درجة) | اختراع المحرك البخاري عام ١٧٦٩م | جيمس واط | | |
| ٥٩ | مفردة نصف درجة) | اختراع أول آلة طباعة عام ١٤٤٥م | يوحنا جوتنبرج | | |
| ٥٩ | مفردة نصف درجة) | أبحر عام ١٥١٩ إلى أمريكا الجنوبية وعبر المضيق الذي عرف باسمه فيما بعد (مضيق ماجلان) | فير دناند ماجلان | | |
| ٦٠ | مفردة نصف درجة) | أبحر من فرنسا عام ١٥٣٤ إلى أمريكا الشمالية واكتشف نهر (سانت لورانس) | جاك كارتية | | |
| ٨٥ | درجة | | | أ | ثالثا |
| ١٠٢ | درجة | | | ب | |

(الدرجة الكلية : ٨ درجات)

إجابة السؤال الرابع

| الصفحة | الدرجة | الإجابة الصحيحة | المفردة | الجزئية |
|--------|----------------------------------|--|---------|---------|
| ٥٨ | درجة | كريستوفر كولمبوس | أ | أولاً |
| ٩٦ | درجة | الإمام سلطان بن سيف بن سلطان اليعربي | ب | |
| ١٠٩ | درجتان | ١- صلالة | أ | ثانياً |
| ٨٨ | (لكل | ٢- نزوي | | |
| ٧٥ | مفردة | ١- مسقط | ب | |
| ٩٥ | نصف درجة) | ٢- الرستاق | | |
| ١٢ | درجتان | ١- لتغير مستوي المياه في المحيطات والبحار نتيجة تبخر المياه منها وعدم وصول مياه الأمطار إليها ٢- لما جرت الأنهار علي سطح الأرض (تراعي الإجابات التي تؤدي نفس المعني) الإيجابيات : ١- أخذ العرب بالعلوم والفنون والصناعات الجديدة وإرسال البعثات العلمية إلي أوروبا ٢- تهيئة المختصين لاستخدام الآلات والأدوات في الصناعة والزراعة السلبيات : ١- تنافس دول أوروبا علي الوطن العربي واحتلاله ٢- سيطرة الأوروبيين علي خيرات العرب ومواردهم . (يكتفي بذكر سلبية واحدة وإيجابية واحدة) | أ ب | ثالثاً |
| ٦٧ | درجتان (لكل مفردة درجة) | | | |

(نهاية نموذج الإجابة)

(٤)