



سلطنة عمان
وزارة التربية والتعليم
المديرية العامة للتربية والتعليم لمحافظة مسندم
امتحان الصف الخامس

للعام الدراسي ١٤٣٢/١٤٣٣ هـ - ٢٠١١/٢٠١٢ م

الدور الثاني - الفصل الدراسي الأول

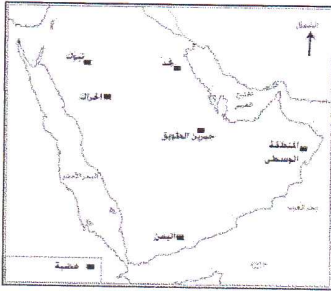
الزمن : ساعة ونصف

المادة : الدراسات الاجتماعية

اسم الطالب : الشعبة:

السؤال	الدرجة بالأرقام	الدرجة بالحروف	اسم المصحح	المراجع
الأول				
الثاني				
الثالث				
الرابع				
المجموع				

السؤال الأول: ضع دائرة على رمز الإجابة الصحيحة من بين البدائل المعطاة.



١- الهضبة التي تقع في الجهة الجنوبية من شبة الجزيرة العربية هي

أ- نجد ب- اليمن

ج- الحراك د- تبوك

٢- جميع ما يلي من العدنانيون ما عدا :

أ- ربيعة ب- تميم ج- كندة د- بكر

٣- أول الخلفاء الراشدين :

أ- أبو بكر الصديق ب- علي بن أبي طالب ج- عثمان بن عفان د- عمر بن الخطاب

٤- يتميز مناخ البحر المتوسط بـ :

أ- الجفاف الشديدة ج- اعتدال الحرارة والجفاف صيفا

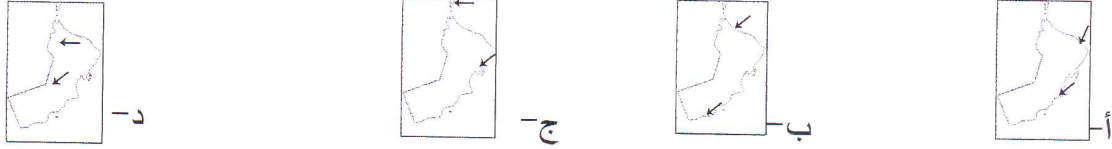
٥-السبب في تسمية الكئبان الهلالية بهذا الاسم هو :

أ-طولها ب-كثافتها ج-ضخامتها د-شكلها

٦-عرفت معابد الفرس بـ:


أ-الكنائس ب-بيوت النار ج-دور العبادة د-المجوسيات

٧-الخريطة الصحيحة التي تشير فيها الأسهم إلى سهلي الباطنة وظفار:



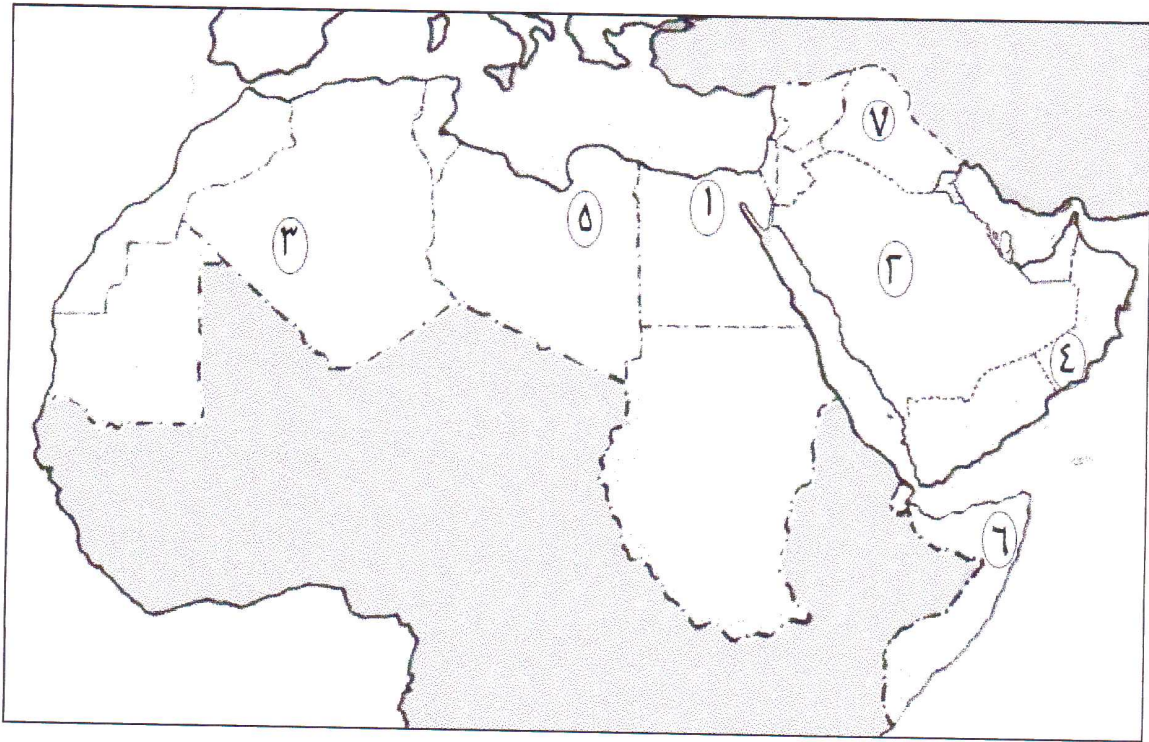
٨-تعتبر العاصمة الرئيسية للملكة العربية السعودية مدينة:

أ-مكة المكرمة ب-جدة ج-الرياض د-الدمام



السؤال الثاني

١-أدرس الخريطة ثم أجب عن الأسئلة التي تليها :



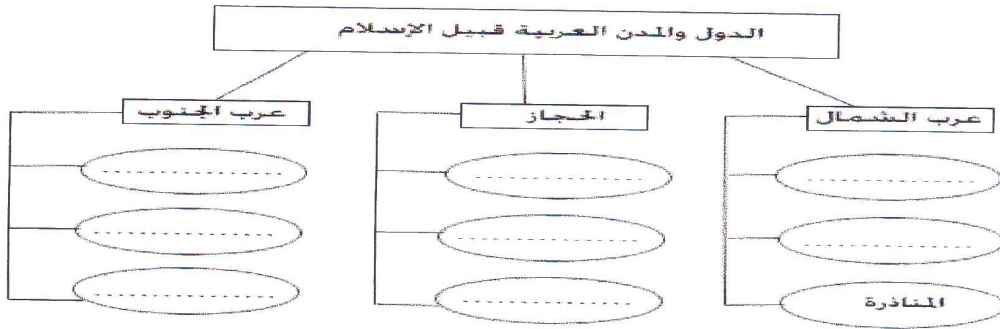
أ-الدولة التي توجد فيها جبال ظفار مشار إليها بالرقم.....

ب-الدولة التي توجد فيها دلتا نهر النيل مشار إليها بالرقم.....

ج-الدولة التي توجد فيها صحراء النفوذ مشار إليها بالرقم.....

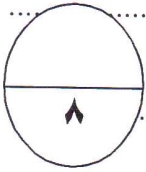
د-الدولة التي يوجد فيها نهري دجلة والفرات مشار إليها بالرقم.....

٢- أكمل المخطط الذهني من خلال الخيارات التالية (المدينة المنورة ، الغساسنة ، مكة المكرمة ، الأنباط ، معين ، سبأ ، الطائف ، حمير)



٣- علل ما يلي :

أ- تتميز السهول الداخلية بانخفاض عدد السكان والمراكز العمرانية



ب- تسميت النباتات الطبيعية بهذا الاسم

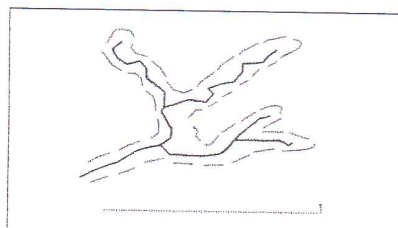
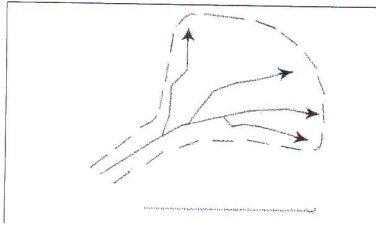
السؤال الثالث:

١- تبلغ مساحة شبه الجزيرة العربية حوالي (٣) ملايين كيلومتر مربع. وتتسم طبيعتها بقدر من القسوة أثرت في حياة

سكانها اقتصاديا واجتماعيا " في ضوء هذه العبارة أجب عن الآتي :

أ- اذكر اسم دولتين تقع في شبه الجزيرة العربية.....

ب- ماذا ترتب على قسوة الطبيعة في شبه الجزيرة العربية؟.....



٢- سمي أشكال الدالات المقابلة

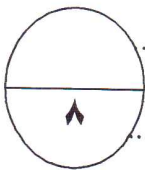
٣- ما المقصود بالمصطلحات والمفاهيم التالية:

أ- الجروف الصخرية

ب- خطوط الطول

ج- القبيلة

د- المناخ



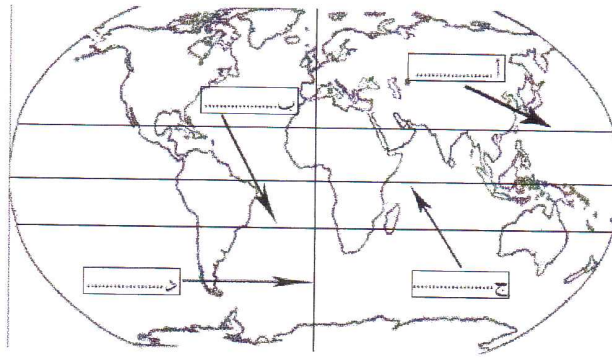
السؤال الرابع:

١- سجل أهم الفروق بين المناخ الصحراوي والمناخ الموسمي وفق معطيات الجدول التالي:

أوجه الفروق	المناخ الصحراوي	المناخ الموسمي
درجة الحرارة صيفا	أ.....	ب.....
منطقة واحده يتركز فيها المناخ	ج.....	د.....
كمية الأمطار	هـ.....	و.....

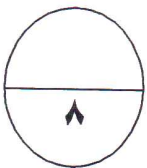
٢- استعن بالمصطلحات التالية لتوقيعها على خريطة العالم حسب إشارة الأسهم (دائرة الاستواء ، مدار السرطان ، مدار

الجدى ، خط غرينتش)



٣- انسب الأحداث التالية إلى الفترة الزمنية التي وقعت فيها كما هو مبين في الجدول أدناه (فتح خيبر، سقوط روما ، صلح الحديبية ، غزوة مؤتة ، عام الوفود ، وفاة الرسول صلى الله عليه وسلم)

الزمن	٨ هجرية	٦ هجرية	٤٧٦ ميلادي	١١ هجرية	٧ هجرية	٩ هجرية
الحدث	أ.....	ب.....	ج.....	د.....	هـ.....	و.....



انتهت الأسئلة مع تمنياتنا لكم بالتوفيق والنجاح



نموذج إجابة امتحان الصف الخامس

للعام الدراسي ٢٠١١/٢٠١٢ م

الفصل الدراسي الأول

سلطنة عمان

وزارة التربية والتعليم

المديرية العامة للتربية والتعليم لمحافظة مسندم

الصفحة	الدرجة	الإجابة									الأسئلة الموضوع ية
		٨	٧	٦	٥	٤	٣	٢	١	المفردة	
		ج	ب	ب	د	ج	أ	ج	ب	ب	السؤال الأول
	١٦	٢	٢	٢	٢	٢	٢	٢	٢	٢	الدرجة
		٢٥	٢٢	٧٩	٤٠	٤٤	١٠٠	١١	٣٥		الأسئلة المقالية
									الإجابة	المفردة	السؤال الأول
٣١	٠,٥								(أ) (٤)	١	
٢٩	٠,٥								(ب) (١)		
٣٩	٠,٥								(ج) (٢)		
٥٩	٠,٥								(د) (٧)		
									الصفحة ٧٦	٢	
									الدول والمدن العربية قبيل الإسلام		
									عرب الجنوب		
									الدرجة		
									معين		
									الدرجة		
									سبأ		
									الدرجة		
									حمير		
									الحجاز		
									الدرجة		
									المدينة المنورة		
									الدرجة		
									مكة المكرمة		
									الدرجة		
									الطائف		
									عرب الشمال		
									الدرجة		
									الأبياط		
									الدرجة		
									الغساسنة		
									المناذرة		
٢٢	١								(أ) بسبب قلة الأمطار والجفاف	٣	
٦٥	١								(ب) لأنها تنمو على سطح الأرض من تلقاء نفسها من دون تدخل الإنسان		
١٣	١								(أ) سلطنة عمان ، اليمن ، المملكة العربية السعودية ، الإمارات العربية المتحدة ، قطر ، البحرين ، الكويت	١	السؤال الثاني
١٣	١								(ب) تأثر حياة سكانها اقتصاديا واجتماعيا		

المادة : الدراسات الاجتماعية الصف : الخامس الدور : الثاني- الفصل الدراسي: الأول العام الدراسي: ٢٠١١/٢٠١٢م

٢٨	١	(أ) أرجل الطائر	٢	
٢٨	١	(ب) المثني		
٢٤	١	(أ)جبال صخرية عالية قريبة من البحر أو ملاصقة له	٣	
١٦	١	(ب)عبارة عن أنصاف دوائر يبلغ عددها ٣٦٠ خطا (١٨٠ خطا شرقي غرينتش و ١٨٠ خطا غربي غرينتش)		
٧٠	١	(ج)هي جماعة من الناس ينتمون إلى أصل واحد مشترك تجمعهم وحدة الجماعة وتربطهم رابطة النسب		
٤٤	١	(د) هي متوسط حالة الجور لفترة طويلة قد تكون شهرا أو فصلا أو سنة أو أكثر		
٤٩	٠,٥	(أ)ارتفاع شديد	١	السؤال الثالث
٥٤	٠,٥	(ب)معتدلة		
٤٩	٠,٥	(ج)في الصحاري ولمعرفة المزيد مراجعة الخريطة ص ٤٩		
٥٤	٠,٥	(د)جبال ظفار بسلطنة عمان ولمعرفة المزيد مراجعة الكتاب ص ٥٤		
٤٩	٠,٥	(هـ) قليلة ولكنها غزيرة وعلى شكل زخات فجائية		
٥٤	٠,٥	(و)أمطار غزيرة أحيانا		
١٦	٠,٥	(أ)مدار السرطان	٢	
١٦	٠,٥	(ب)مدار الجدي		
١٦	٠,٥	(ج)دائرة الاستواء		
١٦	٠,٥	(د)خط غرينتش		
٩٥	٠,٥	(أ) غزوة مؤتة	٣	
٩٤	٠,٥	(ب)صلح الحديبية		
٨٢	٠,٥	(ج)سقوط روما		
٩٨	٠,٥	(د)وفاة الرسول صلى الله عليه وسلم		
٩٥	٠,٥	(هـ)فتح خيبر		
٩٧	٠,٥	(و)عام الوفود		
انتهت				
ت				
الإجابة				



سلطنة عمان
وزارة التربية والتعليم
المديرية العامة للتربية والتعليم لمحافظة مسندم
امتحان الصف الخامس

للعام الدراسي ١٤٣٢/١٤٣٣ هـ - ٢٠١١/٢٠١٢ م
الدور الثاني - الفصل الدراسي الثاني

المادة : الدراسات الاجتماعية
الزمن : ساعة ونصف
اسم الطالب : الشعبة:

السؤال	الدرجة بالأرقام	الدرجة بالحروف	اسم المصحح	المراجع
الأول				
الثاني				
الثالث				
الرابع				
المجموع				

أجب عن جميع الأسئلة

السؤال الأول: ضع دائرة على رمز الإجابة الصحيحة من بين البدائل المعطاة.

(١) القائد الإسلامي الذي فتح بخارى وسمرقند وخوارزم:

(أ) قتيبة بن مسلم (ب) محمد بن القاسم (ج) المهلب بن أبي صفرة (د) عقبة بن نافع

(٢) اسم المعركة التي واجه فيها طارق بن زياد ملك القوط في اسبانيا:

(أ) عين جالوت (ب) شريش (ج) كرمان (د) ديو

(٣) من أهم وظائف ديوان الخراج في عصر الدولة الأموية:

(أ) تأمين إيصال الرسائل (ب) تسجيل أسماء الجند (ج) جمع أموال الدولة (د) اختيار الولاية

(٤) يقصد بعملية جمع وإعداد المعلومات السكانية والاقتصادية والاجتماعية المتعلقة بجميع الأفراد في دولة معينة في فترة معينة:

(أ) التغير السكاني (ب) النمو السكاني (ج) الهجرة (د) التعداد السكاني

(٥) جميع العوامل التالية تعتبر عوامل بشرية مؤثرة في توزيع السكان في الوطن العربي ما عدا:

(أ) الحرفة السائدة (ب) الهجرة (ج) أشكال السطح (د) الخدمات

(٦) السبب الرئيسي لزيادة التلوث في المدن العربية:

(أ) المصانع (ب) قلة التشجير (ج) تركيز السكان في المدن (د) كثرة استخدام السيارات الخاصة

تابع السؤال الأول

(٧) أولى المدن العربية القديمة هي:

(أ) الرياض (ب) فلسطين (ج) قرطاجة (د) مراكش

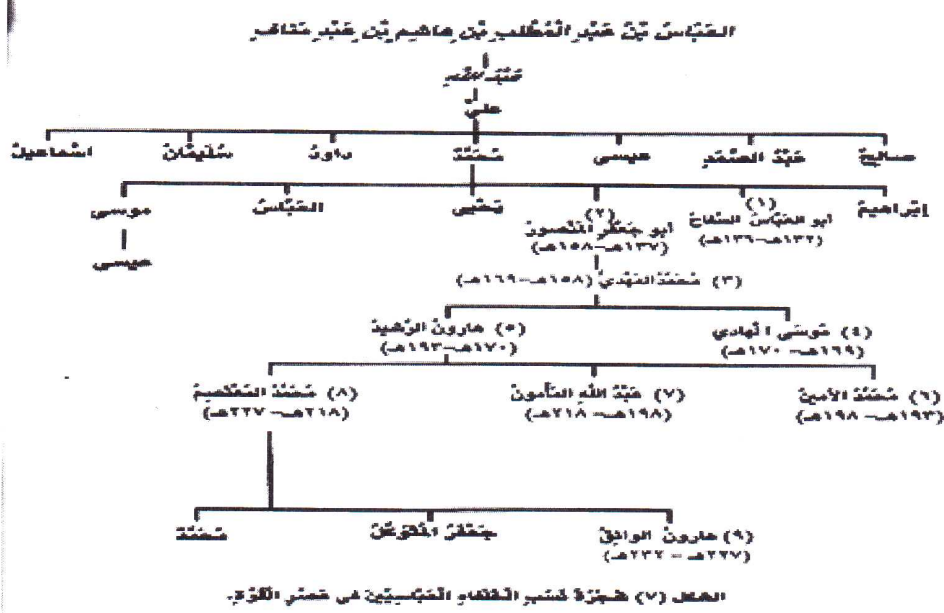
(٨) يقصد برعاية ومساعدة أفراد المجتمع بعضهم بعضا ولاسيما فقراء الناس وضعفائهم والأيتام والعجزة :

(أ) التكافل الاجتماعي (ب) التعاون (ج) العمل الاجتماعي (د) البر



السؤال الثاني

(١) أدرس مخطط شجرة نسب الخلفاء العباسيين ثم أجب على الأسئلة التي تليها.

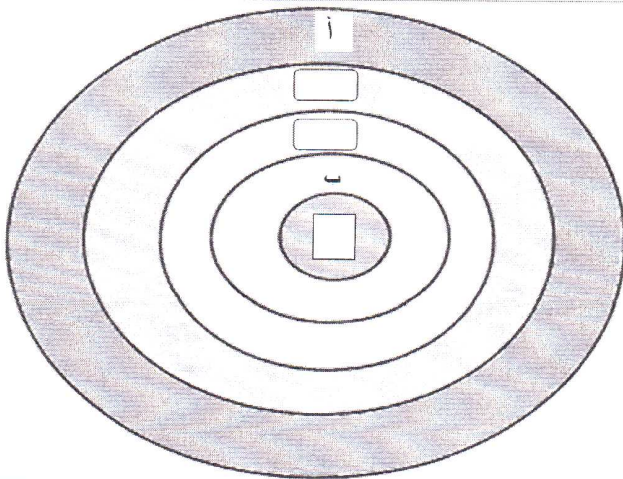


- (أ) إلى من ينسب العباسيون؟
 (ب) أذكر الفترة الزمنية التي حكم فيها ابو جعفر المنصور؟
 (ج) أذكر اسم الخليفة العباسي الذي حكم أطول فترة زمنية؟

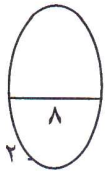
(٢) عرف المفاهيم التالية:

- رأس المال:
 السياحة:

(٣) أنظر إلى الشكل ثم أقم بكتابة رمز العبارات التالية في دوائر التعاون من الدائرة الصغرى الى الدائرة الكبرى.

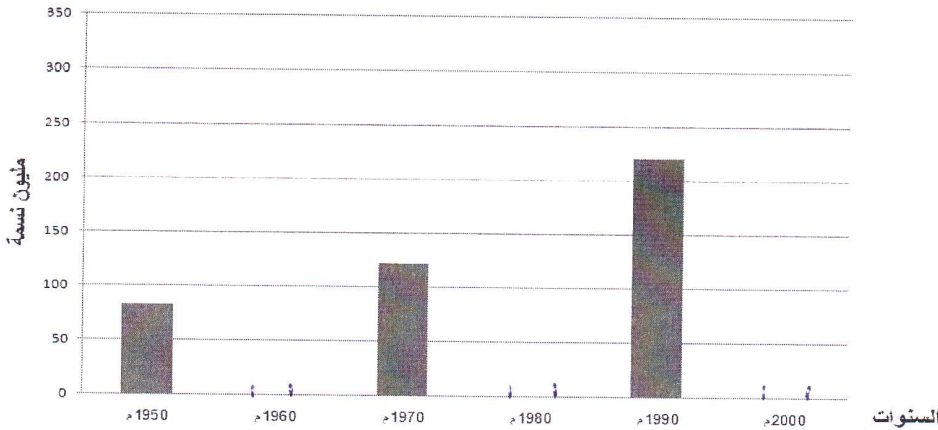


- (أ) التعاون بين الدول والشعوب
 (ب) التعاون بين الجيران وأهل الحي.
 (ج) التعاون بين أهل القرى والمدن
 (د) التعاون بين أفراد الأسرة والأقارب
 (هـ) التعاون بين جميع المواطنين



السؤال الثالث:

بالاستعانة بالجدول التالي، قم بإكمال رسم باقي الأعمدة البيانية في الشكل أسفل الجدول
نمو السكان في الوطن العربي من 1950م إلى 2000م



السنة	عدد سكان الوطن العربي (مليون نسمة)
١٩٥٠	٨٣
١٩٦٠	٩٤
١٩٧٠	١٢٢
١٩٨٠	١٦٤
١٩٩٠	٢٢١
٢٠٠٠	٢٩٣

٢) أدرس خريطة الفتوحات الإسلامية في شمالي شبه الجزيرة العربية ثم أجب عى الأسئلة التي تليها.



أ) اذكر أسم القارتين اللتين تقع عليهما مدينة القسطنطينية؟

ب) أذكر اسم المضيق الذي تقع عليه مدينة القسطنطينية؟

ج) سمى البحرين اللذين يصل بينهما هذا المضيق؟

٣) اهتمت وزارة التنمية الاجتماعية بالمرأة العمانية فأنشأت العديد من مراكز التأهيل النسوي في كثير من ولايات السلطنة لاهتمام بتنمية المرأة العمانية ، وتقدم المراكز العديد من الخدمات في مجالات الخياطة والتطريز وأعمال المنزل والحرف اليدوية"

أ) لماذا أنشأت الوزارة مراكز التأهيل النسوي؟

ب) ما الخدمات الاجتماعية التي تقدمها مراكز التأهيل النسوي؟

السؤال الرابع

١) صنّف الصناعات التالية الى صناعات استخراجية وصناعات تحويلية
تجميع الأجهزة الكهربائية ، الفوسفات ، تجميع السيارات ، صهر الحديد والنحاس ، الأدوية ، الرخام والجرانيت

صناعات تحويلية	صناعات استخراجية
• تجميع الأجهزة الكهربائية	• صهر الحديد والنحاس

٢) علل لما يأتي:

أ) انصاف العصر العباسي الثاني بعصر الضعف والتفكك؟

.....

ب) إقبال المسلمين من غير العرب على تعلم اللغة العربية

.....

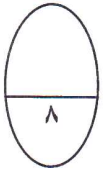
٣) احسب الكثافة السكانية لمدينة عدد سكانها ٣٠,٠٠٠ نسمة ومساحتها ٢٠٠ كم^٢ ؟

.....

.....

.....

.....



انتهت الأسئلة مع تمنياتنا لكم بالتوفيق والنجاح

بسم الله الرحمن الرحيم



سلطنة عمان

وزارة التربية والتعليم

المديرية العامة للتربية والتعليم لمحافظة مسندم

نموذج إجابة امتحان الصف الثامن

للعام الدراسي ٢٠١١/٢٠١٢ م

الدور الثاني-الفصل الدراسي الثاني

رقم السؤال	المفردة	الإجابة								
		١	٢	٣	٤	٥	٦	٧	٨	
السؤال الأول	رمز الإجابة	ب	ب	ج	د	ج	ج	ب	أ	
	الدرجة	٢	٢	٢	٢	٢	٢	٢	٢	
	الصفحة	١٢	١٧	٢١	٤٤	٥٢	٥٨	٦٢	٩٣	
	الدرجة	١٦								
السؤال الثاني	المفردة	الإجابة								
١	١	١) العباس بن عبدالمطلب ٢) ١٣٧هـ الى ١٥٨هـ ٣) هارون الرشيد								
		٢) رأس المال: النقود والأرض المقام عليها المشروع الصناعي والمباني والآلات ب) السياحة: زيارة الأفراد للأماكن المختلفة من أجل الترويج عن النفس والاستمتاع والتعرف على المعالم الطبيعية والبشرية								
		٣) المركز: د الدائرة الثالثة: ج الدائرة الرابعة: هـ								
السؤال الثالث	١	١ نمو السكان في الوطن العربي من 1950م الى 200م								
		٢								
٢	١	١) آسيا وأوروبا ٢) البسفور ٣) بحر مرمرة والبحر الأسود								
		٣	١) تنمية المرأة العمانية وتقديم الخدمات لها ٢) برامج تعليم الخياطة والتطريز، والحرف اليدوية							
			١) صناعات استخراجية: الفوسفات ، الرخام والجرانيت صناعات تحويلية: تجميع السيارات والأدوية							
السؤال الرابع	١	١) بسبب تفكك الدولة الى دويلات وسيطرت الأعاجم على الخلافة في بغداد وتحكم الفرس والترك فيفي أمور الدولة								
		٢	١) لتعلم القرآن ولأن العلوم تدرس باللغة العربية							
			٣) الكثافة السكانية = عدد السكان ÷ المساحة = ٣٠.٠٠٠ ÷ ٢٠٠ = ١٥٠ نسمة لكل كم ٢							



سلطنة عمان
وزارة التربية والتعليم
المديرية العامة للتربية والتعليم لمحافظة مسندم
امتحان الصف الخامس
للعام الدراسي ١٤٣٢/١٤٣٣ هـ - ٢٠١١/٢٠١٢ م
الدور الثاني (الفصل الدراسي الأول والثاني)

المادة : الدراسات الاجتماعية

الزمن : ساعة ونصف

اسم الطالب : الشعبة:

السؤال	الدرجة بالأرقام	الدرجة بالحروف	اسم المصحح	المراجع
الأول				
الثاني				
الثالث				
الرابع				
المجموع				

أجب عن جميع الأسئلة

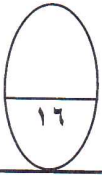
السؤال الأول: ضع دائرة على رمز الإجابة الصحيحة من بين البدائل المعطاة.

- (١) تبلغ مساحة شبه الجزيرة العربية حوالي:
أ) ١ مليون كم^٢ ب) ٢ مليون كم^٢ ج) ٣ مليون كم^٢ د) ٤ مليون كم^٢
- (٢) موقع سلطنة عمان بالنسبة الى دائرة الاستواء:
أ) شرق ب) غرب ج) شمال د) جنوب
- (٣) المسطح المائي الذي يصب فيه نهر النيل:
أ) البحر المتوسط ب) البحر الأحمر ج) خليج عدن د) الخليج العربي
- (٤) يسمى كل من يدير ولاية عن الملك في دولة الفرس:
أ) الوالي ب) مرزبان ج) كسرى د) الامير
- (٥) قائل هذه العبارة (والله لولا البحر لمضيت مجاهدا في سبيلك)
أ) موسى بن نصير ب) حسان بن النعمان ج) قتيبة بن مسلم د) عقبة بن نافع
- (٦) تبلغ نسبة احتياطي الوطن العربي من النفط:
أ) ٦٠% ب) ٦١% ج) ٦٢% د) ٦٣%
- (٧) جميع العوامل التالية تعتبر عوامل طبيعية تؤثر في توزيع السكان في الوطن العربي ما عدا:
أ) الحرفة السائدة ب) الموارد الطبيعية ج) أشكال السطح د) المناخ

تابع السؤال الأول

٨) يقصد بتقديم الخدمات الاجتماعية للآخرين من خلال جماعات منظمة حكومية كانت أم أهلية:

- (أ) التكافل الاجتماعي (ب) العمل الاجتماعي (ج) عمل الخير (د) البر



السؤال الثاني:

١) أذكر اثنين من سمات الحياة عند العرب قديما؟

.....

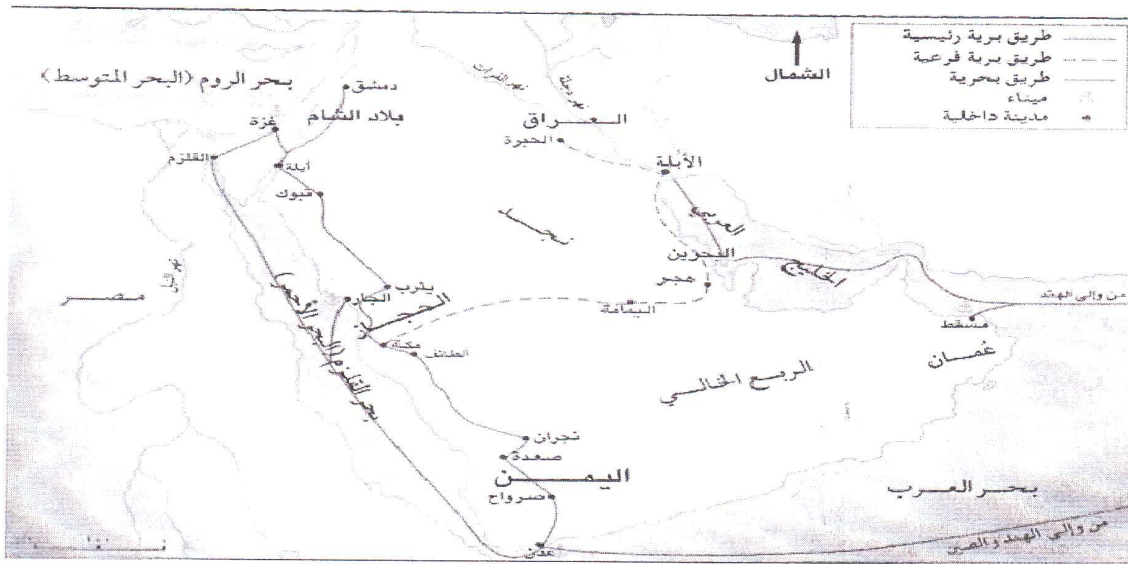
.....

٢) عدد أسباب هجرة العرب من جنوب شبه الجزيرة العربية الى الشمال؟

.....

.....

٣) أدرس خارطة طرق التجارة في شبه الجزيرة العربية قديما ثم أجب على الأسئلة التي تليها.



١) أذكر اسم مدينتين تمر بهما الطرق البرية ما بين اليمن وبلاد الشام؟

.....

.....

٢) أذكر اسم ميناء يقع على المحيط الهندي تمر به الطرق البحرية من الهند الى العراق؟

.....

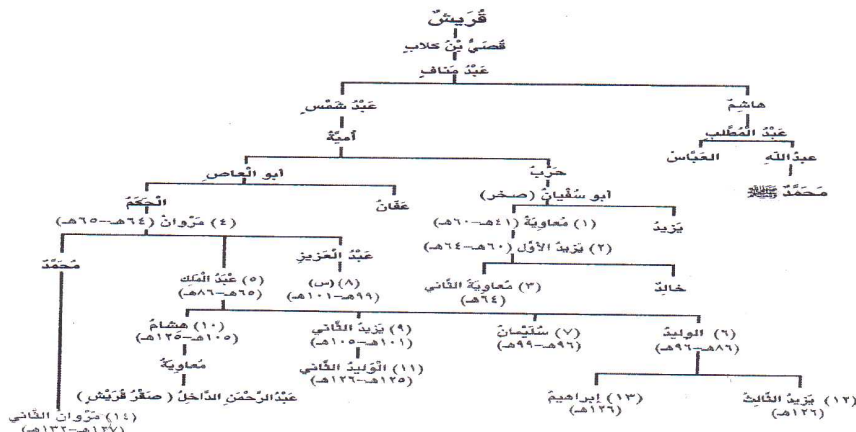
.....

٣) أذكر اسم المسطح المائي المطل على بلاد الشام؟

.....

.....

٣) أدرس مخطط شجرة نسب الخلفاء الأمويين ثم أجب على الأسئلة التي تليها.



تابع السؤال الثاني

أ) أذكر أسم الجد الذي يلتقي عنده نسب الرسول صلى الله عليه وسلم ونسب بني أمية؟



-

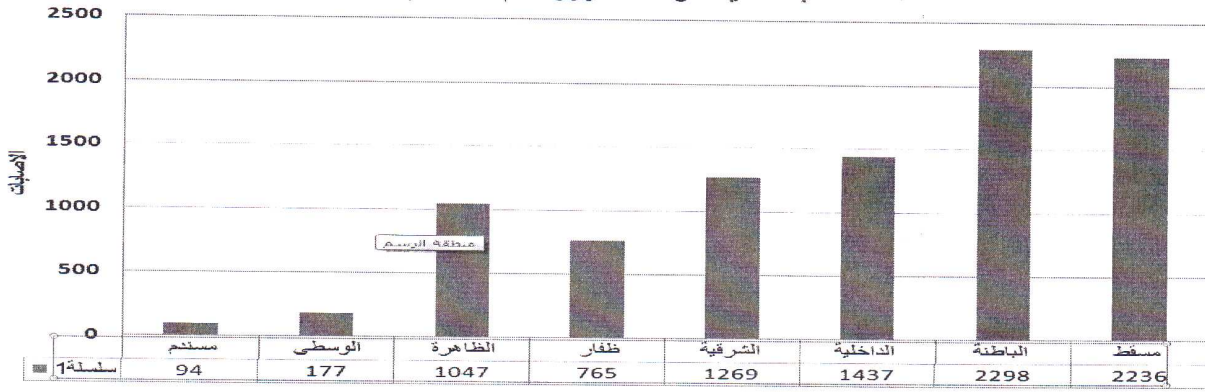
 ب) أذكر أسم الخليفة المشار اليه بالرمز س؟.....
 ج) اذكر الفترة الزمنية التي حكم فيها معاوية بن أبو سفيان؟.....

السؤال الثالث: ١ "يمكن للإنتاج المحلي من الغذاء أن يحقق للوطن العربي الأمن الغذائي اذا ما تطور لينتج معظم حاجته من المواد الغذائية الأساسية كالحبوب والمنتجات الحيوانية"

- أ) عرف مفهوم الأمن الغذائي؟.....

 ب) أذكر مثالا على منتج غذائي محلي يغطي معظم حاجة السكان في السلطنة؟.....
 ج) اذكر مثالا على منتج غذائي نستورده من الخارج؟.....
 ٢) أدرس الرسم البياني ، ثم أجب على الأسئلة التي تليه.

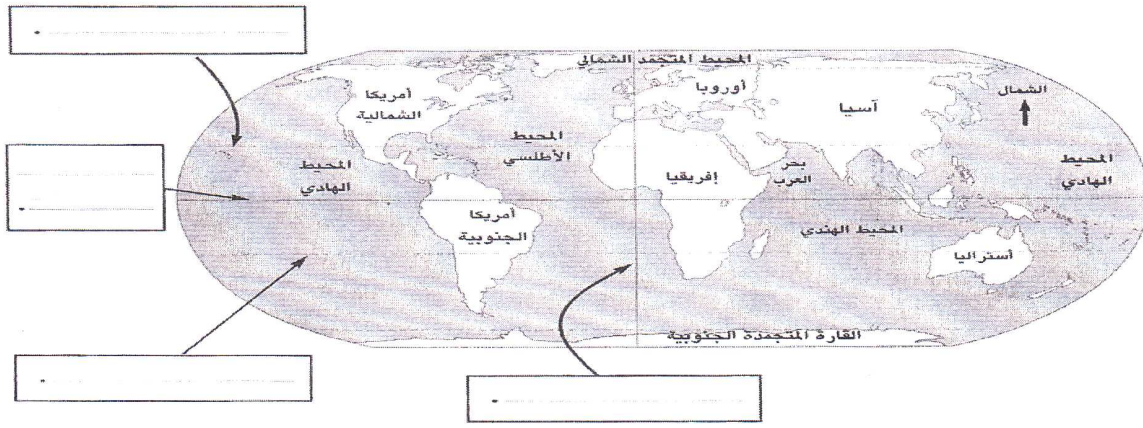
إحصائية حوادث المرور لعام 2000م



أ) أين توجد أكثر نسبة وأقل نسبة من الإصابات بسبب حوادث المرور في محافظات السلطنة؟

-
 ب) اقترح حولا للتقليل من حوادث المرور؟.....

٣) انظر واكتب أسماء دوائر العرض وخطوط الطول في أماكنها على الخريطة.
 (دائرة الاستواء - مدار السرطان - مدار الجدي - خط جرينتش)



ب) اذكر اسم دائرة العرض التي تمر على محافظة مسقط؟.....

السؤال الرابع:

ادرس الجدولين اللذان يمثلان درجات الحرارة والأمطار الشهرية في محطة فهود بسلطنة عمان ومحطة عين صالح بالجزائر.

درجات الحرارة والأمطار الشهرية في محطة فهود بسلطنة عمان												
الشهر	يناير	فبراير	مارس	أبريل	مايو	يونيو	يوليو	أغسطس	سبتمبر	أكتوبر	نوفمبر	ديسمبر
درجات الحرارة (س)	٢٠	٢١	٢٥	٣٠	٣٥	٣٧	٣٧	٣٦	٣٣	٣٠	٢٥	٢١
الأمطار(مم)	٥.٧	٧.١	٦.٤	٦.٧	-	-	١.٣	٢.٤	٤	-	-	٠.٧

درجات الحرارة والأمطار الشهرية في محطة فهود بسلطنة عمان												
الشهر	يناير	فبراير	مارس	أبريل	مايو	يونيو	يوليو	أغسطس	سبتمبر	أكتوبر	نوفمبر	ديسمبر
درجات الحرارة (س)	٢٠	٢٤	٢٧	٣٠	٣٤	٣٨	٣٧	٣٦	٣٤	٣١	٢٥	٢٢
الأمطار(مم)	-	-	-	٠.٥	١	١.٥	-	٢	١	-	-	-

أ) قارن بين المنطقتين حسب الجدول التالي.

عين صالح	فهود
	الأشهر التي لا تسقط فيها أمطار
	أحر شهور السنة
	أبرد شهور السنة


٢) أدرس خارطة السهول الساحلية والسهول الرسوبية في الوطن العربي، ثم أجب على الأسئلة التي تليها.



أ) أذكر مثالا على سهل داخلي يقع في دولة عربية بقارة أفريقيا؟

ب) أذكر مثالا على سهل ساحلي يقع في المملكة المغربية؟

ج) أي من المناطق يتركز السكان بصورة أكبر سهل الجفارة أم دلتا النيل؟ ولماذا؟



٣) أذكر أسماء المعلم التاريخية المبينة بالصورة.

انتهت الأسئلة مع تمنياتنا لكم بالتوفيق والنجاح

بسم الله الرحمن الرحيم



سلطنة عمان

وزارة التربية والتعليم

الديرة العامة للتربية والتعليم محافظة مسندم

نموذج إجابة امتحان الصف الخامس

المادة الدراسات الاجتماعية

للعام الدراسي ٢٠١١/٢٠١٢ م

الدور الثاني الفصل الأول والثاني

رقم السؤال	المفردة	١	٢	٣	٤	٥	٦	٧	٨	الدرجة	الصفحة	
السؤال الأول	رمز الإجابة	ج	ج	أ	ب	د	ج	أ	ب			
	الدرجة	٢	٢	٢	٢	٢	٢	٢	٢	١٦		
	الصفحة	١٣ج١	١٥ج١	٢٧ج١	٧٩ج١	١٥ج٢	٨٢ج٢	٥٢ج٢	٩٠ج٢			
السؤال الثاني	المفردة	الإجابة										
١	١	(أ) سيادة نمط حياة التنقل والترحال _ نشوب الخلافات بين القبائل (ب) تزايد اعداد السكان في الجنوب وأنهيار سد مأرب									١	١٤ج١
٢	١	(أ) الطائف-مكة-يثرب-تبوك-ايلة (ب) ميناء مسقط (ج) البحر المتوسط									١	٧٤ج١
٣	١	(أ) عبدمناف بن قصي بن كلاب (ب) ٤١هـ الى ٦٠هـ (ج) عمر بن عبدالعزيز									١	١١ج١
السؤال الثالث	١	(أ) القدرة على توفير احتياجات السكان من الغذاء محليا بصورة مستمرة (ب) الاسماك والتمور (ج) القمح والأرز									١	٧٢ج١
٢	١	(أ) اكثر الإصابات : الباطنة أقل الإصابات: مسندم (ب) نشر الوعي حول أهمية الالتزام بحدود السرعة لكل الشارع									١	٢٣ج١
٣	١	دائرة الاستواء – مدار السرطان – مدار الجدي خط الاستواء (ب) مدار السرطان									١	١٥ج١
السؤال الرابع	١	فهود	عين صالح								١	٥١ج١
	١	لايسقط المطر	مايو يونيو اكتوبر نوفمبر	يناير فبراير مارس يوليو اكتوبر نوفمبر ديسمبر							١	
	١	احر الشهور	يونيو يوليو	يناير							١	
	١	ابرد الشهور	يناير								١	
٢	١	(أ) سهل البطانة (ب) سهل السبو (ج) دلتا النيل – لتوفر مياه النيل طوال العام ولخصوبة تربة دلتا النيل.									١	٢٢ج١
٣	١	(أ) قصر عمرة بالاردن (ب) مسجد قبة الصخرة بالقدس									١	٢٣ج١