

امتحان نهاية الفصل الدراسي الأول – الدور الأول – العام الدراسي (٢٠١٤ / ٢٠١٥ م).

المادة : الدراسات الاجتماعية

الدرجة الكلية : ٤٠ درجة

الزمن : ساعة ونصف

الصف : الخامس الأساسي

* الاختبار في أربع ورقات والإجابة بنفس الورقة

أجب عن جميع الأسئلة الآتية:

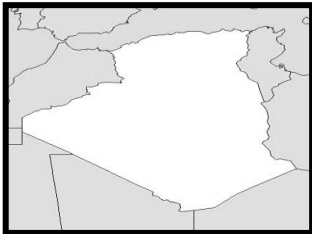
[١٦ درجة]:

السؤال الأول: اختر الحرف الدال على الإجابة الصحيحة من بين البدائل المعطاة:

- ١- عاصمة الدولة الإسلامية في عهد الرسول صلى الله عليه وسلم :
أ- مكة ب- خيبر ج- المدينة د- الطائف
- ٢- ينخفض عدد السكان والمراكز العمرانية في الوطن العربي في السهول :-
أ- الساحلية ب- الداخلية ج- الرسوبية د- الفيضية
- ٣- يمثل الجدول أدناه إحدى المناخات التي يتميز بها الوطن العربي ويعرف ب :-
أ- مناخ البحر المتوسط ب- المناخ الصحراوي الجاف
ج- المناخ الموسمي د- المناخ الصحراوي شبه الجاف

الشهر	يناير	فبراير	مارس	أبريل	مايو	يونيو	يوليو	أغسطس	سبتمبر	أكتوبر	نوفمبر	ديسمبر
درجات الحرارة (س)	٩,٥	١٢	١٥	١٨	٢٢	٢٥	٢٥	٢٤	٢٢	١٨	١٣	١١

- ٤- من أكثر أنواع التضاريس انتشاراً في الوطن العربي :-
أ- الهضاب ب- الجبال ج- السهول د- الصحاري
- ٥- تعرف المجاري المائية التي تجري فيها المياه في فترات الأمطار ب :-
أ- الأنهار ب- البحيرات ج- الأودية د- المستنقعات
- ٦- يقع سد مأرب في :
أ- اليمن ب- مصر ج- الكويت د- الجزائر



- ٧- الدولة العربية التي تمثلها الخريطة المقابلة :-
أ- تونس ب- الجزائر ج- مصر د- المغرب

٨- تقع سلسلة جبال البحر الأحمر في :

- أ - عمان واليمن ب - مصر والسودان
ج - ليبيا والجزائر د - الكويت والبحرين

[٨ درجات]

السؤال الثاني : أجب عن الأسئلة الآتية :

أولاً :-

أ- **اذكر** اثنين من العوامل المؤثرة في مناخ الوطن العربي .

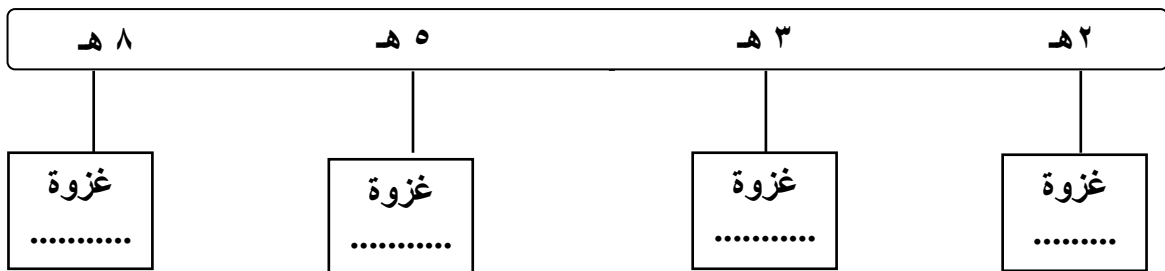
١-

٢-

ب- **علل** : قيام عدد كبير من السدود الكبرى على الأنهار الرئيسية والأودية .

ثانياً :- رتب الغزوات التالية في المسطرة الزمنية حسب تاريخ حدوثها :

(مؤته ، بدر ، الخندق ، أحد)



ثالثاً :-

أ- **قارن** بين البدو و الحضرة من حيث المهن التي كان يعمل بها :

الحضرة	البدو	وجه المقارنة
		المهن

ب- **عرف** ما يلي :

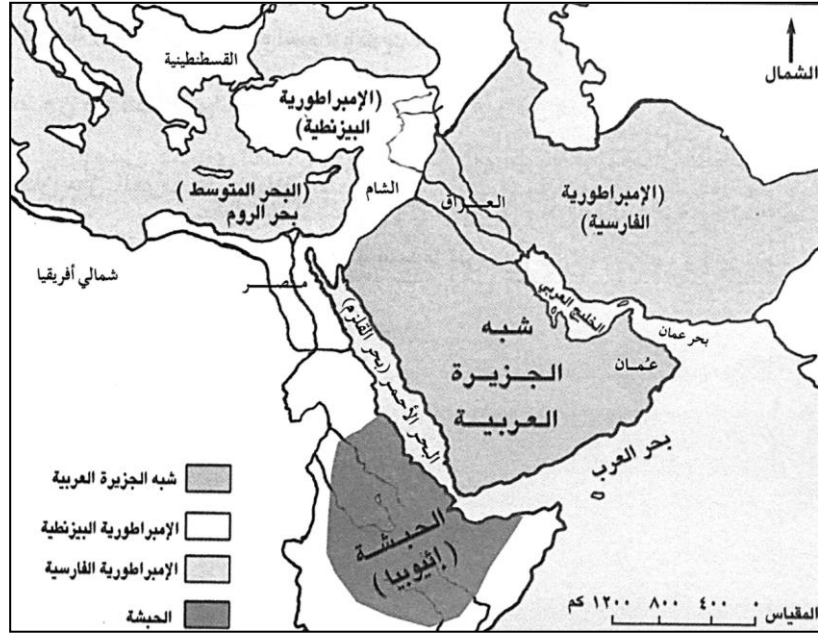
١- التربة .

٢- الطقس .

السؤال الثالث : أجب عن الأسئلة الآتية:

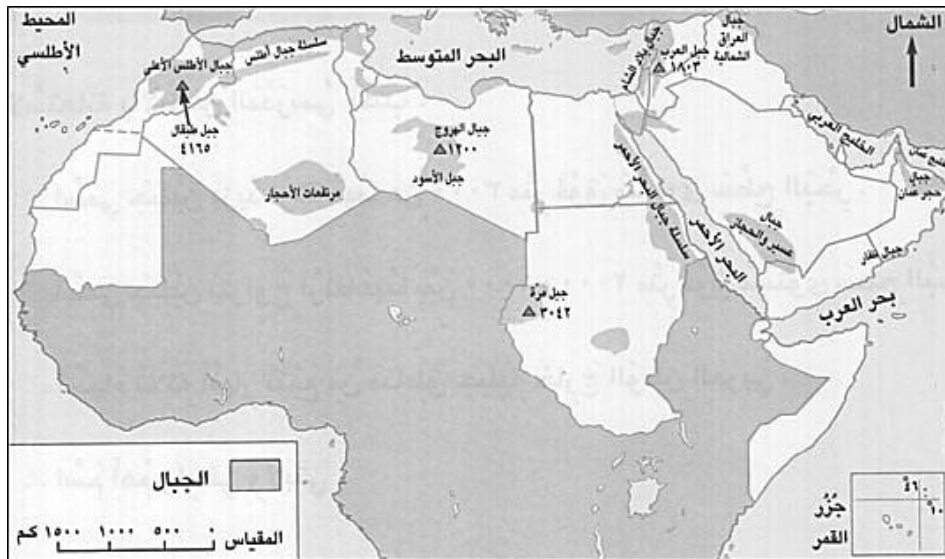
[٨ درجات]

أولاً :- انظر إلى الخريطة التي أمامك ثم اجب عن الأسئلة التي تليها:



- أ- ما الإمبراطورية التي كانت تجاور شبه الجزيرة العربية من الشرق ؟ _____
 ب- ما اسم المضيق الذي يفصل بين شبه الجزيرة العربية والحبشة ؟ _____
 ج- الإمبراطورية التي كانت تجاور شبه الجزيرة العربية من الشمال والغرب _____ (اكمل) .
 د- تعرف الحبشة حالياً باسم _____ (اكمل) .

ثانياً :- أمامك خريطة الجبال في الوطن العربي ادرسها جيداً ثم اجب عن الأسئلة التي تليها:

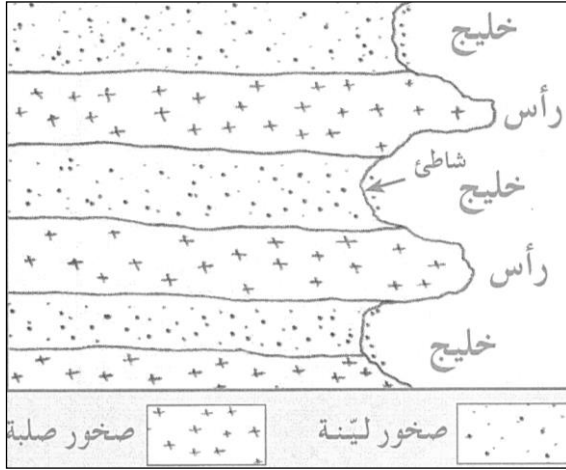


- أ- استخرج من الخريطة ارتفاع جبل طبرقل _____ .
 ب- يقع جبل مرة في دولة _____ (اكمل) .
 ج- أذكر أسم الجبال التي تقع في المملكة العربية السعودية _____ .
 د- أكتب على الخريطة المحيط الهندي في موقعه الصحيح .

[٨ درجات]

السؤال الرابع : أجب عن الأسئلة الآتية

أولاً :- الشكل الذي أمامك يمثل تشكل الخلجان والرؤوس على السواحل ادرسه جيداً ثم أجب عن الأسئلة الآتية :



أ- ما نوع الصخور التي تتكون منها الخلجان ؟ _____


ب- ما نوع الصخور التي تتكون منها الرؤوس ؟ _____

ج- لماذا تتآكل الصخور على الخلجان والرؤوس ؟ _____

د- تظهر الجروف الصخرية بشكل واسع في سلطنة عمان في

(الباطنة / مسندم) ... اختر الاجابة الصحيحة .

ثانياً :- من خلال الشكل الذي أمامك أكتب أهم المشكلات التي تتعرض لها النباتات الطبيعية :-



انتهت الأسئلة مع تمنياتنا لكم بالتوفيق والنجاح



المديرية العامة للتربية والتعليم لمحافظة البريمي
نموذج إجابة امتحان الصف الخامس
للعام الدراسي ٢٠١٤/٢٠١٥ م
الفصل الدراسي الأول (الدور الأول)

المادة: الدراسات الاجتماعية الدرجة الكلية: (٤٠) درجة

تنبيه: نموذج الإجابة في (٤) صفحات

أولاً: إجابة السؤال الموضوعي:-

الدرجة الكلية: (١٦) درجة

إجابة السؤال الأول

ملاحظات	الصفحة	الدرجة	الإجابة	البديل الصحيح	المفردة
	٨٦	٢	المدينة	ج	١
	١٨	٢	الداخلية	ب	٢
	٤٣	٢	مناخ البحر المتوسط	أ	٣
	٣١	٢	الهضاب	أ	٤
	٥٥	٢	الأودية	ج	٥
	٧٠	٢	اليمن	أ	٦
	١٥	٢	الجزائر	ب	٧
	٢٧	٢	مصر والسودان	ب	٨
					٩
					١٠
					١١
					١٢
	١٦			المجموع	

تابع نموذج إجابة امتحان الصف الخامس الاساسي
للعام الدراسي ٢٠١٤/٢٠١٥ م
الفصل الدراسي الأول - الدور الأول
المادة: الدراسات الاجتماعية

ثانياً: إجابة الأسئلة المقالية:-

إجابة السؤال الثاني		الدرجة الكلية : (٨) درجات													
الجزئية	المفردة	الإجابة الصحيحة	الدرجة												
أولاً	أ	١- الموقع الفلكي ٢- التضاريس ٢- توزيع اليابس والماء (يكتفى بذكر اثنتين)	درجة واحدة لكل مفردة نصف درجة												
	ب	١- ضبط الفيضانات ٢- حجز المياه وتوفيرها في فترات الجفاف للري ٣- تزويد المدن بماء الشرب ٤- التوسع الصناعي (يكتفى بذكر اثنتين)	درجة واحدة لكل مفردة نصف درجة												
ثانياً	أ	<table border="1" style="width: 100%; text-align: center;"> <tr> <td>٨ هـ</td> <td>٥ هـ</td> <td>٣ هـ</td> <td>٢ هـ</td> </tr> <tr> <td>↓</td> <td>↓</td> <td>↓</td> <td>↓</td> </tr> <tr> <td>غزوة موتة</td> <td>غزوة الخنق</td> <td>غزوة أحد</td> <td>غزوة بدر</td> </tr> </table>	٨ هـ	٥ هـ	٣ هـ	٢ هـ	↓	↓	↓	↓	غزوة موتة	غزوة الخنق	غزوة أحد	غزوة بدر	درجتان لكل مفردة نصف درجة
٨ هـ	٥ هـ	٣ هـ	٢ هـ												
↓	↓	↓	↓												
غزوة موتة	غزوة الخنق	غزوة أحد	غزوة بدر												
ثالثاً	أ	<table border="1" style="width: 100%; text-align: center;"> <tr> <td>الحضر</td> <td>البدو</td> <td>وجهه المقارنة</td> </tr> <tr> <td>التجارة</td> <td>رعي الجمال والأغنام واقتنوا الخيول</td> <td>المهن</td> </tr> </table>	الحضر	البدو	وجهه المقارنة	التجارة	رعي الجمال والأغنام واقتنوا الخيول	المهن	درجتان لكل مفردة درجة						
الحضر	البدو	وجهه المقارنة													
التجارة	رعي الجمال والأغنام واقتنوا الخيول	المهن													
	ب	الطبقة المفتتة من قشرة وتنمو فيها النباتات	درجة واحدة												
	ج	حالة الجو لفترة زمنية قصيرة لا تتجاوز عدة أيام فقط .	درجة واحدة												

تابع نموذج إجابة امتحان الصف الخامس الاساسي
للعام الدراسي ٢٠١٤/٢٠١٥ م
الفصل الدراسي الأول - الدور الأول
المادة: الدراسات الاجتماعية

تابع : إجابة الأسئلة المقالية:-

الدرجة الكلية: (٨) درجات		إجابة السؤال الثالث			
ملاحظات	الصفحة	الدرجة	الإجابة الصحيحة	المفردة	الجزئية
	٧٦-٧٥	درجة	الإمبراطورية الفارسية	أ	أولاً
	٧٦-٧٥	درجة	مضيق باب المندب	ب	
	٣١	درجة	الإمبراطورية البيزنطية	ج	
	٨١	درجة	إثيوبيا	د	
	٢٧	درجة	٤١٦٥	أ	ثانياً
	٢٧	درجة	السودان	ب	
	٢٧	درجة	جبال عسير والحجاز	ج	
	٢٧	درجة واحدة	المحيط الهندي	د	

تابع نموذج إجابة امتحان الصف الخامس الاساسي
للعام الدراسي ٢٠١٤/٢٠١٥ م
الفصل الدراسي الأول - الدور الأول
المادة: الدراسات الاجتماعية

تابع : إجابة الأسئلة المقالية:-

إجابة السؤال الرابع :					
الدرجة الكلية: (٨) درجات					
ملاحظات	الصفحة	الدرجة	الإجابة الصحيحة	المفردة	الجزئية
	٢٠	درجة	صخور لينية	أ	أولاً
	٢٠	درجة	صخور صلبة	ب	
	٢٠	درجة	بفعل نحت الأمواج	ج	
	٢٠	درجة	مسندم	د	
	٦٣	أربع درجات لكل مفردة درجة واحدة	١- الحرائق ٢- الرعي الجائر ٣- الزراعة الغير منتظمة ٤- قطع الأشجار والشجيرات		ثانياً