



امتحان الصف العاشر
للعام الدراسي ١٤٣٣/١٤٣٤ هـ - ٢٠١٢/٢٠١٣ م
الدور الأول - الفصل الدراسي الثاني

- المادة: الدراسات الاجتماعية
- زمن الإجابة: ساعتان
- عدد صفحات اسئلة الامتحان: (٧) .
- الإجابة في الورقة نفسها.

		اسم الطالب
الصف		المدرسة

(التوقيع بالاسم)		الدرجة بالحروف (بالأحمر)	الدرجة بالأرقام (بالأحمر)		السؤال
المدقق (بالأخضر)	المصحح (بالأحمر)		عشرات	أحاد	
					١
					٢
					٣
					٤
					٥
مراجعة الجمع والتشطيب (بالأزرق)	جمعه (بالأحمر)				المجموع
				٦٠	المجموع الكلي

امتحان الصف العاشر
للعام الدراسي ١٤٣٣/١٤٣٤هـ - ٢٠١٢/٢٠١٣م
الدور الأول - الفصل الدراسي الثاني
المادة: الدراسات الاجتماعية

أجب عن جميع الأسئلة الآتية:

السؤال الأول: ضع دائرة حول رمز الإجابة الصحيحة لكل مفردة من المفردات الآتية:

١- ديوان الإمام جابر بن زيد كان في مجال:

أ- الفقه ب- الحديث ج- السيرة د- العقيدة

٢- من خلال الجدول المجاور، المصنع الذي سجل أعلى قيمة مضافة هو:

المصنع	ثمن مواد الإنتاج بالريال العماني	ثمن المبيعات بالريال العماني
١	٤٠٠٠٠	٧٠٠٠٠
٢	٧٠٠٠٠	٩٠٠٠٠
٣	٢٠٠٠٠	٦٠٠٠٠
٤	١٢٠٠٠٠	١٣٠٠٠٠

أ- ١ ب- ٢

ج- ٣ د- ٤

٣- يتوقع علماء البيئة أن ارتفاع حرارة سطح الأرض سيؤدي إلى:

أ- ضعف التيارات البحرية.
ب- ذوبان الكتل الجليدية.
ج- انخفاض مستوى المحيطات.
د- انحسار الأراضي الصحراوية.

٤- تضم الولايات المتحدة الأمريكية مقاطعة واحدة هي:

أ- هاواي ب- ألاسكا ج- كولومبيا د- نيويورك

٥- الترتيب الصحيح للأحداث التاريخية من الأقدم إلى الأحدث هو:

١	تمصير البصرة
٢	نكبة المهالبة
٣	ظهور طرابلس
	كمركز أباضي

١	تمصير البصرة
٢	ظهور طرابلس
٣	كمركز أباضي
	نكبة المهالبة

١	نكبة المهالبة
٢	ظهور طرابلس
٣	كمركز أباضي
	تمصير البصرة

١	ظهور طرابلس
٢	كمركز أباضي
٣	نكبة المهالبة
	تمصير البصرة

د

ج

ب

أ

٦- دولة من الاتحاد الأوروبي لم توافق على اعتماد (اليورو) كعملة موحدة:

أ- بريطانيا ب- ألمانيا ج- فرنسا د- إيطاليا


(٢)

تابع امتحان الصف العاشر
للعام الدراسي ١٤٣٣/١٤٣٤ هـ - ٢٠١٢/٢٠١٣ م
الدور الأول - الفصل الدراسي الثاني
المادة: الدراسات الاجتماعية


تابع السؤال الأول:

- ٧- يؤدي ارتفاع درجة الحرارة وقلّة الأمطار في تربة المناطق الصحراوية إلى:
- أ- زيادة نسبة الأملاح وانخفاض المواد العضوية.
 - ب- انخفاض نسبة الأملاح وانخفاض المواد العضوية.
 - ج- زيادة نسبة الأملاح وارتفاع المواد العضوية.
 - د- انخفاض نسبة الأملاح وارتفاع المواد العضوية.


٨- الرسم البياني الصحيح الذي يوضح حجم ضحايا تسونامي ٢٠٠٤م للدول (كينيا، الهند، أندونيسيا) هو:



ب



أ



د



ج

٩- يعد سكان اليابان من أكثر مجتمعات العالم شيخوخة بسبب:

- أ- ارتفاع معدل الخصوبة.
- ب- ارتفاع معدل الهجرة.
- ج- انخفاض معدل الخصوبة.
- د- انخفاض معدل الهجرة.

١٠- جميع ما يأتي من أسباب الأزمة الاقتصادية الآسيوية عام ١٩٩٧م عدا:

- أ- تراخي الضوابط المصرفية.
- ب- صرف قروض طويلة الأجل.
- ج- ارتفاع مديونية الشركات.
- د- السياسات المرنة لأسعار الصرف.

يتبع/٣

(٣)

تابع امتحان الصف العاشر
للعام الدراسي ١٤٣٣/١٤٣٤ هـ - ٢٠١٢/٢٠١٣ م
الدور الأول - الفصل الدراسي الثاني
المادة: الدراسات الاجتماعية

تابع السؤال الأول:

١١- الاتجاه السائد للعواصف المدارية صيفاً في النصف الشمالي من الكرة الأرضية في منطقة آسيا يمثلها الشكل:



د

ج

ب

أ

١٢- نسبة مساهمة القطاع الزراعي في الاقتصاد الصيني لعام ٢٠١١ م يمثلها الشكل:



د

ج

ب

أ

السؤال الثاني:

أولاً: (أ) صنف العوامل الآتية التي تؤدي إلى حدوث ظاهرة التصحر إلى طبيعية و بشرية:
(انخفاض المواد العضوية - الرعي الجائر - قلة الأمطار - المياه الجارية - الحراثة العميقة - بناء المنشآت السكنية) .

عوامل طبيعية	عوامل بشرية
-١	-١
-٢	-٢
-٣	-٣

ب) ماذا تتوقع أن يحدث في حالة عدم وجود ظاهرة الاحتباس الحراري في الكرة الأرضية ؟

.....
.....
.....

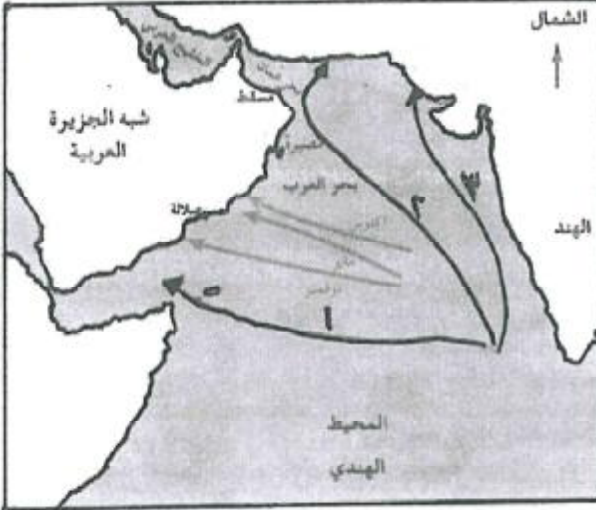
يتبع/٤

(٤)


تابع امتحان الصف العاشر
للعام الدراسي ١٤٣٣/١٤٣٤هـ - ٢٠١٢/٢٠١٣م
الدور الأول - الفصل الدراسي الثاني
المادة: الدراسات الاجتماعية

تابع السؤال الثاني:

ثانياً: من خلال خريطة مسارات الأعاصير التي تؤثر على سلطنة عُمان، أجب عن الأسئلة الآتية:



١- سمّ المسطحات المائية التي تتكون فيها الأعاصير المدارية.

٢- باستعمال الرمز المساحي  حدد على الخريطة موقع المناخ الموسمي في سلطنة عمان.

٣- من خلال ما تشير إليه الأسهم. ما نوع الضغط الجوي المتوقع في شبه الجزيرة العربية؟.....

٤- من خلال الأرقام الواردة في الخريطة. ما الرقم الذي يمثل مسار إعصار جونو؟

ثالثاً: أ) " كان عبدالله بن أباض على علاقة بالدولة الأموية ". أثبت صحة هذه الجملة.

.....

ب) انتسب العبارات الآتية إلى المدن التي تنتمي إليها:

١- افتخر بها زعيمها الأحنف بن قيس قائلاً: " نحن أكثر ساجاً وعاجاً وديباجاً ونهراً عجاجاً".
(.....)

٢- قال عنها المقدسي إنها مدينة طيبة الهواء ، وهي قصبه عمان ، بلد عامر حسن ، أسواقه عجيبة. (.....)

السؤال الثالث :

أولاً : أ) اذكر اثنين مما يأتي:

١- التدابير اللازمة لحماية كوكب الأرض من الغازات الضارة في الغلاف الغازي.

.....

٢- المشاكل المناخية التي تتعرض لها الزراعة في الولايات المتحدة الأمريكية.

.....

يتبع/٥

(٥)

تابع امتحان الصف العاشر
للعام الدراسي ١٤٣٣/١٤٣٤ هـ - ٢٠١٢/٢٠١٣ م
الدور الأول - الفصل الدراسي الثاني
المادة: الدراسات الاجتماعية

تابع السؤال الثالث:

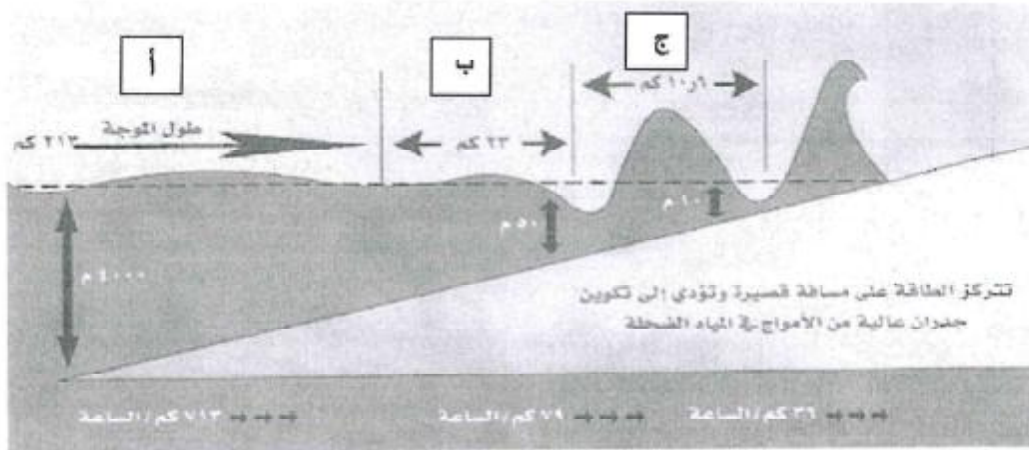
تابع: أولاً

ب) علل ما يأتي:

١- توجه الإمام جابر بن زيد إلى البصرة في منتصف القرن الأول الهجري.

٢- فقدت الثقافة الإسلامية ثروة ضخمة من نتاج الفكر العماني في بعض الفترات.

ثانياً: ادرس الشكل الذي يوضح إحدى الكوارث الطبيعية ثم أجب عن الأسئلة التي تليه:



١- ما اسم الكارثة التي يوضحها الشكل؟

٢- ما العلاقة بين ارتفاع الموجة والعمق؟

٣- لماذا يكون طول الموجة أكبر في المنطقة (أ) منه في المنطقتين (ب ، ج)؟

٤- كيف يمكن تقليل آثار هذا النوع من الكوارث الطبيعية؟

يتبع/٦

(٦)

تابع امتحان الصف العاشر
للعام الدراسي ١٤٣٣/١٤٣٤ هـ - ٢٠١٢/٢٠١٣ م
الدور الأول - الفصل الدراسي الثاني
المادة: الدراسات الاجتماعية

تابع السؤال الثالث:

ثالثاً:

- (أ) اكتب بين الأقواس اسم الظاهرة التي تتحدث عنها العبارات الآتية :
- ١ - الهضبة التي تكونت نتيجة ارتطام الصفيحة الهندية بالصفيحة الأوراسية ويصل متوسط ارتفاعها إلى أكثر من (٤٠٠٠ م) عن مستوى البحر . (.....) .
- ٢- أطول أنهار الصين وثالث أطول نهر في العالم، ويوجد به أشهر مشروع هيدروليكي . (.....) .

(ب) عرف ما يأتي:

- ١- النافتا:
- ٢- مجموعة الثماني للدول النامية:

السؤال الرابع:

أولاً:- أمامك جدول يوضح معدل الاكتفاء الذاتي لأهم المحاصيل الزراعية في اليابان ، ادرسه جيداً ثم أجب عن الأسئلة الآتية:

المحاصيل الزراعية	معدل الاكتفاء الذاتي %
الأرز	٩٥,٩
القمح	١٣,٤
الحبوب	٦,٨
الخضروات	٨٣,٤
الفواكه	٤٤,٣

- ١- أيّ المحاصيل الزراعية الأكثر استيراداً ؟
- ٢- أيّ المحاصيل الزراعية الأقل استيراداً ؟
- ٣- لماذا لم تصل اليابان إلى الاكتفاء الذاتي من الأرز ؟
- ٤- عدد اثنين من طرق حماية القطاع الزراعي وتطويره في اليابان .

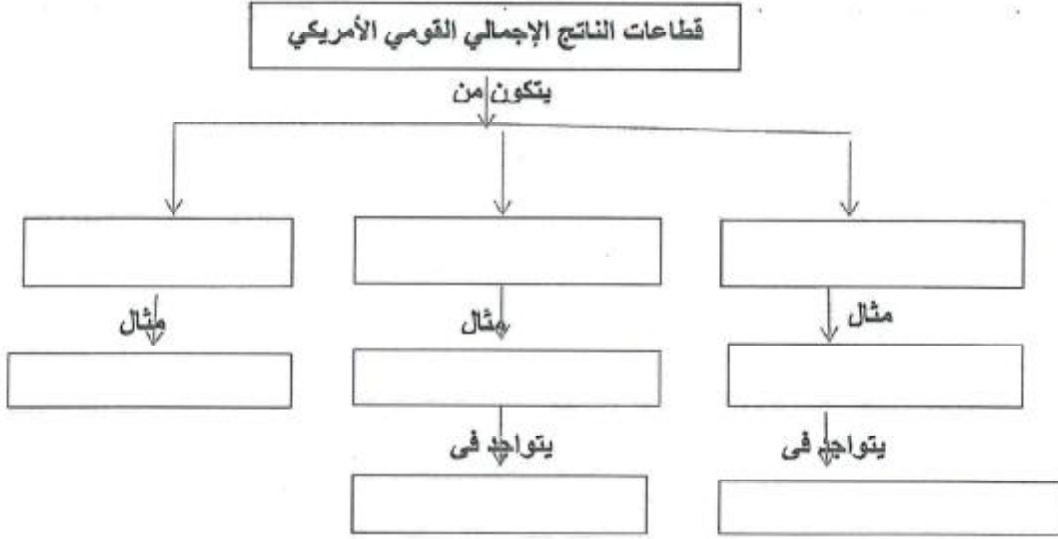
(٧)

تابع امتحان الصف العاشر
للعام الدراسي ١٤٣٣/١٤٣٤هـ - ٢٠١٢/٢٠١٣م
الدور الأول - الفصل الدراسي الثاني
المادة: الدراسات الاجتماعية

تابع السؤال الرابع:

ثانياً:

أكمل المخطط الآتي مستفيداً من الكلمات المحددة بين القوسين:
(الخدمات - الفراولة - ديترويت - النقل - السيارات - الزراعة - الصناعة - كاليفورنيا)



ثالثاً:

أ) "تتجه معظم دول العالم لتكوين كتكتلات اقتصادية حتى أصبحت لا تخلو قارات العالم منها " في ضوء هذه العبارة أجب عن الآتي:
١- اذكر اثنين من التكتلات الاقتصادية التي ترتبط بها سلطنة عمان.

٢- ما أهمية الارتباط بالتكتلات الاقتصادية؟

ب) ما النتيجة المترتبة على:

١- معدل الإنجاب ومعدل الوفيات عند تطبيق الصين سياسة الطفل الواحد.

٢- الإفراط في استغلال الأراضي الزراعية في الصين.

انتهت الأسئلة، مع تمنياتنا لكم بالتوفيق والنجاح.



الجمهورية العربية السورية
وزارة التعليم العالي والبحث العلمي
العام الدراسي
الدور الأول - الفصل الدراسي الثاني
١٤٣٣/١٤٣٤ هـ - ٢٠١٢/٢٠١٣ م

المادة: الدراسات الاجتماعية
تبيئه: نموذج الإجابة في (٤) صفحات.

الدرجة الكلية: (٦٠) درجة

أولاً: إجابة السؤال الموضوعي:-

الدرجة: (٢٤) درجة		إجابة السؤال الأول		
الصفحة	الدرجة	الإجابة	البديل الصحيح	المفردة
١١٦	٢	الفقه	أ	١
١٦٧	٢	المصنع ٣	ج	٢
١٢٧	٢	نوبان الكتل الجليدية	ب	٣
١٦١	٢	كولومبيا	ج	٤
١١٤-١٠٩	٢	تمصير البصرة- نكبة المهالبة - ظهور طرابلس كمركز أباضي	د	٥
١٩٧	٢	بريطانيا	أ	٦
١٣١	٢	زيادة نسبة الأملاح وانخفاض المواد العضوية	أ	٧
١٥٤	٢	الشكل (ب)	ب	٨
١٧٤	٢	انخفاض معدل الخصوبة	ج	٩
٢٠١	٢	السياسات المرنة لأسعار الصرف	د	١٠
١٤٢	٢	الشكل (ب)	ب	١١
١٨٥	٢	الشكل (أ)	أ	١٢
٢٤ درجة		المجموع		

(٢)
تابع نموذج إجابة امتحان الصف العاشر
١٤٣٣/١٤٣٤هـ - ٢٠١٢/٢٠١٣م
الأول - الفصل الدراسي الثاني
مادة: الدراسات الاجتماعية
ثانياً: إجابة الأسئلة التالية:

إجابة السؤال الثاني		الدرجة الكلية: (١٢) درجة									
الجزئية	المفردة	الإجابة الصحيحة	الدرجة								
أولاً	أ	<table border="1"> <thead> <tr> <th>عوامل طبيعية</th> <th>عوامل بشرية</th> </tr> </thead> <tbody> <tr> <td>١- انخفاض المواد العضوية.</td> <td>١- الحرارة العميقة.</td> </tr> <tr> <td>٢- قلة الأمطار.</td> <td>٢- الرعي الجائر.</td> </tr> <tr> <td>٣- المياه الجارية.</td> <td>٣- بناء المشاريع السكنية.</td> </tr> </tbody> </table>	عوامل طبيعية	عوامل بشرية	١- انخفاض المواد العضوية.	١- الحرارة العميقة.	٢- قلة الأمطار.	٢- الرعي الجائر.	٣- المياه الجارية.	٣- بناء المشاريع السكنية.	٣ درجات لكل مفردة نصف درجة
		عوامل طبيعية	عوامل بشرية								
١- انخفاض المواد العضوية.	١- الحرارة العميقة.										
٢- قلة الأمطار.	٢- الرعي الجائر.										
٣- المياه الجارية.	٣- بناء المشاريع السكنية.										
	ب	معدل درجة حرارة الأرض سيصل إلى ما دون الصفر - أو تجمد المياه - أو تنعدم الحياة (أو ما يفيد المعنى)	١								
ثانياً	١	بحر العرب / المحيط الهندي	١								
	٢		١								
	٣	ضغط جوي منخفض	١								
	٤	الرقم (٢)	١								
ثالثاً	أ	كانت له العديد من المراسلات مع الخليفة الأموي عبدالملك بن مروان في المذهب الإباضي ومبادئه وأرائه ومعتقداته .	٢								
	ب	١- مدينة البصرة	١								
		٢- مدينة صحار	١								

(٣)

تابع نموذج إجابة امتحان الصف العاشر
 ١٤٣٣/١٤٣٤ هـ - ٢٠١٢/٢٠١٣ م
 الدور الأول - الفصل الدراسي الثاني
 المادة: الدراسات الاجتماعية

الدرجة الكلية: (١٢) درجة		إجابة السؤال الثالث	
الصفحة	الدرجة	الإجابة الصحيحة	المفردة
١٢٨	نصف درجة لكل مفردة	تحسين أداء الآلات التي تعتمد على البترول / التوقف عن استعمال الكلورفلوروكربون / سن قوانين وتشريعات لمنع قطع الغابات والنباتات وحرقتها / البحث عن بدائل نظيفة للطاقة / منع غاز الميثان من الوصول إلى الجو والاستفادة منه في توفير الطاقة. (يكتفى باثنتين)	١
١٦٦	نصف درجة لكل مفردة	العواصف / الأعاصير / الجليد / العواصف الترابية / الثلوج / الفيضانات / ارتفاع درجات الحرارة / الجفاف (يكتفى باثنتين)	٢
١١٠	١	دراسة علوم الإسلام/ لتلقي العلم .	١
١١٧	١	بسبب تعرض عمان للحروب/الفتن الخارجية في بعض الفترات من تاريخها / تدمير و حرق للكتب .	٢
١٥٣	١	تسونامي ٢٠٠٤ / المد البحري / زلزال بحري / زلزال سومطرة	١
١٥٣	١	كلما قل العمق زاد ارتفاع الموجة والعكس صحيح/علاقة عكسية.	٢
١٥٦	١	بسبب أن المنطقة (أ) أكثر عمقا من المنطقتين (ب) و (ج) .	٣
١٥٦	١	من خلال وضع أنظمة إنذار مبكرة لموجات التسونامي في البحار والمحيطات/ توعية المواطنين .	٤
١٩٣	١	هضبة التبت.	١
٢٠٢	١	نهر اليانجستي	٢
١٨٣	١	الناقتا : تكتل اقتصادي يجمع بين الولايات المتحدة الأمريكية والمكسيك وكندا.	١
٢٠٢	١	مجموعة الثماني للدول النامية : هي مجموعة اقتصادية تضم أكبر الدول النامية ذات الأغلبية السكانية المسلمة.	٢
			أ
			ب
			ثالثا

(٤)

تابع نموذج إجابة امتحان الصف العاشر
للعام الدراسي ١٤٣٣/١٤٣٤هـ - ٢٠١٢/٢٠١٣م
الأول - الفصل الدراسي الثاني
المادة: الدراسات الاجتماعية

الدرجة الكلية: (١٢) درجة		إجابة السؤال الرابع	
الصفحة	الدرجة	الإجابة الصحيحة	المفر دة
١٧٨	١	الحبوب	١
	١	الأرز	٢
١٧٧	١	بسبب زيادة عدد السكان المستمر.	٣
	١	زراعة السفوح الجبلية - بناء المدرجات - استعمال الأساليب والوسائل التكنولوجية الحديثة في الزراعة. (يكتفى باثنتين و لكل مفردة نصف درجة)	٤
-١٦٤ ١٧٠	٤ درجات لكل مفردة نصف درجة	<p>النتاج الاجمالي القومي الامريكي</p> <p>يتكون</p> <pre> graph TD A[النتاج الاجمالي القومي الامريكي] -- يتكون --> B[الخدمات] A -- يتكون --> C[الصناعة] A -- يتكون --> D[الزراعة] B -- مثال --> E[النقل] C -- مثال --> F[السيارات] D -- مثال --> G[الفراولة] F -- يوجد --> H[ديترويت] G -- يوجد --> I[كاليفورنيا] </pre>	
١٩٣	درجة لكل مفردة نصف	١ - رابطة الدول المطلة على المحيط الهندي- مجلس التعاون الخليجي ٢ - تحقيق التعاون وتوثيق العلاقات بين الشعوب/ إرساء قواعد السلام والاستقرار/ زيادة التخصص الإقليمي / زيادة حجم التجارة الخارجية والداخلية / إزالة القيود الجمركية/مزيد من القوة الاقتصادية/القدرة على المساومة والتفاوض الدولي. (يكتفى بواحدة ولها درجة)	١ ٢
١٩٢	١		
١٨٤	١	تحول الصين إلى دولة ذات معدل إنجاب منخفض ومعدل وفيات منخفض.	١ ب
١٨٦	١	التصحّر.	٢

نهاية نموذج الإجابة