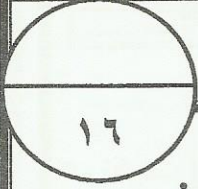


المديرية العامة للتربية والتعليم بمحافظة جنوب الباطنة
الامتحان النهائي للصف الخامس
للعام الدراسي ١٤٣٥/١٤٣٦ هـ - ٢٠١٤/٢٠١٥ م
الفصل الدراسي الأول - الدور الأول

• زمن الإجابة: ساعة ونصف

• المادة: الدراسات الاجتماعية
• تنبيه: - الأسئلة في (٥) صفحات



الاسم :
الشعبة : (.....)

أجب عن جميع الأسئلة الآتية

السؤال الأول: ضع دائرة حول الحرف الدال على الإجابة الصحيحة من بين البدائل المعطاة :

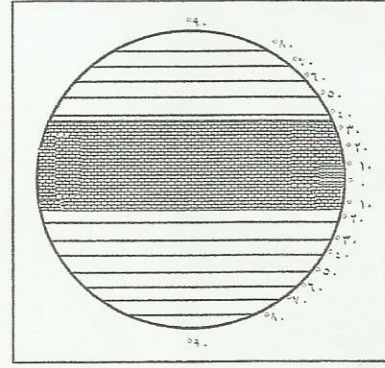
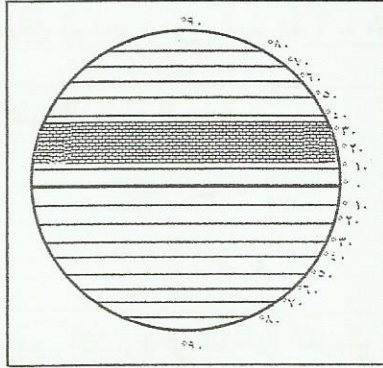
١- أعلى طبقات السُّلم الاجتماعي البيزنطي :

أ - التجار ب- الفلاحون ج- النبلاء د- الصناع

٢- يتأثر الجبل الأخضر في سلطنة عمان بالمناخ :

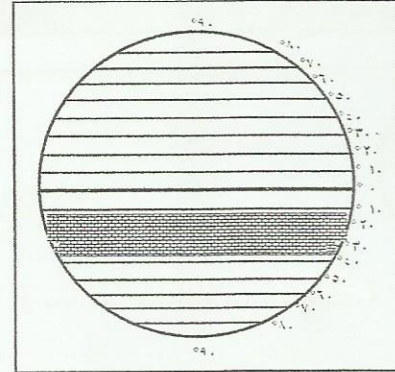
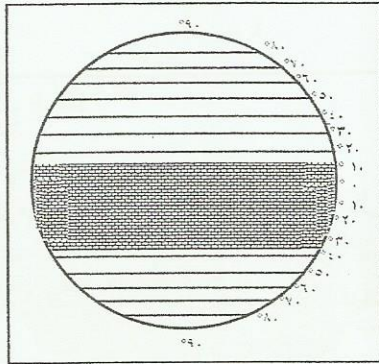
أ - الموسمي ب - الصحراوي ج - الاستوائي د - المتوسطي

٣- الشكل الذي يحدد الامتداد الصحيح للوطن العربي وفقا لدوائر العرض :



ب

أ



(٢)

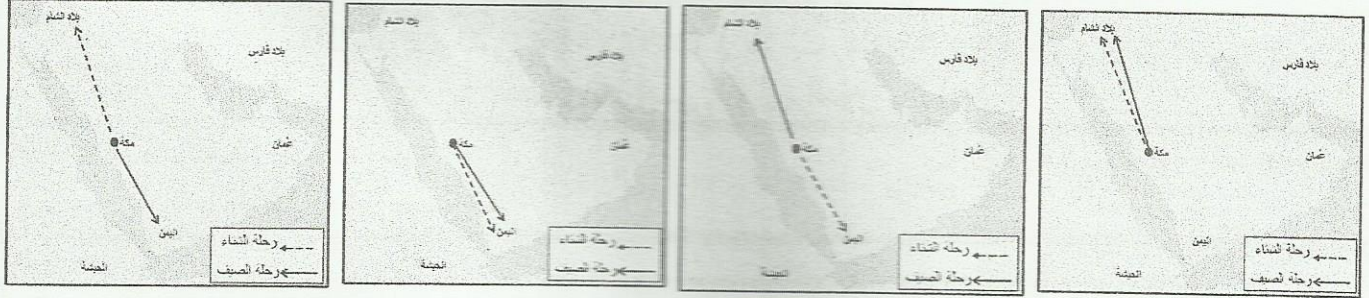
تابع الامتحان النهائي للصف الخامس

للعام الدراسي ١٤٣٥/١٤٣٦ هـ — ٢٠١٤/٢٠١٥ م

امتحان مادة: الدراسات الاجتماعية الفصل الدراسي الأول - الدور الأول

تابع السؤال الأول:

٤- الخريطة التي توضح مسار رحلتي الشتاء والصيف لقرش :



د

ج

ب

أ

٥- تكونت الجروف الصخرية الساحلية بفعل نحت :


د - الأودية

ج - أمواج البحر

ب - الأنهار

أ - الرياح

٦- المشكلة التي تتعرض لها النباتات الطبيعية في الشكل المقابل :



ب- الرعي الجائر

أ- الحرائق

د- قطع الأشجار

ج- الزراعة غير المنتظمة

انظر الشكل المقابل ثم اجب عن المفردة ٧ ، ٨ :

٧ - الرقم الدال على السلسلة الجبلية :

ب - ٢

أ - ١

د - ٤

ج - ٣

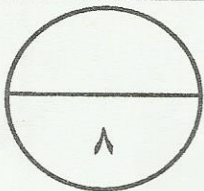
٨ - أكثر التضاريس إنتشاراً في الوطن العربي :

ب - ٢

أ - ١

د - ٤

ج - ٣



السؤال الثاني :

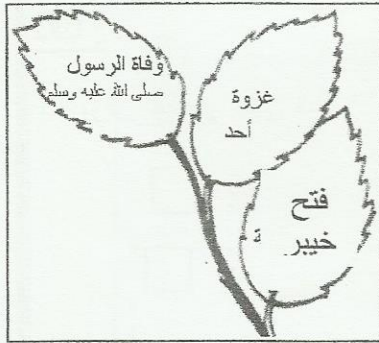

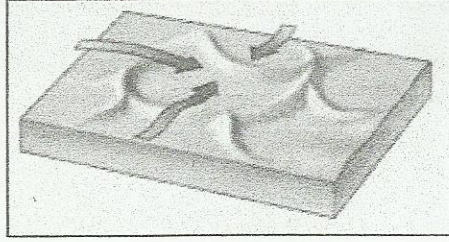
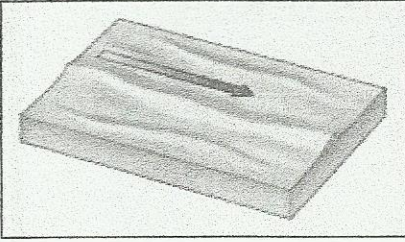
أولاً : ضع المفهوم المناسب بين القوسين أمام كل عبارة من العبارات الآتية :

١ - طبقة مفتتة من قشرة الأرض تنمو فيها النباتات . (.....)

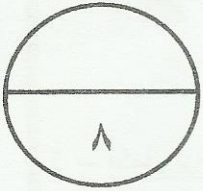
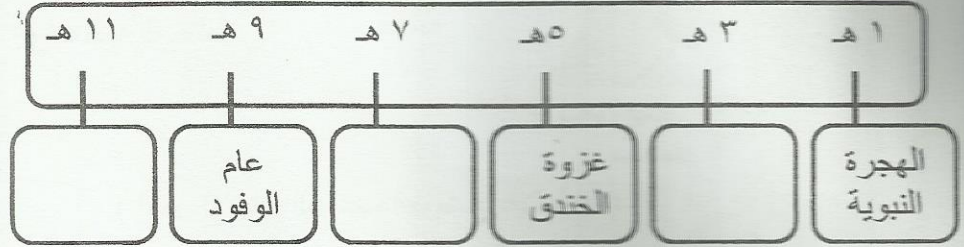
٢ - مجموعة كبيرة من الدول والأقاليم والشعوب يحكمها حاكم واحد . (.....)

تابع : السؤال الثاني :-

ثانياً : اكتب الاسم الصحيح للكثيران الرملية (نجمي / طولي / هلالى) أسفل كل شكل :



ثالثاً : استعن بالشكل المقابل في إكمال المخطط الزمني الآتي :



السؤال الثالث :-

أولاً : استعن بالشكل المقابل في الإجابة عن الأسئلة الآتية :

١ - ما المشكلة التي يعبر عنها الشكل ؟

٢ - استخرج من الشكل حلاً لهذه المشكلة .

٣- ما هو دورك للحد من هذه المشكلة ؟



يتبع / ٤

(٤)

تابع الامتحان النهائي للصف الخامس
للعام الدراسي ١٤٣٥/١٤٣٦ هـ — ٢٠١٤/٢٠١٥ م
امتحان مادة: الدراسات الاجتماعية الفصل الدراسي الأول - الدور الأول

تابع السؤال الثالث :-

ثانياً :

اكمل بيانات الجدول من خلال نسب المنجزات الآتية الى الخليفة الراشدي الذي حدثت في عهده :
(إنشاء الدواوين - القضاء على حركة الردة - تعيين القضاة في البلاد المفتوحة)

أبو بكر الصديق	عمر بن الخطاب

ثالثاً :

١ - يؤثر الطقس على حياة الانسان وأنشطته المختلفة .

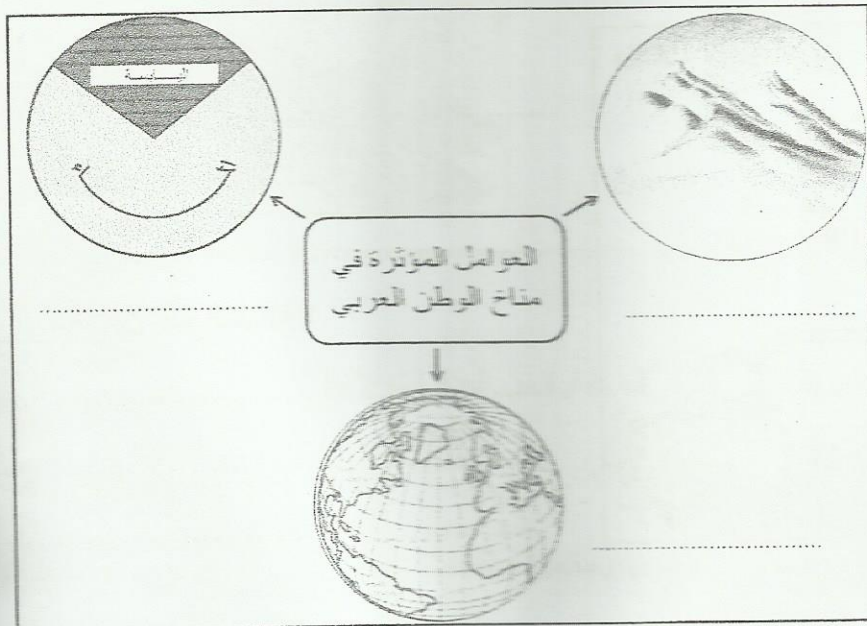
نعم

لا

(اختر الاجابة الصحيحة بوضع علامة √)

فسر إجابتك :

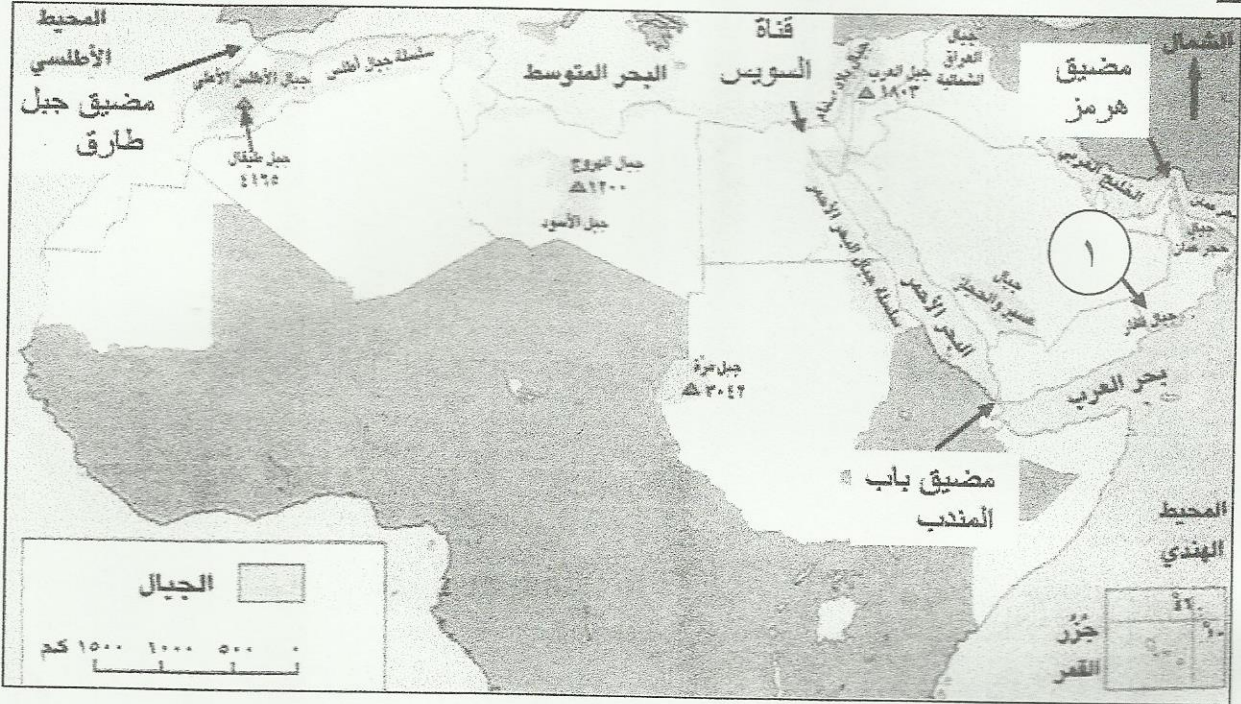
٢ - اكمل بيانات الشكل الآتي :



سؤال الرابع :-

ولاً : اذكر اثنتين من الديانات التي اعتنقها العرب قبيل الإسلام .

ثانياً : استعن بخريطة الوطن العربي في الاجابة عن الأسئلة التي تليها :



١ - أحمد يمارس رياضة تسلق الجبال، طلب منك معلومة عن ارتفاع أعلى قمة جبلية في الوطن العربي ،

فكم تبلغ بالامتر ؟

٢ - تخيل نفسك في رحلة بحرية كانت بدايتها من دولة الكويت وانتهت بالسواحل السودانية ، فما الممرات المائية التي

ستعبرها ؟ -

٣ - في أي فصول السنة تسقط الأمطار على السلاسل الجبلية المشار إليها بالرقم (١) ؟

ثالثاً : بم تفسر :

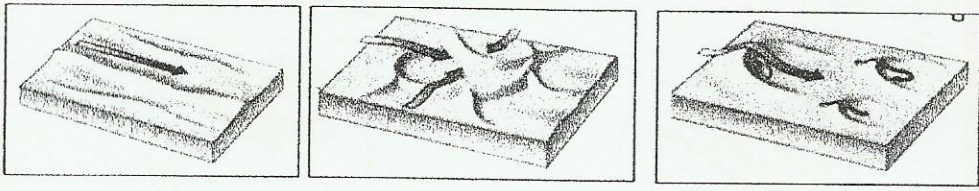
أ - تنوع التربة في الوطن العربي .

ب - انخفاض عدد سكان الوطن العربي في السهول الداخلية .

انتهت الأسئلة مع تمنياتنا لكم بالتوفيق والنجاح

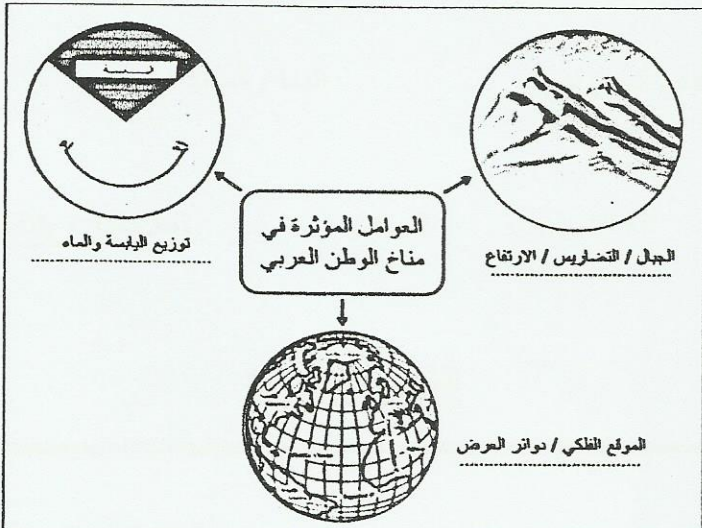
المديرية العامة للتربية والتعليم بمحافظة جنوب الباطنة

نموذج إجابة امتحان نهاية الفصل الدراسي الأول - الدور الاول - للصف الخامس
لمادة الدراسات الاجتماعية للعام الدراسي (٢٠١٤ - ٢٠١٥)

الصفحة	الدرجة	الإجابة (/) تعنى اجابة أخرى صحيحة	المفردة	السؤال																																				
	١٦ درجة لكل مفردة درجتين	*ملاحظة : النموذج في ثلاث صفحات																																						
		<table border="1"> <thead> <tr> <th>الرقم</th> <th>١</th> <th>٢</th> <th>٣</th> <th>٤</th> <th>٥</th> <th>٦</th> <th>٧</th> <th>٨</th> </tr> </thead> <tbody> <tr> <td>الرمز</td> <td>ج</td> <td>د</td> <td>أ</td> <td>ب</td> <td>ج</td> <td>د</td> <td>ج</td> <td>أ</td> </tr> <tr> <td>الإجابة</td> <td>النبلء</td> <td>المتوسطي</td> <td>الشكل أ</td> <td>الخريطة ب</td> <td>امواج البحر</td> <td>قطع الاشجار</td> <td>الشكل</td> <td>الشكل</td> </tr> <tr> <td>الصفحة</td> <td>٧٩</td> <td>٤٢</td> <td>١١</td> <td>٧٠</td> <td>٢٠</td> <td>٦٣</td> <td>٢٧</td> <td>٣١</td> </tr> </tbody> </table>	الرقم	١	٢	٣	٤	٥	٦	٧	٨	الرمز	ج	د	أ	ب	ج	د	ج	أ	الإجابة	النبلء	المتوسطي	الشكل أ	الخريطة ب	امواج البحر	قطع الاشجار	الشكل	الشكل	الصفحة	٧٩	٤٢	١١	٧٠	٢٠	٦٣	٢٧	٣١		الأول
الرقم	١	٢	٣	٤	٥	٦	٧	٨																																
الرمز	ج	د	أ	ب	ج	د	ج	أ																																
الإجابة	النبلء	المتوسطي	الشكل أ	الخريطة ب	امواج البحر	قطع الاشجار	الشكل	الشكل																																
الصفحة	٧٩	٤٢	١١	٧٠	٢٠	٦٣	٢٧	٣١																																
٥٩	١	السؤال الثاني (٨ درجات)																																						
٧٦	١	١- التزبية ٢- الامبراطورية			أولا																																			
٣٧-٣٦	٣ لكل درجة			ثانيا																																				
٩٣-٨٨	٣ لكل درجة	<table border="1"> <thead> <tr> <th>١١ هـ</th> <th>٩ هـ</th> <th>٧ هـ</th> <th>٥ هـ</th> <th>٣ هـ</th> <th>١ هـ</th> </tr> </thead> <tbody> <tr> <td>وفاة الرسول</td> <td>عام الوفود</td> <td>فتح خيبر</td> <td>غزوة الخندق</td> <td>غزوة أحد</td> <td>الهجرة النبوية</td> </tr> </tbody> </table>	١١ هـ	٩ هـ	٧ هـ	٥ هـ	٣ هـ	١ هـ	وفاة الرسول	عام الوفود	فتح خيبر	غزوة الخندق	غزوة أحد	الهجرة النبوية		ثالثا																								
١١ هـ	٩ هـ	٧ هـ	٥ هـ	٣ هـ	١ هـ																																			
وفاة الرسول	عام الوفود	فتح خيبر	غزوة الخندق	غزوة أحد	الهجرة النبوية																																			
		يتبع / ٢																																						

(٢)

تابع نموذج إجابة امتحان نهاية الفصل الدراسي الأول - الدور الاول - للصف
الخامس لمادة الدراسات الاجتماعية للعام الدراسي (٢٠١٤ - ٢٠١٥)

الصفحة	الدرجة	(/) تعني إجابة أخرى صحيحة	الإجابة	المفردة	السؤال						
٥٧-٥٦	٠,٥			أولا							
	٠,٥		١ - أزمة مياه / عجز مائي / نقص المياه								
	١		٢ - تحلية مياه البحر / تحلية مياه الآبار								
	٣		٣ - ترشيد استهلاك المياه والحفاظ على مصادرها / التوعية والتثقيف المجتمعي . (بما يفيد المعنى)								
٩٧-٩٤	لكل درجة		<table border="1"><tr><td>عمر بن الخطاب</td><td>أبو بكر الصديق</td></tr><tr><td>- إنشاء الدواوين</td><td>- القضاء على</td></tr><tr><td>- تعيين القضاة في البلاد المفتوحة</td><td>حركة الردة</td></tr></table>	عمر بن الخطاب	أبو بكر الصديق	- إنشاء الدواوين	- القضاء على	- تعيين القضاة في البلاد المفتوحة	حركة الردة	ثانيا	
عمر بن الخطاب	أبو بكر الصديق										
- إنشاء الدواوين	- القضاء على										
- تعيين القضاة في البلاد المفتوحة	حركة الردة										
	٠,٥		١ - نعم		الثالث						
٥٤-٤١	١		يؤثر الطقس على حياة الإنسان <u>فمثلا</u> الصيد لا يستطيع ارتياد البحر دون معرفة حالة الجو ، وكذلك <u>المزارع</u> لا بد ان يتابع حالة الجو لحماية محاصيله الزراعية من التلف ، وايضا <u>المواطن العادي</u> لمعرفة اختيار الملابس المناسبة ، وكذلك <u>الملاح البحري</u> والجوي		الثالثا						
	١,٥ لكل نصف درجة		٢ - 								
٤١											

(٣)

تابع نموذج إجابة امتحان نهاية الفصل الدراسي الأول – الدور الاول- للصف الخامس
لمادة الدراسات الاجتماعية للعام الدراسي (٢٠١٤ - ٢٠١٥)

الصفحة	الدرجة	(/) تعني إجابة أخرى صحيحة	الإجابة	المفردة	السؤال
٧٣	٢ لكل درجة	(ملاحظة : يكتفى بإثنتين)	<u>السؤال الرابع (٨ درجات)</u> - الوثنية / الشرك / عبادة الاصنام - اليهودية - النصرانية - الحنيفية (ملة ابراهيم عليه السلام)	أولا	
٢٧	١		١- ٤١٦٥ م	ثانيا	
١٦	١		٢- مضيق هرمز – مضيق باب المندب		
٥١	١		٣- الصيف		الرابع
٥٩	٢ لكل درجة		أ – - الموقع الجغرافي - المناخ السائد	ثالثا	
١٨	١	(ملاحظة : يكتفى بواحدة)	ب – - قلة الامطار - الجفاف		
<u>انتهى النموذج</u>					