



امتحان نهاية الفصل الدراسي الثاني - الدور الأول - العام الدراسي ٢٠١٣ / ٢٠١٤ م

السؤال الأول: ضع دائرة حول رمز الإجابة الصحيحة فيما يلي : ( ١٦ درجة )

١ - يقصد بالزيادة الكبيرة في أعداد السكان مقارنة بالموارد المتاحة :

( أ ) الاقتصاد ( ب ) الانفجار السكاني

( ج ) القوى العاملة ( د ) الموارد البشرية

٢ - يعد فقر الدم المنجلي من أشهر أمراض الدم :

( أ ) الوراثة ( ب ) المعدية

( ج ) الوبائية ( د ) المزمنة

٣ - المدينة التي تقدم حياة أفضل لسكانها من خلال الجدول التالي :

عدد المستشفيات	عدد المدارس	عدد السكان	المدينة
٣	١٥	٢٠٠,٠٠٠	الأولى
٦	٢٠	٢٠٠,٠٠٠	الثانية
٦	٢٥	٢٠٠,٠٠٠	الثالثة
٧	٣٠	٢٠٠,٠٠٠	الرابعة

( أ ) الأولى ( ب ) الثانية

( ج ) الثالثة ( د ) الرابعة

٤ - ميناء وصفه الرحالة والجغرافيون بأنه أعمر مكان في دار الإسلام وقصبة عمان:

( أ ) ظفار ( ب ) صور

( ج ) صحار ( د ) مسقط

يتبع،،،

تابع السؤال الأول:

٥- يشير الشكل الذي أمامك إلى نوع من السفن في عمان ومنطقة الخليج العربي يسمى:

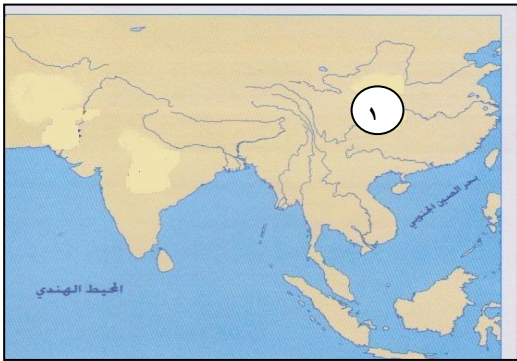


- (أ) العيكار  
(ب) البوم  
(ج) البدن  
(د) البغلة

٦- اختار النوخذة شخص يدعى محمد لمرافقته في رحلة بحرية إلى الصين وأوكل إليه مهمة قيادة دفة السفينة يطلق على محمد اسم :

- (أ) الربان  
(ب) المعلم  
(ج) السكوتي  
(د) الصرنج

٧- نظام الحكم في الدولة المشار إليها بالرقم (١) :



- (أ) كومونولث  
(ب) إمبراطوري  
(ج) جمهوري  
(د) ملكي

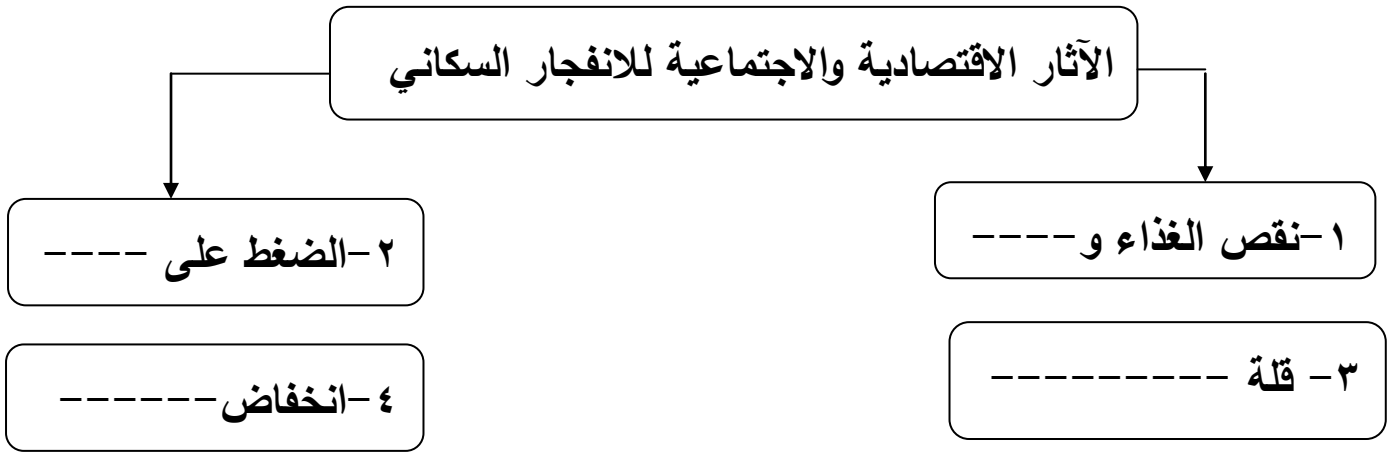
٨- المحصول الزراعي الرئيسي في ماليزيا :

- (أ) الكاكاو  
(ب) الأرز  
(ج) زيت النخيل  
(د) المطاط

يتبع،،

السؤال الثاني : أجب عن الأسئلة التالية : ( ٨ درجات )

١- ادرس الشكل التالي ، ثم أكمل الفراغات المطلوبة:



٢- أمامك جدول معدلات المواليد والوفيات والزيادة الطبيعية في العالم ، ادرسه جيدا ثم أجب عن الأسئلة التي تليها:

الموقع	عدد السكان (بالمليون)	معدل المواليد (بالألف)	معدل الوفيات (بالألف)	الزيادة الطبيعية (بالألف)	مدة تضاعف السكان بالسنوات (بالألف)
أفريقيا	٨٣٢	٣٨	١٤	٢٤	٢٩
آسيا	*٣,٧٧٦	٢٢	٨	١٤	٤٨
أوروبا	٧٢٧	١٠	١١	١	١٢٥
أمريكا الشمالية	٣٢٢	١٤	٩	٦	١٢٤
أمريكا الجنوبية والوسطى	٥٣٥	٢٤	٦		٣٩
الأوقيانوسية	٣١,٨	١٨	٧	١١	٦٥
العالم	*٦,٥٢٠,٨	٢٢	٩	١٣	٥١

- ١- ما القارة التي يرتفع فيها معدل المواليد؟ -----
- ٢- احسب الزيادة الطبيعية لقارة أمريكا الجنوبية والوسطى. -----
- ٣- رتب القارات تنازليا من الأكثر إلى الأقل ارتفاعاً في معدلات المواليد.

يتبع،،،

تابع السؤال الثاني :

٣- عرف المفاهيم التالية:

أ) سلطانه.....

.....

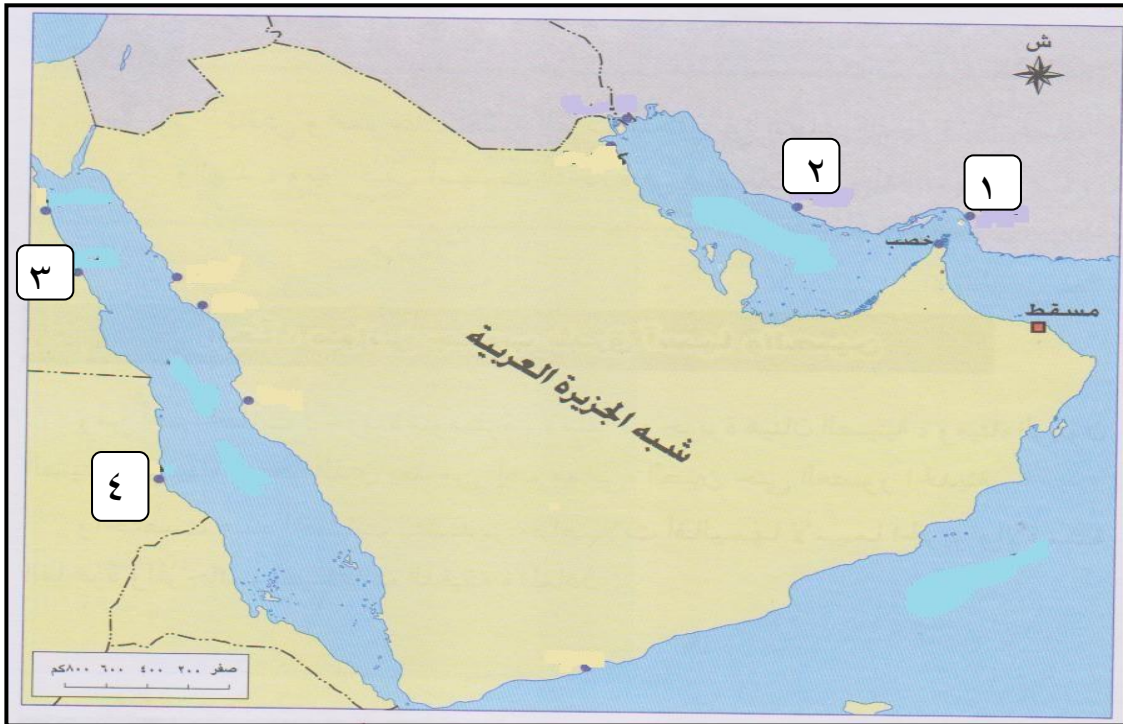
ب) الفرقاطة.....

.....

ج) التحضر.....

السؤال الثالث: أجب عن الأسئلة التالية : (٨ درجات)

١- ادرس الخريطة التالية ، ثم أجب عن الأسئلة التي تليها:



أ- وقع على الخريطة المسطحات المائية التالية

- البحر الأحمر - الخليج العربي

ب- الرقم الصحيح الذي يشير إلى ميناء سيراف هو -----

ج- اسم الميناء المشار إليه بالرقم (٤) هو ميناء -----

يتبع،،،

تابع: السؤال الثالث :

٢ - ".... تستهدف الرؤية المستقبلية للاقتصاد العماني ٢٠٢٠م إجراء تحول جذري في تركيبة الاقتصاد القومي، وإرساء الدعائم الأساسية للتحول الاقتصادي والاجتماعي ، وهذا التحول يتطلب وضع رؤية مستقبلية واضحة محددة المعالم للإنطلاق نحو القرن الواحد والعشرين....."

في ضوء هذه العبارة ، لخص في نقاط أهم أهداف هذه الرؤية .

(١) .....

(٢) .....

(٣) .....

٣- فيما يلي أحداث بارزة في تاريخ اليابان رتبها وفق التسلسل التاريخي من الأقدم إلى الأحدث:

أ- دخلت اليابان الحرب العالمية الثانية ضد الحلفاء ( ) .

ب- وضع دستور جديد لليابان ، فقد فيه الإمبراطور كل السلطات العسكرية والسياسية ( ) .



ج- تسلم الإمبراطور هينو العرش ( ) .

د- إلقاء القنابل النووية على هيروشيما وناجازاكي ( ) .

يتبع ،،

السؤال الرابع: أجب عن الأسئلة التالية : ( ٨ درجات ) :

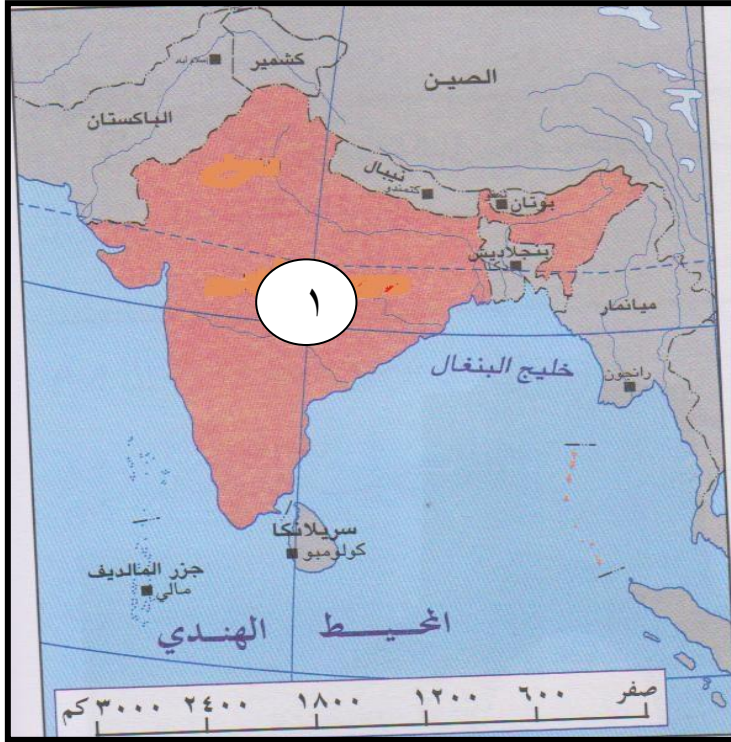
١- أكمل الجدول التالي الذي يبين بعض المعالم الحضارية في دول آسيا :

الدولة التي ينتمي إليها	اسم المَعْلَم	الصورة
		
		

يتبع،،

تابع : السؤال الرابع:

٢- أكمل البطاقة التعريفية للدولة التالية والمشار إليها بالرقم (١):



- ١- اسم هذه الدولة \_\_\_\_\_
- ٢- العاصمة \_\_\_\_\_
- ٣- نظام الحكم \_\_\_\_\_
- ٤- العملة \_\_\_\_\_

٣- أكمل الجدول التالي:

"تأثرت الحضارة الفارسية بالحضارات التي اتصلت بها... "

دلل على صحة هذه العبارة بالنسبة لكل من:

	أ- بلاد الرافدين
	ب- الحضارة المصرية
	ج- الفينيقيين
	د- اليونان

انتهت الأسئلة مع التمنيات للجميع بالنجاح





بِسْمِ اللَّهِ الرَّحْمَنِ الرَّحِيمِ

" رَبِّ اجْعَلْ لِي قَدْرًا وَيَسِّرْ لِي أَمْرِي "

مِنَاطِنَةُ عُضْمَانَ  
وَأَذَانَ الرَّبِيعِ وَالْحَلِيمِ  
المديرية العامة للتربية والتعليم بمحافظة الظاهرة  
دائرة التقويم التربوي

نموذج إجابة امتحان نهاية الفصل الدراسي الثاني - الدور الأول العام الدراسي ٢٠١٣ / ٢٠١٤ م

الصف : التاسع	المادة : الدراسات الاجتماعية	الزمن : ساعة ونصف	الدرجة : ٤٠ درجة
---------------	------------------------------	-------------------	------------------

إجابة السؤال الأول : ( ١٦ درجة لكل مفردة درجتان )

رقم المفردة	١	٢	٣	٤	٥	٦	٧	٨
رمز الإجابة	ب	أ	د	ج	د	ج	ج	ب
الإجابة	الانفجار السكاني	الوراثية	الرابعة	صحار	البغلة	السكوتي	جمهوري	الأرز
الدرجة	٢	٢	٢	٢	٢	٢	٢	٢
الصفحة	٨	٢٥	١٧	٥٢	٦٢	٦٥	٨٥	١٠٨

م	الإجابة	الدرجة	الصفحة
١	<p>الآثار الاقتصادية والاجتماعية للانفجار السكاني</p> <p>١- نقص الغذاء وسوء التغذية</p> <p>٢- انخفاض المستوى المعيشي</p> <p>٣- الضغط على الخدمات</p> <p>٤- قلة فرص العمل</p>	لكل تكملة نصف درجة (٢)	١٦-١٣
-٢	<p>١- أفريقيا</p> <p>٢- ١٨</p> <p>٣-</p> <p>أفريقيا</p> <p>أمريكا الجنوبية والوسطى</p> <p>آسيا</p> <p>أوقيانوسيا</p> <p>أمريكا الشمالية</p> <p>أوروبا</p> <p>الطالب بدأ من الأعلى أو الأسفل تعتبر الإجابة صحيحة (المهم هو الترتيب)</p>	نصف درجة  نصف درجة  المعلم يقدر الدرجة (٢)	١١  ١١  ١١
-٣	<p>١- من أهم قطع الأسطول العماني وقد أرسلت إلى نيويورك عام ١٨٤٠م بقيادة السفير العماني أحمد بن النعمان .</p> <p>٢- سفينة حربية صغيرة الحجم سريعة تستخدم للمناورة.</p> <p>٣- تحول السكان من الأرياف أو البادية إلى حياة المدن.</p>	١ ١ ١	٤٨ ٤٩ ٢٩

إجابة السؤال الثالث : ( ٨ درجات )

٥٦ ١  
"نصف درجة لكل مسطح"



-١

م	الإجابة	الدرجة	الصفحة
١	تابع السؤال الثالث ب- رقم (٢) سيراف ج- ميناء سواكن	١	٥٦
٢	-التنوع الاقتصادي - تنمية القطاع الخاص - رفع معدلات الادخار والاستثمار - تنمية الموارد البشرية - تحسين أداء العمل - تقوية علاقات عمان الاقتصادية مع العالم الخارجي (يكتفي فقط بذكر ثلاثة، مع مراعاة إجابة الطالب)	٣	٣٥-٣٣
٣	أ- (٣) ج- (١) ب- (٢) د- (٤)	٢	٩٨-٩٧

إجابة السؤال الرابع: ( ٨ درجات )

م	الإجابة	الدرجة	الصفحة
١-	اسم المعلم أو الظاهرة	نصف درجة لكل تكملة (٢)	٨١
	تاج محل		٨٨
	سور الصين العظيم		
٢-	١- اسم هذه الدولة <u>الهند</u> ٢- العاصمة <u>نيودلهي</u> ٣- نظام الحكم <u>جمهوري</u> ٤- العملة <u>الروبية</u>	لكل تكملة درجة واحدة (٤)	٧٨
٣-	أ- بلاد الرافدين	لكل تكملة نصف درجة (٢)	٧٣
	ب- الحضارة المصرية		
	ج- الفينيقيين		
	د- اليونان		
	أخذوا الكتابة		
	أخذوا فن العمارة		
	أخذوا النقود		
	تعلموا بناء السفن		

» نهاية نموذج الإجابة »

إعداد وحدة إشراف الدراسات الاجتماعية  
٩٩٤٥٧١٧٢