

امتحان نهاية الفصل الدراسي الثاني - الدور الثاني - العام الدراسي ٢٠١٣ / ٢٠١٤ م

السؤال الأول: ضع دائرة حول رمز الإجابة الصحيحة فيما يلي : (١٦ درجة)

١- التحق علي بشركة وبعد تسلمه للعمل حصل على مجموعة من المعارف لتحسين

وتطوير مهاراته وقدراته في مجال عمله يسمى ما حصل عليه علي اسم :

(أ) التعليم (ب) الترقية

(ج) التدريب (د) التهيئة

٢- يعد فقر الدم الثلاسيميا من أشهر أمراض الدم :

(أ) الوراثة (ب) المعدية

(ج) الوبائية (د) المزمنة

٣- المدينة التي تقدم حياة أفضل لسكانها من خلال الجدول التالي :

عدد المستشفيات	عدد المدارس	عدد السكان	المدينة
٣	١٥	٥٠,٠٠٠	الأولى
٦	٢٠	٥٠,٠٠٠	الثانية
٦	٢٥	٥٠,٠٠٠	الثالثة
٧	٣٠	٥٠,٠٠٠	الرابعة

(ب) الثانية

(أ) الأولى

(د)الرابعة

(ج) الثالثة

٤- الميناء العماني الذي ارتبط بتجارة اللبان والذهب والبخور منذ القدم:

(ب) صور

(أ) ظفار

(د) مسقط

(ج) صحار

يتبع ،،

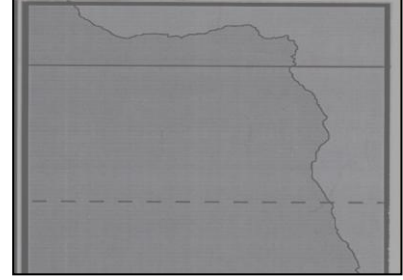
تابع السؤال الأول:

٥- الرمز الذي يشير الى الساحل الشرقي الإفريقي هو:

(ب)



(أ)



(د)



(ج)



٦- الشخص المسئول عن ميرة السفينة وتمويلها :

(ب) المعلم

(أ) الربان

(د) الكراني

(ج) الوكيل

٧- الدولة التي ينتمي إليها المفكر والحكيم كونفوشيوس :

(ب) الهند

(أ) إيران

(د) الصين

(ج) اليونان

يتبع ،،

تابع السؤال الأول:

٨- أطلق العرب اسم بلاد العجم على:

(ب) إيران

(أ) اليونان

(د) تركيا

(ج) ماليزيا

السؤال الثاني : أجب عن الأسئلة التالية : (٨ درجات)

١- ادرس الشكل التالي ، ثم أكمل الفراغات المطلوبة:

صعوبات الإبحار

المحيط الهندي

الخليج العربي

مثال

مثال

(١)

(١)

(٢)

(٢)

يتبع ،،

تابع: السؤال الثاني

٢- أمامك جدول مساهمة القطاعات الاقتصادية في الناتج المحلي ، ادرسه جيدا ثم أجب عن الأسئلة التي تليه:

القطاع الاقتصادي	١٩٩٩م	٢٠٢٠م
النفط	٣٨,٣%	٩,٠%
الغاز	١,١%	١٠,٠%
الزراعة والأسماك	٢,٦%	٥,١%
الصناعة	٤,٢%	١٥,٠%
التجارة	١١,٨%	١٦,٠%

- ١- ما القطاع الاقتصادي الذي يحتل المرتبة الثالثة في مساهمته في الناتج المحلي لعام ١٩٩٩م؟

- ٢- ما القطاع الاقتصادي الذي من المتوقع أن يحتل المرتبة الأولى عام ٢٠٢٠م؟

- ٣- رتب مساهمة القطاعات الاقتصادية في الناتج المحلي تصاعديا لعام ٢٠٢٠م .
.....
.....
.....

يتبع ،،

تابع السؤال الثاني :

٣- عرف المفاهيم التالية:

أ) الديمانى.....

.....

ب) البوصلة.....

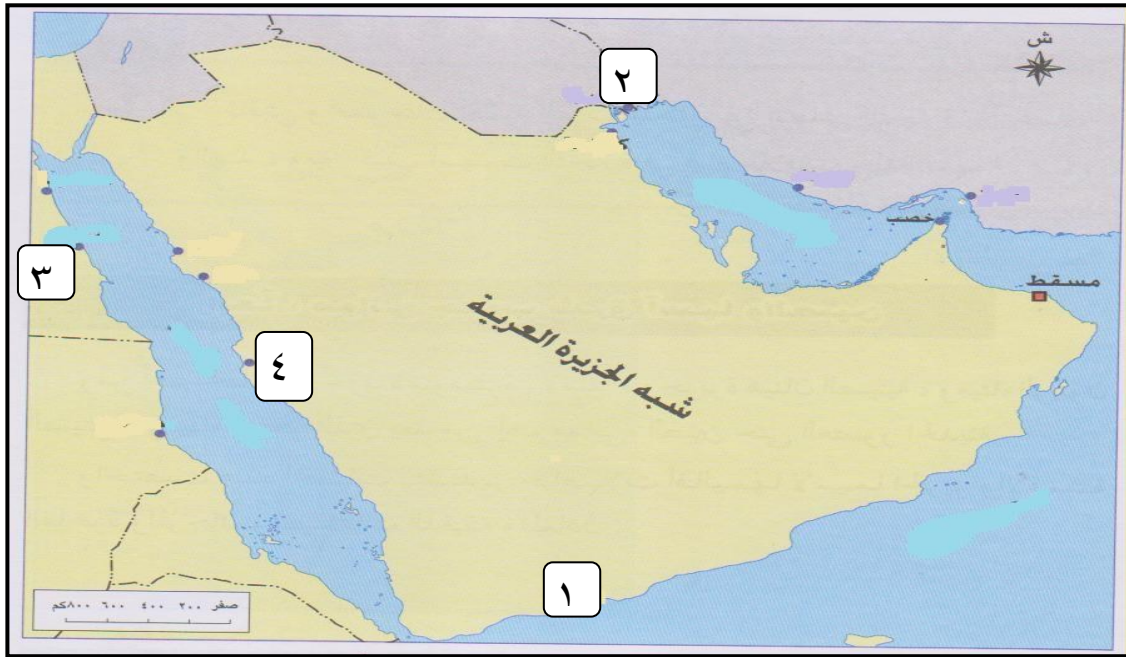
.....

ج) الاقتصاد.....

.....

السؤال الثالث: أجب عن الأسئلة التالية (٨ درجات)

١- ادرس الخريطة التالية، ثم أجب عن الأسئلة التي تليها ؟



أ- وقع على الخريطة المسطحات المائية التالية :

- بحر عمان - بحر العرب

ب- الرقم الصحيح الذي يشير إلى الميناء الذي كان يعتبر منفذا للعراق هو -----

ج- اسم الميناء المشار إليه بالرقم (٤) هو ميناء -----

يتبع ،،

تابع: السؤال الثالث

٢- " تستهدف الرؤية المستقبلية للاقتصاد العماني تنمية قدرات المواطن العماني وإتاحة الفرص والخيارات له لأداء عمله بشكل أفضل ، وبما يضمن له الحق في التعليم والعمل، وتعمل السلطنة جاهدة على تنمية مواردها البشرية.. "

برأيك : لماذا تهتم السلطنة بتنمية مواردها البشرية وتطويرها ؟

.....(١)

.....(٢)

.....(٣)



٣- فيما يلي أحداث بارزة في تاريخ الهند القديمة ، رتبها وفق التسلسل التاريخي من الأقدم الى الأحدث:

- أ- سيطرة الآريين على الأراضي الزراعية في حوض نهر السند () .
- ب- قدوم الآريين إلى الهند () .
- ج- ظهور النظام الطبقي الجديد في الهند () .
- د- انتقال الفيديين إلى جنوب الهند () .

يتبع ،،،

السؤال الرابع: أجب عن الأسئلة التالية : (٨ درجات) :

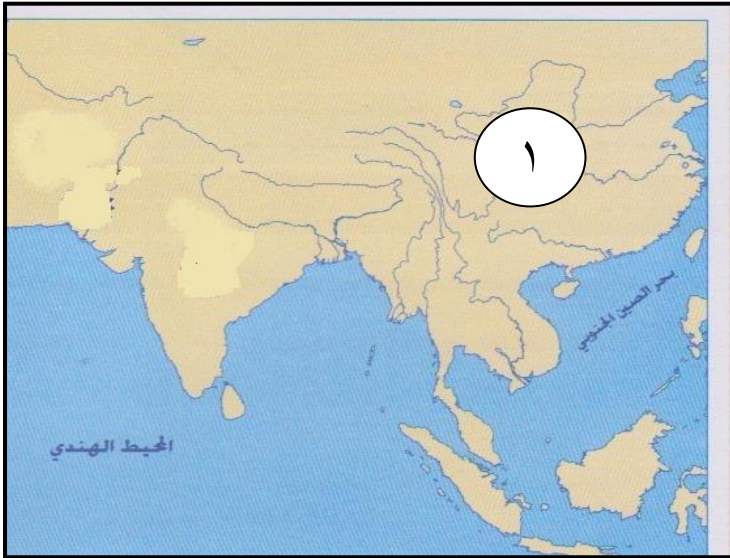
١- أكمل الجدول التالي الذي يبين بعض المعالم الحضارية لبعض دول آسيا

الدولة التي ينتمي إليها	اسم المَعْلَم	الصورة
		
		

يتبع ،،

تابع : السؤال الرابع:

٢ - أكمل البطاقة التعريفية للدولة التالية والمشار إليها بالرقم (١) :



١ - اسم هذه الدولة _____

٢ - العاصمة _____

٣ - نظام الحكم _____

٤ - العملة _____

٣ - بين الدور الذي قام به غاندي لاستقلال الهند من بريطانيا .

.....

.....

.....

انتهت الأسئلة مع التمنيات للجميع بالنجاح،،،



بِسْمِ اللَّهِ الرَّحْمَنِ الرَّحِيمِ

" رَبِّ اجْعَلْ لِي قَلْبًا عَاقِلًا وَيَسِّرْ لِي أَمْرِي "

مِنَاطِنَا عُمَانُ
وَأَزَادَةُ الرَّبِّيَّةِ وَالْحَلِيمِ
المديرية العامة للتربية والتعليم بمحافظة الظاهرة
دائرة التقويم التربوي

نموذج إجابة امتحان نهاية الفصل الدراسي الثاني - الدور الثاني العام الدراسي ٢٠١٣ / ٢٠١٤ م

الصف : التاسع	المادة : الدراسات الاجتماعية	الزمن : ساعة ونصف	الدرجة : ٤٠ درجة
---------------	------------------------------	-------------------	------------------

إجابة السؤال الأول : (٦ درجة لكل مفردة درجتان)

رقم المفردة	١	٢	٣	٤	٥	٦	٧	٨
رمز الإجابة	ج	أ	د	أ	ب	ج	د	ب
الإجابة	التدريب	الوراثية	الرابعة	ظفار	الصورة ب	الوكيل	الصين	إيران
الدرجة	٢	٢	٢	٢	٢	٢	٢	٢
الصفحة	٣١	٢٥	١٧	٥١	٤٨	٦٥	٨٧	٧٢

م	الإجابة	الدرجة	الصفحة
١-	<p style="text-align: center;">صعوبات الإبحار</p> <div style="display: flex; justify-content: space-around;"> <div style="border: 1px solid black; padding: 5px; width: 45%; text-align: center;">المحيط الهندي</div> <div style="border: 1px solid black; padding: 5px; width: 45%; text-align: center;">الخليج العربي</div> </div> <p>١- الشعب المرجانية والصخور ٢- الدردور ٣- الرمال المتحركة ٤- التيارات البحرية والمياه الضحلة ٥- أمواج البحر على ساحل عمان</p> <p>١- العواصف وشدة الرياح الموسمية ٢- الكائنات الغريبة ٣- القموع الهوائية ٤- تغير الرياح عند راس الحد ٥- الصخور والرمال عند جزر جنوب شرقي آسيا وخليج موزنبيق ٦- الكثبان الرملية عند ساحل الصومال</p> <p style="text-align: center;">"يكتفى فقط باثنين لكل مثال"</p>	لكل تكلمة نصف درجة (٢)	٦٧
٢-	<p>١- الصناعة ٢- التجارة ٣- الترتيب الصحيح هو (التجارة- الصناعة- الغاز- النفط - الزراعة والأسماك)</p>	نصف درجة نصف درجة (٢)	٣٤
٣-	<p>١- الديماني هو الوقت الذي تسافر فيه المراكب من سواحل عمان الى الهند ومن سواحل شرقي أفريقيا إلى عمان ويعرف أيضا بالمفتاح لأن البحر ينفث فيه للملاحة الشراعية . ٢-البوصلة أداة مهمة لا بد للمعلم على السفينة أن يأخذها معه وتعرف (الحقة، الديرة) ٢- الاقتصاد مجموعة الأنشطة التي يمارسها السكان للحصول على العائد المادي.</p>	١ ١ ١	٦٥ ٦٦ ٢٨

إجابة السؤال الثالث : (٨ درجات)

-١



٥٦

١

"نصف درجه لكل مسطح"

م	الإجابة	الدرجة	الصفحة
	<u>تابع السؤال الثالث</u>		
١-	ب- (٢) ميناء البصرة ج- جدة	١	٥٦
٢-	<ul style="list-style-type: none"> - تنمية القدرات الإدارية والتقنية والمالية للعمانيين. - زيادة علاقاتهم وكفاءاتهم مع الاقتصاد العالمي . - تشجيع وتوجيه اتجاه التوظيف الذاتي . - دعم البرامج التي تهدف إلى تعزيز ونشر أنشطة الشباب . - منح الثقافة والتراث اهتماما خاصا. - رفع عدد الذين تم قبولهم في مؤسسات التعليم العالي. <p>(يكتفي فقط بثلاثة)</p>	٣	٣٠-٢٩
٣-	<ul style="list-style-type: none"> أ- (٣) ب- (١) ج- (٤) د- (٢) 	٢	٨٠

إجابة السؤال الرابع: (٨ درجات)

م	الإجابة	الدرجة	الصفحة						
١-	<table border="1"> <tr> <td>اسم المعلم أو الظاهرة</td> <td>الدولة</td> </tr> <tr> <td>بوابة مدينة نيودلهي</td> <td>الهند</td> </tr> <tr> <td>برجا مدينة كوالامبور</td> <td>ماليزيا</td> </tr> </table>	اسم المعلم أو الظاهرة	الدولة	بوابة مدينة نيودلهي	الهند	برجا مدينة كوالامبور	ماليزيا	نصف درجة لكل تكملة ٢	٨٣ ١٠٩
اسم المعلم أو الظاهرة	الدولة								
بوابة مدينة نيودلهي	الهند								
برجا مدينة كوالامبور	ماليزيا								
٢-	<table border="1"> <tr> <td>١- اسم هذه الدولة الصين</td> </tr> <tr> <td>٢- العاصمة بكين</td> </tr> <tr> <td>٣- نظام الحكم جمهوري</td> </tr> <tr> <td>٤- العملة يوان</td> </tr> </table>	١- اسم هذه الدولة الصين	٢- العاصمة بكين	٣- نظام الحكم جمهوري	٤- العملة يوان	لكل تكملة درجة واحدة (٤)	٨٥		
١- اسم هذه الدولة الصين									
٢- العاصمة بكين									
٣- نظام الحكم جمهوري									
٤- العملة يوان									
٣-	<p>عارض استخدام العنف والقوة وطالب الهنود بعدم تنفيذ القوانين البريطانية، وشجعهم على مقاطعة المنتجات البريطانية، وحثهم على مضاعفة إنتاج الملابس الوطنية الهندية.</p>	٢	٨٢						

” نهاية نموذج الإجابة ”

إعداد وحدة إشراف الدراسات الاجتماعية
٩٩٤٥٧١٧٢