

الصف : السادس / المادة : الدراسات الاجتماعية .

السؤال الأول : (٦ درجة) : اختر الإجابة الصحيحة من بين البدائل المعطاة أمامك :-

١- يشير الشكل الذي أمامك إلى نوع من الأغلفة الأرضية :-



- أ- الحيوي
ب- الجوي
ج- المائي
د- الصخري


٢ - الصورة التي ترمز إلى ضرورة الابتعاد عن الشاطئ أثناء حدوث الزلازل:




د



ج



ب



أ

٣- القائد الفاطمي الذي أنشأ الجامع الأزهر :-

- أ- المعز لدين الله
ب- جوهر الصقلي
ج- أبو عبدالله الشيعي
د- عبدالله المهدي

٤- تعد أول مدينة عمانية يدخلها الإسلام :-

- أ- سمائل
ب- نزوى
ج- صحار
د- بهلاء

تابع السؤال الاول :

٥- يعرف المجرى الثانوي الذي يتصل بالمجرى المائي الرئيسي :-

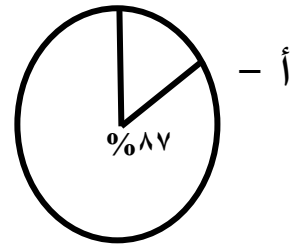
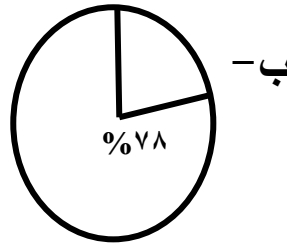
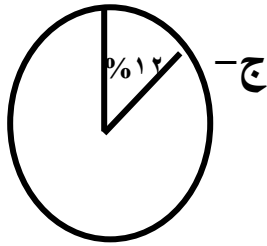
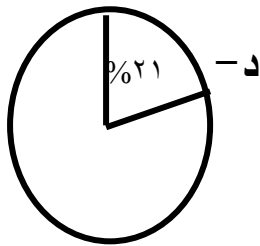
أ-المنبع

ب- المصب

د- الرافد

ج-المجرى الرئيسي

٦ - الشكل الصحيح الموضح لنسبة غاز النيتروجين في الغلاف الجوي :-



٧-الطبقة الجوية التي تحدث فيها جميع التغيرات الجوية كالمناخ والطقس وما يرتبط بهما:

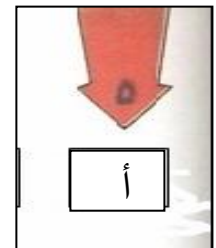



ب-الأستراتوسفير

أ- التروبوسفير

د- الثيرموسفير

ج- الميزوسفير

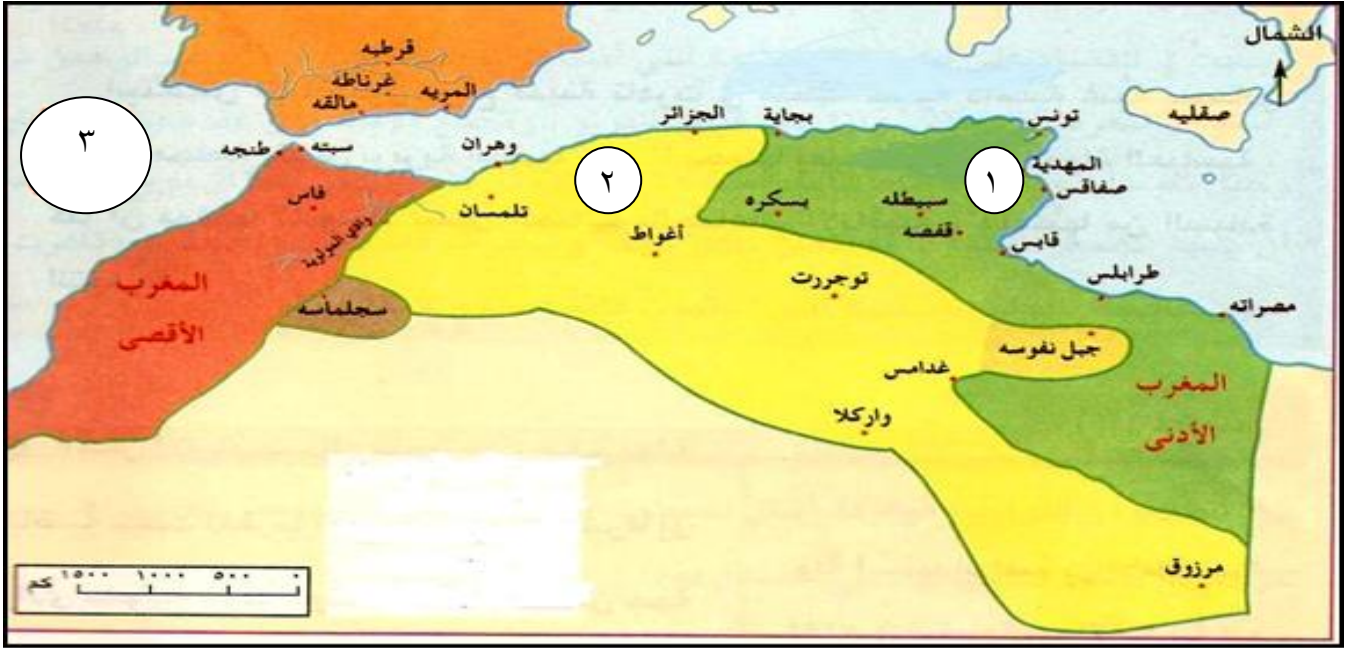
٨-الرمز المستخدم في خرائط الطقس والذي يشير إلى الجو الممطر :-



يتبع،،،

السؤال الثاني : (٨ درجات) :

أ- انظر إلى الخريطة التي أمامك التي تمثل الدول المستقلة التي قامت في بلاد المغرب العربي والأندلس ، ثم أجب عن الأسئلة التي تليها:



- ١- اكتب على الخريطة اسم عاصمة دولة الأغلبية والمشار إليها بالرقم (١).
- ٢- يشير الرقم (٢) في الخريطة إلى عاصمة الدولة الرستمية مدينة.....
- ٣- سم المسطح المائي المشار إليه بالرقم (٣) على الخريطة .
- ٤- ظلل على الخريطة المنطقة التي قامت فيها الدولة الأموية الثانية .

ب- عرف كل مما يلي :-

١- البركان:

.....
.....

٢- الضغط الجوي :

.....
.....

يتبع،،،

تابع : السؤال الثاني :

ج- اذكر اثنين من حملة العلم إلى عمان ؟

.....
.....

السؤال الثالث (٨ درجات) :

أ- علل لما يأتي:-

١- تختلف السواحل في اشكالها من مكان لآخر .

.....
.....

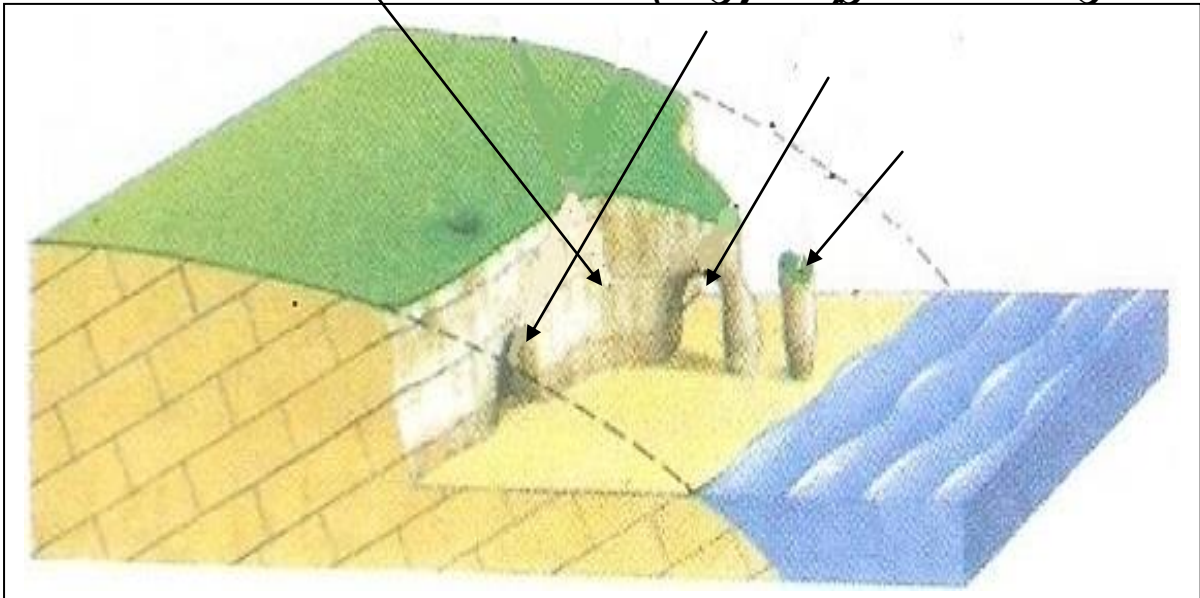
٢- كانت البصرة المكان المفضل لهجرة العمانيين إليها في العهد الأموي.

.....
.....

ب - انظر إلى الشكل الذي أمامك الذي يمثل بعض أشكال النحت الناجمة بفعل الأمواج

، ثم اكتب المصطلحات التالية في مكانها الصحيح :-

(كهف - قنطرة - مسلة صخرية - جرف) .



تابع السؤال الثالث :

ج- توجد ثلاثة أشكال للأمطار في الطبيعة عدد اثنين منها .

.....
.....

السؤال الرابع :- (٨ درجات) :

أ- قارن بين كل من الكتلان الهلالية (البرخان) والكتلان الطولية (السيف) في الجدول

التالي :-

وجه المقارنة	الكتلان الهلالية (البرخان)	الكتلان الطولية (السيف)
شكل الجوانب	جانب شديد الميل وجانب آخر مقابل قليل الميل
نوع الرياح	بفعل رياح غير منتظمة من حيث اتجاه هبوبها .

ب - اكمل الجدول التالي الذي يمثل مقياس ريختر لقياس قوة الزلازل :

قوة الزلزال /درجة	الآثار التدميرية للزلزال
.....	تشعر به أجهزة قياس الزلازل كالسيزموغراف فقط .
أكبر من ٨


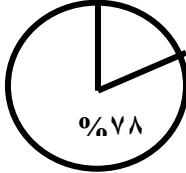

ج- يوجد نظامين لقياس درجة الحرارة . اذكرهما .

.....
.....

،، انتهت الأسئلة مع تمنياتنا للجميع بالتوفيق والنجاح ،،

سلطنة عمان
وزارة التربية والتعليم
المديرية العامة للتربية والتعليم لمحافظة الظاهرة
دائرة التقويم التربوي

نموذج إجابة امتحان نهاية الفصل الدراسي الأول - الدور الأول - العام الدراسي ٢٠١٣ / ٢٠١٤ م
الصف : السادس المادة : الدراسات الاجتماعية - الزمن : ساعة ونصف الدرجة : ٤٠ درجة
{ نموذج الإجابة }

الدرجة	الصفحة	الإجابة			
		إجابة السؤال الأول (٦ درجات) كل مفردة بدرجتين			
		رقم الصفحة	الدرجة	رمز الإجابة الصحيحة	رقم المفردة
		١٣	٢	المائي	ج
		١٩	٢		أ
		٨٦	٢	جوهـر الصقـلي	ب
		٦٣	٢	سمائل	أ
		٣١	٢	الرافـد	د
		٩٥	٢		ب
		٩٦	٢	التـروبوسـفير	أ
		١٢٥	٢		ج

الدرجة	الصفحة	
		إجابة السؤال الثاني (٨ درجات)
١	٧٦	أ- خريطة الدول المستقلة التي قامت في بلاد المغرب العربي والأندلس .
١		١- يشير الرقم (١) إلى عاصمة دولة الأغالبة القيروان .
١		٢- يشير الرقم (٢) في الخريطة عاصمة الدولة الرستمية <u>تاهرت</u> .
١		٣- الرقم (٣) كتابة <u>المحيط الأطلسي</u> على الخريطة .
١		٤- تظليل بلاد الأندلس .
		ب - عرف كل من :-
١	٢١	١- البركان :- هو اندفاع المادة المنصهرة والمفتتات الصخرية والرماد والغازات الحارة من باطن الأرض إلى السطح عبر شقوق في القشرة الأرضية وفوهة على سطحها .
١	١٠٥	٢- الضغط الجوي :- هو وزن عمود الهواء الممتد من مستوى سطح البحر إلى نهاية الغلاف الغازي على السنتمتر المربع . وهذا يعادل عمودا من الزئبق ارتفاعه ٧٦ سنتمترا .
		ج- اثنين من حملة العلم إلى عمان :-
٢	٦٦	١- موسى بن أبي جابر الأزكوي
		٢- بشير بن المنذر النزواني .
		٣- منير بن النير الريامي .
		٤- محمد بن المعلا الكندي .
		٥- محبوب بن الرحيل المخزومي .
		(يكتفى بذكر اثنين فقط لكل مفردة درجة)

إجابة السؤال الثالث (٨ درجات) :-

أ- علل :- ١ - بسبب تباين الصخور التي تتكون منها .

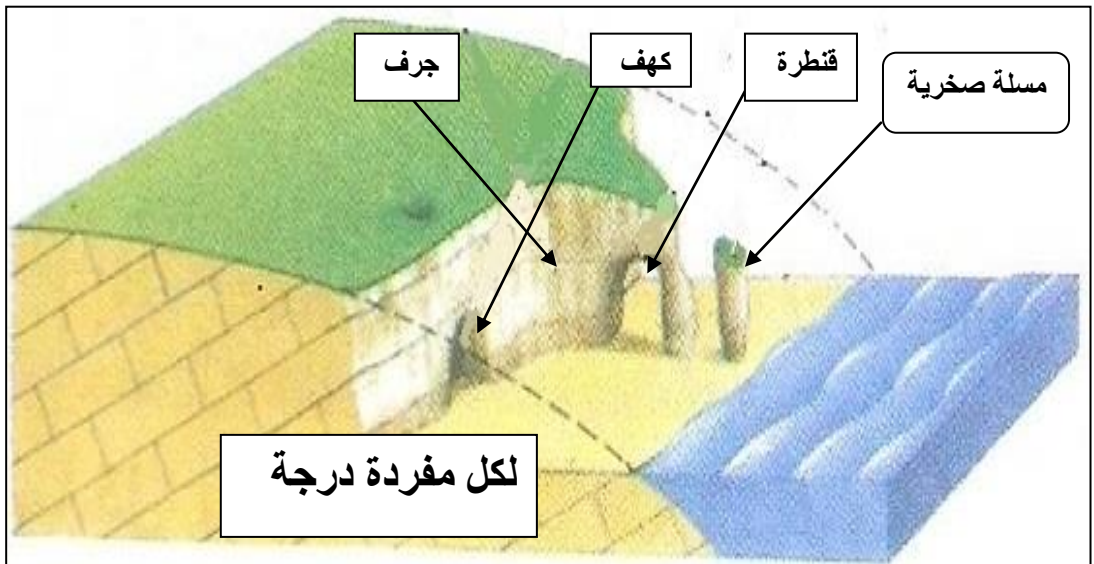
-اختلاف تأثير فعل الأمواج وما ينجم عنه من عمليات نحت وإرساب .

١ ٣٩

٢- كانت عمان طوال العهد الأموي تتبع البصرة فالوالي الذي كان يحكم البصرة كان يحكم عمان ، وذلك لأنهما يرتبطان ببعضهما بالطريق البحري عبر الخليج العربي ، وبالطريق البري عبر الإحساء .

١ ٦٤

ب- ١- أشكال النحت الناجمة بفعل الأمواج .



٤١

ج- شكلين من أشكال الأمطار في الطبيعة :-

- التضاريسية .
- التصاعدية .
- الإعصارية .

٢ ١١٣

(يكتفى بذكر اثنين فقط و لكل مفردة درجة).

السؤال الرابع (٨ درجات)

- أ- المقارنة بين الكثبان الهلالية والكثبان الطولية :-
■ منتظمة السطح وتتميز بجوانب شديدة الميل .
■ رياح قوية من اتجاه ثابت ولفترة طويلة .

٢

٤٧

٢

ب -

- أقل من ٣,٥ — تشعر به أجهزة قياس الزلازل كالسيزموغراف فقط .

١

١٧

١

- أكبر من ٨ — دمار شامل .

١

١٠٥

١

ج- نظامي قياس درجة الحرارة :-

- النظام السيليزي .

- النظام الفهرنهايتي .

انتهى نموذج الإجابة،،

اعداد : اشراف الدراسات الاجتماعية

٩٩٣٥٠٦٠٩
