

بِسْمِ اللَّهِ الرَّحْمَنِ الرَّحِيمِ

" رَبِّهِ أَهْرَافُ لِي حَذْرِي وَيَسْزِلِي أَفْرِي "



مِنَاطَتُهُ عُمَانُ
وَزَارَةُ التَّحْلِيمِ

المديرية العامة للتربية والتعليم لمحافظة الظاهرة
دائرة التقويم التربوي

امتحان نهاية الفصل الدراسي الثاني - الدور الثاني - العام الدراسي ٢٠١٣ / ٢٠١٤ م

الصف: السادس | المادة: الدراسات الاجتماعية | الزمن: ساعة ونصف | الدرجة: ٤٠ درجة

تنبيه:

- الاسئلة في (٤) صفحات .
- الاجابة في نفس الورقة .

رقم السؤال	الدرجة بالأرقام	الدرجة بالحروف	اسم وتوقيع المصحح	ملاحظات
الأول				
الثاني				
الثالث				
الرابع				
المجموع الكلي				

اسم الطالب /

الصف / الشعبة / ()

المدرسة /

امتحان نهاية الفصل الدراسي الثاني - الدور الثاني - العام الدراسي ٢٠١٣ / ٢٠١٤ م -
الصف: السادس - المادة :- الدراسات الاجتماعية

السؤال الأول: (٦ درجة)

اختر الإجابة الصحيحة من بين البدائل المعطاة أمامك:

١- منطقة محددة جغرافياً بهدف حماية ما تشتمل عليه من حيوانات أو نباتات معرضه للانقراض :
أ- الغابة ب- الصحراء ج- المحمية د- الحديقة

٢- تغطي الغابات بأنواعها المختلفة من مساحة الأرض :
أ- الخمس ب- الربع ج- الثلث د- النصف

٣- يتميز المناخ في بيئة الغابات المدارية المطيرة بأنه :
أ- حار ورطب طوال السنة ب- ماطر وجاف طوال السنة
ج- حار وبارد طوال السنة د- جاف ورطب طوال السنة



٤- تشير الصورة التي أمامك الى أحد الأخطار التي تتعرض لها بيئة الحشائش المدارية الطويلة (السافانا) :
أ- الاحتطاب ب- الرعي الجائر
ج- انجراف التربة د- الحراثة غير السليمة

٥- الصورة التي تشير الى تكيف النباتات الطبيعية في البيئة الصحراوية عن طريق جذور قصيرة تنتشر على مساحات واسعة لتحصل على أكبر كمية من المياه :




د-



ج-



ب-



أ-

٦- لا يمنع أحد من التصرف في ملكه ما دام ذلك في حدود القانون :
أ- التعليم ب- الرعاية الصحية ج- الأمن د- الملكية الخاصة

٧- الصورة التي تشير الى سلوك جيد ومرغوب فيه :



د-



ج-



ب-



أ-

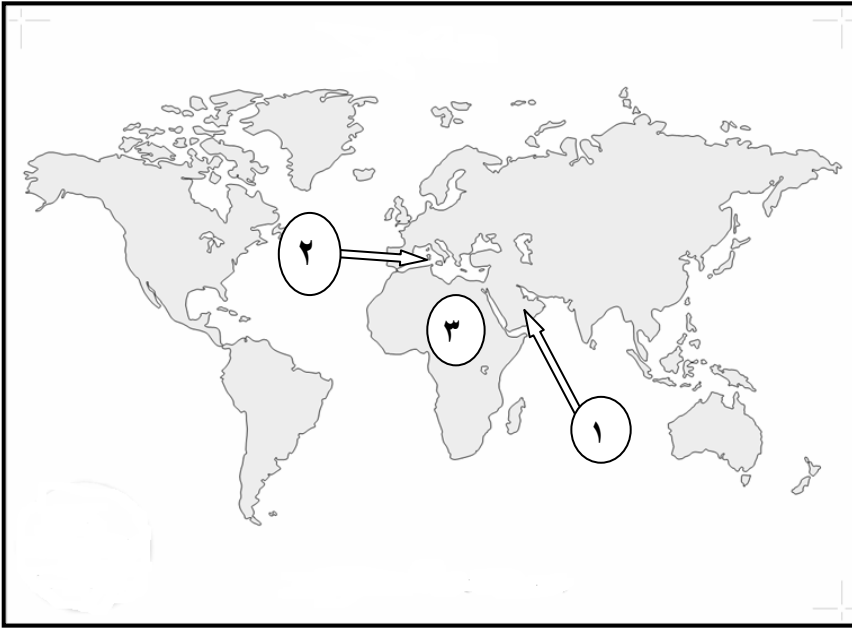
٨- أحد الأعمال التالية لا يحتاج إلى تأهيل دراسي :

أ- أعمال الكهرباء ب- النظافة ج- صناعة الأجهزة د- الحدادة

السؤال الثاني: (٨ درجات)

أ- انظر إلى الخريطة التي أمامك واجب عن الأسئلة التي تليها:

١- يشير الرقم (١) في الخريطة إلى صحراء.....



٢- ظل في الخريطة المنطقة التي تنتشر فيها الغابات المدارية المطيرة الأستوائية في قارة أمريكا الجنوبية.

٣- اكتب على الخريطة المسطح المائي الذي يشير إليه الرقم (٢) .

٤- يشير الرقم (٣) إلى قارة ظهرت فيها مشكلة التصحر.....

٢- عرف كل مما يلي :

أ- الواجبات :-.....

ب- التنوع الاحيائي :-.....

٣- يهدف التعليم في سلطنة عمان الى أهداف عدة .أذكر اثنين منها ؟

(١).....

(٢).....

السؤال الثالث: (٨ درجات)

أ- انظر الى الجدول التالي وأجب عن الأسئلة الآتية :

الشهر	يناير	فبراير	مارس	ابريل	مايو	يونيو	يوليو	أغسطس	سبتمبر	أكتوبر	نوفمبر	ديسمبر
درجة الحرارة (س)	٢٧	٢٧	٢٩	٣١	٣٣	٢٩	٢٧	٢٨	٢٩	٣٢	٢٨	٢٦
الأمطار (مليمتر)	٠٠	١٠	٣٠	٨٠	١٢٠	١٥٠	١٨٥	٢٣٠	١٥٥	١٠٠	٨	٠٠

جدول كميات الأمطار ودرجات الحرارة الشهرية في مدينة واو

(أ) في أي دولة تقع مدينة واو ؟

(ب) في أي الأشهر تسقط أكبر كمية من الأمطار ؟

(ج) في أي الأشهر تسقط أقل كمية من الأمطار ؟

(د) ما الأشهر التي ترتفع فيها درجة الحرارة الى الحد الأقصى؟

تابع السؤال الثالث:

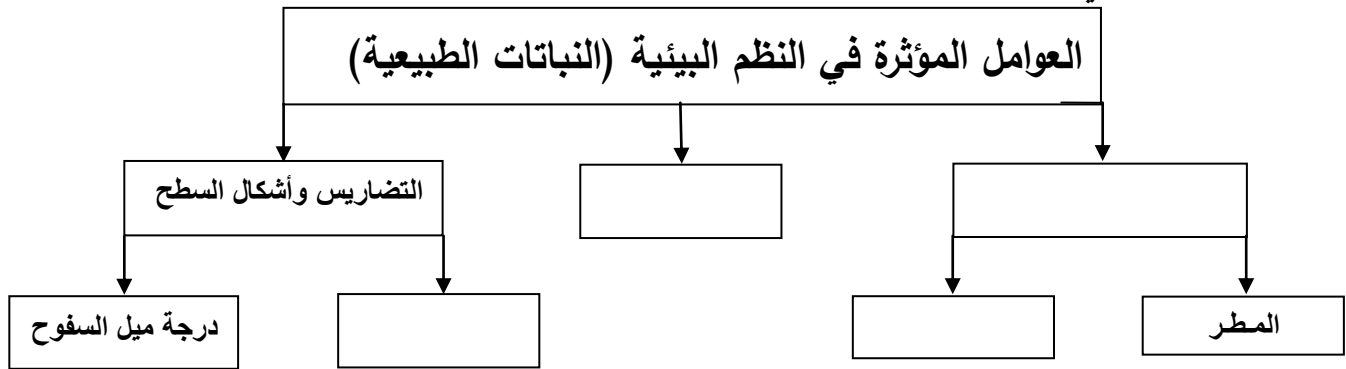
- علل لما يأتي:
أ) تعرض أشجار الغابات للتقطيع والحرق .

٣- هناك العديد من الحقوق التي يتمتع بها المواطن داخل السلطنة . أذكر ثلاثة منها.

- أ)
ب)
ج)

السؤال الرابع: (٨ درجات)

١- أكمل الشكل التالي بما يناسبه من عبارات:



٢- انظر الى الجدول التالي وأجب عن الاسئلة التي تليه:

السنة	البيان
٢٠٠٠م (ألف عامل)	٥٣
١٩٩٩م (ألف عامل)	٥٠
١٩٩٨م (ألف عامل)	٤٦
١٩٩٧م (ألف عامل)	٣٤
العمالة الوطنية	٣٤
العمالة الوافدة	٤٩٤

أ) ما أهم جهود الحكومة من أجل تدريب وتأهيل القوى الوطنية؟

ب) علل زيادة العمالة الوطنية من سنة الى أخرى.

ج - هناك مشاريع رائدة لحفز الشباب للعمل في القطاع الخاص . أذكر اثنين منها.

انتهت الأسئلة مع التمنيات للجميع بالتوفيق والنجاح

بِسْمِ اللَّهِ الرَّحْمَنِ الرَّحِيمِ

" رَبِّ اجْعَلْ لِي قَدْرًا وَإِنِّي خَشِيْتُ أَنِ امْرَأَتِي كَرِهَتْ لِمَالِي "



مِنَاطِنَا عُثْمَانُ
وَأَزَاةُ الرَّبِّيَّةِ وَالْحَلِيمِ
المديرية العامة للتربية والتعليم لحافظة الظاهرة
دائرة التقويم التربوي

نموذج إجابة امتحان نهاية الفصل الدراسي الثاني - الدور الثاني - العام الدراسي ٢٠١٣ / ٢٠١٤ م

الصف: السادس

المادة: الدراسات الاجتماعية

الزمن: ساعة ونصف

الدرجة: ٤٠ درجة

الدرجة	الصفحة	الإجابة									
		إجابة السؤال الأول (١٦ درجة) كل مفردة بدرجتين									
		رقم المفردة	١	٢	٣	٤	٥	٦	٧	٨	المجموع
		رمز الإجابة الصحيحة	ج	ج	أ	أ	ب	د	د	ب	
		الإجابة الصحيحة	المحمية	الثلاث	حار ورطب طوال السنة	الأحتطاب		الملكية الخاصة		النظافة	
		الدرجة	٢	٢	٢	٢	٢	٢	٢	٢	١٦
		الصفحة	١٥	١٩	٢٢	٢٨	٣٣	٥٤	٥٧	٧٥	---

إجابة السؤال الثاني (٨ درجات)

أ- خريطة العالم ص ٣٠ (لكل مفردة درجة) .

١- صحراء شبه الجزيرة العربية .

٢- تظليل المنطقة التي تنتشر فيها الغابات المدارية المطيرة الاستوائية في قارة أمريكا الجنوبية.

٣- يكتب اسم البحر المتوسط .

٤- قارة افريقيا .

٢- عرف كل مما يلي :

أ- الواجبات:- كل ما يجب على المواطن أن يقوم به تجاه الدولة/المجتمع/الأسرة وفق الأنظمة والقوانين المعمول بها في الدولة .

ب -التنوع الأحيائي:- هو التباين بين الكائنات الحية بما في ذلك النظم البيئية البرية والبحرية والأحياء المائية، وكذلك التنوع داخل الأنواع النباتية والحيوانية ، وفيما بين الأنواع والنظم البيئية .

٣- أهداف التعليم في سلطنة عمان:

(أ)رفع المستوى الثقافي العام وتطويره وتنمية التفكير العلمي.

(ب)وإذكاء روح البحث.

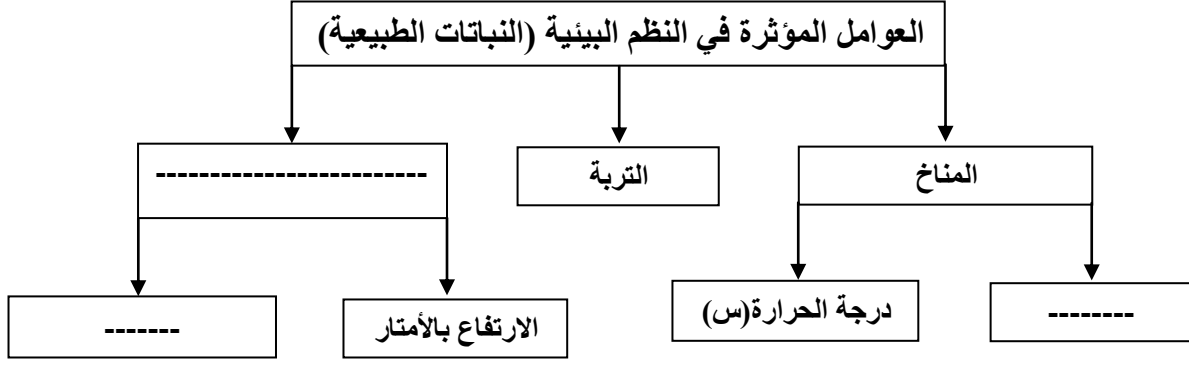
(ج)تلبية متطلبات الخطط الاقتصادية والاجتماعية .

(د)إيجاد جيل قوي في بنيته وأخلاقه ،يعتز بأتمته ووطنه وتراثه ،ويحافظ على منجزاته.

(يكتفى بذكر اثنين فقط ، ولكل درجة)

إجابة السؤال الثالث (٨ درجات)

١	٢٧	١- أ) تقع في السودان .
١	٢٧	ب) في شهر أغسطس ٢٣٠ مليمتر .
١	٢٧	ج) شهري يناير وديسمبر .
١	٢٧	د) شهر مايو ٥٣٣ س .
١	٢٢	٢) علل: أ) لتوفير الأراضي للزراعة (كالأرز والبن ونخيل الزيت)، أو لتحويل الأراضي الى مراعي لتربية الابقار والتعدين ، بالإضافة الى استهلاك كميات كبيرة من الحطب كوقود .
٣	٥٤	٣ - الحقوق التي يتمتع بها المواطن العماني داخل السلطنة: أ) الجنسية ب) العدل والمساواة ج) التعليم د) الرعاية الصحية هـ) الملكية الخاصة و) الأمن (يكتفى بذكر ثلاثة إجابات فقط لكل إجابة درجة) .



الإجابة صفحة ١٧ (٤ درجات لكل إجابة درجة)

- ٢) أ- افتتاح الكلية التقنية العليا بمسقط .
- افتتاح الكليات التقنية في بعض ولايات السلطنة .
- افتتاح مراكز للتدريب المهني .
- تدريب القوى العاملة الوطنية وتأهيلها . الإجابة صفحة ٧٩ (يكتفى بذكر إجابة واحدة بدرجة) .

٣) نتيجة طبيعية لجهود الحكومة في تعميم مختلف الأعمال في القطاع العام والقطاع الخاص .
الإجابة صفحة ٧٨ (درجة) .

- ٤) - مشروع سند .
- مشروع الشباب .
- مشروع انطلاقة .

الإجابة صفحة ٧٨ (يكتفى بإجابتين لكل منهما درجة) .

نهاية نموذج الإجابة

إعداد وحدة الدراسات الاجتماعية