

امتحان نهاية الفصل الدراسي الأول - الدور الثاني - العام الدراسي ٢٠١٣ / ٢٠١٤ م

السؤال الأول: (٦ درجة)

إخترا لإجابة الصحيحة من بين البدائل المعطاة بوضع دائرة حول رقم الإجابة الصحيحة :

١ - تسجيل أسماء الجنود المقاتلين من مهام ديوان :

(أ) الجند (ب) البريد (ج) الخراج (د) المظالم

٢ - تبلغ مساحة شبه الجزيرة العربية حوالي:

(أ) (٣) ملايين كيلومتر مربع (ب) (٤) ملايين كيلومتر مربع

(ج) (٥) ملايين كيلومتر مربع (د) (٦) ملايين كيلومتر مربع

٣ - يظهر المناخ الموسمي في سلطنة عمان في :

(أ) ساحل الباطنة (ب) جبال ظفار (ج) رمال الربع الخالي (د) الجبل الأخضر

٤ - يصل مضيق باب المندب بين البحر الأحمر و:

(أ) بحر العرب (ب) بحر عمان (ج) الخليج العربي (د) البحر المتوسط

٥ - تخلو دول شمال شبه الجزيرة العربية من الأشكال الرملية الكبرى التي يطلق عليها:

(أ) الرؤوس (ب) الجروف (ج) العرق (د) الموائد الصحراوية

٦ - أول خليفة للمسلمين بعد وفاة الرسول صلى الله عليه وسلم هو :

(أ) عثمان بن عفان (ب) عمر بن الخطاب

(ج) علي بن أبي طالب (د) أبو بكر الصديق

٧ - أول مسجد بني في الإسلام هو:

(أ) المسجد الحرام (ب) مسجد قباء (ج) المسجد النبوي (د) مسجد المضاير

٨ - عام الوفود كان في سنة :

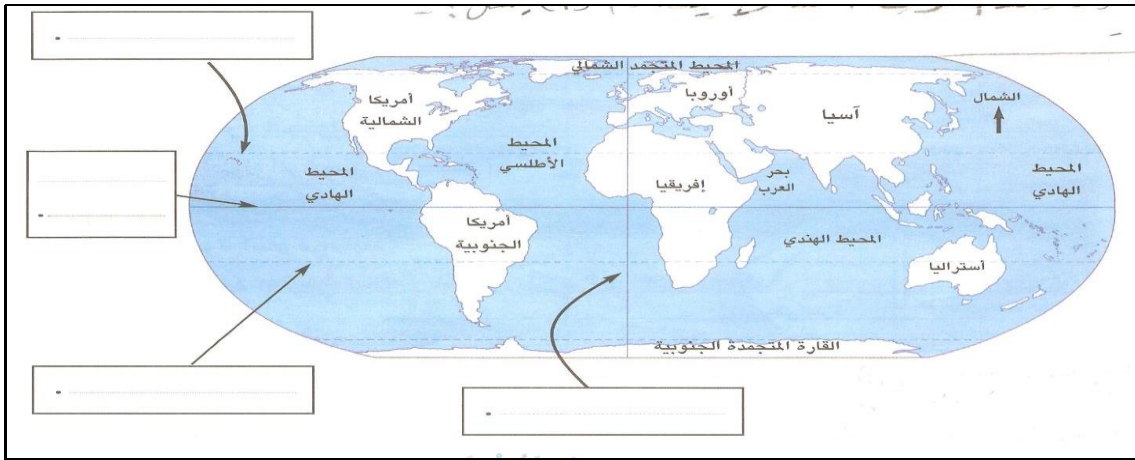
(أ) ٦ هـ (ب) ٧ هـ (ج) ٨ هـ (د) ٩ هـ

السؤال الثاني (٨ درجات)

أ) أذكر اثنين من أهم السلع التي كان يتاجر بها الأحباش ؟

ب) أمامك خريطة للعالم أكتب عليها أسماء دوائر العرض وخطوط الطول في أماكنها الصحيحة ؟

(دائرة الاستواء - مدار السرطان - مدار الجدي - خط غرينتش)



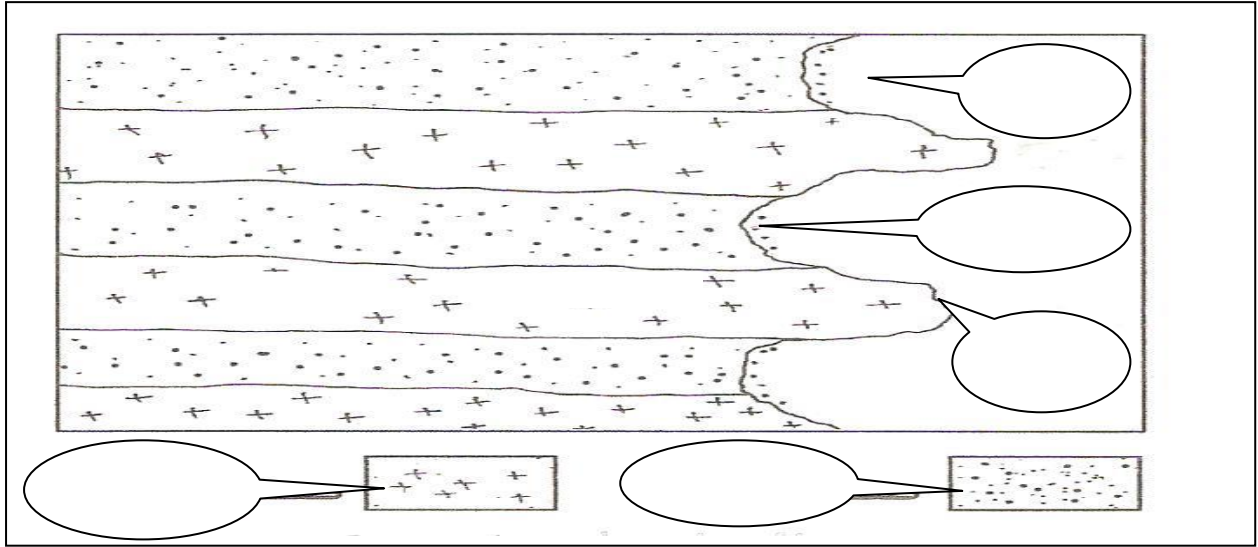
ج) بما تفسر إنشاء السدود الكبرى على الأنهار الرئيسية والأودية ؟

د) يتمثل في الوطن العربي عدة أنواع من المناخ اذكر اثنين منها ؟

السؤال الثالث (٨ درجات) :

أ- أكتب الأسماء التالية في مكانها الصحيح على الشكل التالي ؟

(خليج ، شاطئ ، رأس ، صخور صلبة)



ب- ضع في الجدول التالية عواصم الدول العربية التالية في مكانها الصحيح؟

(مسقط ، الرياض ، القاهرة ، الرباط)

الدولة	العاصمة
سلطنة عمان	
جمهورية مصر العربية	
المملكة العربية السعودية	
المغرب	

ج- ارسم الشكل المثلي المروحي للدالة النهرية في المربع التالي ؟



د- يترتب على سقوط الأمطار الصحراوية الفجائية (رياح شديدة / فيضانات)
ضع دائرة حول الإجابة الصحيحة ؟

السؤال الرابع (٨ درجات)

أ- اكمل الجدول التالي :

الدول التي يظهر فيها	المجال (العرق الرملي)
	بحر الرمال العظيم
	رمال الربع الخالي

ب- تغيرت الحياه في الصحراء العربية بعد اكتشاف النفط ، فظهرت عدد من المدن الحديثة اذكر اثنين منها ؟

١- مدينة ----- في السعودية

٢- مدينة ----- في الكويت

ج- اكتب أمام كل دولة من الدول العربية التالية نوع التربة السائدة فيها ؟
(تربة البحر المتوسط الطينية ، التربة الفيضية النهرية ، التربة الرملية الصحراوية)


١- على ضفاف النهرين في العراق (.....)

٢- شمال الجزائر (.....)

٣- الإمارات العربية المتحدة (.....)

د- عرف انجراف التربة ؟

،، انتهت الأسئلة مع تمنياتنا للجميع بالتوفيق والنجاح ،،





بِسْمِ اللَّهِ الرَّحْمَنِ الرَّحِيمِ

" رَبِّ اجْعَلْ لِي قَدْرًا وَيَسِّرْ لِي أَمْرِي "

مِنَاطِنَةُ عُضْمَانَ
وَأَذَانَ الرَّبِّيَّةِ وَالتَّحْلِيمِ
المديرية العامة للتربية والتعليم بمحافظة الظاهرة
دائرة التقويم التربوي

نموذج إجابة امتحان نهاية الفصل الدراسي الأول - الدور الثاني - العام الدراسي ٢٠١٣ / ٢٠١٤ م

الصف: الخامس المادة: الدراسات الاجتماعية الزمن: ساعة ونصف الدرجة: ٤٠ درجة

إجابة السؤال الأول: (١٦ درجة ، لكل مفردة درجتان)

رقم المفردة	١	٢	٣	٤	٥	٦	٧	٨
رمز الإجابة	أ	أ	ب	أ	ج	د	ب	د
الإجابة	الجند	(٣) ملايين كيلومتر مربع	جبال ظفار	بحر العرب	العرق	أبو بكر الصديق	مسجد قباء	٥٩ هـ
الدرجة	٢	٢	٢	٢	٢	٢	٢	٢
الصفحة	١٠٤	١٣	٥٥/٥٤	٢٠	٣٩	١٠٠	٩٠	٩٧

إجابة السؤال الثاني : (٨ درجات)

م	الإجابة	الدرجة	الصفحة
أ	من اهم السلع التي كان يتاجر بها الأحباش : (الذهب ،العاج، المر، البخور، العبيد) يكتفى بذكر اثنين فقط	٢	٨٧
ب		٢	١٦
ج	بهدف ضبط الفيضانات ،وحجز المياه وتوفيرها في فترات الجفاف للري ، أو تزويد المدن بماء الشرب والتوسع الصناعي .	٢	٥٨
د	المناخ المتوسطي ، والمناخ الصحراوي الجاف وشبه الجاف ، والمناخ الموسمي . (يكتفى بذكر اثنين فقط)	٢	٤٤

إجابة السؤال الثالث : (٨ درجات)


أ	الإجابة	الدرجة	الصفحة
		٢	٢٤

تابع إجابة السؤال الثالث :

ب-

الصفحة	الدرجة	الإجابة:	
٢٥	٢	العاصمة	الدولة
		مسقط	سلطنة عمان
		القاهرة	جمهورية مصر العربية
		الرياض	المملكة العربية السعودية
		الرباط	المغرب

ج-

الصفحة	الدرجة	الإجابة
٢٨	٢	

د-

٥٠	٢	فيضانات
----	---	---------

إجابة السؤال الرابع (٨ درجات)

الصفحة	الدرجة	أ	
٤٠/٣٩	٢	العرق الرملي	الدول التي يظهر فيها
		بحر الرمال العظيم	مصر + ليبيا
		رمال الربع الخالي	سلطنة عمان + السعودية

ب:-

الصفحة	الدرجة	١- مدينة (الظهران) في السعودية
٥٢	٢	٢- مدينة (الأحمدي) في الكويت

ج-

الصفحة	الدرجة	الإجابة	م
٦٢	٣	١- العراق (التربة الفيضية النهرية)	
		٢- الجزائر (تربة البحر المتوسط الطينية)	
		٣- الإمارات العربية المتحدة (التربة الرملية الصحراوية)	

د-

الصفحة	الدرجة	الإنجراف : هو نحت التربة ونقلها من مكان إلى آخر بفعل جريان المياه السطحية
٦٤	٢	

” نهاية نموذج الإجابة ”

إعداد وحدة إشراف مادة الدراسات الاجتماعية بمحافظة الظاهرة